

차 례

머 리 말	3
제1장. 전자요소	4
제1절. 저항기	4
제2절. 축전기	12
제3절. 선류과 변성기	20
제4절. 반도체 2극소자	28
제5절. 반도체 3극소자	41
제6절. 반도체 빛소자	54
제7절. 집적회로	57
[실습] 회로시험기에 의한 측정	64
[실습] 회로시험기에 의한 반도체소자의 검사방법	69
제2장. 전원장치	71
제1절. 전 지	71
제2절. 전원변압기	78
[실습] 전원변압기만들기	84
제3절. 반도체정류기	90
[실습] 반도체정류기만들기	99
제4절. 직류전압안정기	103
제3장. 증폭회로	110
제1절. 증폭회로에 대한 일반지식	110
제2절. 증폭회로	124
제3절. 저주파증폭기	135
[실습] 저주파증폭기만들기	139
제4절. 고주파회로	145
제4장. 수자회로의 기초	157
제1절. 수체계	157
제2절. 기본론리회로	165
제3절. 부진기	179
제4절. 방아쇠회로	185
제5절. 등록기	196

제6절. 연산회로	200
제7절. 부호기	206
제8절. 해신기	209
제9절. 샘플회로	217
제10절. 간단한 몇 가지 수자형 전자장치	225
[실습] 부진기를 리용한 점멸기의 조립과 시험	248
[실습] 수자회로의 동작고찰	255
제5장. 《삼일포》천연색TV	260
제1절. 천연색TV에 대한 일반지식	260
제2절. 천연색TV의 일반원리	266
제3절. 《삼일포》천연색TV	283
제4절. CD록화기	299

머 리 말

위대한 령도자 **김정일**대원수님께서서는 다음과 같이 말씀하시였다.

《전자공학과 자동화공학을 발전시키는것은 기계설비를 현대화하기 위하여 나서는 중요한 조건입니다. 전자공학과 자동화공학을 발전시켜야 생산의 종합적기계화와 자동화를 실현할수 있습니다.》

전자공학은 현시기 인민경제의 모든 부문에서 생산공정의 자동화, 로봇화, 컴퓨터화를 실현하며 인민들의 물질문화수준을 더욱 높이는 데서 대단히 중요한 역할을 한다.

오늘 전자공학은 무선방송, 무선전신, TV 등은 물론이고 기계공업과 금속공업, 화학공업, 전력공업을 비롯하여 인민경제 모든 분야에 서 널리 리용되고있으며 그 의의와 역할은 날로 더욱더 높아지고있다.

위대한 수령 **김일성**대원수님과 위대한 령도자 **김정일**대원수님의 현명한 령도에 의하여 오늘 우리 나라에는 자립적이며 현대적인 전자공업기지가 훌륭히 꾸려져 반도체소자와 집적회로와 같은 전자요소들과 여러가지 통신, 방송설비들, 컴퓨터를 비롯한 전자장치들이 수많은 생산공급되고있다.

오늘의 현실은 자라나는 모든 새 세대들이 전자공학에 대한 지식과 기술기능을 소유할것을 요구하고있다.

전자공학이 포괄하고있는 내용범위는 매우 넓으며 그 응용분야도 대단히 넓다.

따라서 우리는 중학교시기부터 전자공학에 대한 기초지식을 잘 알아야 한다.

그래야 전자공학의 기초를 알고 그 응용문제에 대하여 여러 방면에 서 연구함으로써 생산과 건설에서 써먹을수 있는 산지식의 소유자로 준비될수 있다.

제1장. 전자요소

위대한 령도자 김정일대원수님께서서는 다음과 같이 말씀하시였다.

《전자공학부문에서는 전자재료를 개발하고 그 순도를 높이며 집적회로를 비롯한 전자요소와 전자계산기를 개발하는데서 나서는 과학기술적문제를 풀며 자동화공학부문에서는 자동조종리론을 발전시키고 자동화요소와 장치, 자동조종체계를 개발하는데서 나서는 과학기술적문제를 풀어야 합니다.》

전자요소에 대한 기술지식을 습득하는것은 전자요소의 생산과 리용, 전자장치의 운영을 위해서도 매우 중요한 문제로 나선다.

전자요소에는 많은 종류들이 있지만 여기서는 저항기, 축전기, 선류과 변성기, 반도체2극소자와 3극소자, 집적회로에 대한 기초지식을 학습하게 된다.

제1절. 저항기

1. 저항기란 무엇인가

저항기란 일정한 크기의 전기저항을 가지도록 비저항이 큰 전자재료로 만든 전자요소를 말한다.

저항기는 일반적으로 비저항이 큰 니크롬선이나 망가닌선, 탄소가루, 금속막 등과 같은 재료를 가지고 일정한 규격제품으로 만든다.

전자회로에서 저항기는 어떤 역할을 하는가?

① 전자회로에서 저항기는 전류를 제한 및 조절한다.

옴의 법칙에 의하면 전류 I 는 전압 U 에 비례하고 저항 R 에는 거꾸비례한다.

만일 회로에 걸리는 전압이 일정하다고 하면 전류는 저항값에 따라서만 변하게 된다. 즉 저항값이 클수록 전류의 세기는 작아지게 된다. 이와 같은 원리를 리용하여 전자장치들에서 회로에 흐르는 전류를 필요한 크기로 제한하거나 조절하는데 쓴다.

② 전자회로에서 저항기를 리용하여 전압떨어짐을 일으켜 요구되는 낮은 전압을 얻는다.

저항기로 전류 I 가 흐르면 $U=IR$ 로 표시되는 전압이 이 저항기의 양끝사이에 걸리게 되며 그 저항기와 직렬로 련결된 회로의 다른 부분

에는 그만큼 낮아진 전압이 걸리게 된다. 즉 저항기는 회로의 전압을 낮추는 작용을 한다.

만일 저항기의 저항값을 변화시킨다면 회로의 다른 부분에 걸리는 전압이 변하게 되므로 회로에서 전압을 조절하는 작용을 하게 된다.

저항기들이 여러개 직렬로 연결되어있는 경우 회로의 전압은 매개 저항기들에 그의 저항값에 비례하여 나누어 걸리게 되는데 이와 같은 원리를 전자회로에서 전압분할에 리용한다.

실례로 $R_1=10\Omega$, $R_2=30\Omega$ 인 저항기들이 직렬로 연결된 회로에 12V의 전압이 공급되었다면 R_1 에는 3V, R_2 에는 9V의 전압이 걸리게 된다. 즉 저항기는 전압을 분할하는 작용도 한다.

이밖에도 저항기는 전자회로에서 여러가지 작용을 한다.

저항기의 특성을 평가하는 물리적량들에는 어떤것들이 있는가?

저항기는 정격저항, 허용편차, 정격전력 등과 같은 량들에 의하여 특징지어진다. 이와 같은 특성량들의 의미는 다음과 같다.

정격저항- 공장에서 생산할 때 표준설계에서 정해진 저항값이다.

허용편차- 정격저항과 실제 공장에서 생산되는 저항기의 저항값 사이에 허용되는 차이를 말한다.

공장에서 생산하는 저항기의 저항값과 정격저항은 일정한 차이를 가지게 된다. 이 경우 정격저항과 실제 생산된 저항기의 저항값 사이에 허용할수 있는 편차를 주는데 이것을 허용편차라고 한다. 허용편차는 %로 표시한다.

일반적으로 쓰이는 저항기의 허용편차는 $\pm 5\%$, $\pm 10\%$, $\pm 20\%$ 이다. 특수하게 허용편차가 $\pm 0.1\%$, $\pm 0.2\%$, $\pm 0.5\%$, $\pm 1\%$, $\pm 2\%$ 로 작은 높은 정밀도의 저항기들도 있다.

정격전력- 저항값이 허용편차를 넘지 않으면서 저항기가 소비할수 있는 최대전력을 말한다.

저항기로 전류가 흐르면 저항기에는 열이 발생한다. 즉 공급된 전력의 일부가 열로 손실된다.

이때 손실되는 전력은 저항기로 흐르는 전류의 세기의 두제곱과 저항기의 저항값에 비례한다. 즉 전류의 세기를 I, 저항기의 저항값을 R 라고 하면 손실전력 P는 다음과 같은 식으로 표시된다.

$$P = I^2 R$$

만일 저항기에서 손실되는 전력이 지나치게 크면 저항기에 생기는 열이 미처 빠지지 못하고 저항기가 타버리게 된다. 때문에 저항기마다 허용할수 있는 손실전력의 최대값(정격전력)이 정해져있다.

이 정격전력을 초과하면 저항기가 못쓰게 된다.

2. 저항기의 분류

저항기는 그의 저항값을 변화시킬수 있는가 없는가에 따라 크게 고정저항기와 가변저항기로 나눈다.

1) 고정저항기

고정저항기란 그의 저항값을 마음대로 변화시킬수 없는 저항기를 말한다.

고정저항기는 만드는 방법에 따라 피막저항기, 체적저항기, 선저항기, 반도체저항기 등으로 나눈다.(그림 1-1)

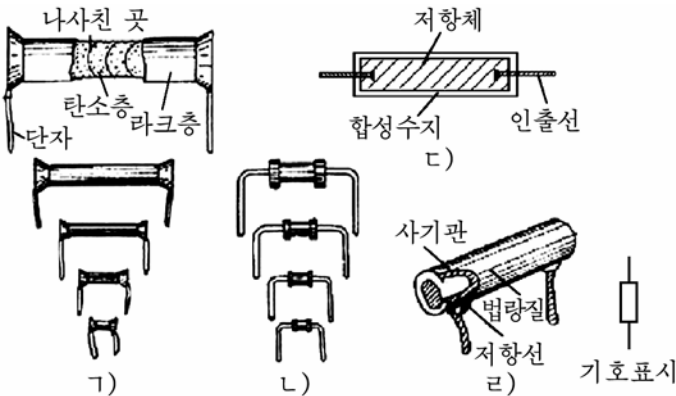


그림 1-1. 고정저항기

가) 탄소피막저항기, 나) 금속피막저항기, 다) 체적저항기, 라) 선저항기

피막저항기 - 사기봉우에 저항체재료로서 비저항이 매우 큰 탄소가루, 금속가루, 금속산화물가루 등의 저항체재료를 입혀 만든 저항기이다.

이러한 저항체재료를 사기판 같은데 얇게 입히고 라선형으로 홈을 파서 요구되는 저항값을 맞춘다.

피막으로 리용한 저항체재료에 따라 탄소피막저항기, 봉탄소피막저항기, 금속피막저항기, 금속산화물저항기 등으로 나눈다.

피막저항기는 수십 Ω 으로부터 수십 $M\Omega$ 까지의 넓은 범위의 저항값으로 만들어진다.

이 저항기는 체적이 작고 주파수특성이 좋으며 온도에 의한 영향이 작은 우점이 있다. 결함은 정밀도와 안정도가 나쁜것이다.

체적저항기- 비저항이 큰 탄소나 금속가루를 합성수지와 같은 접착제와 반죽한 다음 일정한 크기로 압착하여 만든 저항기이다.

저항기의 저항값은 탄소가루와 합성수지의 량을 조절하여 보장한다.

이 저항기는 전류용량이 크고 파부하에도 잘 견디는 우점이 있는 반면에 안정도가 낮고 주파수특성이 나쁜 결함이 있다.

선저항기- 저항체재료로서 비저항이 큰 망가닌선, 콘스탄탄선, 니크롬선 등을 사기봉우에 감아서 만든 저항기이다.

저항값은 저항선의 종류, 굵기, 길이에 의하여 결정되는데 보통 수십 $k\Omega$ 미만이다.

선저항기는 온도에 따르는 저항값의 변화가 작고 파부하에 안정하며 정밀하게 만들수 있다. 그러므로 높은 안정도를 요구하는 회로에 쓰인다.

결함은 권선형이라는데로부터 주파수특성이 나쁘며 다량생산이 힘들고 체적이 커지는것이다.

2) 가변저항기

가변저항기란 일정한 범위안에서 저항값을 임의로 변화시킬수 있게 만든 저항기를 말한다.

가변저항기도 저항체재료를 어떤것으로 썼는가에 따라 권선형, 피막형, 체적형으로 나누어볼수 있다.

가변저항기는 일반적으로 3개의 단자를 가지고있다. (그림 1-2의 ㄱ)

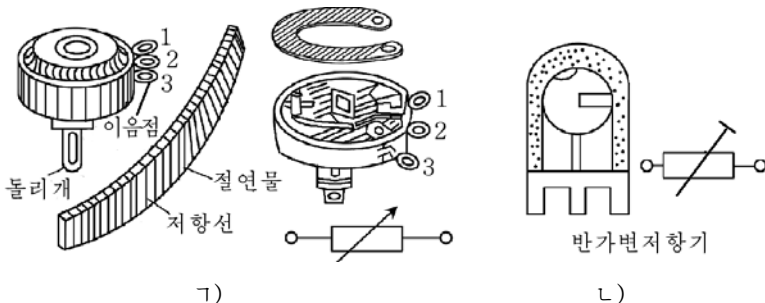


그림 1-2. 가변저항기(ㄱ)와 반가변저항기(ㄷ)

접촉술이 저항체를 따라 미끄러져가면 끝단자와 접촉술(또는 중간 단자)사이의 저항값이 변하게 된다.

보통 접촉술은 저항기의 가운데단자와 련결된다.

가변저항기의 한 종류로서 반가변저항기가 있는데 이것은 전자회로를 새로 조립하였거나 수리한 후 정확한 조정을 할 때에만 저항값을 변화시키고 일반적인 운영과정에는 거의 변화시키지 않는다.(그림 1-2의 L)

3. 저항기의 표시방법

1) 저항기의 기호표시

저항기를 전기회로도에 표시할 때에는 그림 1-3과 같이 기호로 표시한다.




그림 1-3. 저항기의 기호표시방법

저항기를 표시하는 기호옆에는 정격저항값을 밝혀준다. 이때 단위 Ω은 쓰지 않는다.

2) 저항기의 자호표시

저항기의 본체겉면에는 저항기의 종류와 중요정수들인 정격저항, 허용편차, 정격전력을 문자와 수자 또는 색깔로 표시한다.

먼저 저항기의 종류를 표시하는 자호가 한개의 문자 R와 네자리 또는 다섯자리의 수로 표시되어있다.

여기서 문자 R는 저항기임을 표시하며 그다음에 있는 첫번째와 두번째 수자는 저항기의 재료에 따르는 분류를, 세번째 수자는 저항기의 구조원리에 따르는 분류를, 네번째와 다섯번째 수자는 저항기의 개발차레번호를 나타낸다.(그림 1-4)

저항기의 종류를 표시하는 자호 다음에는 정격전력, 정격저항, 허용편차의 순서로 특성량들을 단위와 함께 표시하며 마감에 잡음준위에 대한 급수를 표시한다.

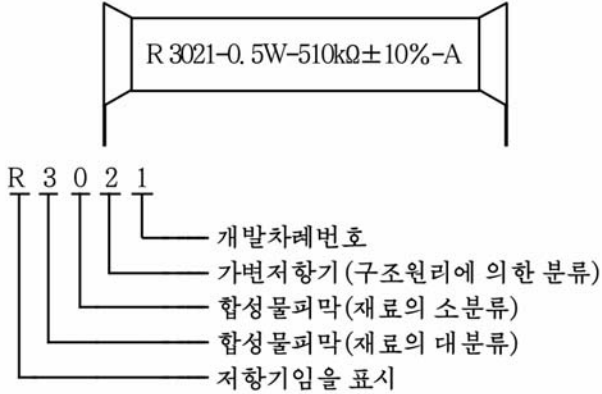


그림 1-4. 저항기의 자호표시와 실례

실례 : $\underline{R\ 1017}$ - $\underline{0.5W}$ - $\underline{510k\Omega}$ \pm $\underline{10\%}$ - \underline{A}
 저항기의 종류 정격전력 정격저항 허용편차 잡음준위

이것은 탄소피막저항기로서 정격전력은 0.5W, 정격저항은 510k Ω , 허용편차는 $\pm 10\%$ 이고 잡음준위는 A급이라는것을 표시하고있다.

그림 1-5에 저항기의 색표시실례를 보여주었다.

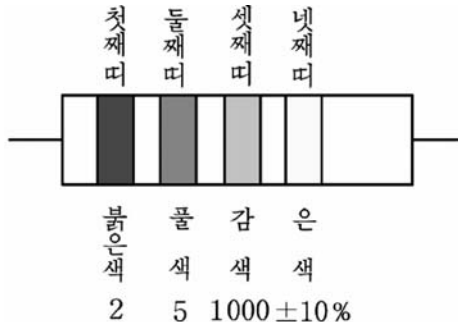


그림 1-5. 저항기의 색표시

표 1-1을 참고하면 이 저항기의 저항값은 25k $\Omega \pm 10\%$ 이다.

저항기들의 표시법을 보면 일부 저항기들은 간략표시법을 쓰고있다. 실례로 4.7k Ω 을 4k7로, 5.6M Ω 을 5M6으로 표시한다.

허용편차는 우리 나라 자모순서(가, 나, 다, ...)로 표시한다.

실례로 470 $\Omega \pm 20\%$ 의 저항기를 《K47마》로 표시한다.

저항기, 축전기의 색표시법

표 1-1

구분 색갈	첫번째 띠 (점)	두번째 띠 (점)	세번째 띠 (점)	네번째 띠 (점)
검은색	-	0	10^0	$\pm 1\%$
밤 색	1	1	10^1	
붉은색	2	2	10^2	
감 색	3	3	10^3	
누런색	4	4	10^4	
풀 색	5	5	10^5	
푸른색	6	6	10^6	
보라색	7	7	10^7	
채 색	8	8	10^8	
흰 색	9	9	10^9	
금 색	-	-	10^{-1}	$\pm 5\%$
은 색	-	-	10^{-2}	$\pm 10\%$
바탕색	-	-	-	$\pm 20\%$

4. 저항기의 선택과 리용

저항기를 선택할 때에는 요구되는 정격저항과 정격전력을 알고있어야 한다.

정격저항과 정격전력은 일반적으로 회로도에 표시되어있지만 새로 회로를 설계하여 제작하거나 회로도에 지적되어있지 않는 경우에는 자체로 계산하여 정해야 한다.

공장에서 저항기를 생산할 때에는 모든 저항값에 해당하는 저항기를 다 생산하는것이 아니라 국규에 의해 제정된 규격의 저항기만 생산하게 된다.

그러므로 자기가 요구하는 저항값과 제일 가까운 규격의 저항기를 선택하거나 저항기들을 직렬 또는 병렬로 연결하여 요구되는 저항값을 맞추어야 한다.

저항기를 직렬로 연결하면 저항값이 매개 저항기들의 저항값을 더한 값과 같아진다.

실례로 5kΩ의 저항기 2개를 직렬로 연결하면 10kΩ의 저항기로 된다.

그러므로 보다 큰 저항값을 가지는 저항기가 요구되는 경우 직렬연결을 한다.

저항기의 선택에서 또한 중요한것은 알맞는 허용손실전력의 저항기를 선택하는것이다.

허용손실전력이 모자라면 저항기가 견디지 못하고 타버리며 반면에 허용손실전력이 지내 큰것을 선택하면 저항기의 크기와 질량이 커지는 현상이 생긴다.

그러므로 정격전력을 크게 해야 할 필요성이 있을 때나 저항기의 저항값을 작게 할 필요가 있을 때에는 저항기를 병렬로 연결하여 쓰는 방법도 있다.

실례로 10kΩ의 저항기가 요구될 때 20kΩ의 저항기 2개를 병렬로 연결하면 된다. 이때 정격전력은 2배로 커진다.

저항기는 전자회로에서 전류의 제한 및 조절, 전압낮춤, 전압분할 및 조절, 신호의 위상변화, 전원전압의 평활 등에 리용된다.

연습문제

1. 6V의 전원에 6Ω의 저항기를 연결할 때 거기로 얼마만한 전류가 흐르겠는가? 그리고 이때 저항기에서 소비되는 전력은 얼마이겠는가?
2. 12V전원에 저항값이 각각 10Ω, 20Ω, 30Ω인 저항기를 직렬로 연결하였다. 매개 저항기에 걸리는 전압을 구하여라.
3. 정격전력이 0.5W, 정격저항이 500Ω인 저항기로는 최대로 얼마만한 전류가 흐를수 있겠는가?
4. 1W, 10kΩ의 저항기들로 2W, 5kΩ의 저항기를 만들자면 어떻게 하여야 하겠는가?
5. 510kΩ±10%의 저항기는 실제로 어느 정도의 범위에서 저항값을 가질수 있는가?
6. 그림 1-6과 같이 저항기에 색띠가 표시되어있다. 이 저항기의 정격저항과 허용편차는 얼마인가?

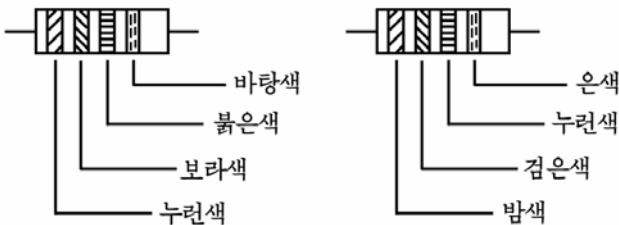


그림 1-6. 저항기의 색표시례

제2절. 축전기

축전기란 두개의 금속판사이에 절연물을 넣어 전기를 저축할수 있게 만든 전자요소를 말한다.

1. 축전기란 무엇인가

전기량을 담아둔다는 의미에서 축전기와 축전지를 같이 볼수 있겠지만 그의 구조와 동작원리, 용도에서는 완전히 구별된다.

축전지는 전기에너지를 다른 형태의 에너지(레하면 화학적에너지)로 전환하여 저축했다가 요구될 때 다시 전기에너지로 전환하여 내보내는 방법으로 동작하지만 축전기에서는 전기에너지를 전기량의 형태로 저축했다가 내보내게 된다.

여기로부터 그의 구조에서 근본적인 차이를 가진다.

축전기는 전자회로에서 어떤 작용을 하는가?

① 축전기는 전기량을 저축하는 작용을 한다. 이때 얼마만한 전기량을 저축할수 있는가를 표시하는 량을 **전기용량**이라고 부르며 문자 C로 표시한다.

축전기의 전기용량 C는 금속판의 면적이 클수록, 절연물의 두께가 얇을수록, 절연물의 질이 좋을수록 커진다.

축전기는 그림 1-7과 같이 물통의 중간에 고무막을 넣은것과 비유할수 있다. 여기서 고무막은 절연물, 물통은 금속판, 수압은 전압, 물의 흐름은 전류로 대비할수 있다.

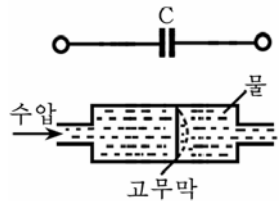


그림 1-7. 축전기의 모형

그림과 같이 물이 찬 판에 수압을 가할 때 고무막의 면적이 클수록, 고무막의 두께가 얇을수록 그리고 고무의 질(늘어나는 성질)이 좋을수록 더 많은 물이 판안으로 흐른다.

여기서 고무막이 늘어나는것을 축전기가 충전되는것으로, 물통안으로 들어오는 물량을 축전기에 충전되는 전기량으로, 판으로 물이 흐르는것을 충전전류로 대비할수 있다.

수압이 가해지지 않으면 고무막이 제자리로 오면서 통로안에 들어왔던 물이 판을 통해 밖으로 흐른다. 이것은 축전기의 방전과 대비할수 있다.

전기용량의 기본단위로는 F(파라드)를 쓴다. F는 너무 큰 단위이므로 실전에서는 이보다 작은 단위들인 μF , nF , pF 를 쓴다.

이 단위들사이에는 다음의 관계가 있다.

$$1\mu\text{F} = 10^{-6}\text{F}$$

$$1\text{nF} = 10^{-9}\text{F} = 10^{-3}\mu\text{F}$$

$$1\text{pF} = 10^{-12}\text{F} = 10^{-6}\mu\text{F} = 10^{-3}\text{nF}$$

② 축전기는 직류는 통과시키지 않고 교류만 통과시키는 작용을 한다.

축전기의 두 극판사이에는 절연물이 놓여있으므로 직류전압을 걸어주면 처음에 충전전류가 흐르고 충전이 끝나면 더는 전류가 흐르지 못한다. 즉 직류를 통과시키지 않는다. 그러나 교류는 통과시킨다. 이것을 그림 1-8과 같은 모형으로 비유하여 설명해보자.

여기서 피스톤을 좌우로 이동시키면 판으로는 방향이 번갈아 변하는 물이 흐르게 된다. 여기서 피스톤을 교류전원으로, 물의 흐름을 전류로 보면 축전기에 교류전원을 연결했을 때 회로에 교류가 흐르는 리치와 같다.

축전기가 교류를 통과시키는것은 극판사이로 전하가 이동해서가 아니라 축전기의 충전현상에 의하여 실현된다.

축전기의 이와 같은 성질을 리용하여 전자회로에서 전원의 평활 및 리파, 직류차단회로들사이의 결합에 많이 쓰인다.

③ 축전기는 교류에 대하여 일정한 저항작용을 한다.

교류에 대한 축전기의 저항은 저항기가 가지는 저항과 구별하기 위하여 **용량성저항**이라고 부르며 문자 X_C 로 표시한다.

축전기의 교류저항이 무효저항으로 되는것은 축전기에 교류가 흐를때 교류의 반주기동안에는 충전되어 전기에너지를 축적하고 다음 반주기동안에는 방전되면서 전기에너지를 전원 또는 부하에 넘겨주기때문이다.

용량성저항을 식으로 표시하면 다음과 같다.

$$X_C = \frac{1}{2\pi fC}$$

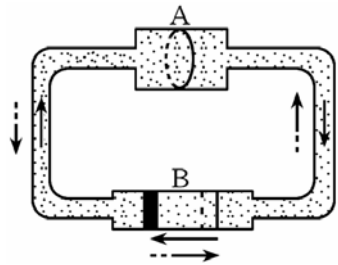


그림 1-8. 축전기가 교류를 통과시키는 원리

웃식으로부터 용량성저항은 주파수가 높고 축전기의 용량이 클수록 작아진다는것을 알수 있다.

그러므로 축전기의 용량이 크고 주파수가 높을수록 교류는 축전기를 잘 통과하게 된다.

축전기의 작용에서 중요한 성질의 하나는 교류회로에서 전압보다 전류의 위상을 90° 앞서게 한다는것이다. (그림 1-9)

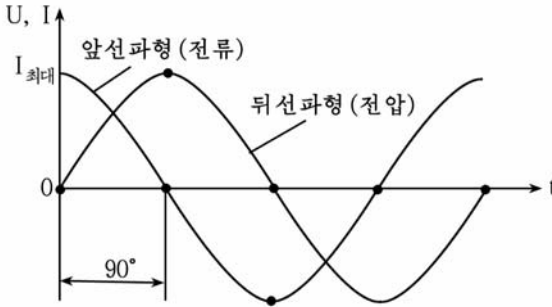


그림 1-9. 축전기에서 전류와 전압의 위상관계

즉 축전기에 교류를 흘려보내면 전압이 최대로 될 때 전류는 령으로 되고 전류가 최대로 될 때 전압은 령으로 된다.

축전기의 이 용량성저항을 리용하여 축전기를 교류전류의 제한 및 조절에 리용한다.

축전기의 특성을 평가하는 물리적량들에는 어떤것들이 있는가?

축전기의 특성은 정격용량과 허용편차, 내압 등의 특성량들에 의하여 특징지어진다. 이 특성량들의 의미는 다음과 같다.

정격용량- 이것은 공장에서 생산할 때 표준설계에서 규정된 전기용량값이다.

허용편차- 정격용량과 실제용량사이의 차이를 퍼센트(%)로 표시한 값이다.

내압- 축전기는 일정한 크기이상의 전압을 걸어주면 절연물이 견디지 못하고 파괴된다. 때문에 축전기마다 파괴되지 않고 정상적으로 동작할수 있는 최대전압이 정해져있는데 이 전압을 내압이라고 한다.

내압은 사용전압과 시험전압, 파괴전압으로 나누는데 축전기들의 결면에 표시한 전압은 사용전압이다.

2. 축전기의 분류

축전기는 축전기의 전기용량을 변화시킬수 있는가, 없는가에 따라 고정축전기와 가변축전기로 나눈다.

1) 고정축전기

고정축전기란 그의 전기용량의 값을 변화시킬수 없는 축전기를 말한다.

고정축전기는 어떤 절연물인가에 따라 종이축전기, 수지축전기, 사기축전기, 운모축전기, 전해축전기 등이 있다.

- 종이축전기

종이축전기는 석종이 또는 얇은 알루미늄피를 두 극판으로 하고 그사이에 절연종이를 끼운 다음 통구리로 감아서 만든 축전기이다. (그림 1-10의 가)

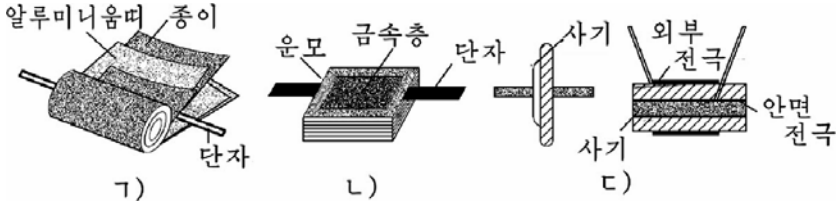


그림 1-10. 여러가지 축전기들의 구조

가) 종이축전기, 나) 운모축전기, 다) 사기축전기

종이축전기는 유전체손실이 크고 용량이 안정하지 못한 결함이 있다.

종이축전기의 전기용량은 보통 수백 pF로부터 수 μ F 사이에 있다.

최근에는 종이대신 폴리스티롤, 폴리에틸렌과 같은 수지를 써서 축전기의 질을 훨씬 높이고있다.

수지축전기는 체적이 작으면서도 큰 전기용량을 가지며 용량값변화가 작고 높은 전압에서 동작할수 있는 우점이 있다.

- 운모축전기

운모축전기는 유전체로서 운모를 사용한 축전기이다. 석종이나 알루미늄피와 운모를 엇바꾸어 여러층 쌓고 양쪽에 단자를 낸 다음 그것을 수지로 압착성형하여 만든다. (그림 1-10의 나)

운모축전기는 전기용량이 작다. 보통 수십~수천 pF 정도이다.

운모축전기는 내압이 높고 고주파손실이 작으므로 고주파회로에 많이 쓰인다.

- 사기축전기

사기축전기는 이산화티탄을 포함한 특수한 사기를 유전체로 리용한 축전기이다. 형태는 원판형 또는 원통형으로 만든다.(그림 1-10의 ㄷ)

원판형에서는 아래웃면에 은을 증착하여 금속전극을 만들었고 원통형에서는 통의 안과 겉에 은을 증착하여 전극을 만들었다.

사기축전기는 체적이 작으면서 용량을 크게 할수 있으며 습기와 온도의 영향을 적게 받는다. 유전체로서 산화티탄을 쓴 경우는 0.01~수 μF 정도의 전기용량을 가진다.

- 전해축전기

전해축전기는 유전체로서 알루미늄판을 붕산이나 붕산암모니움과 같은 전해액속에 넣고 전기분해할 때 생기는 산화알루미늄의 얇은 막을 쓴 축전기이다.

이 막은 절연성이 좋고 유전률이 크면서도 대단히 얇기때문에 축전기의 전기용량을 매우 크게 할수 있다.

전해액속에 넣어 산화시킨 알루미늄판과 산화시키지 않은 알루미늄판사이에 전해액에 적신 절연종이를 끼우고 말아서 통속에 넣고 밀봉하였다.(그림 1-11)

전해축전기는 다른 축전기들과는 달리 <+>극과 <->극이 엄격히 구별되어있는것이 특징이다.

전해축전기의 용량은 수~수천 μF 또는 그 이상으로서 매우 큰 값을 가진다.

그러나 이 축전기는 일반적으로 내압이 낮은것이 결함이다.

전해축전기를 쓸 때에는 반드시 내압과 극성을 고려해야 한다.

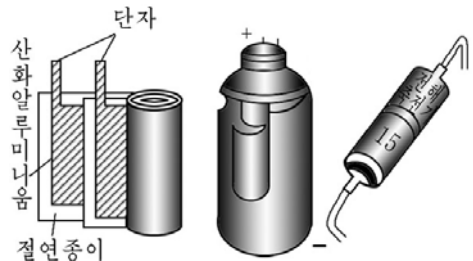


그림 1-11. 전해축전기의 구조

2) 가변축전기

가변축전기는 한쪽 극판을 고정시키고 다른쪽 극판은 움직일수 있게 하여 마주 한 두 극판의 면적을 변화시킴으로써 전기용량을 변화시키도록 만든 축전기이다. 유전체로서는 보통 공기를 리용한다.(그림 1-12)

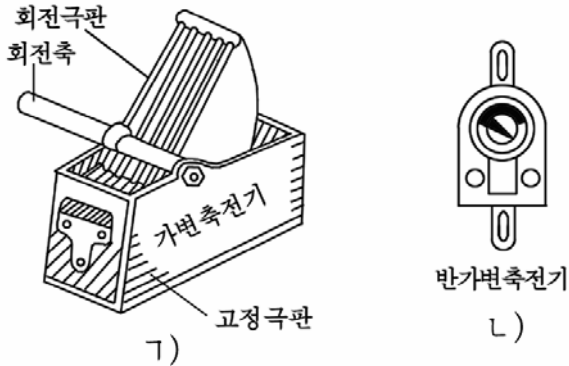


그림 1-12. 가변축전기(A)와 반가변축전기(B)의 구조

여러장의 알루미늄판을 병렬로 묶어서 고정극판으로 하고 역시 여러장의 알루미늄판을 묶은 가동전극판이 고정전극사이로 드나들수 있게 만든다.

손잡이를 돌리면 가동극판이 회전하면서 마주한 극판의 면적이 변하므로 전기용량이 변한다. 때로는 이런 가변축전기를 한개의 축에 2개 또는 3개씩 연결하여 쓰는데 이와 같은 가변축전기를 **2련** 또는 **3련 가변축전기**라고 부른다.

가변축전기의 한 종류로서 반가변축전기가 있다.

반가변축전기는 공장에서 회로를 조립하였거나 회로를 수리한 후 정확한 조정을 위해서만 쓰이는 축전기로서 그의 용량값 변화범위는 5~30 pF 정도로 작다.

3. 축전기의 표시방법

1) 축전기의 기호표시

전자회로에서 축전기는 그림 1-13과 같이 기호로 표시한다.

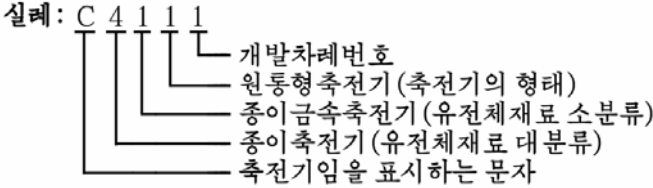
축전기의 종류	고정 축전기	전해 축전기	가변 축전기	2련 가변축전기	반가변 축전기
표시방법					

그림 1-13. 축전기의 기호표시

기호옆에는 축전기의 용량값을 밝혀준다.

2) 축전기의 자호표시

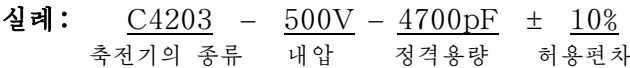
축전기도 저항기와 같이 문자와 수자로 그의 종류와 중요정수들을 축전기의 겉면에 자호로 표시한다.



먼저 축전기임을 표시하는 문자 C뒤에 그의 종류를 4자리수로 표시한다.

축전기의 종류를 표시하는 자호에서 첫번째와 두번째 수자는 축전기에 쓰인 유전체재료의 종류를, 세번째 수자는 축전기의 형태를, 네번째 수자는 개발차레번호를 표시한다.

축전기의 종류를 표시하는 자호뒤에는 내압, 정격용량, 허용편차의 순서로 특성량들을 그의 단위와 함께 구분하면서 표시한다.



이 자호의 의미는 종이금속축전기로서 그의 내압이 500V, 전기용량은 4 700pF이며 허용편차는 ±10%라는것이다.

3) 축전기의 색표시

체적이 작아서 자호를 표시할수 없는 축전기들은 저항기에서와 같이 색띠 또는 색점으로 정격용량과 허용편차를 표시한다.

색표시방법은 단위로 pF를 쓴다는것을 제외하고 기타는 저항기에서와 꼭 같다.

그림 1-14에 축전기의 색표시 실례를 보여주었다.

그림에서 보면 누런색은 4, 보라색은 7, 붉은색은 10^2 을 표시하므로 이 축전기는 용량이 4 700pF이고 허용편차가 ±20%임을 알수 있다.



그림 1-14. 축전기의 색표시례

4) 축전기의 선택과 리용

축전기를 리용할 때에는 요구되는 용량값과 회로전압을 알고 그에 맞게 축전기를 선택하여야 한다.

축전기도 공장에서 모든 용량값으로 생산되지 않고 국규에 정해진 값의 축전기만 생산된다. 그러므로 요구되는 값과 꼭 맞는 축전기가 없을 경우에는 축전기들을 직렬 또는 병렬로 연결하여 요구되는 용량값에 맞추어야 한다.

이때 명심해야 할 문제는 축전기들을 직렬로 연결하면 용량값은 작아지고 내압이 커지며 반대로 병렬로 연결하면 용량만 커지고 내압은 커지지 않는다는 것이다.

실례로 $10\mu\text{F}$ 의 축전기 2개를 병렬로 연결하면 $20\mu\text{F}$ 로 커지고 직렬로 연결하면 $5\mu\text{F}$ 로 작아진다.

축전기를 선택할 때 특히 주의를 돌려야 할것은 축전기의 내압이다. 회로에 걸리는 전압보다 내압이 큰 축전기를 써야 한다. 그렇다고 하여 필요이상 내압이 큰 축전기를 쓰면 회로에서 차지하는 축전기의 체적과 질량이 커질수 있으므로 알맞춤한것을 골라써야 한다.

연습문제

1. $4700\text{pF} \pm 20\%$ 의 축전기는 어느 범위의 용량값을 가질수 있다는것을 의미하는가?
2. $10\mu\text{F}$ 의 용량을 가지는 축전기가 있다. 주파수가 60Hz 인 교류회로에서 축전기는 얼마만한 용량성저항을 가지는가?
3. $0.1\mu\text{F}$ 와 4.7nF 는 몇 pF 인가?
4. 정격용량이 0.2pF 이고 내압이 500V 인 축전기들만 있다. 이 축전기들로 1000V 의 전압이 걸리는 회로에서 $0.1\mu\text{F}$ 의 용량을 가지게 하려면 어떻게 연결해야 하겠는가?

제3절. 선류와 변성기

1. 선류

1) 선류이란 무엇인가?

선류이란 일정한 형태로 전기줄을 여러번 감아 필요한 유도도를 가지도록 만든 전자요소를 말한다.

그러면 전자회로에서 선류는 어떤 작용을 하는가?

먼저 그림 1-15의 ㄱ)와 같은 회로를 실험하여보자.

스위치를 넣으면 넣는 즉시 불이 켜지지 않고 조금 지나서 불이 켜지는것을 관찰할수 있다.

이것은 회로에 선류가 들어있기 때문이다.

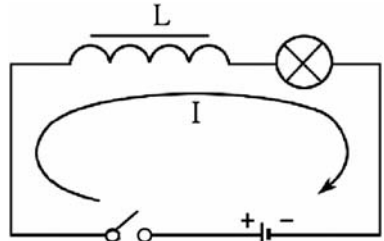
그림의 ㄴ)와 같은 수차와 비교할수 있다. 뿔프가 돌아가는 첫 순간에 수차는 관성에 의하여 인차 돌아가지 못하고 조금후에 돌면서 물이 흐른다.

이와 유사하게 선류가 들어있는 회로에서 스위치를 넣을 때 전등에 불이 인차 켜지지 않고 조금후에 켜지는것은 선류에 전류의 증가를 방해하는 작용이 있기때문이다.

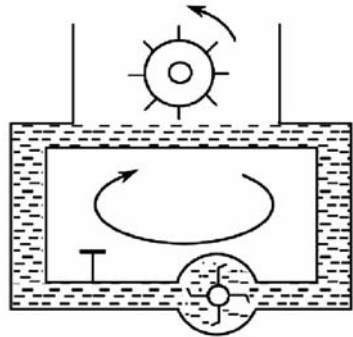
다음은 스위치를 열 때 전등불이 꺼지는것을 관찰할수 있다.

이것은 뿔프전동기의 전원을 꺼도 수차는 관성에 의하여 일정한 시간 계속 돌면서 물이 계속 흐르는것과 유사하다.

이와 같이 선류는 전류가 흐르는것을 감소하는것도 방해한다.



ㄱ)



ㄴ)

그림 1-15. 선류의 작용을 보여주는 실험회로(ㄱ)와 모형(ㄴ)

그러면 선류가 전류가 증가하거나 감소하는것 즉 전류의 변화를 어떻게 방해하는가?

선류에 전류가 흐르면 선류주위에 자기마당이 생기게 된다.

전류의 세기와 방향이 변하면 자기마당의 세기와 방향도 변한다. 변하는 자기마당속에 놓인 도체에는 유도기전력이 발생하므로 선류에 교류전류가 흐르며 기전력이 유기된다.

이 기전력의 크기와 방향은 항상 전류의 변화를 방해하도록 생긴다.

이런 현상을 **자체유도현상**이라고 부르며 이때 생기는 기전력을 **자체 유도기전력**이라고 부른다.

선류에 생기는 자체유도기전력의 방향은 항상 전원기전력의 방향과 반대이다.

선류가 전류의 변화를 방해하는것은 바로 이 자체유도기전력때문이다.

선류에 유기되는 자체유도기전력의 크기는 선류으로 흐르는 교류전류의 세기와 변화속도에 비례하며 선류자체에도 관계된다. 여기서 선류에 관계되는 물리적량을 **자체유도도** 또는 간단히 **유도도**라고 부르며 문자 L 로 표시한다.

이것을 식으로 표시하면 다음과 같다.

$$\varepsilon = -L \frac{di}{dt}$$

선류의 유도도 L 은 선류의 직경이 클수록, 권회수가 많을수록 커지며 선류속에 철심이 있으면 훨씬 더 커진다.

유도도의 기본단위는 H(헨리)이며 이보다 작은 단위들인 mH, μ H도 쓴다.

이 단위들사이에는 다음의 관계가 있다.

$$1H = 10^3 mH = 10^6 \mu H$$

선류는 전류의 변화를 방해하므로 교류전류에 대하여 저항작용을 하게 된다.

교류에 대한 선류의 저항은 선류의 자체유도기전력때문에 생긴다는 의미에서 **유도성저항**이라고 부르며 문자 X_L 로 표시한다.

$$X_L = 2\pi fL$$

이 식으로부터 유도성저항은 주파수가 높고 선류의 유도도가 클수록 커진다는것을 알수 있다. 그러므로 선류에서는 유도도가 크고 주파수가 높을수록 교류에 대한 저항작용이 커진다.(그림 1-16)

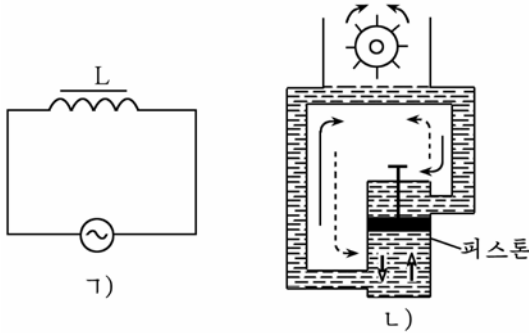


그림 1-16. 선류의 유도성저항

다음으로 선류이 가지는 중요한 성질은 교류회로에서 전류보다 전압의 위상을 90° 앞서게 한다는것이다.(그림 1-17) 즉 선류에 교류전류를 흘려보내면 전류가 최대로 될 때 전압은 령으로 되며 전압이 최대로 될 때 전류가 령으로 된다. 여기로부터 용량성저항과 유도성저항의 성질은 서로 반대이라하는것을 알수 있다.

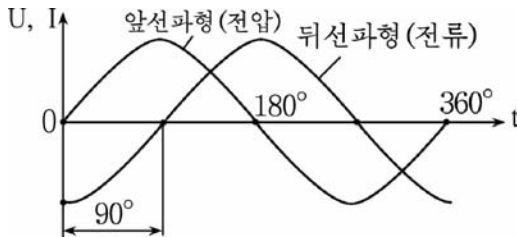


그림 1-17. 교류회로에서 선류의 전류와 전압의 위상관계

2) 선류의 분류

선류에는 여러가지 종류가 있는데 저주파회로에 쓰이는가, 고주파회로에 쓰이는가에 따라 저주파선류와 고주파선류으로 나눈다.

- 저주파선류

저주파선류에는 저주파색류선류와 저주파변성기용선류이 있다.(그림 1-18)

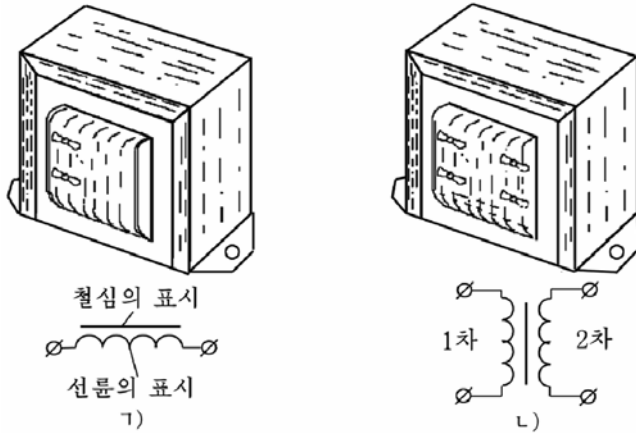


그림 1-18. 저주파선류
 1) 색류선류, 2) 변성기

저주파색류선류는 유도성저항을 리용하여 정류회로에서 직류는 통과시키고 교류는 통과시키지 않을 목적으로 쓰인다.

저주파색류선류에서는 한개의 권선을 가지고있으므로 두개의 단자와 유도도를 크게 하기 위한 철심이 있다.

저주파변성기용선류에 대하여서는 변성기에서 구체적으로 보자.

- 고주파선류

고주파선류는 쓰이는 목적에 따라 공진회로선류, 결합선류, 고주파색류선류로 나눈다.

그리고 고주파선류는 유도도가 고정된 선류와 유도도를 변화시킬수 있는 선류으로도 나눈다. (그림 1-19)

또한 권선을 어떻게 감았는가에 따라 한층선류, 여러층선류, 사림식선류로 나눈다.

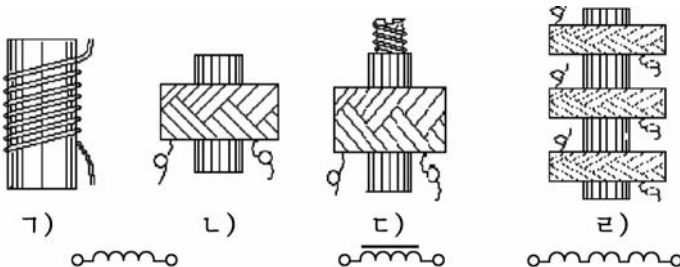


그림 1-19. 고주파선류

사림식선륜은 권선틀우에 권선을 여러층 감아서 만든것이다.(그림 1-19의 ㄴ, ㄷ, ㄹ)

고주파선륜에서는 유도도를 크게 하고 체적을 작게 하기 위하여 철심을 쓴다.(그림 1-19의 ㄷ)

고주파선륜의 철심으로는 압분철심과 웨리트철심을 쓰는데 이 철심은 나사형으로 되어있어 조절할수 있다.

그러므로 철심을 돌려뽑으면 선륜의 유도도가 작아지고 철심을 넣으면 유도도가 커진다.

3) 선륜의 역할

선륜은 전자회로에서 다음과 같은 역할을 한다.

- ① 선륜은 단긴회로에서 축전기와 함께 쌍을 이루면서 공진을 일으키며 고주파회로에서 부하로 리용된다.
- ② 선륜은 정류회로에서 평활작용을 한다.
- ③ 선륜은 교류는 막아주고 직류를 통과시켜주는 역할을 한다.
- ④ 선륜은 여러가지 주파수의 전류나 전압가운데서 필요한 어떤 주파수만을 갈라내는 작용을 한다.

4) 선륜의 표시방법

선륜은 보통 문자 L로 표시한다.

선륜의 유도도값을 표시할 때에는 문자 L옆에 유도도값을 적어넣는다.

실례로 유도도의 값이 $50\mu\text{H}$ 인 경우에는 《 $L50\mu\text{H}$ 》로 표시한다.

전자회로에서 선륜을 표시할 때에는 그림 1-20과 같이 한다.

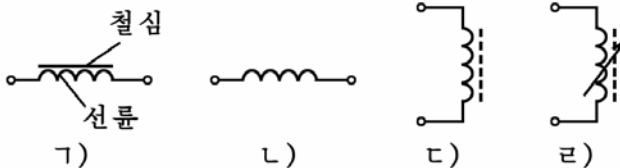


그림 1-20. 전자회로에서 선륜의 표시방법

- ㄱ) 저주파쇄류선륜, ㄴ) 한층고주파선륜, ㄷ) 고정철심이 있는 고주파선륜, ㄹ) 철심으로 유도도를 변화시킬수 있는 고주파선륜

5) 선류의 선택과 리용

(1) 선류의 선택

선류는 종류에 따라 다음과 같이 선택한다.

한층권선형선류는 높은 주파수를 만드는 발진기에 쓰인다. 그리고 여러층보통권선형선류는 전류제한선류으로 리용한다. 사검식선류는 과전류제한선류으로 쓰인다.

철심이 있는 고주파선류는 고주파에서 체적을 작게 하고 유도도를 크게 할 때 쓰인다. 그리고 유도도를 변화시켜야 할 때에는 철심으로 유도도를 변화시킬수 있는 고주파선류를 쓴다.

저주파색류선류는 정류회로에서 맥동전류를 미끈하게 만들기 위한 평활장치에 많이 쓰인다.

(2) 선류의 리용

선류를 직렬로 련결할 때에는 그 전체 유도도값이 매개의 선류이 가지는 유도도를 합한것과 같고 병렬로 련결할 때에는 매개의 선류이 가지는 유도도들의 거꿀수를 더한것의 거꿀수와 같다.

선류에는 극성이 따로 없으므로 단자를 바꾸어써도 일없다.

고주파선류에서의 유도도조절은 선류속에 있는 철심을 조절하는 방법으로 한다.

그러나 저주파선류에서 유도도를 변화시키려면 권회수를 변화시키거나 철심을 다른것으로 바꾸어야 한다.

2. 변성기

1) 변성기란 무엇인가?

변성기란 전자회로에서 교류신호전압을 변화시키며 회로들사이의 저항을 맞추어주는데 쓰이는 전자요소를 말한다.

변성기의 동작원리는 변압기처럼 자기유도법칙에 의하여 1차쪽에서는 교류전압을 변화시켜 2차쪽으로 넘겨주는 작용을 한다.

그러므로 변성기의 구조는 변압기처럼 철심과 권선이 있으며 권선에는 1차권선과 2차권선이 있다. (그림 1-21)

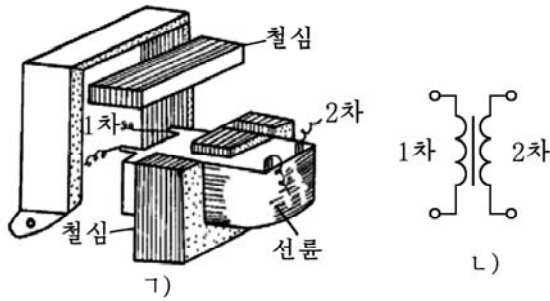


그림 1-21. 변성기의 구조
 1) 구조, 2) 기호표시

2) 변성기의 분류와 역할

변성기는 어떻게 분류되는가?

- 변성기는 주파수에 따라 저주파변성기, 중간주파변성기, 고주파 변성기로 나눈다. (그림 1-22의 ㄱ)

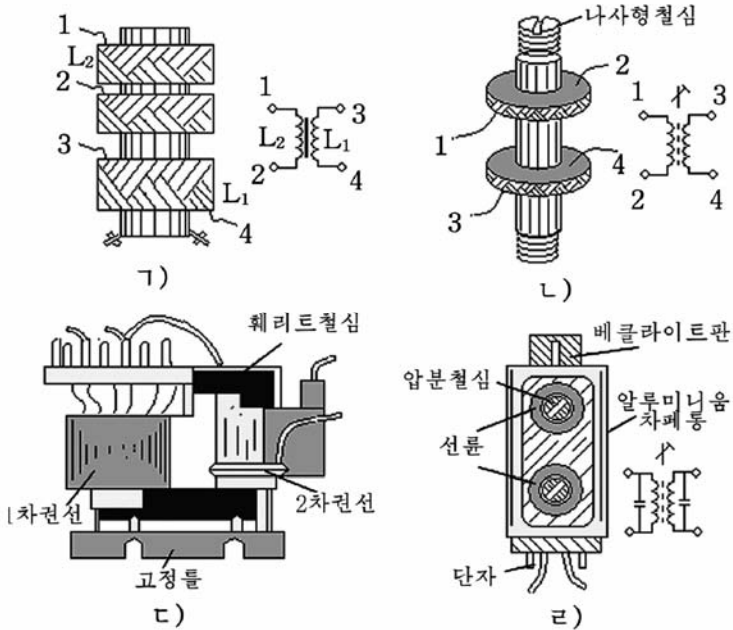


그림 1-22. 변성기의 종류

1) 입구변성기, 2) 결합변성기, 3) 출력변성기, 4) 중간주파변성기

- 변성기는 기능에 따라 중계변성기, 임펄스변성기, 라지오 혹은 TV용변성기로 나눈다.
- 변성기는 쓰이는 목적에 따라 전류변성기, 전압변성기, 결합변성기, 정합변성기, 입구변성기, 출력변성기, 동조형변성기로 나눈다.

변성기는 어떤 역할을 하는가?

- ① 변성기는 큰 저항과 작은 저항을 정합시키는데 쓴다.
- ② 반도체소자증폭단사이를 결합시키는 중간결합변성기로 쓰인다.
증폭기와 같은데서 출력소자와 고성기사이에 들어있는 출력변성기나 마이크와 첫 증폭소자사이에 들어있는 변성기를 **정합변성기**라고 한다.
- ③ 안테나와 입구증폭단사이를 결합시키는 고주파변성기로 쓰인다.
- ④ TV와 같은데서 전압을 낮추는 역할을 한다.
- ⑤ 전자회로에서 위상을 변화시켜주는 역할을 한다.

[상식] 전자기유도법칙을 발명한 파라데이

화학자이며 물리학자인 파라데이(1791-1867)는 영국의 런던교외의 가난한 야장공의 아들로 태어났다.

13살 때부터 책방의 제책공으로 힘든 로동을 하면서도 많은 과학서적들을 탐독하였다.

어느날 파라데이는 이름있는 학자였던 데비의 강연을 듣고 몹시 감동되었으며 22살에는 과학을 탐구할 희망을 품고 데비의 실험조수로 되었다.

과학활동의 초기에 파라데이는 화학을 연구하다가 그후에는 전기학을 연구하기 시작하였다.

파라데이는 거듭되는 실험적연구과정에 40살 되는 해인 1831년에 전자기유도현상을 발견하였으며 1837년에는 전기 및 자기마당의 개념을 확증함으로써 전자기리론의 기초를 마련하였다.

전기마당에 관한 파라데이의 실험적연구결과는 그후에 막스웰에 의하여 수학적론적으로 정식화되었다.

파라데이는 전기분해현상을 연구하면서 1833년에 전기분해법칙(파라데이법칙)을 발견하였으며 이밖에도 진공방전의 연구, 파라데이효과와 반자성물질의 발견 등 과학발전에 커다란 기여를 하였다.

제4절. 반도체2극소자

1. 반도체

반도체란 전기적성질에 있어서 도체와 부도체 사이에 있는 물질을 말한다.

어떤 물체가 전류를 얼마나 잘 통과시키는지 하는 것은 그 물체의 비저항에 의하여 평가할 수 있다.

도체의 비저항은 대체로 $10^{-8} \sim 10^{-6} \Omega\text{m}$ 이고 부도체의 비저항은 $10^4 \sim 10^{16} \Omega\text{m}$ 이며 반도체의 비저항은 $10^{-6} \sim 10^4 \Omega\text{m}$ 이다.

따라서 반도체는 비저항이 도체와 부도체 사이에 있는 물질이라고 말할 수 있다. 이러한 반도체 물질로는 규소(Si), 게르마늄(Ge), 붕소(B), 인(P), 인디움(In) 등과 같은 원소들과 금속산화물 및 금속류화물 등이 쓰인다.

반도체는 일련의 물리적성질로 인하여 전자공업에서 중요한 자리를 차지한다.

그러면 반도체는 어떤 물리적성질들을 가지고 있는가?

① 반도체의 저항은 온도가 높아지면 작아진다. 일반적으로 도체는 온도가 높아지면 저항이 커지는데 이것을 금속이 정의 저항온도계수를 가진다고 한다.

그러나 반도체는 금속과 반대로 부의 저항온도계수를 가진다.

② 반도체에 빛을 비추면 저항이 작아진다.

③ 반도체속에 아주 적은 양의 혼입물을 섞어주면 저항이 매우 작아진다. 이 성질을 리용하여 반도체소자를 만든다.

1) 순수반도체

모든 물질은 원자로 이루어지고 원자는 원자핵과 그 주위를 도는 전자들로 이루어진다. 전자들은 $\langle - \rangle$ 전기를 띠고 $\langle + \rangle$ 전기를 띤 원자핵의 주위를 서로 끌어당기면서 돈다. (그림 1-23)

물질의 전기적성질은 바깥궤도에 놓이는 전자의 수와 그 성질에 관계된다. 바깥궤도에 놓이는 전자를 **궤전자**라고 한다.

바깥궤도에 정해진 개수만큼 다 들어간 원자는 전기적으로 안정하고 모자라는 전자들은 불안정한 상태에 놓인다.

불안정한 상태에 놓인 전자들은 밖으로부터 열이나 빛, 전기마당을 주면 원자로부터 쉽게 떨어져나와 자유전자로 된다.

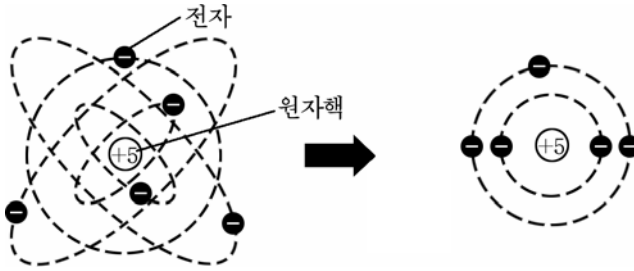


그림 1-23. 원자의 구조

순수반도체의 구조를 알아보기 위한 구조단결정을 보자.

원자나 분자들이 일정한 규칙에 따라 질서정연하게 배치된 특수한 형태를 가진 물질을 결정이라고 한다.

규소원자는 원자값이 4이므로 바깥궤도에 4개의 전자를 받든가 내보내어 안정한 상태로 되려고 한다.(그림 1-24)

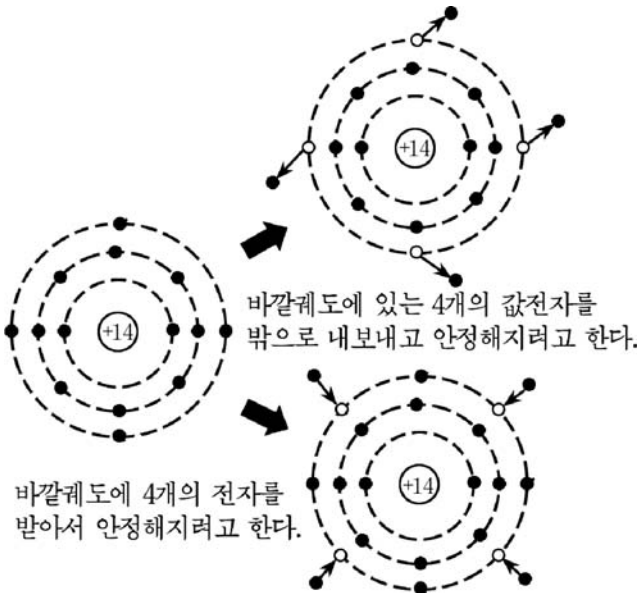


그림 1-24. 규소원자의 안정화상태

때문에 규소원자들은 규소결정을 이룰 때 이 값전자들이 이웃에 있는 4개의 규소원자들과 공유결합을 이루어 안정한 상태(바깥껍데기에 8개의 전자로 된 상태)로 된다.(그림 1-25)

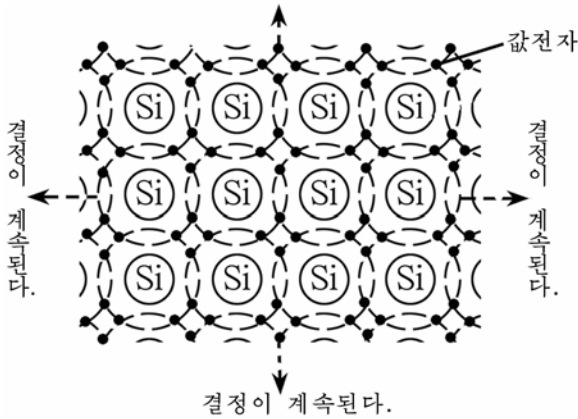


그림 1-25. 규소결정의 공유결합

낮은 온도에서는 규소결정속에 자유전자가 없으므로 부도체로 된다.

이렇게 공유결합한 규소결정에서 값전자들은 원자에 매우 약하게 결합되어있다. 그러므로 규소결정에 빛이나 열, 전기마당과 같은 에너지를 주면 에너지를 받은 값전자들의 운동이 활발해진다. 이때 값전자들가운데서 원자가 붙들고있는 힘을 이길 정도로 세계 운동하는것들은 공유결합상태로부터 떨어져나온다.

따라서 결합상태에는 빈자리가 생기고 결정안에는 자유로이 떠돌아다니는 전자가 생긴다. 이 떨어져나온 전자를 **자유전자**, 자유전자가 떨어져나온 결과 생긴 빈자리를 **구멍**이라고 부른다.

결국 규소결정에는 자유전자와 구멍의 쌍이 생긴다. 즉 자유전자와 구멍의 수는 언제나 같다.

이런 반도체를 **순수반도체**라고 부른다.

순수반도체속에 생긴 구멍은 언제나 한자리에 머무는것이 아니라 이웃의 값전자들이 옮겨가 구멍을 메워 구멍자리는 없어지고 옮겨간 값전자가 있던 자리에 새롭게 구멍이 생긴다.

이처럼 새로운 구멍에 이웃의 값전자가 옮겨가 자리를 메우고 또 그 값전자에 의하여 구멍이 생기는 과정은 련속 진행된다.

순수반도체속에서는 이런 과정이 저절로 일어나므로 자유전자나 구멍은 다 전류나르개로 될수 있다.

순수반도체에 전기마당을 작용시키면 자유전자들은 전기마당의 반대방향으로 운동한다. (그것은 자유전자들이 <-> 전기를 띤 알갱이이기 때문이다.)

한편 구멍옆에 있던 값전자들이 전기마당의 힘을 받아 구멍을 차례로 메워주므로 구멍은 자기마당의 방향으로 옮겨간다.

이것은 구멍의 움직임이 마치 <+> 전기를 띤 알갱이가 <+> 전기량을 가지고 전기마당방향으로 옮겨가는것과 같다. (그림 1-26)

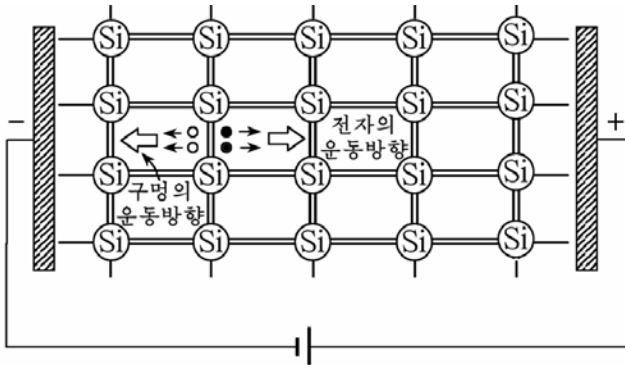


그림 1-26. 전기마당속에서 자유전자와 구멍의 이동

여기로부터 순수반도체에 전기마당을 작용시키면 구멍은 전기마당의 <-> 방향으로, 자유전자는 전기마당의 <+> 방향으로 옮겨가면서 전류를 형성한다는것을 알수 있다.

자유전자의 이동으로 생긴 전류를 전자전류, 구멍의 이동으로 생긴 전류를 구멍전류라고 한다.

순수반도체에서 두레온도가 높아지면 자유전자와 구멍의 쌍이 많아지면서 저항은 작아지게 된다.

2) 혼입물반도체

전자공업에서는 순수한 반도체를 쓰지 않고 다른 원소가 조금 섞인 혼입물반도체를 쓴다.

그것은 순수한 반도체결정속에 혼입물이 들어갈 때 반도체의 성질이 변하기때문이다.

혼입물반도체는 전자반도체 (n형 반도체)와 구멍반도체 (p형 반도체)로 나눈다.

(1) 전자반도체 (n형 반도체)

4값의 규소원자로 이루어진 순수한 결정속에 5값의 린원자를 조금 섞으면 린원자의 5개의 값전자가운데서 4개만이 이웃에 있는 규소원자와 공유결합을 이루고 나머지 한개는 이 원자에서 떨어져나와 쉽게 자유전자로 된다. (그림 1-27)

이때에는 이 전자가 공유결합에 참가하지 않았으므로 떨어져나와도 구멍이 생기지 않는다.

방안온도정도에서 공유결합에 참가하지 못한 값전자는 모두 전기를 나르는 전도전자로 된다.

규소결정에 넣은 린원자는 쉽게 전도전자를 주므로 **주개**라고 하며 이때 전자를 잃은 린원자는 $\langle + \rangle$ 이온으로 된다.

이와 같이 전자가 구멍보다 더 많은 반도체가 **전자반도체 (n형 반도체)**이다.

전자반도체에는 주개에서 나온 전도전자들과 공유결합에서 떨어져나온 전자와 구멍쌍이 전류나르개로 되는데 여기서 전자의 수가 구멍보다 훨씬 많다.

그러므로 전자반도체에서는 전자가 전류의 기본을 이루고 구멍은 기본을 이루지 못한다. 여기서 기본을 이루는 전자를 **기본나르개**, 기본을 이루지 못하는 구멍을 **비기본나르개**라고 한다.

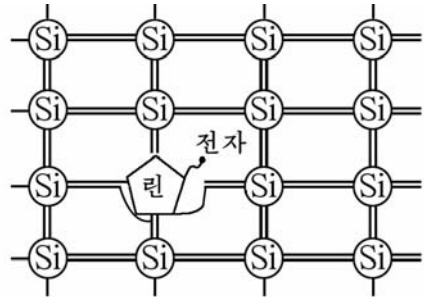


그림 1-27. 전자반도체

(2) 구멍반도체 (p형 반도체)

이번에는 순수한 규소결정속에 3값의 원소인 붕소원자를 섞어 보자.

규소결정속에 들어간 붕소원자는 이웃에 있는 규소원자들과 공유결합하려면 값전자가 하나 모자란다. 그러므로 그옆에 있는 규소원자로부터 값전자를 하나 빼앗아 공유결합을 한다. 그러면 전자를 빼앗긴 자리

에 구멍이 생기고 전자를 받은 붕소원자는 <-> 이온으로 된다.

이런 반도체에 열이나 빛, 전기마당을 주면 구멍옆에 있던 전자들이 구멍을 메우고 구멍의 자리는 옆으로 옮겨진다.

그러므로 구멍은 움직이지 않지만 구멍에 전자가 들어가고 그 전자가 남긴 구멍이 생기는것과 같은 현상이 계속되어 마치 구멍이 움직이는것처럼 된다. 때문에 구멍은 전류나르개로 된다.

이처럼 규소결정속에 넣은 붕소원자는 전자를 받아 구멍을 만드는 역할을 수행한다. 전자를 받는다는 뜻에서 붕소원자를 **받개**라고 부른다. (그림 1-28)

받개있는 반도체에서는 구멍이 전도전자보다 훨씬 많다.

그리하여 구멍반도체에서는 구멍이 전류의 기본나르개로 되고 전자가 비기본나르개로 된다. 기본전류나르개가 구멍인 반도체를 **구멍반도체(p형반도체)**라고 부른다. 그러므로 구멍반도체는 받개가 있는 반도체이다.

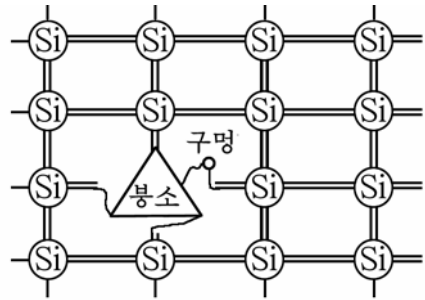


그림 1-28. 구멍반도체

전자반도체와 구멍반도체의 주개와 받개의 수를 적당히 조절하면 반도체의 전기저항을 마음대로 변화시킬수 있다.

이 성질을 리용하여 여러가지 반도체소자를 만든다.

3) pn이음

순수반도체의 한쪽에는 주개를 넣어 전자반도체로 되게 하고 다른 쪽에는 받개를 넣어 구멍반도체로 되게 하면 전자반도체와 구멍반도체가 서로 맞닿은 경계면이 생긴다. (그림 1-29의 ㄱ)

전자반도체와 구멍반도체의 경계면에서는 확산현상에 의하여 전자반도체속에 있던 전자들은 구멍반도체속으로 퍼져들어가고 구멍반도체속에 있던 구멍들은 전자반도체속으로 퍼져들어간다. (그림 1-29의 ㄴ)

그러면 경계면을 지나 넘어간 전자들과 구멍들은 서로 결합하여 없

어지게 된다. 한편 <->전기를 띤 전도전자와 <+> 전기를 띤 구멍의 이동에 의하여 경계면을 사이에 두고 <+>전기를 띤 구멍이 들어간 전자반도체쪽에는 주개이온에 의해 <+> 전하층이 나타나고 <-> 전기를 띤 전자가 들어간 구멍반도체쪽에는 받개이온에 의해 <-> 전하층이 나타난다. (그림 1-29의 τ)

이런 과정으로 구멍반도체인 p형반도체와 전자반도체인 n형반도체의 경계면에서는 경계면을 사이에 두고 전도전자와 구멍이 쌓이게 된다. 결과 구멍과 전도전자에 의하여 경계면에는 전기마당이 생기는데 전기마당의 방향은 전자반도체로부터 구멍반도체로 향한다. (전자의 운동방향은 전류의 방향과 반대이다.)

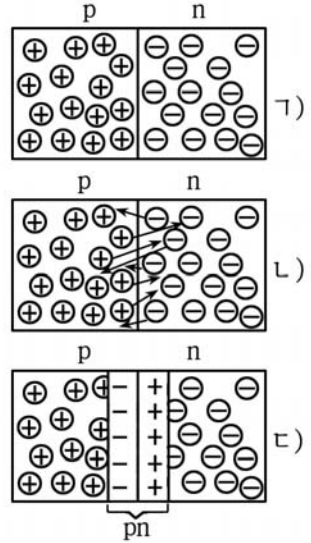


그림 1-29. pn이음이 생기는 과정

이러하여 n형반도체와 p형반도체의 경계면에서는 <+> 전기와 <-> 전기를 띤 전기2중층이 생기는데 이것을 **pn이음**이라고 부른다.

그러면 pn이음에 생긴 전기마당은 어떤 작용을 하는가를 보자.

pn이음에 생긴 전기마당은 방향이 n형반도체에서 p형반도체쪽으로 향하기때문에 전도전자가 p형반도체쪽으로, 구멍이 n형반도체쪽으로 계속 확산하는것을 방해하게 된다.

그러므로 경계면에 전기마당이 생기면 전도전자와 구멍은 경계면을 넘어 확산될수 없다. 즉 경계면에 생긴 전기마당은 마치 전도전자와 구멍의 이동을 막는 《장벽》과 같다. (그림 1-30)

그러므로 다시 확산현상이 일어나게 하려면 경계면에 생긴 전기마당의 세기를 변화시켜주어야 한다.

이것은 《장벽》의 높이를 낮추어주는 것과 같다.

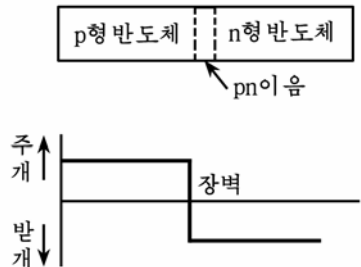


그림 1-30. pn이음에 생긴 장벽

전자공학에서는 pn이음의 이런 특수한 성질을 리용하여 전류를 한 쪽방향으로 흐르게 하거나 증폭하는것과 같은 반도체소자를 만든다.

pn이음의 성질을 전기저항으로 설명하자.

pn이음층에서는 전도전자와 구멍이 거의 없으므로 전류나르개가 없다. 때문에 pn이음의 전기저항은 대단히 크다. 결과 pn이음을 거쳐 전류가 흐르기 매우 힘들다.

이것은 pn이음이 전류나르개인 전도전자와 구멍의 이동을 막는 《장벽》과 같다는것을 알수 있다.

만약 경계면을 지나서 전류가 흐르게 하려면 pn이음으로 흐르는 전류의 세기를 외부전기마당으로 변화시킬수 있다.

2. 반도체2극소자의 구조와 정류작용

반도체2극소자란 pn이음을 사이에 두고 n형반도체와 p형반도체에 전극을 붙인 반도체소자를 말한다.

반도체2극소자의 구조와 외형을 그림 1-31에 보여주었다.

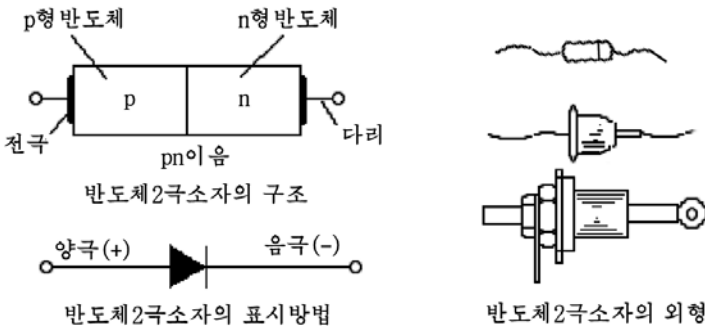


그림 1-31. 반도체2극소자의 구조와 외형

반도체2극소자는 한개의 pn이음이 들어있는 전자요소이다.

반도체2극소자의 기본작용은 정류작용이다.

전류를 한쪽방향으로만 잘 흐르게 하는 작용을 정류작용이라고 한다. (그림 1-32)

먼저 그림 1-32의 ㄱ)와 같이 건전지의 <+>극은 p형반도체에, <->극은 n형반도체에 련결하자. (정방향)

그러면 pn이음의 전기마당과 건전지가 만드는 외부전기마당이 반

대로 된다. 이 두 전기마당이 겹친 결과 pn이음의 전기마당은 약해진다. 이때 pn이음의 두께는 얇아지면서 전기저항은 작아진다. 그러므로 구멍과 전도전자들이 외부전기마당의 작용을 받으면서 경계면을 지나 잘 흐른다. 결과 전등에는 불이 켜지게 된다.

이 경우에는 n형반도체속에 있던 <-> 전기를 띤 전도전자들이 건전지의 <-> 극에 의하여 pn이음을 넘어 <+> 극으로 끌려가게 된다.

한편 p형반도체속에 있는 <+> 전기를 띤 구멍들은 건전지의 <-> 극에 의하여 pn이음을 넘어 <-> 극으로 끌려간다.

이처럼 반도체2극소자에서는 전자도 움직이고 구멍도 움직여 한 방향으로 전류가 흐르게 된다. 이렇게 반도체2극소자에서 p형반도체에 <+> 전압을 주고 n형반도체에 <-> 전압을 줄 때를 **정방향전압** 이라고 한다.

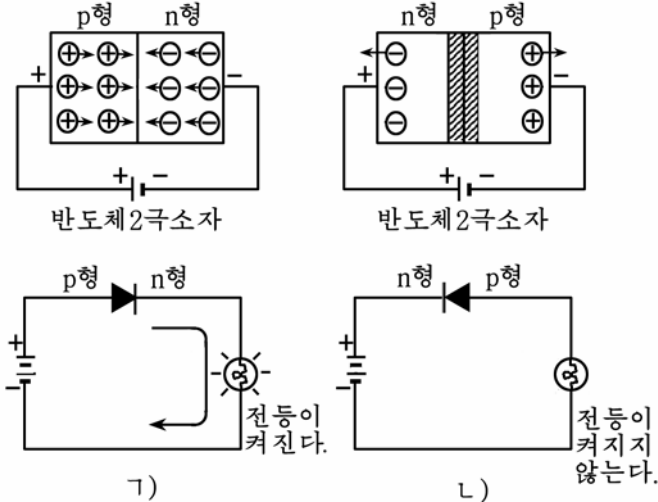


그림 1-32. 반도체2극소자의 정류작용

1) 정방향일 때, 2) 역방향일 때

다음에는 그림 1-32의 2)와 같이 n형반도체에 <+> 전압을, p형반도체에 <-> 전압을 주도록 연결하자. (역방향)

그러면 pn이음의 전기마당과 외부전기마당의 방향이 같아진다. 그러므로 pn이음속에서 전자와 구멍의 이동을 막는 전기마당이 매우 세지게 된다.

이때 pn이음의 두께가 늘어나며 그의 전기저항도 커져 전류가 흐르지 못한다. 그러므로 전등은 켜지지 않는다.

이 경우에는 p형반도체속에 있던 구멍들이 건전지의 <-> 극에 모두 끌려와서 p형반도체의 오른쪽끝에 가득 모이게 된다.

한편 n형반도체안에 있던 전자들은 건전지의 <+> 극에 모두 끌려와 n형반도체의 왼쪽끝에 가득 모이게 된다.

그리고 pn이음의 경계면에서는 장벽이 더욱 높아져 전류가 흐르지 못하게 된다.

이렇게 반도체2극소자에서 p형반도체에 <-> 전압을 주고 n형반도체에 <+> 전압을 줄 때를 **역방향전압**이라고 한다.

역방향전압을 대단히 높이 걸어주면 장벽이 무너지면서 《전자사태》가 생겨 큰 전류가 흐르게 되어 반도체2극소자가 파괴된다. 그러므로 반도체2극소자를 쓸 때에는 규정된 전압이상의 교류전압을 걸어주지 말아야 한다.

반도체2극소자에서 전압에 따라 전류의 세기가 어떻게 변하는가를 알아보기 위하여 정방향전압을 령으로부터 점차 높이면서 전류의 세기를 측정한 다음 역방향전압을 령으로부터 점차 낮추면서 전류의 세기를 측정한다.

이때 측정한 값을 가로(전압), 세로(전류의 세기)축에 표시하면 그림 1-33과 같이 된다.

그림에서 표시된 곡선 Γ -L-0- Γ - Γ 를 반도체2극소자의 **전압-전류특성곡선**이라고 부른다.

이 특성곡선으로부터 다음과 같은것을 알 수 있다.

정방향전압을 령으로부터 높이면 정방향의 전류가 천천히 커지다가(0-L) 전압이 일정한 값을 넘은 다음부터 전류의 세기가 급격히 커진다.(L- Γ)

다음 역방향전압도 령으로부터 높이면 역방향전류가 거의 일정하며 매우 작다.(0- Γ - Γ)

여기로부터 반도체2극소자는 정류특성을 가진다는것을 알 수 있다.

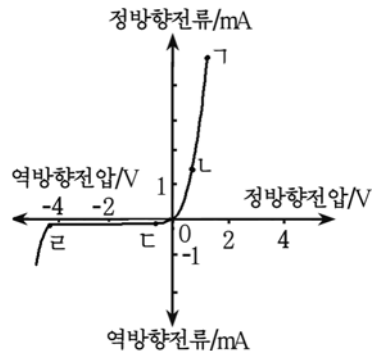


그림 1-33. 반도체 2 극소자의 전압-전류특성곡선

3. 반도체2극소자의 분류와 그 리용

반도체2극소자는 쓰이는 목적과 특성에 따라 정류소자, 검파소자, 전압안정2극소자, 가변용량2극소자 등으로 나눈다.

1) 반도체정류소자

정류소자란 교류를 직류로 바꾸어주는 반도체소자이다.

정류소자에서 기본은 면접촉2극소자이다. 면접촉2극소자는 pn이 음면의 면적이 넓고 기계적으로 든든하기때문에 큰 전류가 흐를수는 있지만 주파수특성이 낮다. 그러므로 낮은 주파수에서 동작하는 정류회로에 많이 쓰인다.

반도체정류소자를 쓸 때에는 다음과 같은 점들을 주의해야 한다.

① 온도가 지나치게 높아지지 않도록 하여야 한다.

반도체2극소자는 온도가 높아지면 특성이 나빠진다. 그러므로 반도체2극소자를 다른 가열체가 가까이 배치하지 말아야 하며 납땀할 때에는 반도체로부터 5mm이상 사이를 두고 납땀하여야 한다. 이때 온도는 150~180°C를 넘지 말아야 한다.

정류전류가 큰 반도체정류소자를 쓸 때는 반드시 방열판을 붙여 써야 한다.

② 특성이 같은 소자를 골라써야 한다.

반도체정류소자 한개가 해당 역전압에 견디지 못할 때에는 두개 혹은 몇개의 소자를 직렬연결하여 쓰는데 이때는 특성이 10%이상 차이 없는것으로 골라써야 한다. 또한 반도체정류소자 한개로 전류용량이 모자랄 때에는 몇개의 소자를 병렬연결하여 쓰는데 이때 정방향저항이 다르면 전류가 똑같이 갈라져 흐르지 않는다.

③ 역전압과 정류전류의 값을 편람이나 설명서에 써여있는 값보다 낮게 써야 한다.

2) 반도체검파소자

반도체검파소자란 검파에 쓰는 반도체 2 극소자를 말한다.

고주파에 섞여있는 저주파신호만을 골라내는 과정을 검파라고 한다. 그러므로 검파작용은 정류작용과 비슷하다.

검파할 때 거기에 걸리는 전압과 흐르는 전류가 매우 작으므로 이때 역전압이 낮고 정류전류가 작은 점접촉2극소자가 쓰인다.

검파소자는 정류소자와 달리 수백kHz이상의 고주파에서 쓰이므로 주파수특성이 좋아야 한다.

전자회로에서 검파소자의 표시방법은 정류소자의 표시방법과 같다.

3) 전압안정2극소자

전압안정2극소자란 전압을 안정시키기 위하여 쓰는 반도체2극소자를 말한다.

입구전압이 변동하여도 출구전압을 일정하게 유지하는것을 **전압안정**이라고 한다.

전압안정2극소자의 동작원리는 반도체2극소자의 전압-전류특성곡선에서 역방향전압을 pn이음의 절연과피전압까지 걸어주면 이때 역방향전류는 갑자기 커지지만 전압은 거의 일정하게 유지하는 성질에 기초한다. (그림 1-34)

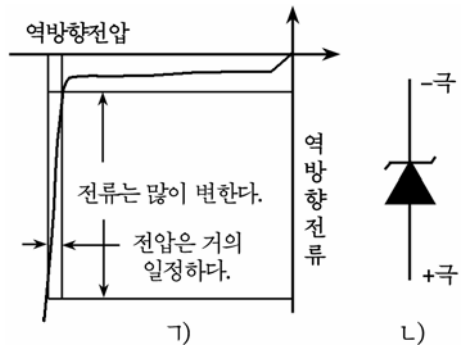


그림 1-34. 전압안정2극소자의 동작원리(가)와 회로표시방법(나)

그러므로 전압안정2극소자는 입구전압이 변하여도 출구전압을 일정하게 유지하기 위한 안정화회로와 전압제한회로 같은데서 리용한다. 전압안정2극소자는 역방향전압이 걸리도록 편결하여 쓴다.

4) 가변용량2극소자

가변용량2극소자란 전압을 변화시켜 용량을 조절할수 있게 만든 반도체소자이다.

용량을 변화시키는것을 **가변용량**이라고 한다.

가변용량2극소자의 동작원리는 반도체의 pn이음에서 그 경계면에 전자와 구멍의 결합으로 전하나르개가 적어져 마치 절연물을 사이에 두고 두 도체가 놓여있는 축전기의 원리와 유사한 현상에 기초하고있다. (그림 1-35)

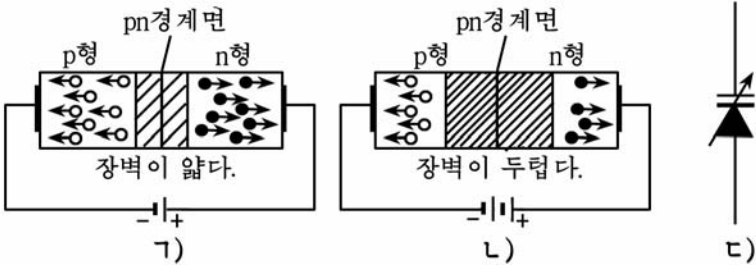


그림 1-35. 가변용량2극소자의 동작원리

- 1) 작은 역방향전압을 걸어주는 경우, 2) 큰역방향전압을 걸어주는 경우, 3) 회로표시방법

그림 1-35와 같이 반도체의 pn이음에 외부로부터 역방향전압을 걸어주면 그의 크기에 대응하여 《장벽》이 두터워진다. 그러면 절연물의 두께가 증가하는것으로 되어 용량이 작아진다.

가변용량2극소자는 이처럼 pn이음에 역방향전압을 조절하여 용량을 변화시킨다.

가변용량2극소자는 전자회로에서 가변축전기를 대신하여 주파수를 전기적으로 조절하는데 많이 리용한다.

연습문제

1. 고유반도체에서 구멍의 이동은 어떤 방법으로 이루어지는가?
2. 혼입물로는 왜 3 값원소와 5 값원소를 선택하는가?
3. p-n이음부는 외부전기마당의 세기가 변하면 왜 그의 저항과 두께가 변하는가?
4. 정방향전압과 역방향전압의 차이점을 말하여라.
5. 정류소자와 검파소자의 근본차이는 무엇인가?
6. 정류소자를 검파용으로, 검파소자를 정류용으로 쓸수 있는가?
7. 전압안정2극소자를 회로에 연결할 때 그의 음극과 양극에 어떤 극성의 전압을 걸어주어야 하는가?
8. 가변용량2극소자는 구조상 다른 2극소자들과 어떤 차이를 가지겠는가?

제5절. 반도체3극소자

1. 반도체3극소자의 구조와 동작원리

1) 반도체3극소자의 구조

반도체3극소자란 두개의 pn이음이 들어있는 반도체단결정에 세개의 전극을 붙인 반도체소자이다. 다시말하여 n형반도체를 가운데 두고 그 양옆에 p형반도체를 하나씩 붙이거나 혹은 p형반도체를 가운데놓고 그 양옆에 n형반도체를 하나씩 붙이고 세개의 전극을 뺀 반도체소자이다. (그림 1-36)

그림 1-36의 ㄱ)와 같이 반도체의 극이 pnp의 순서로 되어있는 3극소자를 pnp형반도체3극소자라고 부르고 그림 1-36의 ㄴ)와 같이 반도체의 극이 npn의 순서로 되어있는 3극소자를 npn형반도체3극소자라고 부른다.

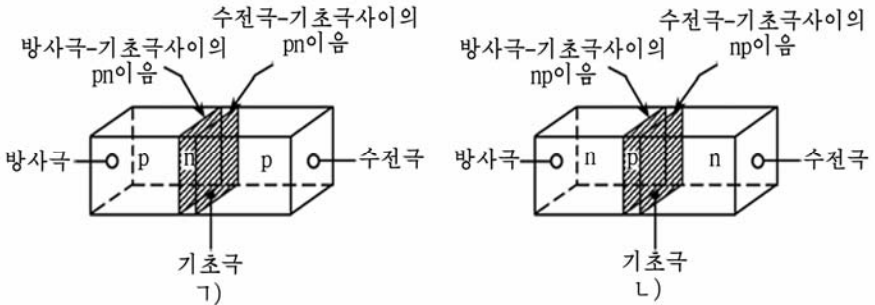


그림 1-36. 반도체3극소자의 구조

ㄱ) pnp 형반도체 3극소자, ㄴ) npn 형반도체 3극소자

pnp형반도체3극소자와 npn형반도체3극소자의 동작원리는 같은데 다만 전극들에 주는 전압의 극성이 다르다.

반도체3극소자는 세개의 극을 가지는데 가운데층에서 나온 극을 **기초극**, 그의 양쪽에서 나온 극을 각각 **방사극**, **수전극**이라고 부른다.

방사극은 전류나르개인 전자나 구멍을 내보내는 역할을 한다.

기초극은 반도체3극소자의 가운데 있으면서 방사극으로부터 수전극으로 가는 전자나 구멍들의 수를 조절하는 역할을 한다.

수전극은 방사극에서 튀어나오는 전자나 구멍들을 끌어당기는 역할을 한다.

반도체3극소자는 방사극과 기초극사이, 기초극과 수전극사이 에 두개의 pn이음을 가지는데 이 pn이음의 동작원리는 반도체2극소자에서와 같다.

반도체3극소자가 동작하려면 매개의 전극에 알맞는 전압극성을 주어야 한다.

npn형반도체3극소자에서는 방사극이 n형반도체이므로 그속에 있는 전자를 수전극으로 끌어오려면 방사극에 <-> 전압을 주고 수전극에 <+> 전압을 걸어주어야 한다.

반대로 pnp형반도체3극소자에서는 방사극이 p형반도체이므로 그속에 있는 전류나르개인 구멍을 수전극으로 끌어오려면 방사극에 <+> 전압을 걸어주고 수전극에는 <-> 전압을 걸어주어야 한다.

여기로부터 반도체3극소자를 회로에 표시할 때 방사극에 화살표로 npn형 또는 pnp형반도체3극소자를 구별하여준다.(그림 1-37)

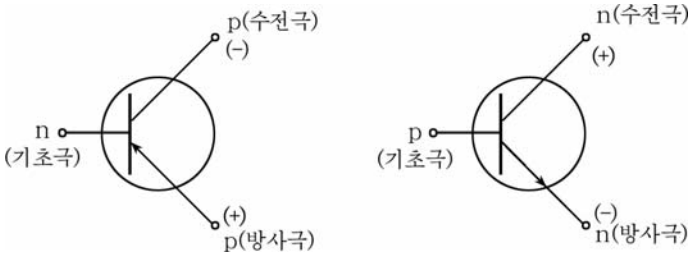


그림 1-37. 반도체3극소자의 회로표시방법

ㄱ) pnp 형, ㄴ) npn 형

2) 반도체3극소자의 동작원리

(1) 방사극과 기초극사이 에 정방향전압을 준 경우(그림 1-38)

방사극은 n형반도체이므로 전도전자를 많이 가지고있다. 그러나 기초극은 p형반도체로 되어 매우 얇은 두께를 가지면서 구멍을 방사극의 전자보다 훨씬 적게 가진다. 그러므로 그림 1-38의 ㄴ)와 같이 방사극과 기초극사이의 pn이음에 정방향전압을 걸어주면 방사극전류가 흐른다. 이때 전류나르개는 전자이다.

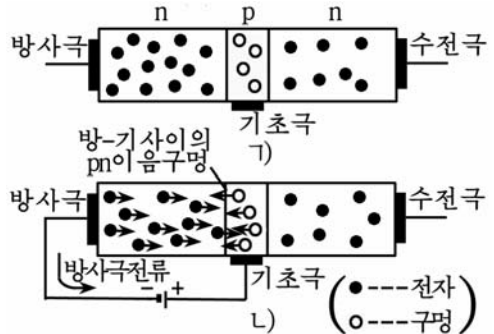


그림 1-38. npn형반도체3극소자에서 방사극과 기초극에 정방향전압을 걸어준 경우

ㄱ) npn 이음, ㄴ) 동작원리

(2) 수전극과 기초극사이에 역방향전압을 준 경우(그림 1-39)

수전극과 기초극사이에 역방향전압을 주었을 때 수전극과 기초극사이의 pn이음에서는 매우 작은 역방향전류만 흐른다.

그러나 수전극과 기초극사이에서는 역방향전압에 의하여 장벽이 두터워지면서 높은 전기마당이 걸리게 된다. 그러므로 방사극으로부터 기초극에 들어온 전자들은 이 전기마당에 의하여 가속되어 수전극으로 들어가 수전극 전류로 된다.

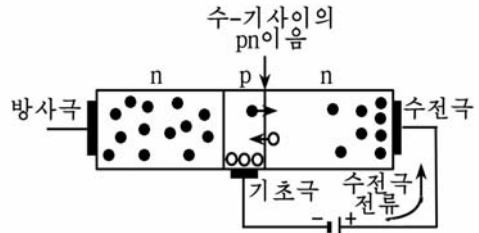


그림 1-39. npn형반도체3극소자의 수전극과 기초극사이에 역방향전압을 걸어준 경우

(3) 반도체3극소자의 동작과정

반도체3극소자가 동작하려면 방사극과 기초극사이에는 정방향전압을 걸어주고 수전극과 기초극사이에는 역방향전압을 걸어주어야 한다. (그림 1-40)

이때 반도체3극소자의 방사극과 기초극은 한개의 반도체2극소자로 볼수 있으므로 결국 이것은 반도체2극소자에 정방향전압을 준 경우와 같다. 즉 방사극인 n형반도체속의 <-> 전자들은 정방향전압에

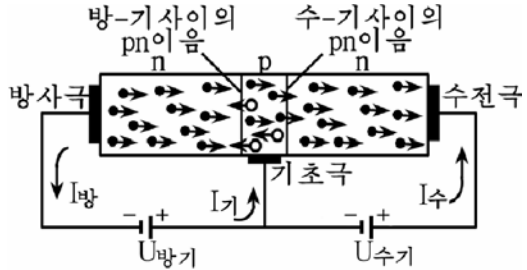


그림 1-40. npn형반도체3극소자의 동작과정

의하여 pn경계면을 넘어 기초극인 p형반도체를 지나 전원의 <+> 극으로 끌려가게 된다.

한편 기초극인 p형반도체속에 있는 <+> 전기를 가진 구멍들은 방사극과 기초극에 걸어준 전원의 <-> 극에 의하여 방사극인 n형반도체를 거쳐 전원의 <-> 극으로 끌려가게 된다.

반도체3극소자의 기초극두께는 대단히 얇으므로 방사극에서 나온 <->전자가 기초극을 넘어 수전극까지 간다. 이때 수전극과 기초극사이에는 역방향전압을 걸어주었으므로 방사극에서 튀어나와 기초극에 걸어준 전원에 의하여 <+> 극으로 들어간다.

결국 방사극에서 튀어나온 <-> 전자들의 일부는 기초극으로, 나머

지 대부분의 전자들은 수전극으로 이동하여 결국 수전극과 기초극사이에 걸어진 전원의 <+> 극으로 흘러가게 된다.

그림 1-40에서 방사극과 기초극사이에 걸어진 전원에 의하여 흐르는 전류를 **기초극전류**라고 하며 수전극과 기초극사이에 걸어진 전원에 의하여 수전극으로 흐르는 전류를 **수전극전류**라고 한다.

그리고 전자를 내보내는 방사극으로 흐르는 전류를 **방사극전류**라고 한다.

방사극전류는 기초극전류와 수전극전류를 합한것으로 된다.

반도체3극소자에서는 방사극을 떠난 전류나르개의 2~5%가 기초극으로 가며 나머지 95~98%는 수전극으로 간다.

방사극전류를 100%라고 할 때 기초극전류는 2~5%이고 수전극전류는 95~98%이다.

실례로 어떤 반도체3극소자에서 기초극전류가 2%이고 수전극전류가 98%라고 하면 기초극전류 1%에 대하여 수전극전류가 49%로 된다. 다시말하여 반도체3극소자의 기초극에 1mA의 작은 전류를 주면 그것이 증폭되어 수전극에서 49mA의 큰 전류를 얻을수 있다는것이다. 때문에 반도체3극소자에서는 기초극에서 전류를 약간 변화시켜도 수전극에서는 매우 큰 전류의 변화를 얻는다.

바로 이것이 반도체3극소자에서 전류를 증폭하는 원리이다.

전자공학에서는 기초극전류의 변화량에 대한 수전극전류의 변화량을 **전류증폭결수**라고 하고 β (베타)로 표시한다.

즉 전류증폭결수 β 는 다음과 같다.

$$\beta = \frac{\text{수전극전류의 변화량}}{\text{기초극전류의 변화량}}$$

반도체3극소자에서 방사극전류보다 수전극전류가 더 작는데 어떻게 증폭작용을 하겠는가?

그것은 방사극과 기초극사이에 정방향전압을 걸어주었으므로 그사이의 저항이 매우 작고(수십 Ω 정도) 수전극과 기초극사이에 역방향전압을 걸어주었으므로 그사이의 저항이 대단히 크기때문이다. (수MQ정도)

옴의 법칙에 의하여 방사극과 기초극사이의 전압은 방사극과 기초극사이의 저항에 방사극전류를 곱한것이며 기초극과 수전극사이의 전압은 기초극과 수전극사이의 저항에 수전극전류를 곱한것이다.

그러므로 방사극전압에 비한 수전극전압을 전압증폭결수로 표시하면 다음과 같다.

그런데 방사극전류와 수전극전류는 거의 같으므로 전압증폭결수는 다음식으로 표시할수 있다.

$$\text{전압증폭결수} = \frac{\text{수전극전압}}{\text{방사극전압}} = \frac{r_{\text{수}} I_{\text{수}}}{r_{\text{방}} I_{\text{방}}} \approx \frac{r_{\text{수}}}{r_{\text{방}}}$$

만일 방사극과 기초극사이의 저항이 100Ω 이고 수전극과 기초극사이의 저항이 $1M\Omega$ 이라면 전압증폭결수는 1만배로 될것이다.

이와 같이 반도체3극소자는 작은 전류나 전압을 증폭한다.

2. 마당효과반도체3극소자의 구조와 동작원리

1) 마당효과반도체3극소자의 구조

반도체3극소자에는 npn형반도체3극소자와 pnp형반도체3극소자밖에도 마당효과반도체3극소자라는 반도체소자가 있다.

npn형반도체3극소자나 pnp형반도체3극소자에서는 전류나르개로 전자와 구멍이 함께 쓰이였지만 마당효과반도체3극소자에서는 전류나르개로 전자나 구멍가운데서 어느 하나만 쓰인다.

그러므로 npn형반도체3극소자나 pnp형반도체3극소자를 쌍극성반도체3극소자라고 부르고 마당효과반도체3극소자를 단극성반도체3극소자라고 부른다.

쌍극성반도체3극소자는 전류에 의하여 조절되였지만 마당효과반도체3극소자는 전압에 의하여 조절된다.

npn형반도체3극소자나 pnp형반도체3극소자는 입구에 정방향전압을 걸어주므로 입구저항이 작은것이 결함이다.

그러나 마당효과반도체3극소자는 입구저항이 대단히 크다. 때문에 증폭기와 같은데서 입구신호와 증폭단사이에 입구저항을 정합시키는데 많이 쓰인다.

마당효과반도체3극소자에는 이음형마당효과반도체3극소자와 금속산화물 반도체마당효과3극소자가 있다.

이음형마당효과반도체3극소자의 구조는 다음과 같다. (그림 1-41)

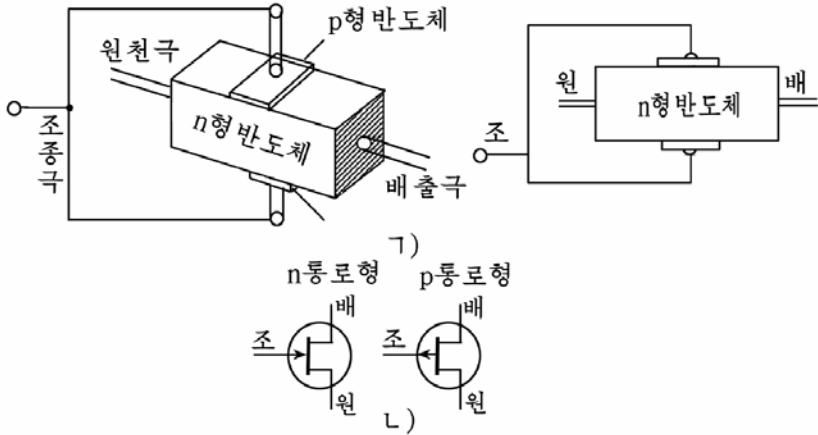


그림 1-41. 이음형마당효과반도체3극소자의 구조(A)와 회로표시방법(B)

그림에서 보는것처럼 직4각형인 n형반도체에서 양쪽에 전극을 붙여 한쪽은 원천극으로, 다른쪽은 배출극으로 만들었다.

그리고 n형반도체의 아래와 윗면에는 p형반도체를 가지고 pn이음을 만들어주고 여기에 전극을 붙여 조종극으로 만들었다.

여기서 원천극은 쌍극성반도체 3극소자의 방사극과 같이 전류나르개를 내보내는 원천지이다.

그리고 배출극은 쌍극성반도체 3극소자의 수전극과 같이 전류나르개를 받아들이는 전극이다.

또한 조종극은 쌍극성반도체 3극소자의 기초극과 같이 전류나르개의 흐름을 조절하는 전극이다.

직4각형인 n형반도체는 통로라고 부르는데 이것은 전류나르개가 흐르는 길이다.

만약 통로가 n형반도체일 때에는 n통로형마당효과반도체3극소자라고 하고 통로가 p형반도체일 때에는 p통로형마당효과반도체3극소자라고 부른다.

2) 마당효과반도체3극소자의 동작원리

n통로형마당효과반도체3극소자에서는 배출극에 <+> 전압을 걸어주고 원천극에는 <-> 전압을 걸어준다. 그리고 조종극에는 pn이음층의 역방향전압을 걸어주어 전류나르개의 흐름을 조절한다.(그림 1-42)

그림에서 보는것처럼 조종극에 역방향전압을 걸어주면 pn이음층의 두께가 넓어져 전류나르개의 통로가 좁아진다. 그러면 통로의 저항이 커지면서 원천극으로부터 배출극으로 움직이는 전류나르개의 수가 적어진다.

이와 같이 마당효과반도체3극소자는 조종극에 걸어주는 전압값에 따라 원천극과 배출극사이의 저항을 변화시켜 전류를 조절한다. 다시말하여 배출극과 원

천극사이에 걸어주는 전기마당(전압)에 의하여 전류가 흐르게 되고 조종극에 걸어준 전기마당에 의하여 흐르는 전류가 조절된다.

마당효과반도체3극소자는 이러한 원리에 의하여 증폭작용을 한다.

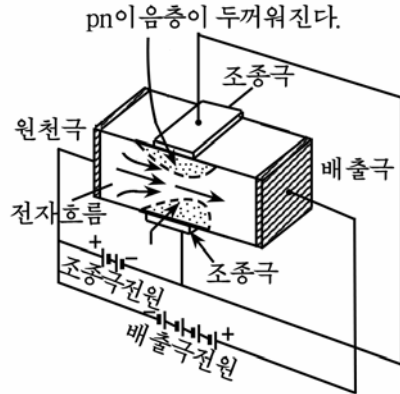


그림 1-42. n통로형이음층마당효과 반도체3극소자의 동작과정

3. 반도체3극소자의 연결회로와 자호표시방법

1) 반도체3극소자의 기본연결회로

반도체3극소자를 전자회로에 리용할 때에는 입구회로와 출구회로가 있어야 한다.

여기서 입구회로라는것은 증폭하려는 작은 신호가 들어오는 회로이고 출구회로라는것은 증폭된 신호를 내보내는 회로이다.

반도체3극소자를 전자회로에 이어서 쓸 때에는 방사극, 기초극, 수전극가운데서 어느 하나를 공동으로 하여 입구회로와 출구회로를 이룬다.(그림 1-43)

분류	기초극공동회로	방사극공동회로	수전극공동회로
n p n 형			
p n p 형			

그림 1-43. 반도체3극소자의 세가지 연결방식

그러므로 반도체3극소자의 연결회로는 어느 전극을 공동으로 쓰는가에 따라 기초극공동회로, 방사극공동회로, 수전극공동회로로 나눈다.

기초극공동회로에서는 기초극을 입구회로와 출구회로에 공동으로 하고 방사극과 기초극을 입구회로로, 기초극과 수전극을 출구회로로 하였다.

기초극공동회로의 우점은 동작이 안전한것이고 결함은 입구저항이 작은것이다.

방사극공동회로에서는 방사극을 입구회로와 출구회로에 공동으로 하고 기초극과 방사극은 입구회로로, 수전극과 방사극은 출구회로로 하였다.

방사극공동회로의 우점은 전력증폭을 크게 한다는것과 입구저항과 출구저항의 차이가 적은것이다.

따라서 증폭회로에서 많이 쓰인다. 그러나 결함은 기초극공동회로에 비하여 안전하지 못하고 주파수한계가 낮은것이다.

수전극공동회로는 수전극을 입구회로와 출구회로에 공동으로 하고 기초극과 수전극을 입구회로로, 수전극과 방사극을 출구회로로 리용한것이다.

수전극공동회로의 우점은 입구저항이 큰것이다. 따라서 신호원천과 반도체회로를 결합시킬 때 많이 리용한다.

그러나 증폭도는 거의 1이다.

수전극공동회로를 **방사극반복기**라고도 부른다.

2) 반도체소자의 자호표시법

(1) 반도체소자의 자호구성

- ① 반도체소자의 자호는 문자와 수자로써 구성한다.
- ② 문자는 우리 나라 문자로써 표시한다. (례;가, 나, 다, 라, ...)
- ③ 수자는 두자리 또는 세자리수로 구성되며 첫 열개의 자연수(0, 1, 2, 3, 4, 5, 6, 7, 8, 9)로 표시한다.

(2) 자호순서와 표시방법

자호순서는 처음에 문자를 쓰고 런달아 수자를 2개 또는 3개 써야 한다. 즉

문자	수자	수자	수자
①	②	③	④

또는

문자	수자	수자
①	②	③

수자 ②가 0인 경우에는 표시하지 않으며 수자 ③과 수자 ④만을 표시한다.

※ 반도체3극소자에서 고주파소자는 한계주파수가 30MHz이상이고 저주파소자는 30MHz까지이다.

표 1-2에서 $P_{수}$ 는 반도체3극소자의 수전극에 생기는 가장 큰 손실전력을 의미한다. 수전극으로 전류가 흐르면 전력은 열로 넘어간다. 이와 같이 수전극에서 절로 소비된 전력을 **수전극손실전력**이라고 하는데 이것이 크면 열이 많이 나서 반도체가 못쓰게 된다.

그러므로 반도체가 못쓰게 되지 않을 정도로 열을 내는 손실전력을 가장 큰 손실전력이라고 한다. 정류전류는 정류소자가 정류할 때 최대로 흘릴수 있는 전류를 의미한다.

반도체소자의 자호표시

표 1-2

문자 ①의 표시		수자 ②의 표시		수자 ③과 수자 ④의 표시
소자의 종류를 표시		소자의 기본정수(출력, 전압, 전류 등)의 구조에 의한 분류를 표시		소자의 개발순서 또는 내부 분류를 표시
기호	의미	기호	의미	
가	pnp고주파3극 소자	0, 1, 2, 3, 4, 5, 6, 7, 8, 9	$P_{수} \leq 0.3W$ $P_{수} = 0.3 \sim 1W$ $P_{수} \geq 1W$	〃
나	pnp저주파3극 소자			
다	nnp고주파3극 소자			
라	nnp저주파3극 소자			
마	마당효과3극소자	0, 1, 2, 3, 4	이음형마당효과 3극소자	〃
		5, 6, 7, 8, 9	금속산화물마당 효과3극소자	
검	검파2극소자	홀수(1, 3...)	게르마늄소자	〃
		짝수(2, 4...)	규소소자	
안	전압안정소자	0, 1, 2, 3	$P < 0.3 W$	〃
		4, 5, 6	$0.3W \leq P \leq 6W$	
		7, 8, 9	$P > 6W$	
빛	빛소자	0, 1, 2, 3, 4, 5, 6	빛3극소자	〃
		7, 8, 9	빛2극소자	
정	정류소자	0, 1, 2, 3	$I_{정류} < 1A$	소자의 개발순서 또는 내부 분류를 표시
		4, 5, 6	$I_{정류} = 1 \sim 100A$	
		7, 8	$I_{정류} > 100A$	
		9	조립형(묶음형)	
		0	극소형, 적층형	
조	조정용정류소자	0, 1, 2, 3	$I_{정류} < 1A$	〃
		4, 5, 6	$I_{정류} = 1 \sim 100A$	
		7, 8, 9	$I_{정류} > 100A$	

아주 작은 반도체소자는 표 1-3과 같이 색깔로 표시할수 있다.

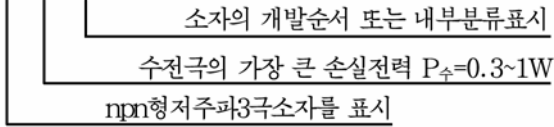
- ① 문자는 자리만 내놓고 색표시는 정(양극)부터 시작한다.
- ② 바탕색같이 표시할 색깔과 같을 때에는 자리만 내놓는다.
- ③ 색깔의 크기와 형태는 개별소자규격에 따른다.

반도체소자의 색깔표시

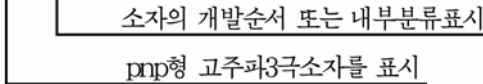
표 1-3

수자	0	1	2	3	4	5	6	7	8	9
색갈	검은색	밤색	붉은색	감색	누런색	풀색	푸른색	보라색	재색	흰색

실례 : 라 4 2 9



가 5 1



《가51》은 《가051》에서 <가>와 <5> 사이에 있는 <0>을 쓰지 않은것이다.

그러므로 여기서 <0>은 $P_{수} < 0.3W$ 를 의미한다.

4. 반도체3극소자의 분류와 그 리용

1) 반도체3극소자의 분류

① 반도체 3극소자는 만든 재료에 따라 규소반도체 3극소자와 게르마늄반도체 3극소자로 나눌수 있다.

② 반도체소자의 기본전류나르개에 따라 npn형반도체 3극소자와 pnp형반도체 3극소자로 나눈다.

③ 반도체 3극소자는 동작주파수에 따라 저주파용 3극소자, 중간주파용 3극소자, 고주파용 3극소자, 초고주파용 3극소자로 나눈다.

여기서 저주파용 3극소자는 주파수가 3MHz아래에서 쓰이고 중간주파용 3극소자는 주파수가 30MHz부터 300MHz인데서 쓰이고 초고주파용 3극소자는 주파수가 300MHz이상인데서 쓰인다.

④ 반도체 3극소자는 출력에 따라 소출력소자, 중출력소자, 대출력소자로 나눈다.

여기서 소출력소자는 소비전력이 0.3W아래인 소자이고 중출력소자는 소비전력이 0.3W부터 1.5W사이에 쓰이는 소자이다. 그리고 대출력소자는 소비전력이 1.5W이상인 소자이다.

⑤ 반도체3극소자는 동작원리에 따라 쌍극성반도체3극소자(npn형반도체3극소자와 pnp형반도체3극소자)와 마당효과반도체3극소자로 나눈다.

2) 반도체3극소자의 리용

반도체3극소자를 전자회로에서 리용할 때에는 그의 종류와 특성 및 다리번호를 반도체편람에서 찾아야 한다.

여기서 중요한것은 전극들사이에 걸어줄수 있는 최대허용전압과 전류 그리고 온도가 주어진 조건에서 반도체3극소자가 소비하는 전력을 잘 타산하는것이다.

이것을 **최대정격값**이라고 부르는데 반도체3극소자에서는 이러한 최대정격값을 넘게 하면 반도체소자의 수명이 짧아지고 특성이 나빠지며 순간적으로 못쓰게 될수 있다.

그러므로 반도체3극소자를 안정하게 동작시키자면 최대정격값보다 70~80% 아래에서 리용해야 한다.

특히 수전극에 최대전압을 걸어주고 최대전류를 흐르게 하여 최대전력을 소비하게 하는것과 같은 현상은 절대로 없어야 한다.

다음 반도체3극소자를 리용할 때 반도체소자의 자호를 보고 pnp형인가, npn형인가를 확인한 다음 전원의 극성을 선택하여야 한다.

반도체3극소자의 다리번호는 편람이나 사용설명서에서도 찾아볼수 있지만 다음과 같은 방법으로 찾아볼수 있다.(그림 1-44)

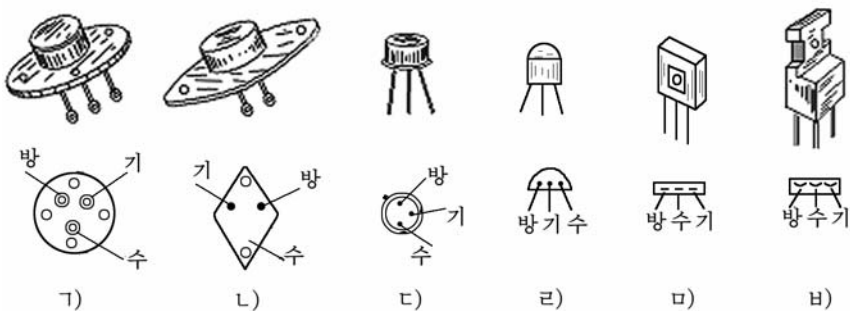


그림 1-44. 반도체3극소자의 다리찾기방법

그림 1-44의 ㄱ)는 수전극이 반도체소자의 외함에 이어져있으므로 반도체소자의 외함이 수전극으로 된다. 이때에는 수전극을 기준하여 시계바늘이 돌아가는 방향으로 수전극, 방사극, 기초극순서로 정한다.

그림 1-44의 ㄴ)에서와 같이 수전극다리가 따로 없이 랭각틀로 되어 있는 경우에는 그림과 같이 다리순서가 배치된다. 즉 반도체3극소자를 뒤집어놓았을 때 마주 향해서 왼쪽이 기초극이고 오른쪽이 방사극이다.

그림 1-44의 ㄷ)와 같이 턱이 있는 3극소자는 그것을 뒤집어놓았을 때 턱을 기준으로 시계바늘과 같은 방향으로 돌아가면서 방사극, 기초극, 수전극의 순서로 다리가 배치된다.

그림 1-44의 ㄹ), ㅁ)와 같은 반도체3극소자들은 다리의 배치가 일직선으로 배열되어있다. 이때 반도체소자의 다리는 왼쪽으로부터 방사극, 수전극, 기초극의 순서로 놓여있는것이 많다.

반도체3극소자를 다룰 때 다음과 같은 점에 주의해야 한다.

① 규정된 온도이상으로 열이 나지 않게 해야 한다.

게르마늄반도체3극소자는 온도가 55°C이상 넘으면 특성이 변하며 규소 반도체3극소자는 온도가 150°C이상 넘으면 특성이 변한다. 그러므로 전압, 전류를 정격값이하에서 사용해야 한다. 출력소자들은 수전극에 랭각판을 달아 주어 열이 나지 않게 해야 한다. 반도체3극소자를 납땜할 때 다리를 핀셋으로 잡고 짧은 시간에 해야 한다.

② 특성이 같은것으로 골라써야 한다.

③ 심한 타격이나 진동을 주지 말아야 한다.

[상식] 첫 반도체소자의 발명

1931년에 반도체에 대한 리론이 나오면서 반도체에 대한 리론적연구가 심화되고 그 제작기술이 발전하여 1940년에는 게르마늄2극소자가 개발되었다.

그후 1948년에는 쇼크리에 의하여 반도체접점3극소자가 개발되었으며 이때로부터 반도체에 대한 연구사업이 본격적으로 진행되었다. 전자관이 발명된 이후 반도체3극소자의 발명은 전자공학분야에서의 또 하나의 《기술혁명》이었다.

1950년에는 빛반도체3극소자, 1951년에는 접합반도체3극소자를 만들어내는데 성공하였으며 1952년에 락스정제법으로 불순물함량이 10^9 이하(순도가 99.9999999%이상)인 매우 순수한 반도체를 생산할수 있게 되었다.

연습문제

1. 3극소자의 구조를 왜 2극소자의 기호로 표시하는가?
2. 3극소자에서 왜 기초층은 두께를 얇게 하며 기본나르개의 수를 작게 하는가?
3. 3극소자에서 왜 기초극전류가 흘러야 수전극전류가 흐르게 되는가?
4. pnp형 3극소자의 동작원리를 설명하여라.
5. 기초극접지회로의 동작과정을 그림을 그리고 설명하여라.
6. 3극소자의 전원공급방법에 대하여 설명하여라.
7. 방사극접지회로에서 방사극-기초극 pn이음부의 저항은 $10\ \Omega$ 이고 부하저항은 $10k\Omega$ 이다. 기초극전류가 $2mA$, 전류증폭결수 $\beta=100$ 일 때 전압증폭결수는 얼마인가?

제6절. 반도체빛소자

반도체빛소자에는 반도체빛저항기, 반도체빛2극소자, 반도체빛3극소자가 있다.

1. 반도체빛저항기

반도체빛저항기란 반도체에 빛을 쬐어줄 때 저항이 작아지는 성질을 이용한 저항기를 말한다.

반도체빛저항기는 빛을 비쳐주지 않을 때에는 저항이 매우 크지만 (수~수백M Ω) 빛을 비쳐주면 저항이 수k Ω 으로 작아진다.

그림 1-45에서 빛저항기의 구조를 보여주었다.

반도체빛저항기는 유리판과 그우에 입힌 반도체층 그리고 그의 양끝에 전극을 붙이고 빼낸 련결단자가 있다.

반도체층의 표면에는 습기를 막기 위하여 라크를 칠하였다.

반도체빛저항기는 가로등을 자동적으로 켜거나 끄는 회로, 제품의 수를 세

는 계수기, 빛전기식계전기와 같은 장치들에서 수감요소로 널리 쓰인다.

빛저항기는 일반적으로 극성이 없기때문에 전원의 극성을 마음대로 바꿀수 있다.

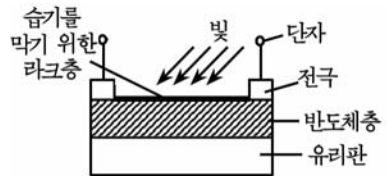


그림 1-45. 반도체빛저항기의 구조

2. 반도체빛2극소자

반도체빛2극소자란 빛에너지를 전기에너지로 바꾸어주는 반도체 2극소자를 말한다.

반도체빛2극소자의 작용원리는 pn이음에서 빛에너지에 의하여 전자-구멍쌍이 생겨 전류가 흐르는데 기초한다.

그림 1-46에서 게르마늄반도체빛2극소자의 구조를 보여주었다.

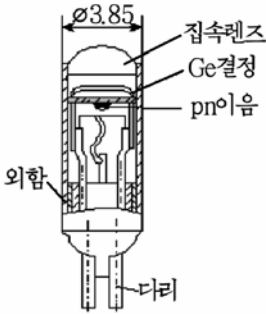


그림 1-46. 게르마늄 반도체빛 2 극소자

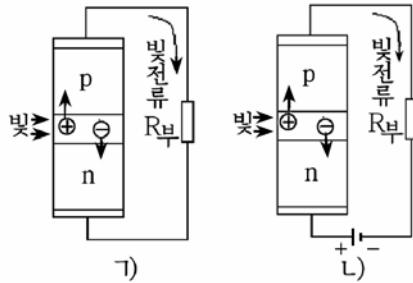


그림 1-47. 반도체빛 2 극소자의 동작원리

1) 외부회로에 전원이 없는 경우,
2) 전원이 있는 경우

빛은 집속렌즈를 통하여 빛2극소자와 pn이음에 비추게 되어있다.

빛2극소자는 그림 1-47의 1)와 같이 전원을 연결하지 않은 상태에서는 빛을 전혀 비추지 않으면 외부회로로 아무런 전류도 흐르지 않는다.

그러나 pn이음에 빛을 비추면 빛에너지에 의하여 결정을 이루고 있는 원자들의 공유결합에서 전자들이 떨어져나와 pn이음층의 전기마당의 작용을 받아 구멍은 p형반도체로, 전자는 n형반도체로 들어간다.

이 결과 p형반도체에는 구멍이, n형반도체에는 전자가 쌓이게 된다. 따라서 빛2극소자의 두 단자에는 전위차가 생기며 이것에 의하여 빛전류가 흐른다. 이 전류는 빛의 세기에 비례한다.

다음 그림 1-47의 2)와 같이 외부회로에 전원을 연결하여주면 보다 큰 전류를 얻을수 있다.

여기서 전원은 역방향으로 연결되어있으므로 역방향저항은 작아진다. 따라서 빛을 비추지 않을 때에는 역전류만 흐른다.

그러나 빛을 비추면 pn이음에 전자-구멍쌍이 생겨 이것들은 경계면의 역방향저항이 작아진것만큼 더 쉽게 n형반도체와 p형반도체로

들어간다. 이 결과에 얻은 전위차에 의하여 큰 전류가 흐르게 된다.

빛2극소자는 빛계전기와 같은데 많이 쓰인다.

3. 반도체빛3극소자

반도체빛3극소자란 빛에너지를 전기에너지로 바꾸어주는 반도체 3극소자를 말한다.

반도체빛3극소자는 두개의 pn이음을 가진 빛전기소자로서 증폭작용까지 할수 있다.

그림 1-48에서 빛3극소자의 구조와 동작원리를 보여주었다.

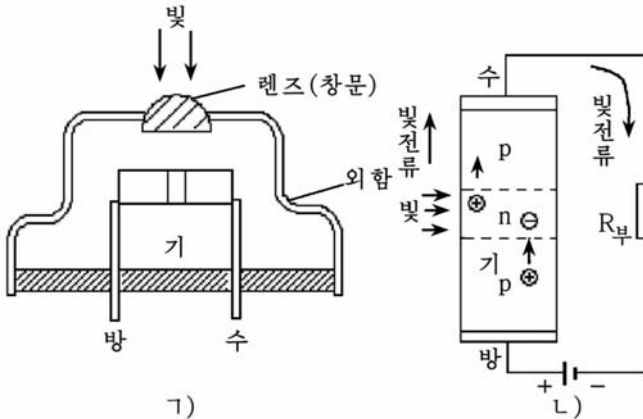


그림 1-48. 반도체빛3극소자의 구조(가)와 동작원리(나)

빛3극소자의 구조는 빛2극소자에 증폭작용을 할수 있도록 수전극을 더 붙이고 기초극에는 단자대신 창문을 내어 빛이 들어오게 되어있다.

빛3극소자의 창문으로 빛이 들어오면 기초극안에서 전자와 구멍이 생긴다. 구멍은 수전극이음을 거쳐 p형수전극반도체로 들어가지만 전자는 역전압의 작용으로 수전극으로 넘어가지 못한다.

한편 기초극안에 생긴 전자들에 의한 전기마당의 작용으로 방사극이음의 장벽은 낮아져 방사극에 있는 구멍들이 기초극으로 넘어간다. 이와 같이 계속 구멍들이 수전극으로 넘어가면서 빛전류를 흐르게 한다.

빛3극소자는 빛2극소자보다 빛수감도가 크다. 그러므로 빛여닫개, 광학록음을 비롯한 빛전기회로에 널리 쓰인다.

반도체빛3극소자는 규소나 게르마늄을 써서 npn형이나 pnp형으로 만든다.

제7절. 집적회로

위대한 령도자 김정일대원수님께서서는 다음과 같이 말씀하시였다.

《집적회로소자를 개발하는것은 전자공업을 발전시키는데서 기본입니다. 전자공업발전은 집적회로소자를 만드는데로부터 시작됩니다.》

현시기 과학기술발전에서 큰 힘을 넣어야 할 분야의 하나는 극소형전자부문이다.

이 부문에서 중심을 이루는것은 여러가지 집적회로를 만들어내는것이다. 그러므로 집적회로소자를 개발하고 만들어내는것은 전자공업을 발전시키는데서 기본으로 된다.

위대한 수령 김일성대원수님과 위대한 령도자 김정일대원수님의 현명한 령도에 의하여 오늘 우리 나라에는 현대적인 집적회로생산기지가 튼튼히 꾸려져 인민경제를 자동화, 현대화할수 있는 전자요소들이 수많이 생산되고있다.

우리는 현대적인 전자요소들을 더 많이 개발리용하는데서 나서는 과학기술적문제를 풀기 위하여 이 부문에 대한 학습을 잘하여야 한다.

이 절에서는 집적회로의 개념과 종류, 표시방법, 다리찾기방법에 대하여 학습하게 된다.

1. 집적회로에 대한 일반개념

1) 집적회로란 무엇인가

집적회로란 수많은 전자요소들을 하나의 작은 반도체결정속에 집어넣어 서로 뿔수 없게 연결하여 그것이 어떤 회로적기능을 수행하도록 만든 전자요소를 말한다. 다시말하여 집적회로는 회로를 모아쌓았다는 뜻이다. 집적회로는 간단히 IC(아이씨)라고도 부른다. (그림 1-49)

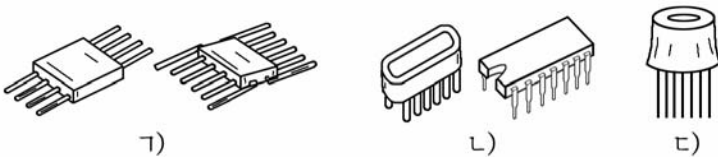


그림 1-49. 집적회로의 외형

가) 양쪽다리뿔침형, 나) 양쪽다리구부림형, 다) 한쪽다리뿔침형

집적회로는 어떤 특징을 가지고있는가?

우점

① 집적회로를 쓴 전자장치는 다른 반도체장치보다 고장이 적고 믿음성이 대단히 높다.

그것은 전자장치들에서의 고장이 주로 전자요소들을 연결하는 납땀부분에서 생기는데 집적회로에서는 이러한 납땀부분이 없으므로 고장은 거의 없다.

② 집적회로를 쓰면 전자장치들의 동작속도가 매우 빨라진다.

그것은 개별적인 소자들로 전자장치를 만들면 전기배선의 길이가 길어지고 주파수특성이 나빠지며 동작속도가 떨어지게 된다. 그러나 집적회로에서는 요소 한개의 크기가 매우 작고 그것들이 모두 한개의 조각안에 들어가서 연결되므로 동작속도가 매우 빨라진다.

③ 집적회로를 쓴 전자장치들은 체적이 매우 작고 질량이 가볍다.

반도체집적회로에서는 1cm^2 속에 백만여개의 전자요소들을 집어넣을 수 있다.

④ 집적회로를 쓴 전자장치들은 전력소비가 아주 작다.

⑤ 집적회로를 쓰면 전자장치들의 값이 낮아지고 많은 로력과 자재를 절약할수 있다.

결함

① 집적회로속에 만들수 있는 저항기의 저항값과 축전기의 용량값이 제한되어있는것이다.

② 집적회로속에 유도도 L은 만들수 없는것이다.

③ 집적회로속에 있는 반도체소자들의 주파수특성이 제한된다는 것이다.

집적회로는 이러한 결함을 가지고있지만 전자공업이 급속히 발전함에 따라 점차 해결되고있다.

2) 집적회로를 만드는 원리

집적회로는 반도체의 성질을 리용하여 저항이나 축전기를 비롯한 반도체2극소자 및 반도체3극소자를 만들어넣는 방법으로 제작한다.

그러면 반도체를 가지고 어떻게 집적회로속에 전자요소들을 만드는가를 보자. (그림 1-50)

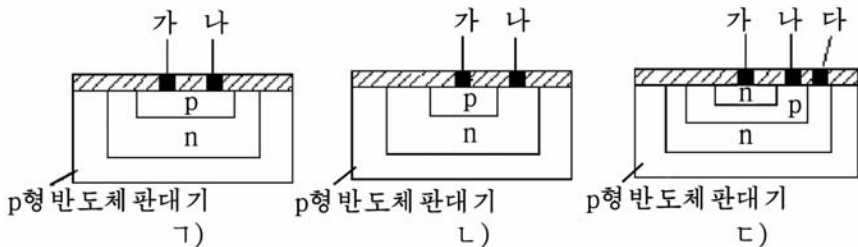


그림. 1-50. 집적회로속에 전자요소만들기

우선 그림 1-50의 1)와 같이 p형반도체로 된 판대기우에서 한곳에는 n형반도체층을 만들고 다시 그우에 p형반도체층을 차례로 만든다.

그리고 이렇게 만든 반도체층들에 전극 <가>와 <나>를 붙여주면 전극 <가>와 <나> 사이에 있는 p형반도체가 하나의 저항으로 된다.

또한 전극 <가>와 <나>를 그림 1-50의 2)와 같이 n형반도체쪽으로 옮겨붙이고 전극 <가>와 <나> 사이에 역방향전압을 걸어주면 이 pn이음에서 전기용량이 생겨(가변용량2극소자처럼) 축전기가 된다.

반대로 전극 <가>와 <나> 사이에 정방향전압을 걸어주면 이 pn이음은 반도체2극소자로 된다.

다음 그림 1-50의 3)와 같이 이미 만든 반도체층우에 다시 n형반도체층을 하나 더 만들어주고 여기에 세개의 전극 <가>(방사극), <나>(기초극), <다>(수전극)을 붙이면 반도체3극소자가 된다.

이와 같이 반도체성질을 리용하여 하나의 매우 작은 반도체결정속에 수많은 전자요소들을 만든다.

2. 집적회로의 분류와 다리 찾는 방법

1) 집적회로의 분류

- 집적회로는 만드는 방법에 따라 반도체집적회로, 박막집적회로, 혼성집적회로로 나눈다.

반도체집적회로는 반도체규소단결정우에 3극소자, 2극소자, 저항기, 축전기를 만들고 그것들을 서로 내부에서 련결하여 전자회로를 구성한것이다.

박막집적회로- 유리나 사기와 같은 절연물판대기우에 얇게 반도체재료를 발라 그것으로 저항기, 축전기, 반도체3극소자를 만들고 그것들을 련

결하여 전자회로를 구성한것이다.

혼성집적회로- 반도체집적회로와 박막집적회로를 결합하여 전자회로를 구성한것이다.

- 집적회로는 신호의 형태에 따라 수자형집적회로와 상사형집적회로로 나눈다.

수자형집적회로- 여닫개가 동작할 때 전원을 넣거나(전기가 흐르는 상태) 전원을 끊어주는것(전기가 흐르지 않는 상태)과 같은 두가지 전기적 상태로만 동작하는 회로를 말한다. 다시말하여 전기가 흐르는 상태를 1, 전기가 흐르지 않는 상태를 0으로 하여 0과 1의 상태만을 가지는 논리회로기능을 수행하는 집적회로이다.

수자형집적회로는 현재 집적회로기술에서 기본을 이루고 컴퓨터나 자동조종분야에서 매우 널리 쓰이고있다.

상사형집적회로- 수자형집적회로와 달리 신호가 끊어지지 않고 연속적으로 변하는 상태의 신호를 다루는 집적회로이다.

다시말하여 신호가 끊어져 띠엮띠엮 놓이는 상태가 아니라 라지오나 TV신호와 같이 입구신호와 출구신호가 언제나 어떤 일정한 관계를 유지하는 회로기능에 쓰이는 집적회로이다.

상사형집적회로는 라지오수신기, TV, 녹음기와 같은 전자기구들과 측정설비에서 주로 쓰인다.

- 집적회로는 한개의 집적회로소자속에 전자요소가 얼마나 들어있는가에 따라 소규모집적회로, 중규모집적회로, 대규모집적회로로 나눈다.

소규모집적회로- 한개의 집적회로소자속에 전자요소가 100개이하로 들어간 규모가 작은 집적회로이다.

이 소규모집적회로에는 상사형집적회로의 매 부분과 여러가지 문회로, 방아쇠회로 등 간단한 수자형회로가 들어간다.

중규모집적회로- 한개의 집적회로소자속에 전자요소가 100~1 000개 들어있는 집적회로이다.

이 중규모집적회로에는 해신기, 계수기, 옮김등록기를 비롯한 회로구성을 수행하는 집적회로가 들어간다.

대규모집적회로- 한개의 집적회로속에 전자요소가 1 000개이상 들어있는 큰 집적회로이다. 대규모집적회로에는 반도체기억기, 시계용집적회로, 탁상형컴퓨터용집적회로, 극초소형연산처리소자를 비롯한 특수한 기능을 수행하는 집적회로가 들어간다.

지금은 대규모집적회로보다 더 많은 전자요소를 가지는 초대규모집적회로가 생산되어 쓰이고있다.

2) 집적회로의 다리찾기방법

집적회로는 반도체와 달리 다리가 많기때문에 갈라보기 쉽게 하기 위하여 매 다리마다 번호를 붙인다. (그림 1-51)

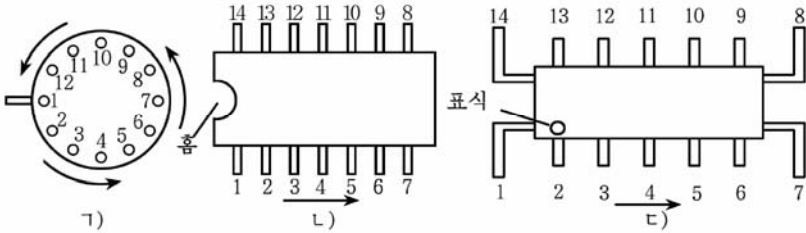


그림 1-51. 집적회로의 생긴 형태와 다리번호

가) 한쪽다리뺨침형, 나) 양쪽다리구부림형, 다) 양쪽다리뺨침형

집적회로는 뒤집어 다리번호를 보는것이 아니라 옷쪽에서부터 시계바늘이 도는 방향과 반대로 1, 2, 3, ..., 14로 번호를 붙여나간다.

그림 1-51의 가)와 같이 한쪽다리뺨침형에서는 다리가 8~12개 있는데 턱이 있는것을 기준으로 시계바늘이 도는 방향과 반대로 번호를 붙인다.

그림 1-51의 나)와 같이 양쪽다리구부림형에서는 패여진 홈이 있는 곳을 기준으로 시계바늘이 도는 방향과 반대로 번호를 붙인다.

그림 1-51의 다)와 같이 양쪽다리뺨침형에서는 옷쪽과 아래쪽을 갈라보기 힘들기때문에 집적회로의 1번다리에는 특별한 표식(점이나 색갈)을 하고 이것을 기준으로 시계바늘이 도는 방향과 반대방향으로 번호를 붙여나간다.

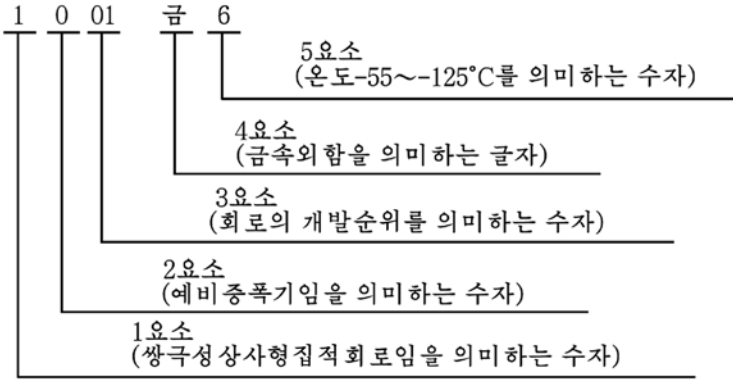
3. 집적회로의 자호표시방법

집적회로의 자호표시방법은 완전표시방법과 간략표시방법이 있다.

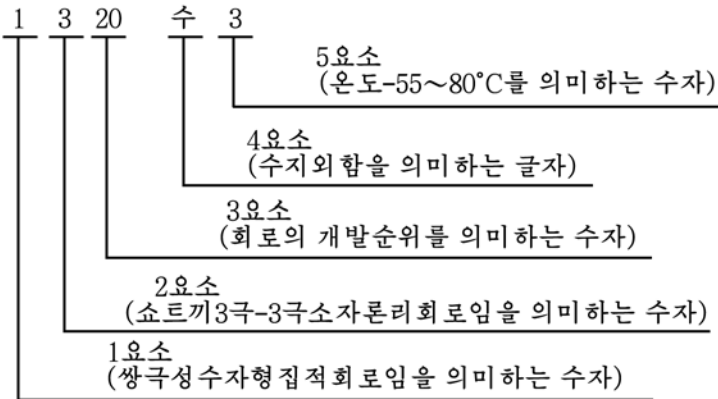
1) 완전표시방법

완전표시방법은 5개의 요소로 한다.

실례 1: 온도 $-55\sim-125^{\circ}\text{C}$ 의 범위에서 쓰이는 금속외함으로 된 쌍극성저주파소출력예비증폭소자의 자호표시방법은 다음과 같이 한다.



실례 2: 온도 $-25\sim 80^{\circ}\text{C}$ 의 범위에서 쓰이는 수지외함으로 된 쌍극성쇼트키2중4입구론리곱하기부정문회로의 자호표시는 다음과 같이 표시한다.



2) 간략표시방법

집적회로의 간략표시방법은 1, 2, 3요소만으로 또는 1, 2요소만으로 하여야 한다.

실례 1: 쌍극성저주파소출력예비증폭기

1001

실례 2: 쌍극성쇼트키2중4입구론리곱하기부정문회로

2320

4. 집적회로의 사용에서 주의하여야 할 점

집적회로를 사용할 때에는 어떤 조건에서도 사용지도서에 규정되어 있는 최대정격값을 절대로 넘기지 말아야 한다.

① 쓰지 않는 다리를 수자형집적회로에서는 전원전압에 직접 잇든지 1k Ω 정도의 저항을 거쳐 전원전압에 이어야 한다. 또한 금속산화물반도체 집적회로에서는 쓰지 않는 빈 입구다리를 접지시키거나 다른 입구의 공동으로 결선하여야 한다.

② 전원전압은 사용지도서에 규정된 전압범위에서 써야 한다.

③ 금속산화물반도체집적회로에서는 조종극이 매우 약하기때문에 사람의 손이 직접 닿지 않게 하여야 한다.

④ 집적회로는 온도의 영향을 매우 심하게 받기때문에 납땀할 때 짧은 시간동안에 진행하여야 한다.

특히 전기인두는 낮은 전압에서 쓰도록 특별히 만든것을 사용하여야 한다.

[상식] 집적회로의 발명

집적회로가 처음으로 나온것은 1959년경인데 이해에 대지형3극소자와 구소부피저항을 결합한 집적회로제작기술이 소개되었으며 저항-3극소자론리회로가 발명되었다.

지금과 같은 반도체집적회로가 나온것은 1960년대부터였다.

1960년에 2극-3극소자론리회로, 1963년에 3극-3극소자론리회로가 개발되었다. 1965년에 소비전력이 작은 전력3극-3극소자론리회로가 나왔다.

한편 1963년에 금속산화물반도체3극소자가, 1964년에 금속산화물반도체집적회로가 나왔으며 그에 뒤이어 1969년에는 탁상형컴퓨터용 금속산화물반도체대규모집적회로가 개발되었다.

연습문제

1. 집적회로를 만들 때 왜 용량이 큰 축전기나 선륜을 만들어넣지 못하는가?
2. 수자형집적회로와 상사형집적회로의 차이점은 무엇인가?

[실습] 회로시험기에 의한 측정

1. 회로시험기의 구조와 사용방법

1) 회로시험기의 구조

회로시험기는 전기 및 전자회로에서 전압, 전류, 저항 등의 값을 측정하며 선류, 축전기, 반도체소자의 정상상태를 검사하는데 쓰이는 만능측정기구이다.

회로시험기는 그 종류가 많고 생긴 모양과 크기, 능력도 각이하지만 그것들의 기본구조와 동작원리는 다음과 같다.

여기서는 흔히 볼수 있는 《흥스-10-1》형회로시험기를 보기로 하자.(그림 1-52)




그림 1-52. 회로시험기

① 지시계기

지시계기는 회로시험기의 구조에서 기본을 이룬다. 지시계기의 눈금 판에서 <DC>는 직류전압(또는 직류전류) 눈금, <AC>는 교류전압 눈금, <kΩ>은 저항 눈금을 표시하는 기호이다.

② 측정값절환기

측정값절환기는 측정하려는 량이 직류인가 교류인가, 전압인가 전류인가 또는 저항인가에 따라 회로시험기를 전압계, 전류계, 저항계로 바꾸어주기 위한것이다.

측정하려는 량이 직류전압일 때는 <DC V> 쪽에, 교류전압일 때는 <AC V> 쪽에, 직류전류일 때는 <DC mA> 쪽에, 저항일 때는 <kΩ> 쪽에 돌려놓는다.

측정값절환기의 밑판둘레에 새겨져있는 수자들은 해당한 전압, 전류, 저항값들의 최대측정범위를 표시한다.

③ 지시계기령눈금조절기

이것은 회로시험기로 측정하기에 앞서 계기바늘이 령눈금을 가리키도록 조정하기 위한 조절기이다.

④ 저항령눈금조절기

저항측정에 앞서 계기바늘이 <kΩ> 눈금에서 령을 가리키도록 조정하기 위한 조절기구이다.

⑤ 접속구

접속구는 측정봉을 회로시험기와 련결하기 위한 구멍이다. 회로시험기의 내부에 있는 건전지의 <+> 극은 <-> 표식을 한 접속구와, <-> 극은 <+> 표식을 한 접속구와 련결되어있다.

2) 회로시험기의 사용방법

(1) 전압과 전류의 측정방법

① 측정봉의 접속두를 접속구에 쫓는다.

② 측정값절환기를 측정하려는 량이 전압인가 전류인가 또는 교류인가 직류인가에 따라 <DC V>, <AC V>, <DC mA> 중의 해당한 쪽으로 돌린다.

이때 측정하려는 값의 범위를 대략적으로 알고있으면 그보다 약간 높은 수자에 맞추고 측정을 진행한다.

만일 측정값을 예상할수 없는 경우에는 해당한 측정대역의 제일 큰 값에 맞추고 측정하여 바늘이 움직이는 정도를 보고 알맞는 자리를 선택한다.

③ 회로시험기의 두 측정봉을 측정하려는 대상에 갖다댄다.

이때 전류를 측정하려면 회로시험기가 회로에 직렬로 련결되어야

하며 전압을 측정하려면 측정대상에 병렬로 연결되게 해야 한다.

직류전압이나 전류를 측정할 때 회로시험기의 접속구에 표시된 극성표시기와 측정대상의 극성이 같아지도록 측정봉을 대야 한다. 만일 반대로 하면 계기바늘이 거꾸로 움직이면서 계기를 못쓰게 만들수 있다.

교류는 극성이 따로 구별되어있지 않으므로 측정할 때 극성을 고려하지 않아도 된다.

④ 지시계기의 전압 또는 전류눈금에서 바늘이 가리키는 값을 읽는다.

⑤ 바늘이 가리킨 값으로부터 측정값을 구한다. 측정값을 구하는 식은 다음과 같다.

$$\text{측정값} = \frac{\text{바늘이 가리킨 값}}{\text{눈금판의 최대값}} \times \text{측정범위}$$

실례로 지시계기의 눈금판에서 교류전압눈금의 최대값은 300이다. 측정값절환기를 <AC V>의 수자 100에 놓고 측정했는데 바늘이 눈금에서 150을 가리켰다면 측정값은 얼마인가?

$$\text{측정값} = \frac{150}{300} \times 100 = 50(\text{V})$$

(2) 저항값측정방법

① 측정값절환기를 <kΩ> 대역의 알맞은 자리에 돌려놓는다.

② 두 측정봉을 서로 맞대고 저항형눈금조절기로 바늘이 저항눈금에서 령을 가리키도록 조정한다.

③ 측정하려는 대상의 량쪽에 두 측정봉을 각각 대고 계기눈금판에서 바늘이 가리키는 값을 읽는다.

④ 바늘이 가리킨 값으로부터 측정값을 구한다. 이때 측정값절환기를 <×1>에 놓았을 때는 바늘이 가리키는 값이 측정값이고 <×10>에 놓았을 때는 바늘이 가리킨 값에 10을 곱해주면 된다. 또한 <×100>에 놓았을 때는 100을 곱해주면 된다.

주의할 점

① 측정봉을 측정대상에 갖다대기 전에 반드시 측정값절환기가 해당한 측정대역에 정확히 놓였는가를 확인해야 한다.

② 측정봉을 측정대상에 갖다댄 상태에서 측정값절환기를 돌리지 말아야 한다.

바늘이 가리키는 눈금값을 읽을 때에는 바늘과 끝추 되게 보면서

읽어야 한다. 그래야 측정에서 오차가 적어진다.

③ 저항을 측정한 다음에는 측정값절환기를 전압 또는 전류대역으로 돌려놓아야 한다. 이것은 회로시험기안의 건전지가 방전되지 못하게 하기 위해서이다.

④ 회로시험기는 항상 조심히 다루어 떨구거나 충격을 주지 않도록 해야 한다.

2. 회로시험기에 의한 저항기, 축전기, 선류 및 변성기의 검사

1) 회로시험기에 의한 저항기의 검사

실습준비

회로시험기, 저항기실물표본함

실습방법

① 측정값절환기를 <k Ω > 쪽의 알맞는 자리에 돌려놓는다.

② 두 측정봉을 맞대고 저항령눈금조절기를 돌려 바늘이 저항눈금의 령을 가리키도록 조정한다.

③ 측정봉을 측정하려는 저항기의 두 인출선에 각각 대고 눈금판에서 바늘이 가리키는 값을 읽는다.

④ 측정값절환기의 위치에 따라 바늘이 가리킨 눈금값으로부터 실지 저항값을 계산하여 얻는다.

⑤ 저항기의 겉면에 새겨진 자호를 읽고 실지 측정하여 얻은 저항값과 정격저항사이의 차이가 허용편차범위안에 있는가를 확인한다.

이와 같은 방법으로 여러가지 종류와 규격의 저항기들에 대하여 저항값측정실습을 진행한다.

주의할 점

① 전자장치에서 저항기를 검사할 때에는 전원을 끄고 저항기의 한 쪽 다리를 회로에서 분리시킨 다음 측정하여야 한다. 그래야 정확히 측정할수 있다.

② 저항기의 저항값을 측정할 때 사람의 손이 저항기의 인출선에 닿지 않도록 해야 한다. 그렇지 않으면 측정에서 사람몸저항에 의한 오차가 생긴다.

③ 저항측정은 될수록 짧은 시간안에 해야 한다. 만일 오래 측정하면 회로시험기의 내부에 있는 건전지가 많이 방전할수 있다.

2) 회로시험기에 의한 축전기의 검사

실습준비

회로시험기, 축전기실물표본

실습방법

① 측정값절환기를 $\langle k\Omega \rangle$ 쪽에 돌려놓고 저항령눈금조절기로 저항령눈금조정을 진행한다.

② 회로시험기의 두 측정봉을 검사하려는 축전기의 두 인출선에 각각 댄다.

③ 바늘의 움직임은 보고 축전기의 정상상태를 판단한다. 회로시험기의 바늘이 계속 0 눈금을 가리키거나 ∞ 를 가리키면 축전기가 못쓰게 된 것이다.

그러나 측정봉을 갖다대는 순간 바늘이 일정한 저항값을 가리켰다가 천천히 제자리(∞)로 돌아오면 축전기는 정상이다.

축전기의 용량이 클수록 계기바늘이 더 많이 움직인다.

용량이 작은 축전기에서는 바늘이 약간 움직이거나 전혀 움직이지 않아야 정상이다.

주의할 점

① 전자장치에 조립된 축전기를 검사할 때에는 전원을 끄고 축전기의 한쪽 다리를 분리시킨 다음 검사하여야 한다.

② 축전기의 두 인출선에 손이 닿지 않게 하고 검사하여야 한다.

③ 용량이 크고 내압이 높은 축전기를 검사할 때에는 충전되었던 전기량을 방전시킨 다음 검사하여야 한다.

3) 회로시험기에 의한 선류과 변성기의 검사

실습준비

회로시험기, 선류과 변성기실물표본

실습방법

① 측정값절환기를 돌려 회로시험기를 저항측정상태로 만든다.

② 선류를 검사할 때는 측정봉을 선류의 두 단자에 댄다. 이때 계기바늘이 저항눈금에서 0 을 가리키거나 수 Ω 의 저항을 가리키면 선류이 끊어지지 않고 정상이라는것을 의미한다. 그러나 ∞ 를 가리키면 선류이 끊어진것이다.

③ 변성기를 검사할 때는 먼저 1 차권선과 2 차권선을 갈라낸다.

다음 1 차권선과 2 차권선이 끊어지지 않았는가, 권선들과 철심이 맞붙지 않았는가를 검사한다. 이때 서로 맞붙었으면 바늘이 령을 가리키고 맞붙지 않았으면 ∞ 를 가리킨다.

주의할 점

① 전자회로에 조립되어있는 선류이나 변성기를 검사할 때에는 전원을 끄고 한개 단자를 회로에서 떼낸 다음 검사하여야 한다.

② 선류과 변성기의 권선저항을 측정하는 방법으로 그의 정상상태와 맞닿이상태를 분간하기는 힘들다. 그러므로 선류이나 변성기권선의 저항을 미리 알고 검사하여야 한다.

[실습] 회로시험기에 의한 반도체소자의 검사방법

1. 반도체2극소자의 검사방법

실습준비

회로시험기, 반도체2극소자실물

실습방법

① 측정값절환기를 돌려 회로시험기를 저항측정상태에 놓는다.

반도체2극소자의 정방향저항은 작고 역방향저항은 크다. 이것을 리용하여 저항을 측정해보는 방법으로 검사한다.

② 반도체2극소자의 정방향저항과 역방향저항을 측정한다.(그림 1-53)

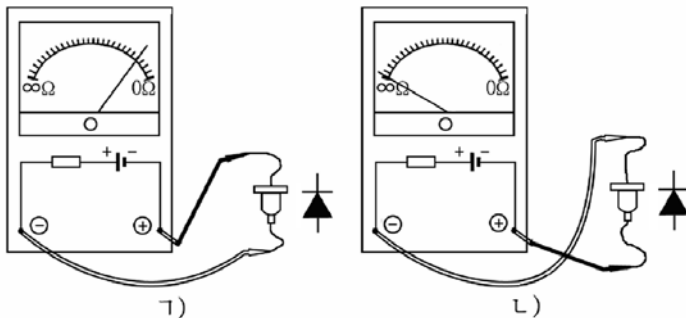


그림 1-53. 반도체2극소자의 검사방법

ㄱ) 정방향저항측정, ㄴ) 역방향저항측정

회로시험기로 2극소자의 저항을 측정했을 때 어느 측정봉을 어느 쪽에 대는가에 따라 한번은 작은 저항을 나타내고 한번은 거의 ∞ 의 저항을 나타낸다면 소자가 정상이라는것을 의미한다.

만일 정방향저항과 역방향저항이 다같이 ∞ 이면 이 소자는 내부가 끊어져 못쓰게 되었다는것이고 정방향저항과 역방향저항이 다같이 0을 가리키면 소자내부의 pn이음부가 맞닿아되어 못쓰게 되었다는것을 말해준다.

③ 반도체 2극소자의 양극과 음극을 찾는다.

2극소자의 곁통에 표식이 있는 경우에는 양극과 음극을 쉽게 찾을수 있으나 표식이 없는 경우에는 회로시험기로 양극과 음극을 찾아야 한다.

회로시험기로 2극소자의 양극과 음극을 찾는 방법은 다음과 같다.

회로시험기의 두 측정봉을 2극소자에 정방향저항을 가리키도록 대었을 때 회로시험기의 <->접속구와 련결된 다리가 양극이고 <+>접속구와 련결된 다리가 음극이다.

2. 반도체 3극소자의 검사

실습준비

회로시험기, 반도체 3극소자실물

실습방법

① 측정값절환기를 돌려 회로시험기를 저항측정상태로 놓는다.

② 기초극, 방사극, 수전극다리를 찾고 3극소자의 정상상태를 검사한다.

반도체 3극소자는 그림 1-54와 같이 반도체 2극소자 2개가 정방향과 역방향으로 련결된것으로 볼수 있다. 그러므로 회로시험기로 3극소자의 세 다리에 <+>와 <-> 측정봉을 엇바꾸어가면서 매 전극사이의 저항을 측정하는 방법으로 소자를 검사할수 있다.

먼저 기초극을 찾는다.

회로시험기로 기초극을 찾는 방법은 다음과 같다.

어느 한 측정봉을 3극소자의 어느 한 다리에 대고 다른 측정봉을 나머지 두 다리에 각각 대보았을 때 모두 큰 저항을 나타내거나 작은 저항을 나타내면 처음에

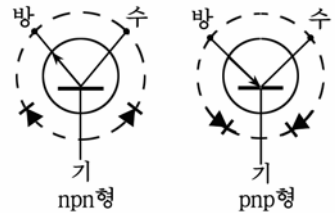


그림 1-54. 3 극소자를 2 극소자 2 개로 표시한것

측정봉을 대고있는 다리가 기초극이다.

다음은 방사극과 수전극을 갈라낸다.

기초극과 다른 두 다리사이의 정방향저항을 각각 측정했을 때 보다 작은 저항을 나타내는 다리가 방사극이고 나머지가 수전극이다.

이상과 같은 검사방법은 3극소자가 정상인 경우에 가능하다. 만일 3극소자가 파손되었으면 전극들사이의 저항이 정방향이든 역방향이든 관계없이 항상 0 혹은 ∞ 로 된다.

③ 3극소자가 npn형소자인가 pnp형소자인가를 판정한다.

회로시험기의 $\langle - \rangle$ 측정봉을 기초극에 대고 $\langle + \rangle$ 측정봉을 방사극과 수전극에 각각 댈 때 저항이 모두 작게 나타나면 이 3극소자는 npn형이다.

반대로 $\langle + \rangle$ 측정봉을 기초극에 대고 $\langle - \rangle$ 측정봉을 방사극과 수전극에 각각 댈 때 저항이 모두 작으면 이 3극소자는 pnp형이다.

제2장. 전원장치

위대한 수령 김일성대원수님께서서는 다음과 같이 교시하시였다.

《전기는 모든 산업을 움직이는 기본동력입니다. 전기가 없이는 기술혁명의 성과적수행도 나라의 경제발전도 기대할수 없습니다.》

전기는 현대산업을 움직이는 기본동력이다.

전기가 없이는 기계를 돌릴수 없고 생산도 진행할수 없다.

전자장치와 자동화장치들도 마찬가지이다. 전자 및 자동화장치들에서 전원은 장치가 동작할수 있게 하는 기본에너지를원천이다.

전원의 질은 전자 및 자동화기구와 장치의 정상동작과 질을 규정하는 기본요인의 하나로 된다.

제1절. 전 지

1. 전지에 대한 일반개념

1) 전지의 분류

전지란 물질이 화학적 또는 물리적으로 변화될 때 생기는 에너지를 직접 전기적에너지로 얻어내는 기구를 말한다.

전지는 크게 화학전지와 물리전지로 나눈다.

(1) 화학전지

화학전지란 물질의 화학반응시에 생기는 에너지를 직접 전기적 에너지로 변환하는 전지를 말한다.

화학전지는 다시 1차전지와 2차전지로 나눈다.

1차전지는 화학적에너지가 전기적에너지로 다 변환된 다음 다시 재생시켜 쓸수 없는 전지를 말한다.

1차전지의 대표적실례로는 건전지를 들수 있다.

건전지는 다 방전하면 충전하여 다시 쓰지 못하고 버려야 한다.

2차전지는 외부전원으로 충전하여줌으로써 다시 재생하여 쓸수 있는 전지이다. 2차전지를 축전지라고 한다.

2차전지의 대표적인것은 산축전지와 알카리축전지이다.

(2) 물리전지

물리전지란 물질의 물리적인 작용때에 생기는 에너지를 직접 전기에너지로 얻어내는 전지를 말한다.

물리전지에는 태양전지(빛전지), 열전지, 원자전지 등이 있다.

2) 전지를 특징짓는 량들

전지는 그의 기전력, 단자전압, 내부저항, 용량, 자체방전, 수명 및 보관기간, 효율 등에 의하여 특징지어진다.

- 전지의 기전력(E)

전지의 기전력은 외부회로를 통하여 전류가 흐르지 않을 때 전지의 두 전극단자사이의 전위차(전압)와 같다.

전지의 기전력은 클수록 쓸모가 높다.

- 전지의 단자전압(U)

전지를 부하와 연결하였을 때 전지의 두 단자사이에 걸리는 전압을 전지의 **단자전압**이라고 한다.

전지의 단자전압은 항상 기전력보다 작다.

그것은 전류가 흐를 때 전지의 내부에서 내부저항에 의한 전압떨어짐이 생기기때문이다.

전지의 단자전압은 보통 3가지 상태로 변한다. 즉 방전초기에는 기전력값으로부터 급격히 낮아져 평균전압에 이르며 그 이후에는 방전시켜도 거의 전압이 변하지 않고 일정하게 유지된다.

그러다가 계속 더 방전시키면 급격히 낮아진다.

이 낮아지기 시작하는 점에서의 전압을 **방전끝전압**이라고 한다.

- 전지의 내부저항($R_{내}$)

전지의 내부저항은 전지를 방전시킬 때 전압떨어짐을, 충전할 때는 전압오름을 가져오는 기본원인으로 된다.

전지의 내부저항은 작을수록 좋다.

일반적으로 방전이 진행됨에 따라 내부저항이 커진다.

- 전지의 용량(Q)

전지의 용량은 전류용량과 전력용량으로 나누어볼수 있다.

사용온도와 방전끝전압이 주어졌을 때 전지가 낼수 있는 최대전기량을 **전지의 전류용량**이라고 말하며 그의 단위는 $A \cdot h$ (암페어시)이다.

방전전류를 $I_{방}$, 방전시간을 $T_{방}$ 이라고 할 때 전지의 전류용량은 $Q = I_{방} \cdot T_{방} (A \cdot h)$ 이다.

전지의 전력용량이란 전지가 가지고있는 전기에너르기의 크기를 말하며 그의 단위는 $W \cdot h$ (와트시)이다.

전지의 용량은 방전조건, 온도, 전해액의 조성 등에 관계된다.

방전조건에 관계된다는것은 큰 전류로 방전시키면 전지가 자기의 용량을 다 내지 못한다는것이다.

온도가 높으면 이온들의 이동속도가 빨라지고 전해액의 전기저항이 작아지므로 전지의 용량이 커진다.

그러나 전지의 구조상제한성으로 하여 모든 전지에서 온도의 최고 허용한계는 $50^{\circ}C$ 로 제한되고있다.

- 전지의 자체방전, 수명 및 보관기간

전지에 부하저항을 련결하지 않아도 전지의 용량이 점차적으로 작아지는 현상을 **자체방전**이라고 한다.

전지의 자체방전속도는 전지의 수명에 결정적영향을 준다.

1차전지의 수명은 보관기일에 의하여 특징지어진다.

2차전지의 경우에는 그의 수명이 용량에서 큰 변화없이 쓸수 있는 최대충방전회수에 의하여 규정되며 보관기일은 1차전지에서와 같이 일할 능력이 있는 최대허용기간으로 정해진다.

전지의 수명과 보관기일을 길게 하기 위해서는 자체방전을 적게 하는 동시에 지나친 방전과 급충전, 급방전을 시키지 말아야 한다.

2. 1차전지

1) 건전지

건전지는 양극으로 탄소봉, 음극으로 아연판, 전해액으로는 염화암모늄 용액을 쓰고있다.

양극탄소봉의 주위에는 이산화망간으로 된 감극제와 전도성을 좋게 하기 위한 탄소가루를 섞어넣었다.(그림 2-1)

여기서 이산화망간은 산화제작용을 하며 양극에서 발생하는 수소를 산화시켜 물로 만드는 작용을 한다.



그림 2-1. 건전지의 구조

2) 적층건전지

건전지 한개로 얻을수 있는 전압은 최고 1.5V까지이다.

그러므로 1.5V보다 높은 전압이 요구될 때에는 건전지를 여러개 직렬로 련결해야 한다.

그러나 일반적으로 쓰고있는 건전지를 여러개 직렬로 련결하자면 불편하고 체적도 상당히 커진다.

이러한 부족점을 없애기 위하여 건전지를 만드는 원리로 전지를 생산할 때 미리 작은 건전지를 여러개 쌓아서 만든것이 적층건전지이다.

적층건전지는 각이한 전압(3V, 6V, 9V)으로 만든다.

3) 수은전지

수은전지는 음극으로 아연판을 쓰고 전해액으로 수산화칼리움, 감극제로 산화수은을 쓴 건전지이다.

수은전지는 단추모양으로 작게 만들어 전자시계와 전자수상기 등의 소형전자제품의 전원으로 쓰이고있다.(그림 2-2)

수은전지는 체적과 질량에 비하여 전력용량이 크고 방전전압변화가 작은 우점이 있다. 수은전지의 기전력은 보통 1.3V이다.

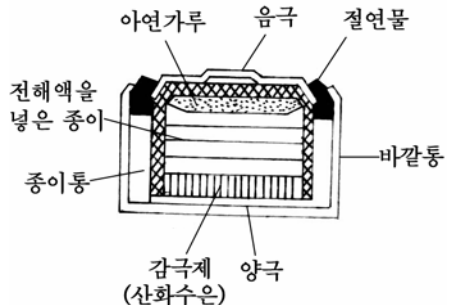


그림 2-2. 수은전지

3. 2차전지

충전하여 다시 쓸수 있는 전지인 2차전지에는 산축전지, 알카리축전지 등이 있다.

1) 산축전지

산축전지란 전해액으로 산을 쓴 축전지를 말한다.

산축전지는 묽은 류산속에 산화연으로 된 양극판, 연으로 된 음극판, 극판사이에 끼우는 절연판, 곁통과 단자판으로 되어있다. (그림 2-3)

산축전지 한개에서 내는 기전력은 2V이다. 이보다 큰 전압이 요구될 때에는 밖에서 직렬로 연결하여 요구되는 전압을 얻는다.

산축전지는 단자전압이 1.8V아래로 내려가면 충전하여야 한다.

산축전지는 기전력이 크고 내부저항이 작으며 효율이 높다. 또한 큰 용량의 전지를 만들수 있으므로 자동차를 비롯하여 널리 리용된다.

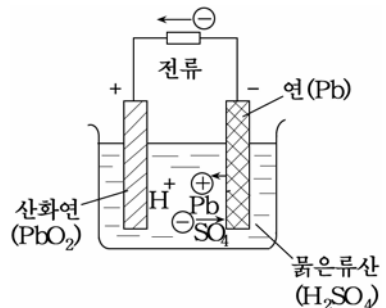


그림 2-3. 산축전지의 원리도

2) 알카리축전지

알카리축전지란 전해액으로 알카리를 쓴 축전지를 말한다.

알카리축전지 한개에서 내는 기전력은 1.2V이다.

알카리축전지에는 철-니켈축전지, 카드미움-니켈축전지, 아연-산화은축전지 등이 있다.

철-니켈축전지와 카드미움-니켈축전지에서 양극은 수산화제1니켈이며 음극은 산화철 혹은 산화카드미움이다.

그리고 전해액으로는 수산화칼리움(KOH) 또는 가성소다(NaOH) 물용액을 쓴다.

이 축전지는 산축전지보다 견고하고 수명이 길며 취급상 안전하다. 기전력이 작은것이 결함이다.

아연-산화은축전지는 비용량이 특별히 크며 전기적특성이 다른 전지들에 비하여 매우 좋다.

전해액으로는 밀도가 1.40~1.45g/cm³ 되는 수산화칼리움용액을 쓴다.

아연-산화은축전지는 측정기구의 표준전지나 군사분야에서 쓰인다. 결합은 수명이 짧은것이다.

4. 물리전지

1) 태양전지

태양의 빛에너지를 직접 전기에너지로 변환시키는 기구를 태양전지라고 한다.

태양전지는 빛기전력효과에 의하여 동작하는 반도체변환소자로서 빛전지라고도 한다.

석탄이나 원유와 같은 화석에너지가 고갈되어가고있는 오늘 태양빛 에너지를 직접 전기에너지로 변환하여 쓰는 문제는 대단히 중요하다.

태양전지는 순도가 99.999%이상 높은 규소에 약간한 량의 비소를 넣어 n형반도체를 만들고 다른쪽에는 붕소를 확산시켜 p형반도체층을 조성시켜서 만든다.

태양빛이 쬐이지 않을 때에는 pn이음부의 전위장벽때문에 전자들이 이동하지 못한다.

그러나 그림 2-4와 같이 p형층의 겉면에 태양빛을 쬐이면 전자와 구멍이 pn이음부를 지나 확산된다.

즉 전자는 n형반도체쪽으로, 구멍은 p형반도체쪽으로 확산되어 n형에는 파인전자가, p형에는 파인구멍이 모이게 된다.

이때 외부회로를 통하여 n형반도체와 p형반도체사이를 런결하면 n형에서 전자가 p형쪽으로 흐른다. 즉 전류가 흐른다.

한개 태양전지에서 얻을수 있는 전압은 0.4~0.5V정도이며 겉면적이 10cm²인 태양전지의 전지용량은 1W정도 된다.

이보다 높은 전압과 큰 전류를 얻자면 여러개의 전지를 직병렬런결 하면 된다. 규소태양전지의 효율은 10~15%정도이다.

태양전지는 흐린날이나 밤에는 기전력을 내지 못하므로 축전지와 결합하여 쓴다. 즉 태양전지가 기전력을 낼 때는 축전지를 충전하도록 하고 기전력을 내지 못할 때에는 축전지에 충전된 전력을 리용하도록 한다.

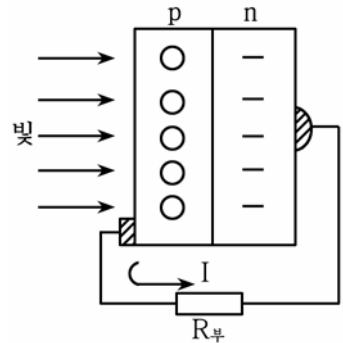


그림 2-4. 태양전지의 원리도

태양뿐만아니라 다른 빛을 반도체에 쬐이어도 전지의 역할을 할 수 있다.

이러한 빛전지로 가장 널리 쓰이는것은 셀렌빛전지이다.

셀렌빛전지의 기전력은 빛의 세기에 관계되는데 최고 0.6V이다.

셀렌빛전지의 효율은 1%아래로 낮으며 제일 좋은 경우에 2~3%정도이다. 셀렌빛전지의 원리는 분석, 빛세기의 측정, TV, 사진전송 등 과학과 기술의 여러 분야에서 널리 쓰인다.

2) 열전지

열전지란 열에너지를 전기적에너지로 직접 변환하는 기구를 말한다.

열전지는 동작원리에 따라 두가지로 나누어진다.

하나는 열기전력을 리용하는 열전대식열전지이고 다른 하나는 열전자방출현상을 리용하는 열전자전지이다.

먼저 열전대식열전지에 대하여 보자.

종류가 서로 다른 두 금속(또는 반도체)의 끝을 용접하여 붙이고 련결한 부분과 련결하지 않은 부분의 온도를 다르게 할 때 두 금속사이에 기전력이 생겨난다.

그것은 온도가 높은 곳에서는 낮은 곳보다 전자들의 운동에너지가 더 크기때문이다.

반도체재료는 열전도가 잘되지 않기때문에 련결부사이에 큰 온도차를 만들수 있다.

그러므로 반도체를 쓰면 금속을 쓸 때보다 에너지변환효율이 커진다. 이런 열전지는 온도측정장치와 큰 전력이 요구되지 않는 통신장치, 신호장치 등에서 리용된다.

다음은 열전자전지의 원리를 보자.

열전자방출이 잘되는 재료로 음극을 만들고 그것을 가열하면 거기서 전자가 튀어나온다.

이 전자를 **열전자**라고 하며 이런 현상을 **열전자방출**이라고 한다.

이제 음극과 극히 가까운 거리에 열전자방출이 잘되지 않는 재료로 양극을 만들어 설치하면 음극에서 튀어나온 열전자들이 양극으로 끌려간다. 그리하여 양극과 음극사이에는 전위차 즉 기전력이 생긴다.

이런 전지의 효율은 20%정도이다.

연습문제

- 1차전지와 2차전지의 차이점은 무엇인가?
- 축전지를 지내 방전시키면 어떻게 되겠는가?
- 전지의 용량이란 무엇이며 단자전압과 기전력은 어떻게 다른가?
- 건전지에서 기전력이 생기는 원리를 설명하여라.
- 산축전지에서 기전력이 생기는 원리를 설명하여라.

제2절. 전원변압기

1. 전원변압기의 구조와 동작원리

전원변압기란 증폭기나 TV를 비롯하여 약전기구들에서 전원장치에 들어가는 소출력변압기를 말한다.

전원변압기는 외부교류전원망의 교류전압을 약전기구안의 정류기에 서 요구되는 크기로 바꾸어주는 역할을 한다.

1) 전원변압기의 구조

전원변압기의 구조에서 기본부분을 이루는것은 철심과 권선이다.

철심- 철심은 자속이 지나가는 길을 만든다. 변압기의 철심은 생긴 모양에 따라서 내철형, 외철형, 고리형으로 나눈다. (그림 2-5)

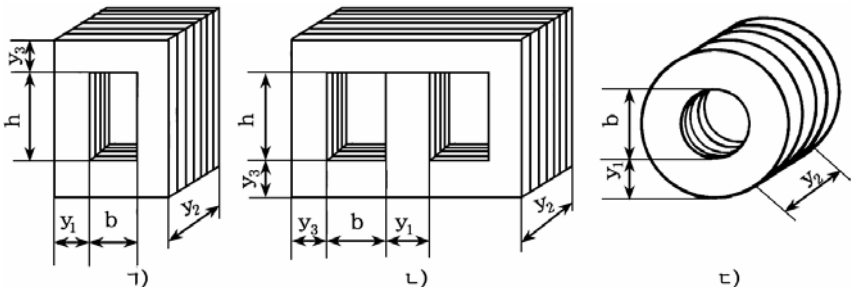


그림 2-5. 변압기의 철심

1) 내철형철심, 2) 외철형철심, 3) 고리형철심

전원변압기의 철심으로는 흔히 외철형철심을 많이 쓴다.

내철형철심은 보통 출력이 큰 변압기에서 많이 쓰이며 고리형철심은 가정용만능조절변압기에 쓰이고있다.

권선- 전원변압기의 권선으로는 동축의 겉면에 절연에나멜을 얇게 입

힌 에나멜동선을 주로 쓴다. 이밖에 가정용만능조절변압기를 비롯하여 출력력이 큰 변압기인 경우 면실을 촘촘히 감은 면권선도 쓴다.

변압기권선은 1차권선과 2차권선으로 나누어지는데 **1차권선**은 외부 전원쪽에 연결되는 권선을 말하며 **2차권선**은 부하와 연결되는 권선을 말한다.

철심에 권선을 감을 때는 보통 1차권선을 먼저 감고 그우에 2차권선을 감는다. 2차권선은 1개일수도 있고 필요에 따라 여러개일수도 있다.

내철형변압기에서는 1차권선과 2차권선을 철심의 두 다리에 갈라서 감는다.

2) 전원변압기의 동작원리

변압기에서 1차권선과 2차권선은 서로 전기적으로 절연되어있다.

변압기의 동작원리는 전자기유도현상에 기초하고있다.

변압기의 1차권선에 교류전압을 걸어주면 1차권선으로 전류가 흐르면서 교번자속을 만든다.

이 교번자속은 철심의 자기회로를 따라 흐르면서 2차권선에 작용하여 유도기전력을 만든다. 이때 2차권선의 두 단자에 부하를 연결하면 2차회로에 전류가 흐른다. (그림 2-6)

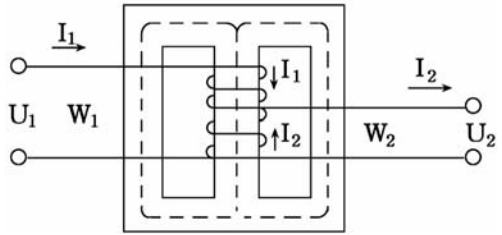


그림 2-6. 변압기의 원리도

2차권선에 유기되는 기전력

의 크기는 1차권선전압과 두 권선사이의 권회수비에 관계된다.

변압기 1차권선의 권회수를 W_1 , 2차권선의 권회수를 W_2 라고 할 때 권회수와 전압사이에는 다음의 관계가 있다.

$$\frac{U_2}{U_1} = \frac{W_2}{W_1} = n$$

여기서 n 을 변압기의 변압비라고 한다.

변압비 n 은 2차권선전압이 1차권선전압보다 몇배나 더 높아졌는가 혹은 낮아졌는가를 표시한다.

n 이 1보다 크면 2차권선전압이 1차권선전압보다 높아지며 n 이 1보다 작으면 2차권선전압이 1차권선전압보다 낮아진다.

변압기에서 손실이 없다고 할 때 1차권선과 2차권선에서의 기전력은 같으므로 2차권선전류는 1차권선전류의 $1/n$ 로 작아진다.

이 관계를 수식으로 쓰면 다음과 같다.

$$\frac{I_2}{I_1} = \frac{U_1}{U_2} = \frac{W_1}{W_2} = \frac{1}{n}$$

변압기에서의 손실이 있는 경우에는 윗관계식이 정확히 성립하지 못한다. 레를 들어 2차권선을 1차권선의 2배($n=2$)로 감았다고 하여 2차권선전압이 1차권선전압의 꼭 2배로 높아지지는 못한다.

변압기의 손실에는 권선에서 생기는 동손실과 철심에서 생기는 회리손실, 새기자속에 의한 손실 등이 있다.

회리손실은 철심이 자력선을 끊기때문에 생기는 손실이다.

회리손실때문에 철심이 가열된다.

회리손실을 적게 하기 위하여 철심은 절연된 여러개의 얇은 규소강판을 층층히 쌓아서 만든다.

새기자속에 의한 손실은 1차권선에서 생긴 자력선이 모두 2차권선을 지나지 못하고 일부는 밖으로 새나가기때문에 생기는 손실이다.

동손실은 1차권선과 2차권선으로 전류가 흐를 때 권선자체가 가지고있는 저항때문에 생기는 열손실이다.

이와 같은 손실들에 의하여 변압기의 효율은 보통 70~90%이다.

3) 단권변압기

단권변압기란 권선이 하나인 변압기를 단권변압기라고 한다.

그림 2-7과 같이 철심에 한개의 권선을 W_1 회 감고 그의 양끝사이에 전원전압을 연결하고 권회수가 W_2 인 점에서 인출선을 뽑아 2차회로와 연결하면 1개의 권선으로 1차권선, 2차권선이 만들어지게 된다.

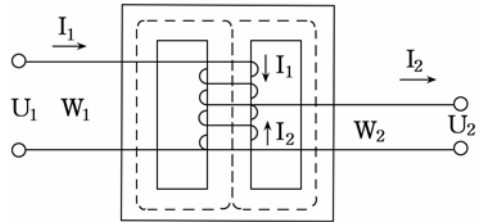


그림 2-7. 외철형철심을 쓴 단권변압기의 원리도

단권변압기는 전원전압을 조절하는데 많이 쓰인다.

1차권선(W_1)에 전압 U_1 을 걸어주면 권선으로 전류가 흐르면서 자속이 생긴다. 이 자속에 의하여 권회수가 W_2 인 2차권선에 기전력이 유

기된다. 단권변압기에서도 권선의 권회수와 전압사이에는 다음과 같은 관계가 성립된다.

$$n = \frac{W_2}{W_1} = \frac{U_2}{U_1}$$

이 식으로부터 2차권선전압 $U_2 = nU_1$

단권변압기에서 1차권선전류와 2차권선전류사이의 관계는 보통 변압기와 마찬가지로 다음과 같다.

$$I_2 \approx I_1 \frac{W_1}{W_2} = \frac{I_1}{n}$$

2차권선에 생기는 유도기전력에 의한 전류는 전원전압에 의하여 흐르는 전류와 방향이 반대이다.

따라서 두 전류가 동시에 흐르는 W_2 구간에서는 $(I_1 - I_2)$ 의 전류가 흐른다. 그러므로 권선의 직경이 다른 변압기들에 비하여 어느 정도 작아도 된다.

따라서 단권변압기는 권선자재를 절약할수 있고 철심도 적게 드는 우점을 가지고있다.

단권변압기의 결함은 1차권선과 2차권선이 전기적으로 연결되어있기때문에 1차권선에 가해주는 높은 전압이 2차에 걸릴수 있는것이다.

2. 전원변압기의 계산

1) 전원변압기의 요소계산

(1) 복권변압기의 요소계산

① 철심의 자름면면적 $Q_{\text{심}}$ 을 계산한다.

$$Q_{\text{심}} = 1.25 \sqrt{P_{\text{명}}} \quad [\text{cm}^2]$$

계산된 $Q_{\text{심}}$ 의 값을 가지고 철심규격표에서 알맞는 철심규격을 택한다.

② 볼트(V)당 권회수 N_0 의 계산

$$N_0 = \frac{45 \sim 60}{Q_{\text{심}}} \quad [\text{회/V}]$$

여기서 분자에 있는 45~60은 철심재료가 좋으면 45로 하고 나쁜 것을 60으로 하라는 뜻인데 보통 50으로 하면 된다.

가정용변압기를 만들 때에는 대체로 변압기의 용량을 선택하면 그에 맞는 철심면적이 정해지기때문에 그것으로 N_0 을 계산한다.

③ 1차권선과 2차권선의 권회수 N_1 , N_2 의 계산

$$N_1 = N_0 U_1 \text{ [회]}, \quad N_2 = N_0 U_2 \text{ [회]}$$

④ 1차전류 I_1 과 2차전류 I_2 의 계산

$$I_1 = \frac{P_{\text{변}}}{U_1} \text{ [A]}, \quad I_2 = \frac{P_{\text{변}}}{U_2} \text{ [A]}$$

⑤ 권선의 직경 (d)의 계산

$$1\text{차권선 직경 } d_1 = 0.8\sqrt{I_1} = 0.8\sqrt{\frac{P_{\text{변}}}{U_1}} \text{ [mm]}$$

$$2\text{차권선 직경 } d_2 = 0.8\sqrt{I_2} = 0.8\sqrt{\frac{P_{\text{변}}}{U_2}} \text{ [mm]}$$

⑥ 창면적계산

$$1\text{차권선자름면 면적 } S_1 = \frac{\pi}{4} d_1^2 \text{ [mm}^2\text{]}$$

$$2\text{차권선자름면 면적 } S_2 = \frac{\pi}{4} d_2^2 \text{ [mm}^2\text{]}$$

$$\text{실지창면적 } S = 2(S_1 + S_2)$$

(2) 단권변압기의 요소계산

① 철심의 자름면면적 $Q_{\text{철}}$ 의 계산

$$Q_{\text{철}} = 1.2\sqrt{P_{\text{변}} \left(1 - \frac{U_1}{U_2}\right)} \text{ [cm}^2\text{]}$$

여기서 1차전압 U_1 보다 2차전압 U_2 가 높으면 웃식대로 하고 반대로 U_2 보다 U_1 이 높으면 U_1/U_2 대신 U_2/U_1 로 해야 한다.

② 볼트당 권회수 N_0 의 계산

$$N_0 = \frac{45 \sim 60}{Q_{\text{철}}} \text{ [회/V]}$$

가정용변압기를 만들 때에는 변압기의 용량이 선정되기때문에 그에 맞는 철심면적이 정해져 그것으로 N_0 을 계산한다.

③ 권선들의 권회수계산

1차권회수 $N_1 = N_0 \cdot U_1$ [회]

2차권회수 $N_2 = N_0 \cdot U_2$ [회]

그림 2-8과 같이 N_2 에는 N_1 이 들어있다.

그러므로 실지 더 감는 권회수 N 은 다음과 같다.

$$N = N_2 - N_1$$

④ 권선의 직경 d 의 계산

단권변압기에서는 그림 2-9에서 보는바와 같이 공동권선구간에서 1차전류 I_1 과 2차전류 I_2 의 방향이 반대이다. 즉 1차전류 I_1 은 A에서 B으로 흐른다면 2차전류 I_2 는 B에서 A으로 흐른다.

그러므로 공동권선구간에서의 전류 I 는 $I = I_1 - I_2$ 이다. 이와 같은 관계로 하여 권선직경은 다음과 같이 계산된다.

공동권선구간(AB)에서의 권선직경 d_1 은

$$d_1 = 0.8\sqrt{I} = 0.8\sqrt{I_1 - I_2} \quad [\text{mm}]$$

더 감는 구간 (BC)에서의 권선직경 d_2 는

$$d_2 = 0.8\sqrt{I_2} \quad [\text{mm}]$$

여기서 $I_1 = \frac{P_{\text{변}}}{U_1}$, $I_2 = \frac{P_{\text{변}}}{U_2}$ 이다.

⑤ 창면적계산은 복권변압기와 같다.

2) 철심의 선정

우에서 계산한 $q_{\text{철}}$ 에 가장 가까운 규격의 철심을 표 2-1에서 찾아서 선정한다.

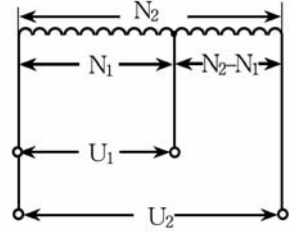


그림 2-8. 단권변압기에서의 권회수관계

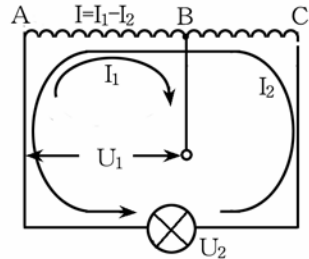


그림 2-9. 단권변압기의 전류관계

소출력변압기의 철심규격(동손실최소)

표 2-1

철심형	철심규격/mm					이 철심을 가진 변압기의 정수					
	y_1	y_2	y_3	h	b	$q_{\text{철}} / \text{cm}^2$	$l_{\text{평}} / \text{cm}$	l_0 / cm	A $1 \cdot 10^{-5}$	D $1 \cdot 10^{-6}$	질량 /g
III-10×10	10	10	6.5	18	6.5	0.88	5.66	5.68	4.4	5.8	74
III-10×15	10	15	6.5	18	6.5	1.32	5.66	6.85	5.5	8	108
III-10×20	10	20	6.5	18	6.5	1.76	5.66	7.85	6.25	9.9	141
III-12×12	12	12	8	22	8	1.27	6.74	7.0	6.97	9.7	134
III-12×18	12	18	8	22	8	1.9	6.74	8.2	6.15	13.2	194
III-12×24	12	24	8	22	8	2.54	6.74	9.4	9.8	16.2	252
III-14×14	14	14	9	25	9	1.73	7.92	8.24	9.15	14	204
III-14×21	14	21	9	25	9	2.59	7.92	9.64	11.5	19.2	274
III-14×28	14	28	9	25	9	3.45	7.92	11.1	13.1	23.6	384
III-16×16	16	16	10	28	10	2.25	9.03	9.28	12.4	19.8	299
III-16×24	16	24	10	28	10	3.33	9.03	10.9	15.3	27	429
III-16×32	16	32	10	28	10	4.5	9.03	12.9	17.2	23	559
III-19×19	19	19	12	33.5	12	3.18	10.6	11.0	19.6	32.2	514
III-19×28	19	28	12	33.5	12	4.68	10.6	12.8	24.3	43.4	735
III-19×38	19	38	12	33.5	12	6.35	10.6	14.8	27.6	54	958
III-22×22	22	22	14	39	14	4.26	12.4	13.0	27.6	47.7	830
III-22×33	22	33	14	39	14	6.39	12.4	15.2	34.1	6.5	1180
III-22×44	22	44	14	39	14	8.52	12.4	17.4	38.3	79.5	1530

이때 표에서 선정한 $q_{\text{철}}$ 이 계산한 $q_{\text{철}}$ 보다 커야 한다.

표에서 $l_{\text{평}}$ -평균자력선의 길이, l_0 -권선의 평균길이, A, D-결수, 질량-철심의 질량이다. 나머지 y_1, y_2, y_3, h, b 는 철심규격들이다. (그림 2-5 참고)

[실습] 전원변압기만들기

1. 전원변압기 만드는 방법 및 만들기

1) 권선틀 만드는 방법 및 만들기

권선틀의 재료로는 굳은 종이(경판지)가 기본이고 그밖에 마분지 또는 베클라이트판을 쓸수 있다.

그림 2-10의 ㉠)에 권선틀을 만드는 방법을 보여주었으며 그림의 ㉡)에는 완성된 권선틀의 모양을 보여주었다.

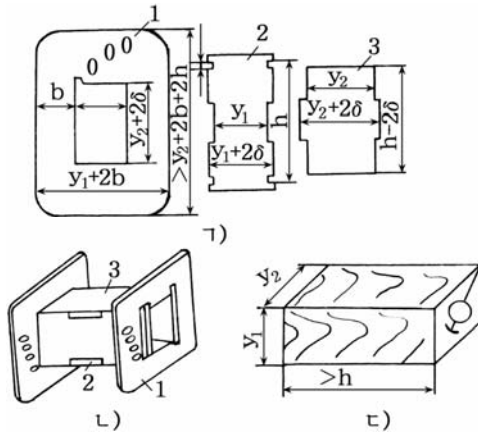


그림 2-10. 권선틀을 만드는 방법

그림에서 δ 는 권선틀재료의 두께이며 권선틀옆에 있는 구멍들은 권선을 감을 때 인출선들을 뽑아내기 위하여 뚫어놓은것이다.

그림과 같은 규격으로 권선틀을 만들었을 때 철심의 규격이 약간만 차이나도 철심을 끼워넣을수 없다. 이때 철심을 권선틀에 무리하게 넣으면 권선틀이 파손되거나 철심이 권선에 맞닿을수 있다. 그러므로 권선틀구멍의 직경은 철심의 y_1 보다 약간 크게 하는것이 좋다.

권선틀재료의 두께는 해당한 전압에서 충분한 절연과 기계적세기를 보장하는 조건에서 될수록 얇게 선정하는것이 좋다.

그림의 ㉢)는 권선을 감을 때 틀이 우그러들지 않도록 하며 틀을 권선기에 설치하기 위한 나무토막이다. 나무토막의 규격은 그림과 같고 길이방향으로 중심에 권선기축을 끼우기 위한 구멍을 뚫어야 한다.

2) 권선을 감는 방법 및 감기

① 권선틀을 권선기에 설치한다.

먼저 그림 2-10의 ㉢)와 같은 나무토막을 권선기축에 끼우고 조임나사로 나무토막을 축에 고정시킨다. 다음 권선틀을 나무토막위에 설치한다.(그림 2-11)

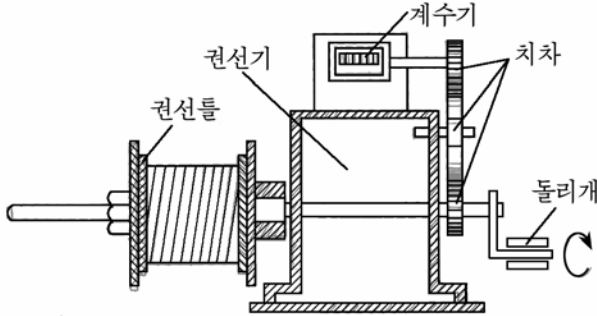


그림 2-11. 권선기에 권선틀을 설치하는 방법

② 권선틀에 대한 절연을 한다.

보통 권선을 감을 때 교류전원전압이 걸리는 1차권선을 먼저 감는다. 그러므로 220V 혹은 110V에 견딜수 있도록 1차권선과 철심사이의 절연을 잘해야 한다.

③ 권선감기를 시작한다.

그림 2-12에 권선감기를 시작하는 방법을 보여주었다.

권선을 감기에 앞서 에나멜동선 1에 직경이 0.8~1mm이고 길이가 100~150mm인 비닐관 2를 끼우고 그것을 권선틀에 뚫려있는 구멍을 거쳐 틀밖으로 절반쯤 빼낸 다음 나머지부분을 절연천으로 몇번 감고 눌러놓는다.

계수기의 눈금을 령에 맞춘 다음 에나멜동선이 움직이지 못하게 절연천우에서부터 감기를 시작한다.

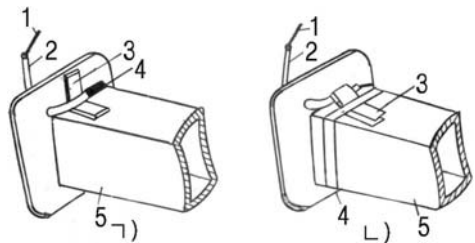


그림 2-12. 권선감기를 시작하는 방법

1, 4- 에나멜동선, 2- 비닐관, 3- 절연천,
5- 권선틀

④ 권선을 감는다.

권선을 감는 방법은 다음과 같다.

권선틀과 에나멜동선을 권 손사이의 거리는 보통 20~30cm를 보장하는것이 좋다.

굵은 도선은 낮은 속도로 감아야 한다. 가는 도선은 빨리 감을수 있으나 매우 가는 도선은 너무 빨리 감으면 끊어질수 있으므로 주의하여야 한다. 도선을 감을 때에는 일정한 당김을 주면서 감아야 한다.

그래야 필요한 권선밀도를 보장할수 있다.

그런데 도선을 지나치게 당기면서 감으면 도선이 끊어질수 있고 또한 이미 감은 도선들사이에 다른 도선들이 끼우게 되면 절연몰이 손상될수 있다. 때문에 당길힘을 적당히 주어야 한다.

권선을 한층 다 감으면 그우에 절연종이를 한벌 씌우고 다시 차례로 감기 시작한다. 이때 절연종이가 겹치는 부분이 그림 2-12의 L)에서 2쪽에 놓이게 하여야 한다. 만일 이 조건을 고려하지 않으면 다 감은 권선틀에 철심을 끼워넣지 못할수 있다. 권선을 감을 때 겹쌓인 부분은 풀고 다시 감아야 한다.

권선을 연결할 때에는 에나멜절연층을 벗기고 반드시 납땜을 한 다음 그 부분을 절연시켜야 한다.

⑤ 마지막인출선을 빼내고 권선감기를 끝낸다.

1차권선을 다 감은 다음에는 그것이 풀리지 않게 해야 한다.

그림 2-13에 마지막인출선을 빼내는 방법을 보여주었다.

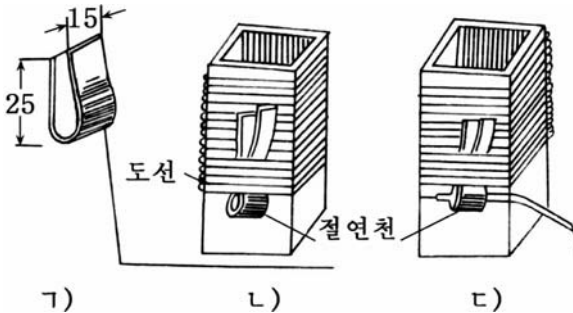


그림 2-13. 마지막인출선을 빼내는 방법

그림의 ㄱ)와 같이 절연천을 필요한 크기로 자른 다음 이것을 접어서 권선우에 놓고 그림의 ㄴ)와 같이 도선을 5~7회 더 감는다.

그리고 도선끝을 절연천구멍으로 뽑아낸 다음 절연천의 반대쪽을 잡아당긴다. 그리고 도선끝을 절연천구멍으로 뽑아낸 다음 절연천의 반대쪽을 잡아당긴다. 인출선에는 그림의 ㄷ)와 같이 비닐판을 끼우고 이것을 권선틀에 뚫려있는 구멍을 거쳐 틀밖으로 끌어낸다.

다음 2차권선을 감기 위하여 층간절연을 충분히 해야 한다.

보통 절연종이 또는 절연천을 3~5회정도 감고 그우에 다음권선을 감는데 그 방법은 앞에서와 같다.

권선을 다 감은 다음에는 역시 종이 또는 절연천을 3~5회정도 감

고 풀로 붙인다. 다 감은 권선을 절연와니스속에 담그었다가 꺼내서 잘 말리든가 녹인 파라핀속에 넣었다 꺼낸다.

3) 철심조립방법 및 조립

권선감기가 끝나면 권선틀에 철심을 꽂아 조립한다.

철심으로 쓰는 규소강판을 한장씩 서로 방향을 엇바꾸어가면서 권선틀에 꽂아넣는다. 즉 첫장을 옷방향으로 꽂았다면 다음장은 아래방향으로 꽂는다. 철심을 일정한 정도까지 꽂으면 잘 들어가지 않기때문에 나무마치로 두드리면서 마지막까지 다 꽂아넣는다.

이때 철심이 비뚤게 들어가면 그것이 권선틀을 짜면서 권선과 맞닿아 될수 있기때문에 주의하여야 한다.

철심을 다 꽂은 다음에도 틈이 있으면 철심과 권선틀사이 마분지나 수지판을 끼워넣어 전원을 넣었을 때 규소강판들이 떨지 않게 하여야 한다.

4) 전원변압기 고정용쇠우개 만드는 방법 및 만들기

그림 2-14에 변압기를 고정하기 위한 쇠우개를 만드는 방법을 보여주었다.

그림의 ㉠)는 절단가공한 철판의 모양이다.

철판의 두께는 변압기의 크기에 따라 보통 0.3~1mm로 선정하는것이 좋다. 나머지기호들은 외철형철심규격과 같다. 그림의 ㉡)는 변압기쇠우개의 외형이다.

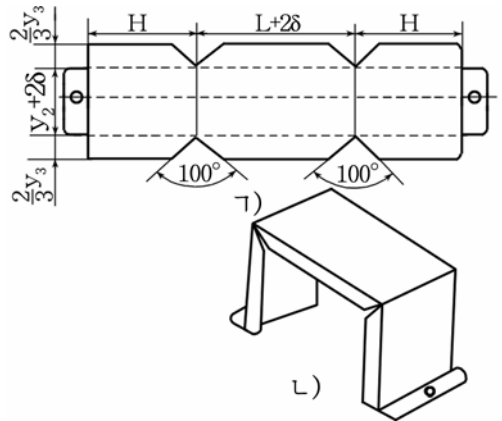


그림 2-14 . 고정용쇠우개를 만드는 방법

2. 전원변압기의 시험

1) 전원을 넣지 않은 상태에서 시험

전원변압기를 다 만든 다음에는 전원을 넣기 전에 회로시험기로 저항시험을 진행한다.

회로시험기를 저항측정상태에 놓고 두 측정봉을 그림 2-15의 ㉠)와 같이 접속한다.

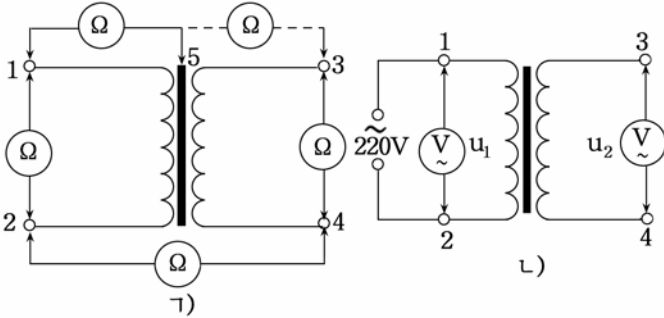


그림 2-15. 전원변압기의 시험방법

그림에서 측정봉을 1과 2, 3과 4에 접속했을 때 저항값이 수~수십 Ω 을 가리키면 정상이다. 만일 이때 저항값이 ∞ 이면 선류이 끊어진 것이다.

다음 측정봉을 단자 5와 1, 5와 3, 2와 4위치에 각각 접속하였을 때 저항값들이 거의 ∞ 로 되면 정상이다. 만일 저항값이 0Ω 으로 나오거나 일정한 값을 가리킨다면 맞닿아되었거나 절연이 나쁜 것이다.

이와 같은 시험과정에 전원변압기가 비정상이면 권선을 풀고 고장난 부분을 퇴치하거나 고치기 힘든 경우에는 다시 감아야 한다.

2) 전원을 넣은 상태에서 시험

저항시험에서 전원변압기가 정상이면 그림 2-15의 2)와 같이 1차 권선에 전원을 연결한다.

이때 소리가 거의 들리지 않으면 그림 2-15와 같이 회로시험기를 교류전압측정위치에 놓고 1차 권선전압과 2차 권선전압을 측정한다.

1차 권선전압이 정확히 220V일 때 2차 권선전압 U_2 가 계산값과 같은가를 확인한다.

만일 1차 권선전압 U_1 이 규정된 전압인 220V보다 작다면 U_1 에 변압비 n 을 곱한 값이 측정값 U_2 와 같은가에 대하여 따져보아야 한다.

이때 같으면 변압기가 정상인 것이고 $nU_1 > U_2$ 이면 2차 권선의 권회수가 모자란다는 것을 의미하며 $nU_1 < U_2$ 이면 2차 권선의 권회수가 규정된 값보다 많다는 것을 의미한다.

다음으로 전원을 넣으면 《붕-》하는 소리가 크게 나면서 연기가 나거나 권선이 몹시 뜨거워지는 경우가 있는데 이것은 변압기 권선이 부분적으로 맞닿아된 경우이므로 즉시 전원을 꺼야 한다.

그리고 전원을 넣으면 《챙-》하는 소리가 들리는 경우가 있는데 이것은 철심이 떠는 소리이다.

이때에는 철심을 잘 조이면 이 소리가 들리지 않는다.

연습문제

1. 변압기에서 권회수와 전압 및 전류사이에는 어떤 관계가 있는가?
2. 단권변압기와 복권변압기의 차이점과 우결함을 설명하여라.
3. 변압기를 만들 때 권선의 권회수를 왜 정확히 보장해야 하는가?
4. 권선을 정해진 크기보다 굵거나 가는 권선을 쓰면 어떤 문제가 생기는가?
5. 전원주파수가 $f=60\text{Hz}$, 1차권선전압 $U_1=220\text{V}$, 2차권선전압 $U_2= 26.4\text{V}$, 정격용량 $P_{\text{변}}=40\text{W}$ 인 전원변압기를 계산하여라.

제3절. 반도체정류기

1. 반도체정류기에 대한 일반지식

1) 정류기에 대한 개념

정류기란 교류를 직류로 바꾸는 장치를 말한다.

정류기는 보통 전원변압기와 교류를 직류로 바꾸는 정류변, 정류된 전류에 포함되어있는 교류성분을 제거하는 평활리파기로 구성된다.

정류기는 정류변으로 어떤 요소를 썼는가에 따라 반도체2극소자정류기, 조종용정류소자정류기 등으로 나눈다.

정류기는 또한 정류방법에 따라 반파정류기, 전파정류기, 배전압정류기로 나누며 상수에 따라 단상정류기, 3상정류기 등으로 나눈다.

2) 정류용2극소자

반도체정류기에서 교류를 직류로 바꾸는 기본작용은 정류변을 이루는 정류용2극소자가 한다. 여기서는 정류용2극소자의 기본정수와 우리나라에서 생산되는 정류용2극소자와 자호보는 방법에 대하여 보자.

정류용2극소자의 기본정수는 최대역전압, 파괴전압, 정격교류입구전압, 최대정류전류 등이다.

최대역전압은 2극소자에 역방향으로 걸수 있는 직류전압의 최대값이며 파괴전압은 역방향전압을 증가시킬 때 역방향전류가 급격히 증가

하는 점의 전압이다.

정격교류입구전압은 정류기에 걸어줄수 있는 최대교류입구전압이며 최대정류전류는 정류용2극소자에 최대로 흐를수 있는 정방향전류이다.

우리 나라에서 생산되는 정류용2극소자는 자호의 맨앞에 정류소자라는 의미에서 <정>이라는 글자를 쓴다.

례를 들면 정236, 정412, 정812를 들수 있다.

우리 나라에서 생산되는 정류용2극소자는 크게 4가지 계열 즉 정200계열, 정400계열, 정600계열, 정800계열로 나눈다. 이렇게 나누는 기본지표는 역방향전압과 정류전류이다.

정200계열의 정류전류는 0.1~1A, 정400계열은 3~10A, 정600계열은 20~100A, 정800계열은 200A이다.

역방향전압은 매개 계열에서 마지막수자로 표시한다.

례를 들면 정200은 50V, 정225는 500V이다.

마지막수자가 7~9에서는 그 수자보다 100, 200, 300V씩 높아진다.

례를 들면 정237은 800V, 정238은 1 000V, 정239는 1 200V이다.

표 2-2에는 정류용2극소자의 매 계열에서 한가지씩만 소개하였다.

정류용2극소자의 정수

표 2-2

정수 소자이름	최대역전압 /V	파괴전압 /V	정격입구 전압/V	최대정류 전류/A
정222	200	300	60	0.1
정410	50	75	15	5
정626	600	900	180	100
정812	200	300	60	200

2. 반도체정류기의 회로와 동작원리

1) 반파정류회로와 그 동작원리

반파정류회로란 교류전압의 <+> 반주기동안에만 부하로 전류를 흘려보내고 <-> 반주기동안에는 전류를 차단하는 정류회로를 말한다.

(1) 회로구성과 동작원리

그림 2-16에 반파정류회로를 보여주었다.

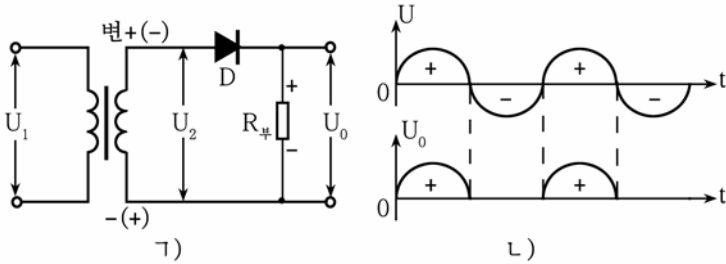


그림 2-16. 반파정류회로(ㄱ)와 정류파형(L)

그림에서 보는바와 같이 이 회로는 한개의 정류소자와 전원변압기 <변>, 부하 R_b 로 이루어져있다.

전원변압기의 1차권선에는 220V의 교류전압 U_1 을 연결하여 2차전압 U_2 는 요구하는 직류전압보다 2.2배 되게 권선을 감는다.

회로의 동작원리는 다음과 같다.

변압기 2차권선의 윗끝이 <+>, 아래끝이 <->로 되는 교류전압의 반주기동안에는 정류소자 D에 정방향전압이 걸리므로 변압기 2차권선의 윗끝(+) \rightarrow 정류소자 D의 양극 \rightarrow 음극 $\rightarrow R_b \rightarrow$ 2차권선의 아래끝(-)으로 전류가 흐른다. 이때 부하저항 R_b 의 윗끝은 <+>, 아래끝은 <->로 된다.

다음 반주기동안에는 변압기 2차권선의 윗끝이 <->, 아래끝이 <+>로 되어 정류소자 D에 역방향전압이 걸리므로 전류가 흐르지 못한다.

이와 같이 교류의 반파에 대해서만 정류작용을 하기때문에 이 회로를 반파정류회로라고 부른다.

(2) 우결함

반파정류회로는 회로가 간단한것이 우점이다. 결함은 교류전압의 반주기만 정류하므로 변압기의 리용률이 낮으며 정류된 파형가운데 교류성분이 많이 섞이는것이다.

2) 전파정류회로

전파정류회로는 교류의 한주기 즉 <+> 반파와 <-> 반파 모두에 대하여 정류작용을 하는 회로이다.

전파정류회로에는 변압기 2차권선의 중성점을 쓴 회로와 전기다리 전파정류회로가 있는데 여기서는 흔히 쓰이고있는 전기다리전파정류회로에 대해서만 보자.

(1) 회로구성

전기다리전파정류회로는 정류소자 4개를 가지고 그림 2-17과 같이 연결하였다. 이와 같이 4개의 전자요소를 가지고 4개의 변을 이루게 연결한 회로를 **전기다리**라고 부른다.

전기다리의 한 대각점에는 변압기2차권선이 연결되고 다른 대각점에는 부하가 연결된다.

이때 2극소자의 두 음극이 연결된 A점은 $\langle + \rangle$, 두 양극에 연결된 B점은 $\langle - \rangle$ 로 된다.

(2) 동작원리

변압기2차권선의 윗끝이 $\langle + \rangle$, 아래끝이 $\langle - \rangle$ 로 되는 교류의 반주기동안에는 2극소자 D_1, D_3 에 정방향전압이 걸리고 D_2, D_4 에는 역방향전압이 걸린다. 따라서 이때에는 변압기2차권선의 윗끝(+) $\rightarrow D_1 \rightarrow R_{\text{부}} \rightarrow D_3 \rightarrow$ 변압기2차권선의 아래끝(-)으로 전류가 흐르면서 부하저항 $R_{\text{부}}$ 의 오른쪽단자가 $\langle + \rangle$, 왼쪽단자가 $\langle - \rangle$ 로 된다.

교류전압의 다음 반주기에서는 변압기2차권선의 아래끝이 $\langle + \rangle$, 윗끝이 $\langle - \rangle$ 로 되므로 이때에는 D_2, D_4 에 정방향전압이 걸리고 D_1, D_3 에는 역방향전압이 걸리게 된다. 따라서 변압기2차권선의 아래끝(+) $\rightarrow D_2 \rightarrow R_{\text{부}} \rightarrow D_4 \rightarrow$ 변압기2차권선의 윗끝(-)으로 전류가 흐르면서 $R_{\text{부}}$ 에 먼저와 같은 극성의 전압이 걸리게 된다.

결과 부하저항($R_{\text{부}}$)에는 교류의 한주기동안 같은 방향의 두개의 전압파형이 작용한다. 이와 같이 교류의 전체 파형에 대하여 정류작용을 하므로 **전파정류회로**라고 부른다.

(3) 우결합

이 정류회로에서 정류된 직류전압 U_0 과 변압기2차권선전압 U_2 사이에는 $U_0=0.9U_2$ 의 관계가 있다. 즉 반파정류회로에 비하여 2배의 직류전압이 얻어진다.

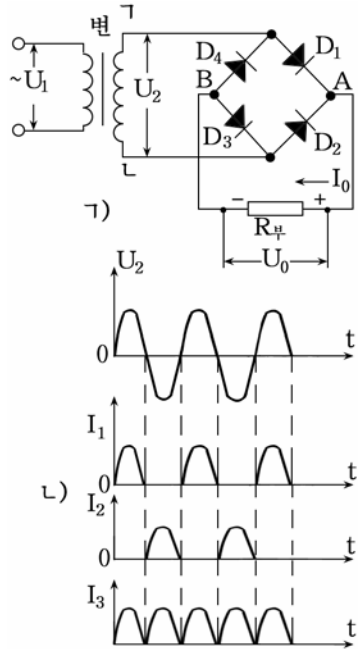


그림 2-17. 단상전기다리형 전파정류기

다음 정류소자에 작용하는 역전압의 최대값은 $U_{역최대}=1.57U_0$ 으로서 반파정류회로에 비하여 절반으로 작아진다. 따라서 반파정류회로때보다 허용전압이 작은 2극소자를 써도 된다.

이 정류회로의 결함은 반파정류회로에 비하여 반도체 2극소자를 많이 쓰며 회로가 복잡한 것이다.

연습문제

1. 반파정류회로를 써서 12V의 직류전압을 얻으려고 한다. 이때 변압기 2차권선의 전압은 얼마로 해야 하며 정류소자로 어떤 소자를 써야 하는가?
2. 전기다리전파정류회로에서 D_1 과 D_3 이 끊어졌을 때 이 정류회로가 어떻게 동작하며 부하에 걸리는 직류전압은 어떻게 되겠는가?

3. 평활려파기

1) 평활려파기에 대한 개념

평활려파기란 맥동전류를 크기가 항상 일정한 완전한 직류로 만들기 위한 장치를 말한다.

그림 2-17의 L)에서 보는바와 같이 정류기의 출구전압(또는 전류)은 완전한 직류가 못되고 그 크기가 주기적으로 변하는 전압으로 된다.

이런 전압을 **맥동전압**이라고 한다. 이 맥동전압(전류)은 직류성분과 함께 교류성분을 포함하고있다.

직류를 요구하는 전자장치에 이와 같은 교류성분이 포함된 전압을 공급하면 장치가 오동작하거나 여러가지 잡음이 생겨 동작의 질이 떨어진다. 그러므로 정류전압속에 포함되어있는 교류성분을 없애는 문제가 중요하게 제기된다.

평활려파기는 정류기의 출구에 연결되어 정류된 전압(또는 전류)가운데에 들어있는 교류성분을 없애고 시간에 따라 그 크기가 변하지 않는 직류전압을 만드는 역할을 한다.

평활려파기는 맥동결수와 평활결수에 의하여 그 질이 평가된다.

맥동결수는 정류된 전압가운데 교류성분이 얼마나 포함되어있는가를 나타내는 량으로서 직류성분과 교류성분사이의 비로 표시된다.

$$K_{\text{맥}} = \frac{U_{\text{교}}}{U_0}$$

단상반파정류기에서 $K_{\text{맥}}=1.57$ 이며 단상전파정류기에서는 $K_{\text{맥}}=0.67$ 이다. 평활결수($K_{\text{평}}$)는 평활려파기가 평활려파작용을 얼마만큼 하는가를 나타내는 정수로서 평활려파기를 거치기 전 맥동결수 $K_{\text{맥, 전}}$ 과 평활려파기를 거친 다음의 맥동결수 $K_{\text{맥, 수}}$ 와의 비로 표시된다.

$$K_{\text{평}} = \frac{K_{\text{맥, 전}}}{K_{\text{맥, 수}}}$$

$K_{\text{맥, 전}}$ 은 단상전파정류기에서 0.67이며 $K_{\text{맥, 수}}$ 는 부하와 평활려파기의 질에 따라 달라진다. 평활결수는 클수록 좋다.

2) 평활려파기의 분류와 동작원리

평활려파기는 평활려파요소로 무엇을 썼는가에 따라 유도평활려파기, 용량평활려파기, 반도체3극소자 평활려파기, 연산증폭기를 쓴 평활려파기 등으로 나눈다.

평활려파기는 또한 회로구성형식에 따라 단순한 평활려파기, Γ 형 평활려파기, π 형평활려파기 등으로 나눈다.

(1) 용량평활려파기

용량평활려파기는 용량이 큰 전해축전기를 쓴 평활려파기를 말한다.

평활용축전기는 부하에 병렬로 연결한다. (그림 2-18)

용량평활려파기는 전기회로에서 축전기의 작용을 리용하고있다.

이미 앞에서 본바와 같이 축전기는 직류를 그림 2-18. 용량평활려파기 통과시키지 않고 교류만 통과시키며 전기량을 축적하는 성질을 가지고 있다.

정류기에서 정류된 전류에서 교류성분은 평활축전기 $C_{\text{리}}$ 를 통해 접지로 흐르고 직류성분만 부하저항 $R_{\text{부}}$ 로 흐른다. (려파작용)

평활축전기의 용량성저항은 다음과 같다.

$$X_c = \frac{1}{\omega C_{\text{리}}} = \frac{1}{2\pi f C_{\text{리}}}$$

이 식으로부터 주파수 f 가 큰 교류성분일수록 $C_{\text{리}}$ 에서 더 잘 려파하리라는 것을 알 수 있다.

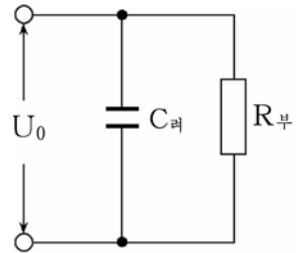


그림 2-18. 용량평활려파기

주파수가 낮은 교류성분에 대해서는 $C_{리}$ 가 다음과 같이 작용한다.

정류기의 출구전압이 축전기의 $C_{리}$ 의 단자전압보다 높을 때에는 충전되고 정류기의 출구전압이 축전기의 단자전압보다 낮아질 때에는 축전기에 충전하였던 전기에 에너지를 부하에 내보낸다.

결과 부하에 걸리는 전압은 평활축전기가 없을 때보다 훨씬 작게 변한다. 즉 평활축전기는 정류전류에 대하여 평활작용을 한다.

평활축전기가 평활작용을 원만하게 하자면 그의 용량성저항이 부하저항보다 훨씬 작아야 한다.

$$X_C = \frac{1}{m\omega C_{리}} \ll R_{부}$$

여기서 m 은 정류기의 종류에 관계되는 결수로서 반파정류기에서 $m=1$ 이고 전파정류기에서는 $m=2$ 이다.

용량평활리파기는 자체전력손실이 극히 작은 우점이 있다.

결함은 초기충전전류에 의하여 반도체소자가 파괴될수 있는것이다. 즉 전원을 넣는 순간 용량이 큰 축전기로 충전전류가 흐르면서 소자에 파전류가 흐를수 있다.

(2) 유도평활리파기

유도평활리파기는 평활리파요소로 색류선륜을 쓴 평활리파기로서 색류선륜은 부하와 직렬로 연결된다. (그림 2-19)

선륜은 직류를 잘 통과시키지만 교류는 잘 통과시키지 않는 성질이 있다. 색류선륜으로 흐르는 정류전류의 교류성분은 철심에 교번자속을 만들며 이 자속은 선륜에 부하전류의 변화를 방해하는 역기전력(자체유도기전력)을 일으킨다.

즉 전류가 커질 때에는 전류가 커지는것을 방해하는 방향으로 자체유도기전력이 생기며 전류가 작아질 때에는 전류가 작아지는것을 방해하는 방향으로 자체유도기전력이 생긴다.

결과 정류기의 출구전압가운데서 교류성분은 억제되고 부하에 걸리는 전압의 변화는 작아지게 된다.

색류선륜이 평활작용을 잘하자면 그의 유도성저항 X_L 이 부하저항보다 훨씬 크도록 해야 한다. 즉 다음의 조건을 만족해야 한다.

$$X_L = m\omega L \gg R_{부} \quad L - \text{색류선륜의 유도도}$$

색류선륜의 유도성저항 X_L 을 크게 하자면 그의 유도도 L 이 커야 한다.

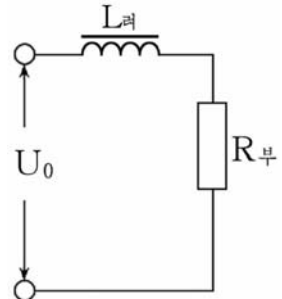


그림 2-19. 유도평활리파기

(3) Γ 형평활러파기

Γ 형평활러파기는 용량이 큰 전해축전기 $C_{러}$ 와 선택성분 $L_{러}$ 또는 저항 $R_{러}$ 가 $\langle \Gamma \rangle$ 자모양으로 결합된 평활러파기이다. (그림 2-20)

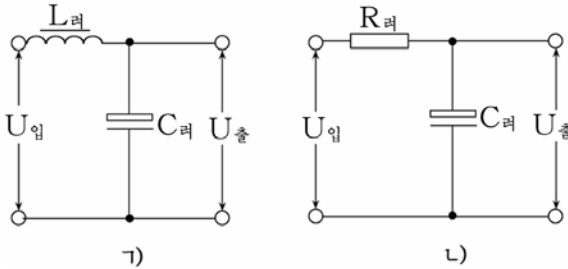


그림 2-20. Γ 형평활러파기

이 평활러파기는 개별적으로 된 평활러파기들에 비하여 평활작용을 잘한다.

그러면 Γ 형평활러파기의 동작원리를 보자.

유도도 $L_{러}$ 는 직류에 대해서는 저항작용을 하지 않으므로 직류는 거의 그대로 출구에 나오고 교류성분은 저항을 받아 작아진다. 여기서 작아진 교류성분은 축전기 $C_{러}$ 에 걸린다.

그런데 축전기는 교류를 잘 통과시킨다.

이렇게 되어 $C_{러}$ 의 양끝사이에 걸리는 교류전압은 극히 작아진다.

유도도 $L_{러}$ 대신 저항 $R_{러}$ 를 넣으면 $R_{러}$ 에서의 직류전압떨어짐이 생기므로 손실이 있다.

그러나 정류전류가 수십 mA 정도 되는 작은 정류기에서는 그것이 그리 큰 문제로 되지 않으므로 정류기의 질량을 작게 하기 위해 널리 쓰인다.

$L_{러}$, $C_{러}$, $R_{러}$ 의 값들은 정류기의 질적요구와 용량에 따라 다르지만 보통 $L_{러}$ =수백 mH, $C_{러}$ =50~1 000 μ F로 하며 $R_{러}$ 의 값은 부하저항에 많이 관계되는데 부하저항의 약 1/4 정도로 한다.

소형정류기에는 회로를 만들기 쉽고 체적과 질량이 작은 RC평활러파기를 많이 쓴다.

(4) π 형평활러파기

π 형평활러파기는 Γ 형평활러파기와 용량평활러파기를 결합한 평활러파기이다. L과 C 혹은 R과 C가 $\langle \pi \rangle$ 자와 같이 연결되었다고 해서 이 평활러파기를 π 형평활러파기라고 한다. (그림 2-21)

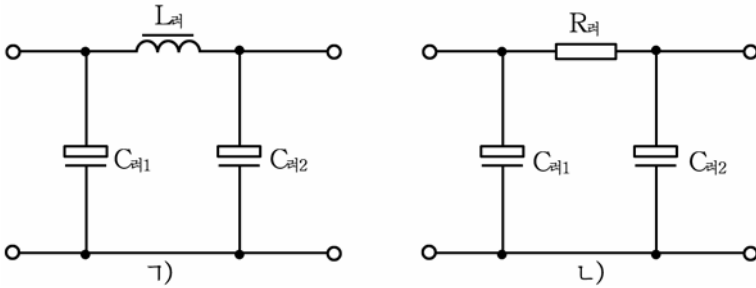


그림 2-21. π 형평활러파기

π 형평활러파기의 동작원리는 앞에서 본 Γ 형평활러파기에 용량 평활러파기의 동작원리를 합친것과 같다. 여기서 $C_{\pi1}=C_{\pi2}$ 로 되게 하는것이 좋다.

[상식] 정류회로를 발명한 플레밍

영국의 전기학자 존 엠브로우크 플레밍(1849-1945)은 에디슨효과(진공관안에서 전자의 흐름)을 연구하는 과정에 가열선조로부터 전자라는 새로운 립자가 튀어나오며 가열선조 맞은편에 설치한 극판에 (+)전압을 걸어주었을 때에만 극판이 (-)전자를 끌어당긴다는것을 발견하였다.

이것은 가열선조가 (-)극일 때에만 극판에 전류가 흐르고 그와 반대일 때에는 흐르지 않는다는것을 의미한다. 이처럼 전자관에 교류전압을 걸어주면 직류전압이 나오는셈이다. 이리하여 1904년에 정류회로를 발명하였다. 그는 이것을 전류가 한쪽으로만 흐른다고 해서 변이라고 불렀다.

[참고자료]

△ 반도체소형충전기

소형충전기의 회로는 그림 2-22와 같이 축전기 $C(1\mu F/300V)$ 와 저항기 $R(680k\Omega)$, 반도체2극소자 정1, 정2, 정3, 정4로 이루어져있다.

전원을 넣으면 220V의 교류전압이 축전기 C 와 저항기 R 를 통해 반도체2극소자 정1, 정2, 정3, 정4로 이루어진 전기다리형정류회로에 가해진다. 이때 220V 교류전압은 축전기 C 와 저항기 R 에 대부분 걸리고 전기다리형정류회로의 입구에는 낮은 전압이 가해진다.

R 와 C 에서 낮아진 이 교류전압은 전기다리형정류회로에서 전파정류된 다음 출구에 련결된 축전지(또는 충전지)를 충전시킨다.

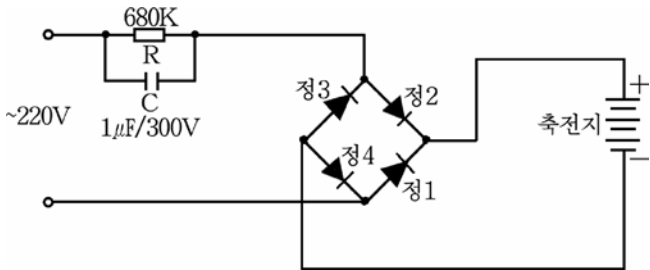


그림 2-22. 반도체소형충전기

지금 가정들에서 사용되는 모든 충전지들에는 이 회로가 들어있다.

회로에서 충전기는 무극성 충전기여야 하며 용량이 클수록 충전전류가 커진다.

[실습] 반도체정류기만들기

1. 반도체정류기의 회로선정

반도체정류기는 부하의 크기와 종류, 전원에 대한 질적지표 등에 따라 자체로 설계할수도 있고 이미 있는 회로를 리용할수도 있다.

그림 2-23에 반도체정류기의 한가지 실례를 보여주었다.

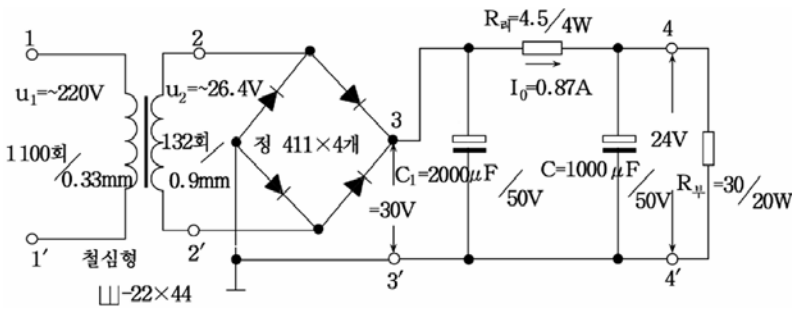


그림 2-23. 반도체정류기의 회로도

2. 부분품의 선택과 검사

먼저 실제회로도에 기초하여 해당한 부분품들을 선택한다.

① 전원변압기는 회로도에 표시된것과 같은 규격을 선택한다.

② 정류변으로는 규소정류소자를 4개 선택한다.

③ 저항기들은 회로도에 표시된 저항값과 소비전력을 동시에 만족시키는것으로 선정하여야 한다. 만일 우와 같은 규격의 저항기가 없다

면 망가닌선으로 간단히 만들수도 있다.

④ 축전기는 만들수 없으므로 회로도에 규정된것을 선택한다.

⑤ 반도체정류기를 조립하기 전에 매 부분품들이 정상인가에 대하여 검사한다. 부분품들의 검사는 먼저 외부적인 검사를 하고 계속하여 회로시험기로 하여야 한다.

검사과정에 불량이가 발견되면 새것으로 바꾸어야 한다.

3. 반도체정류기의 조립

1) 조립틀제작

조립틀로는 인쇄기판을 쓰는것이 좋으나 없는 경우에는 두께가 0.5~1mm인 철판과 베클라이트판을 써도 된다.

먼저 부분품들을 종이우에 올려놓고 부분품배치도를 작성한다.

부분품배치는 정류기의 체적이 가장 작으면서 배선들의 길이를 짧게 그리고 규모있게 하여야 한다.

이와 같은 원칙에서 작성된 부분품배치도를 그림 2-24에 보여주었다.

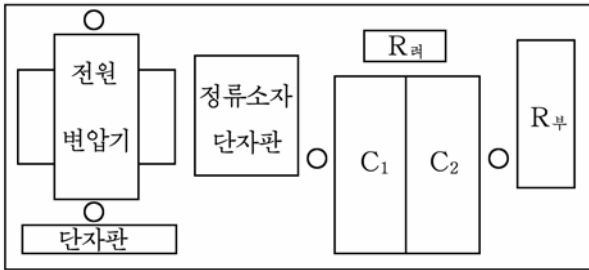


그림 2-24. 반도체정류기의 부분품배치도

부분품배치도에 따라 조립틀을 알맞는 규격으로 자르고 부분품들을 고정시킬 구멍을 뚫는다.

2) 정류기의 조립

① 일반적으로 전자장치를 조립할 때에는 먼저 기계적조립부터 진행하며 기계적조립에서는 제일 조립하기 힘든 부분품부터 조립한다.

여기서는 장치가 비교적 간단하므로 특별한 순서가 없어도 된다.

기계적조립의 대상은 전원변압기, 두개의 전해축전기와 두개의 단자판인데 나사로 고정시킨다.

② 다음은 전기적조립을 진행한다.

전기적조립은 배선들에 의한 납땜의 방법으로 진행한다.

납땜작업을 쉽게 하기 위하여 납땜장소들을 칼 또는 연마지로 잘 벗기고 미리 납물을 올려놓는다. 다음은 납땜작업을 한다.

전기적조립은 전원변압기 1차권선, 2차권선, 반도체2극소자회로, 평활과파회로의 순서로 진행한다.

납땜작업에서는 다음과 같은 점들을 지켜야 한다.

납땜할 때 반도체소자가 열을 받지 않게 하기 위하여 소자의 인출선을 평집게나 핀셋과 같은것으로 잡고 앞끝을 살짝 때야 한다.

이때 평집게나 핀셋이 움직이지 않도록 해야 한다.

부분품들을 단자판이나 조립판에 납땜할 때에는 반드시 배선부분의 끝을 단자판이나 기관구멍에 꽂고 구부려서 때야 한다.

한 부분에 여러개의 도선을 때거나 단자가 없이 납땜할 때에는 땜부분을 몇회정도 감아놓고 때야 한다.

4. 반도체정류기의 시험

① 조립이 끝나면 먼저 전원을 넣기 전에 회로시험기를 저항측정상태에 놓고 시험한다.

여기서는 부분품들이 회로도대로 배선되었는가, 납땜부분들이 든든한가 등을 우선 검열한다.

다음 그림 2-23에서 $R_{부}$ 를 땜 상태에서 회로시험기의 두 측정봉을 회로의 3과 3', 4와 4'에 각각 대본다.(측정봉의 위치는 <->측정봉은 3, 4점이고 <+>측정봉은 3', 4'점이다.)

축전기를 시험할 때와 같이 계기바늘이 순간적으로 크게 움직였다가 천천히 제자리로 돌아오면 회로는 정상이다.

만일 이 시험을 하지 않고 전원을 넣으면 전해축전기가 맞닿아되었을 때 2극소자들과 전원변압기를 순간적으로 못쓰게 만들수 있다.

나머지 부분품들도 하나하나 회로시험기로 검사한다.

② 전원을 넣고 시험한다.

위의 시험에서 정상이면 반도체정류기에 전원을 넣고 시험한다.

회로시험기를 전원변압기의 2차권선전압보다 높은 교류전압대역에 놓고 측정봉을 단자 2와 2'에 대어 2차권선전압이 정상인가를 본다.

정류된 직류전압은 회로시험기를 정류된 직류전압보다 높은 직류전압대역에 놓고 <+>측정봉은 단자 3에, <->측정봉은 단자 3'에 대어 검사한다. 회로시험기의 <+>측정봉만 단자 4에 옮겨 려과기출구 즉 부하전압을 검사한다.

이 시험들에서 측정값이 요구되는 값과 같은가를 알아보고 차이가 나면 그 원인을 찾아서 퇴치한다.

만일 시험과정에 전원변압기와 2극소자, 려과용저항기가 몹시 열을 받거나 연기가 나면 즉시 전원을 끄고 원인을 찾아야 한다.

이러한 현상은 흔히 C_2 가 맞닿아되거나 절연이 나쁠 때 생기므로 C_2 를 검사하고 교체하여야 한다.

또한 정류기를 설치 전자장치에 려결할 때 부하의 어느 한 부분이 맞닿아되거나 저항이 작아졌을 때에도 우와 같은 현상이 나타난다.

만일 $R_{리}$ 는 열을 받지 않는데 전원변압기와 2극소자들이 열을 받는다면 이것은 C_1 의 절연이 나쁜것이다.

정류기의 동작상태에서 접지선을 손으로 짚 때 높은 전압이 걸리는 경우가 있는데 이것은 변압기 1차권선이 철심에 맞닿아되었거나 권선이 습기를 받아 절연이 나빠졌기때문이므로 대책을 세워야 한다.

연습문제

1. 반파정류기와 전파정류기의 차이점과 우결함을 이야기하여라.
2. 반도체2극소자는 어떻게 정류작용을 하는가?
3. 전기다리형 전파정류기에서 정류과정을 설명하여라.
4. 맥동전류란 어떤 전류이며 맥동전류로부터 완전한 직류전류를 얻자면 어떻게 하여야 하는가?
5. 왜 평활려과기를 1형 또는 π 형으로 회로를 구성하는가?

[상식] 발전소들에서 생산된 전기는 왜 교류로 전송하는가?

TV이나 녹음기와 같은 약전기구들의 전원은 모두 직류를 쓴다.
그러면 왜 발전소들에서는 직류를 생산하여 보내지 않고 교류를 생산하여 보내주는가.

교류는 변압기철심에 교번자속을 만들며 이것은 자기회로를 따라 흐르면서 2차권선에 작용하여 유도기전력을 만들며 이 2차권선에 부하를 려결하면 2차회로에 전류가 흐른다.

그러나 직류는 교번자속을 만들지 못하므로 2차권선에 유도기전력을 만들지 못하며 따라서 직류변압기는 없다.

2차권선에 유도되는 전압 즉 2차전압이 높을수록 전기를 보낼 때 도중손실이 적어지며 이 원인으로 하여 발전소들에서는 수천~수만V이상의 전압으로 만들어 멀리까지 보낸다.

따라서 소비지에서는 이 높은 전압을 낮은 전압으로 바꾸기 위한 변압기가 있어야 하며 약전기구들에는 필요한 직류전압을 얻기 위한 정류회로가 필요하게 된다.

제4절. 직류전압안정기

1. 직류전압안정기에 대한 일반지식

1) 직류전압안정기에 대한 개념

전자측정기구와 자동조종장치, 컴퓨터를 비롯한 각종 전자장치들은 안정된 직류전원을 요구한다.

그러나 아무리 좋은 평활력파기를 쓴다고 해도 정류기의 출구전압은 전원전압과 부하전류의 변화에 따라 달라진다.

때문에 정류기의 다음단에 직류전압안정기를 편결한다.

직류전압안정기란 전원전압이 변하거나 부하전류가 변할 때에도 항상 일정한 직류전압을 내는 전자장치를 말한다.

직류전압안정기에는 정수형직류전압안정기, 보상형직류전압안정기, 집적회로연산증폭기를 쓴 직류전압안정기, 전압안정집적소자를 쓴 직류전압안정기 등이 있다. 정수형직류전압안정기는 전압안정2극소자 자체의 역방향전압-전류특성을 그대로 리용한 안정기이다.

보상형직류전압안정기는 출구부하전압의 변화량을 기준값과 비교하여 그 차를 얻어내고 그것으로 조종소자를 조종하는 방법으로 안정을 실현하는 직류전압안정기이다. 높은 질을 보장하는 직류전압안정기는 모두 보상형으로 되어있다.

2) 직류전압안정기의 기본정수

직류전압안정기의 질을 평가하는 기본정수는 전압안정결수이다.

전압안정결수 $K_{안}$ 은 다음과 같이 정의된다.

$$K_{안} = \frac{\frac{\Delta U_{입}}{U_{입}}}{\frac{\Delta U_{출}}{U_{출}}}$$

$\Delta U_{입}$, $\Delta U_{출}$ - 안정기의 입구전압과 출구전압의 변화량

$U_{입}$, $U_{출}$ - 안정기의 입구전압과 출구전압

전압안정결수는 클수록 좋다. 즉 전압안정결수가 커야 입구전압의 변화가 커도 출구전압의 변화는 작다.

3) 정수형전압안정회로

(1) 회로구성

이 회로는 제너2극소자의 역방향특성을 리용한 전압안정회로이다.

그림 2-25의 ㄱ)와 같이 제너2극소자 $D_{안}$ 은 역방향전압이 걸리도록 부하저항과 병렬로 연결한다.

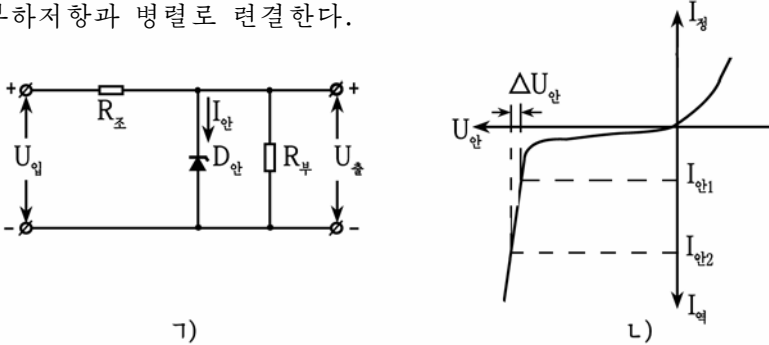


그림 2-25. 정수형전압안정회로(ㄱ)와 제너2극소자의 역방향특성(ㄴ)

조절저항 $R_{조}$ 는 $D_{안}$ 과 $R_{부}$ 에 직렬로 연결하는데 그의 크기는 $D_{안}$ 에 의하여 결정된다.

이 전압안정회로의 입구는 정류회로의 출구와 연결한다.

(2) 동작원리

제너2극소자의 역방향특성을 보면 어떤 구역에서는 전류가 크게 변하여도 전압은 거의 변하지 않고 그대로 유지되고있다. 그림 2-25의 ㄴ에서 역방향전류가 $I_{안1}$ 로부터 $I_{안2}$ 로 커질 때 역방향전압은 $\Delta U_{안}$ 만큼밖에 변하지 않았다.

먼저 입구전압($U_{입}$)이 변하는 경우 출구전압이 어떻게 안정되는가를 보자.

회로에서 조절저항 $R_{조}$ 와 제너2극소자 $D_{안}$ 은 직렬로 연결되어있으므로 $U_{입} = U_{조} + U_{안}$ 으로 된다. 여기서 $U_{조}$ 는 $R_{조}$ 에 생기는 전압떨어짐으로서 $U_{조} = \Delta I_{안} R_{조}$ 이며 $U_{안}$ 은 $D_{안}$ 에 걸리는 전압으로서 출구전압과 같다.

$$U_{출} = U_{입} - \Delta I_{안} \cdot R_{조}$$

이제 입구전압이 ΔU 만큼 높아졌다고 하자. 그러면 입구전류는 $\Delta I_{안}$ 만큼 증가하여 $R_{조}$ 와 $D_{안}$ 으로 흐른다. 그런데 안정소자의 특성으로 하여 $U_{안}$ 은 달라지지 않고 입구전압의 증가는 $R_{조}$ 에 $\Delta I_{안} R_{조}$ 만한 전압떨어짐의 증가를 가져온다. 즉 입구전압이 커지는것만큼 $R_{조}$ 에서 전압떨어짐이 커지므로 출구전압은 일정하게 보장된다.

입구전압이 작아지는 경우에는 $R_{\text{조}}$ 에서의 전압떨어짐이 그만큼 작아지면서 출구전압이 일정하게 유지된다.

다음은 부하저항이 달라지는 경우에 출구전압이 어떻게 되는가를 보자.

먼저 부하저항이 커지는 경우 거기로 흐르는 전류는 작아지고 대신 안정소자로 더 많은 역방향전류가 흐른다. 그러나 안정소자의 역방향특성에 의하여 안정소자전압 $U_{\text{안}}$ 은 변하지 않으므로 출구전압 $U_{\text{출}}$ 도 그대로 유지된다.

다음 부하저항이 작아지는 경우는 부하저항 $R_{\text{부}}$ 로 흐르는 전류가 커지고 $D_{\text{안}}$ 으로 흐르는 전류는 작아지지만 안정소자의 역방향특성으로 하여 그의 전압은 변하지 않기때문에 그와 병렬로 련결된 부하저항에 걸리는 전압 즉 출구전압은 그대로 유지된다.

이 안정회로는 회로가 간단한 우점이 있으나 안정전압이 낮고 출력이 제한되어있는 결함이 있다.

2. 보상형전압안정기

보상형전압안정기에는 직렬형직류전압안정기와 변환방식전압안정기가 있다.

1) 직렬형직류전압안정기

직렬형직류전압안정기는 전압조절소자가 부하와 직렬로 련결된 전압안정기이다.

그림 2-26에 직렬형직류전압안정기의 회로를 보여주었다.

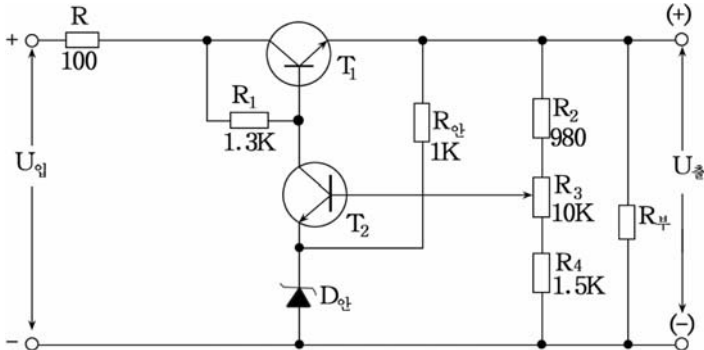


그림 2-26. 직렬형직류전압안정기의 회로

안정기는 마치도 가변저항을 조절해서 출구전압을 조절하는 것과 같은 원리에 기초하고있다.

그림에서 T_1 은 전압조절소자, T_2 는 오차증폭 및 비교소자, $D_{안}$ 은 T_2 에 편전압을 주기 위한 기준전압설정용안정소자이다.

그리고 R_1 은 T_1 의 기초극편의 저항이면서 T_2 의 부하저항이며 $R_{안}$ 은 $D_{안}$ 의 동작상태를 결정해주는 저항이다.

R_2, R_3, R_4 는 출구전압분할저항들이다.

회로의 동작원리를 보자.

어떤 원인에 의하여 입구전압 $U_{입}$ 이 커져서 출구전압이 커졌다고 하자.

그러면 T_2 의 기초극과 방사극사이의 전압이 높아지고 따라서 그의 수전극전류가 증가하면서 R_1 에서의 전압떨어짐이 커진다.

결과 T_1 의 기초극-방사극전압 $U_{기방1}$ 이 낮아지며 따라서 T_1 의 기초극전류가 작아진다.

이것은 T_1 의 내부저항이 커진것과 같으므로 수전극-방사극사이의 전압 $U_{수방1}$ 이 커진다. 그런데 $U_{출} = U_{입} - U_{수방1}$ 이므로 결국 $U_{출}$ 은 정상값으로 작아진다.

입구전압이 작아지는 경우에는 위에서와 반대로 동작하여 출구전압을 안정시킨다.

부하저항이 변하여 부하전류가 변할 때에도 이와 비슷한 원리로 동작하면서 안정한 출구전압을 보장한다.

2) 변환방식전압안정기

변환방식전압안정기는 전원조종(변환출력)3극소자의 여단이 시간과 임펄스의 진폭을 조절하는 원리에 기초하여 출구전압의 안정작용을 하게 한 전압안정기이다.

그림 2-27에 실지 변환방식전압안정기의 회로를 보여주었다.

이 안정기는 앞에서 본 직렬형전압안정기에 비해 전압안정구간이 넓고 전원회로의 효율이 높은 우점이 있다.

(1) 정류회로

정류회로는 안정기 $안_{801}$, 저항기 R_{800} , 정류소자 $D_{801} \sim D_{804}$, 선택류선류 L_{801} , 축전기 $C_{801} \sim C_{805}$ 로 구성되어있다.

입구에 가해진 교류전압은 전기다리정류회로 ($D_{801} \sim D_{804}$)에서 전파정류되고 L_{801}, C_{805} 에서 평활된다.

이 직류전압 $U_2 = +250V$ 는 직류전압안정회로에 들어간다.

회로에서 저항기 R_{800} 은 전원을 넣을 때 생기는 충격전류로부터 정류소자를 보호하기 위한 보호용저항기이다. 그리고 $C_{801} \sim C_{804}$ 는 2극소

자들을 보호하며 잡음을 없애기 위한 축전기들이고 R₈₁₀은 시동할 때 발진을 막기 위한 요소이다.

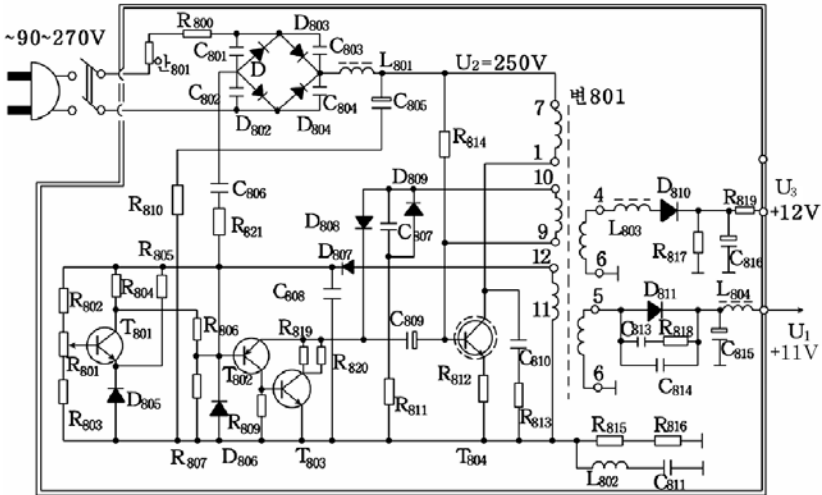


그림 2-27. 변환방식전압안정기의 회로

(2) 직류전압안정회로

이 회로는 시동회로(발진회로), 임펄스조종회로, 오차신호증폭회로로 이루어져있다.

- 시동회로

정류회로에서 얻어진 직류전압 U₂은 변₈₀₁의 71권선을 거쳐 3극소자 T₈₀₄의 수전극에 가해지는 동시에 저항기 R₈₁₄를 거쳐 기초극에도 가해진다. 이 회로는 변₈₀₁의 9~10권선에 의해 귀환되어있기때문에 발진회로를 이룬다.

T₈₀₄의 열림기간에 변₈₀₁의 9~10권선에 유기되는 기전력은 10번이 <+>, 9번이 <->로 된다. 이 기전력은 2극소자 D₈₀₈에서 정류되어 축전기 C₈₀₉를 충전시킨다.

한편 T₈₀₄가 열리며 수전극전류가 포화되면 권선 9~10에 유도기전력이 생기지 않아 10번 단자전압은 내려간다.

그리고 C₈₀₉의 충전이 끝나면 기초극쪽이 <->로 되므로 T₈₀₄는 닫힌다. T₈₀₄가 닫기면 C₈₀₉에 충전된 전압이 T₈₀₃을 거쳐 방전한다.

이때 방전시정수(방전시간)는 T₈₀₃의 수전극과 방사극사이의 저항에 관계되는데 이 저항은 T₈₀₁과 T₈₀₂의 내부저항에 관계된다.

따라서 3극소자들의 내부저항을 변화시키면 C_{809} 의 방전속도(T_{804} 의 열림시간)를 변화시킬수 있다.

축전기 C_{809} 의 방전에 따라 T_{804} 의 기초극전압이 점차적으로 $\langle + \rangle$ 로 되면 T_{804} 가 다시 열린다. 여기서 T_{804} 의 열림시간은 C_{809} 의 방전시정수에 관계된다.

이와 같이 T_{804} 가 여닫기면서 발진이 일어나면 그것이 4~6권선, 5~6권선에 유도되며 이 전압을 고주파정류소자 D_{810} 과 D_{811} 에서 정류하고 C_{815} , C_{816} 에서 평활하여 $U_3=12V$, $U_1=11V$ 의 안정된 직류전압을 얻어낸다.

- 임플스조종회로

이 회로는 T_{804} 의 열림시간의 크기를 조종하여 출구전압(U_3 , U_1)을 안정시키는 역할을 한다.

임플스조종회로는 3극소자 T_{802} , T_{803} 으로 구성되어있다.

이 소자들은 방사극과 기초극이 직접 련결되어있으므로 앞단에서 오는 오차신호에 예민하게 동작한다.

3극소자 T_{802} 는 pnp형소자이므로 기초극전위가 낮아졌을 때 열리며 이때 T_{803} 도 열린다. 반대로 T_{802} 는 기초극전압이 높아지면 닫기며 T_{803} 도 닫기게 된다. 이것은 앞단인 오차신호증폭회로의 검출전압의 크기에 따라 여닫기는 스위치와 같은 작용을 한다.

- 오차신호증폭회로

이 회로는 출구전압(U_1 , U_3)의 편차를 검출하고 증폭하여 임플스 회로에 공급해주는 역할을 한다.

회로에서 T_{801} 은 오차신호증폭소자이다.

T_{801} 의 내부저항($R_{내}$)과 출구안정전압사이의 관계를 고찰하자.

변 $_{801}$ 의 권선 11~12에 생긴 전압은 정류소자 D_{807} 에서 정류되고 C_{808} 에서 평활된다.

이 직류전압이 T_{801} 의 매개 전극에 가해지는데 이 전압의 변화방향은 출구전압의 변화와 일치한다.

T_{801} 의 방사극에는 전압안정소자 D_{805} 에서 안정된 전압이 가해진다.

한편 T_{801} 의 기초극에는 R_{801} , R_{802} , R_{803} 에서 분할된 전압이 걸린다.

이 전압과 안정된 전압(기-방사이전압)이 비교되어 생긴 오차전압이 T_{801} 에서 증폭된 다음 그의 수전극에 나타나게 된다.

출구전압($U_{출}$)이 $\Delta U_{출}$ 만큼 변화되었다면 D_{807} 에서 얻어낸 직류전

압(U_0)도 ΔU_0 만큼 변한다. 따라서 T_{801} 의 기초극편의 전압도 ΔU_0 만큼 변화되며 그에 따라 T_{801} 의 내부저항이 변하게 된다.

즉 T_{801} 의 내부저항은 출구전압에 관계된다.

실례로 출구전압이 증가하면 T_{801} 의 내부저항이 감소되어 T_{802} 의 기초극전압이 높아지며 결과 T_{803} 의 내부저항이 작아지므로 C_{809} 의 방전시정수가 감소된다. 따라서 T_{804} 의 열림시간이 감소되어 출구전압의 증가를 제한한다. 즉 출구전압을 안정시킨다.

이 안정회로에서는 입구교류전압이 100~270V까지 변할 때 출구전압은 거의 변하지 않는다.

3) 전압안정집적회로를 쓴 직류전압안정기

전압안정집적회로에는 전압안정2극소자와 같은 역할만 하는 것과 선형연산증폭기, 기준전원 및 조절요소들이 포함된 보상형전압안정기의 역할을 하는 것 그리고 여기에 정류기까지 포함된 것 등 여러가지가 있다.

또한 전압안정집적회로에는 출력을 고정시킨 것과 변화시킬 수 있는 것이 있다.

그림 2-28에는 출력고정형 집적회로 전압안정기의 회로를 보여 주었다.

그림에서 C_1 은 입구쪽으로 들어오는 교류성분을 막는 축전기로서 입구쪽에 정류기의 평활과 파용 축전기가 가까이 있을 때에는 필요없다.

C_0 은 부하전류가 순간적으로 변할 때 안정기에 흐를 수 있는 충격전류를 작게 하기 위한 것이다.

이 축전기 C_0 은 용량이 100~1 000 μ F 되는 것을 쓴다.

우리 나라에서 생산되는 전압안정집적소자의 자호는 1300계렬로 표시한다. 여기서 마지막수자가 안정전압을 의미한다.

레를 들어 자호가 1305인 경우 안정전압이 5V이며 1312인 경우 안정전압은 12V이다.

우리 나라에서 생산되는 전압안정집적소자의 외형과 다리배치는 그림 2-29와 같다.

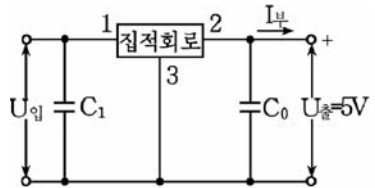


그림 2-28. 출력고정형 5V전압안정기의 회로

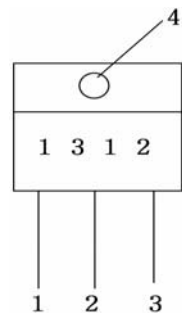


그림 2-29. 전압안정집적소자의 외형과 다리배치도

그림에서 1은 조종단자, 2는 출구단자, 3은 입구단자이며 4는 방열판을 조립하기 위한 구멍이다.

연습문제

1. 정수형 전압안정기와 보상형 전압안정기의 차이점은 무엇인가?
2. 직렬형 전압안정기에서 출구전압을 안정시키는 원리를 설명하여라.
3. 변환방식 전압안정기에서 출구전압을 안정시키는 원리를 설명하여라.
4. 전압안정 집적소자에는 어떤 종류들이 있는가?

제3장. 증폭회로

증폭회로에 대하여 잘 아는 것은 증폭회로 자체는 물론 전자공학의 다른 회로들을 이해하는데서 기초로 되는 중요한 문제이다.

그러므로 전자공학에 대한 지식을 습득하는데서 증폭회로는 특별히 중요한 의의를 가진다.

제1절. 증폭회로에 대한 일반지식

1. 증폭회로와 그의 분류

증폭회로란 작은 전기적신호를 큰 전기적신호로 만드는 회로를 말한다.

증폭회로는 그 종류가 매우 많으므로 여러가지로 분류할수 있는데 그 몇가지만 보면 다음과 같다.

① 어떤 전기적량을 증폭하는가 하는데 따라 전압증폭회로, 전류증폭회로, 전력증폭회로로 나눈다.

② 어떤 주파수의 신호를 증폭하는가에 따라 직류증폭회로, 저주파증폭회로, 고주파증폭회로로 나눈다.

③ 증폭단사이 또는 증폭단과 부하사이의 결합방법에 따라 직접결합증폭회로, 저항-용량결합증폭회로, 변성기결합증폭회로 등으로 나눈다.

2. 증폭회로의 전기적정수

증폭회로의 질을 평가하는 전기적정수에는 여러가지 지표들이 있다. 그 가운데서 대표적인 정수 몇가지에 대해서만 보면 다음과 같다.

1) 증폭결수

증폭결수란 입구신호에 비하여 출구신호가 몇배나 커졌는가를 표시하는 량으로서 보통 문자 K로 표시한다.

증폭결수에는 전압증폭결수, 전류증폭결수, 전력증폭결수가 있다.
전압증폭결수(K_U)는 입구전압에 대한 출구전압의 비이다.

$$K_U = \frac{U_{\text{출}}}{U_{\text{입}}}$$

전류증폭결수(K_I)는 입구전류에 대한 출구전류의 비이다.

$$K_I = \frac{I_{\text{출}}}{I_{\text{입}}}$$

전력증폭결수(K_P)는 입구전력에 대한 출구전력의 비이다.

$$K_P = \frac{P_{\text{출}}}{P_{\text{입}}}$$

증폭단이 여러단인 경우에 총 증폭결수는 매개 증폭단의 증폭결수를 곱한 값과 같다.

$$K = K_1 \cdot K_2 \cdot K_3 \cdot \dots \cdot K_n$$

례를 들어 증폭단이 3개이고 매개 단의 증폭결수가 10이라면 총 증폭결수는 $K = 10 \times 10 \times 10 = 1000$ 이다.

2) 출력과 효율(η)

부하저항 $R_{\text{부}}$ 에서의 유효전력을 증폭기의 출력이라고 부른다.

$$P_{\text{출}} = I_{\text{출}} U_{\text{출}} = I_{\text{출}}^2 R_{\text{부}}$$

증폭기에서 신호가 증폭되는 과정은 증폭기에 공급되는 직류에너지가 교류(신호)에너지로 변환되는 과정이다.

이때 증폭기에서 공급되는 직류에너지가 모두 신호의 증폭에 유효하게 쓰이는것이 아니라 그 일부만 신호에너지로 되고 나머지는 회로에서 이러저러하게 소비된다.

증폭기에 공급된 직류에너지의 얼마만한 몫이 신호에너지로 변환되었는가를 나타내는 량을 증폭기의 효율이라고 하며 보통 문자 η 로 표시한다.

효율 η 는 증폭기에 공급된 직류전력 P_0 에 대한 증폭기의 출력

$P_{\text{출}}$ 의 비로 표시되며 %로 나타낸다.

$$\eta = \frac{P_{\text{출}}}{P_0} \times 100(\%)$$

3) 이지러짐

신호가 증폭회로에서 증폭되어 출구에 나타날 때 입구와 출구신호의 모양이 똑같고 진폭만 커지면 이상적인것이다. 그러나 실제로는 이러저러한 요인때문에 출구신호는 입구신호와 모양이 달라진다.

이지러짐이란 출구신호가 입구신호에 비례되지 않고 모양이 변화되는것을 말한다.

이지러짐에는 주파수특성이지러짐과 비선형이지러짐이 있다.

(1) 주파수특성이지러짐

증폭회로의 증폭결수는 신호의 주파수에 따라 달라진다.

실례로 어떤 값보다 높은(고위) 주파수에서 증폭결수가 작아지는것을 볼수 있다. 이와 같이 어떤 주파수근방에서 증폭결수가 작아짐으로 인하여 생기는 이지러짐을 주파수특성이지러짐이라고 한다.

(2) 비선형이지러짐

증폭요소인 반도체3극소자의 전압—전류특성이 완전한 직선이 못되기때문에 신호가 증폭회로를 지날 때 그 모양이 달라지는것을 비선형이지러짐이라고 한다.

음성증폭기에서 주파수특성이지러짐은 음질을 나쁘게 하며 비선형이지러짐은 소리를 분간해들을수 없게 한다. 그러므로 이지러짐이 작아지게 해야 한다.

3. 편의회로

1) 편의회로의 필요성

반도체3극소자를 동작시키자면 기초극과 방사극사이에는 정방향전압을 걸어주고 기초극과 수전극사이에는 역방향전압을 걸어주어야 한다.

기초극과 방사극사이에 걸어주는 직류전압을 편의전압이라고 하며 이 편의전압을 보장하는 회로를 편의회로라고 부른다.

그러면 증폭기에서 편의회로가 왜 필요한가?

그림 3-1의 ㄱ)와 같은 회로에서 3극소자의 기초극에 편의전압을 주지 않고 신호전압만 걸린다고 하자.

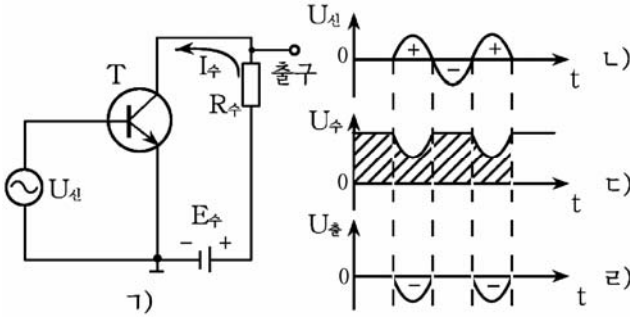


그림 3-1. 편의회로가 없는 증폭회로 ㄱ)와 입출구파형 ㄴ), ㄷ), ㄹ)

그러면 신호전압의 <+>반주기동안에는 기초극전위가 방사극전위보다 높아져서 3극소자가 열리고 수전극전류가 흐르게 된다.

신호전압이 <->로 되는 다음 반주기동안에는 기초극전위가 방사극전위보다 낮아져(기초극과 방사극사이에 역방향전압이 걸리어) 3극소자는 닫기며 수전극전류가 흐르지 못한다.

수전극전류가 흐를 때에는 부하저항 $R_{수}$ 의 전압떨어짐에 의하여 수전극전압이 낮아지고 수전극전류가 흐르지 못하는 기간은 수전극전압이 전원전압 $E_{수}$ 와 같아진다.

결과 수전극전압의 모양은 그림의 ㄷ)와 같아지고 출구신호의 모양은 그림의 ㄹ)와 같아진다.

결국 입구신호와 출구신호의 모양이 달라졌다. 즉 신호의 이지러짐이 생겼다.

신호가 이지러지게 된 기본원인은 입구신호의 반주기동안에 수전극전류가 흐르지 못했기때문이다.

이지러짐이 없는 출구신호를 얻으려면 입구신호의 <->반주기동안에도 수전극전류가 흐르게 하여야 한다.

그러자면 3극소자의 기초극과 방사극사이에 일정한 크기의 직류전압 즉 편의전압을 항상 걸어주어야 한다.

편의전압이 걸린 상태에서 신호전압이 함께 걸리면 신호의 이지러짐이 생기지 않는다는것을 그림 3-2를 통하여 보자.

그림에서 $E_{기}$ 가 기초극에 편의전압을 보장하는 전원이다.

입구에 신호가 들어오지 않고 편의전압만 걸리는 경우($0 \sim t_1$ 기간) 3극소자가 열리고 수전극전류가 $+E_{수} \rightarrow R_{수} \rightarrow$ 수전극 \rightarrow 방사극 $\rightarrow -E_{수}$ 의 회로를 따라 흐르면서 $R_{수}$ 에 전압떨어짐을 만드는데 이 전류는 직류이다.

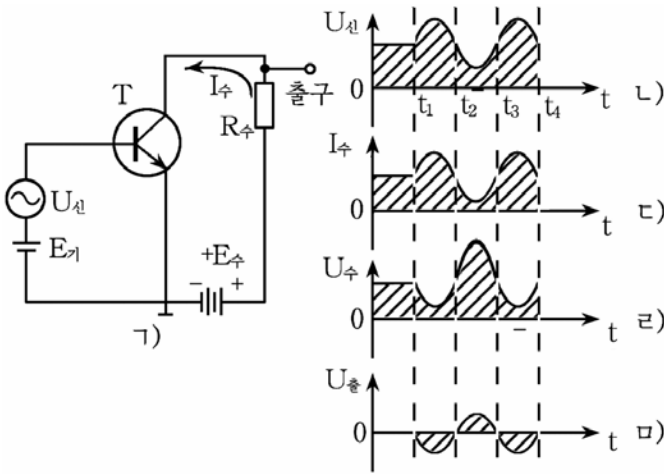


그림 3-2. 편의전압이 걸리는 경우

다음 입구에 신호의 <+> 반주기가 걸리는 동안($t_1 \sim t_2$ 기간)에는 편의전압과 신호전압이 합쳐져서 기초극전압이 높아지고 수전극전류가 커지며 따라서 수전극부하저항 R_1 에서의 전압떨어짐도 커진다. (그림 3-2의 b)

수전극전압은 전원전압 E_1 에서 R_1 에서의 전압떨어짐을 뺀 것과 같다. 즉

$$U_{\text{수방}} = E_1 - I_1 R_1$$

따라서 입구신호의 <+>반주기동안 수전극전압은 낮아진다. (그림 3-2의 d)

다음 입구신호의 <->반주기동안($t_2 \sim t_3$ 기간)에는 기초극전압이 낮아지고 수전극전류는 작아지며 따라서 R_1 에서의 전압떨어짐도 작아진다. 결과 수전극전압은 높아진다.

이상에서 보는 것처럼 3극소자에 편의전압을 걸어주면 출구(수전극)에서 입구(기초극)신호와 모양은 같고 극성이 반대인 신호를 얻을 수 있다.

반도체 3극소자편의회로에는 크게 고정편의회로와 안정한 편의회로가 있다.

2) 고정편의회로

고정편의회로는 3극소자의 동작상태에 관계없이 항상 고정된 편의전압을 보장하는 편의회로이다.

3극소자의 기초극에 편이전류가 흐르게 하자면 그림 3-2와 같이 기초극과 방사극사이에 따로 독립적인 전원을 설치할수도 있으나 이 방법은 두개의 독립적인 전원이 있어야 하므로 불편하다. 그러므로 실제로는 수전극전원 $E_{수}$ 의 일부를 리용하는 방법을 쓴다.

이러한 방법에는 다음과 같은 두가지가 있다.

(1) 전류고정편의회로

이 편의회로는 그림 3-3과 같이 수전극전원 $E_{수}$ 로부터 기초극편의 저항 $R_{기}$ 를 통하여 기초극에 편이전압을 보장한다.

이 회로에서 편이전압 $U_{기방}$ 은 수전극전원전압 $E_{수}$ 에서 $R_{기}$ 에서의 전압떨어짐을 뺀 값과 같다. 즉

$$U_{기방} = E_{수} - I_{기} R_{기}$$

이와 같이 $R_{기}$ 를 련결함으로써 마치도 $E_{기} = E_{수} - I_{기} R_{기}$ 인 기초극전원 $E_{기}$ 를 련결한것과 같은 효과를 얻는다.

입구에 신호가 들어오지 않을 때에도 기초극편의전류 $I_{기}$ 는 그림에서 점선으로 표시한 길을 따라 흐른다.

입구에 신호가 들어올 때에는 기초극편의전류 $I_{기}$ 와 입구신호전류 $I_{신}$ 이 합쳐진 전류가 기초극으로 흐른다.

이 편의회로에서는 기초극편의전류에 의하여 편이전압이 얻어지게 되므로 **전류고정편의회로**로 불리운다.

(2) 전압고정편의회로

이 편의회로는 수전극전원 $E_{수}$ 를 분할저항으로 전압분할하여 편이전압으로 리용하는 고정편의회로이다. (그림 3-4)

그림에서 R_1 과 R_2 가 전압분할저항들이다.

편이전압은 다음식으로 결정된다.

$$U_{기방} = \frac{R_2}{R_1 + R_2} E_{수}$$

이상에서 본 고정편의회로들은 회로가 간단하고 직류손실이 작은 우점이 있으나 온도가 변할 때 그에 따라 수전극전류가 변하는것을 막지

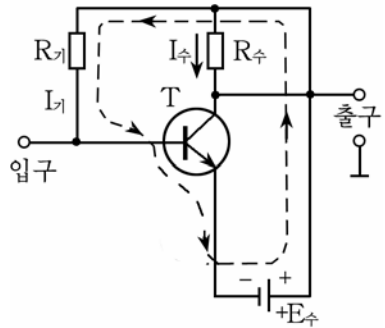


그림 3-3. 전류고정편의회로

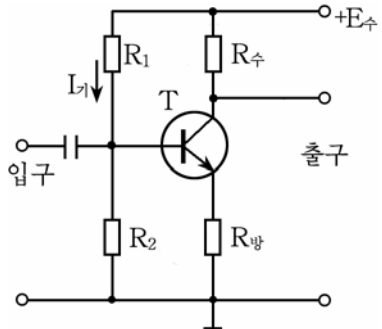


그림 3-4. 전압고정편의회로

못하는 결함이 있다. 그러므로 질이 크게 문제로 제기되지 않는 증폭회로에서 쓰인다.

3) 안정한 편의회로

반도체 3극소자에서는 온도가 높아지면 전류나르개의 수가 많아져 수전극전류가 증가하며 수전극전류가 증가하면 소자의 온도가 더 높아지게 된다. 결과 3극소자가 제대로 동작하지 못하게 되면 심한 경우에는 3극소자가 파괴될수 있다.

그러므로 온도가 높아져도 수전극전류가 일정하게 유지되도록 편의회 전압을 자동적으로 조절하는 편의회로를 쓰게 된다.

이런 편의회로를 **안정한 편의회로**라고 부른다.

안정한 편의회로는 수전극안정회로와 방사극안정회로의 두가지 형식이 있다.

(1) 수전극안정회로

이 회로는 3극소자의 수전극에 $R_{\text{수}}$ 를 연결하여 편의회 전압을 보장하고있다. (그림 3-5)

이 회로의 동작과정을 보자.

온도가 높아져서 수전극전류가 증가하면 부하저항 $R_{\text{수}}$ 에서의 전압떨어짐 $I_{\text{수}}$ $R_{\text{수}}$ 가 커지고 수전극전압은 낮아진다. 수전극전압이 낮아지면 $I_{\text{기}}$ 가 작아지고 따라서 $I_{\text{수}}$ 도 작아진다. 이렇게 온도가 높아져서 수전극전류가 증가하려고 하면 기초극전류가 작아지도록 자동적으로 조절되어 수전극전류의 증가를 막는다.

(2) 방사극안정회로

이 회로는 그림 3-6과 같이 3극소자의 방사극에 저항 $R_{\text{방}}$ 을 연결하여 편의회 전압이 자동적으로 조절되도록 한 편의회로이다.

그림에서 $R_{\text{방}}$ 은 온도안정화저항이고 $C_{\text{방}}$ 은 방사극에 흐르는 전류의 교류성분을 통과시키기 위한 축전기인데 이 축전기를 **속로축전기**라고 부른다.

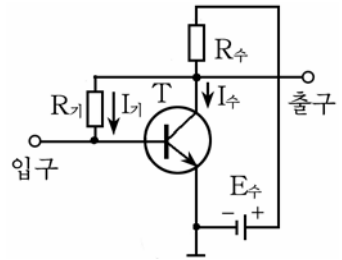


그림 3-5. 수전극안정회로

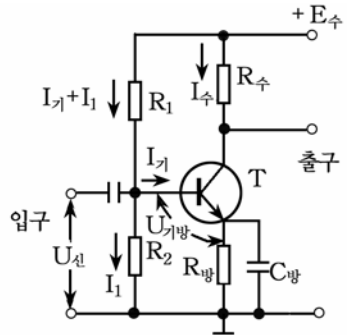


그림 3-6. 방사극안정회로

이 회로에서 기초극편의 전압 $U_{기방}$ 은

$$U_{기방} = I_1 R_2 - I_{방} R_{방}$$

$$I_{방} = I_1 + I_{수}$$

온도가 높아져서 $I_{수}$ 가 증가하면 $R_{방}$ 으로 흐르는 전류 $I_{방}$ 도 증가하며 따라서 $R_{방}$ 에서의 전압떨어짐 $I_{방} R_{방}$ 이 커진다. 결과 기초극편의 전압 $U_{기방}$ 이 작아지므로 기초극전류도 작아지고 그에 따라 수전극전류도 작아진다.

이처럼 온도에 따라 수전극전류가 변하는 것을 막도록 편회전압을 자동적으로 조절한다.

안정한 편회회로는 주위온도가 변해도 안정한 증폭을 실현할 수 있는 우점이 있으므로 저주파증폭기들에서 널리 쓰인다.

이 회로의 결함은 회로가 좀 복잡하고 직류전력손실이 있는 것이다.

4. 증폭원리

여기서는 증폭회로에서 입구신호가 어떻게 증폭되어 출구에 나타나는가를 보기로 하자. (그림 3-7)

이 증폭회로에서 R_1 , R_2 , $R_{방}$, $C_{방}$ 은 편회회로요소들이고 $R_{수}$ 는 수전극부하저항이다. 그리고 $C_{결1}$ 과 $C_{결2}$ 은 결합축전기, $U_{신}$ 은 입구신호원이다.

3극소자의 기초극에는 신호원의 전압 $U_{신}$, 편회전압 $U_{기방}$ 이 합쳐진 전압에 의하여 기초극전류가 흐른다.

그러면 수전극으로는 $+E_{수} \rightarrow R_{수} \rightarrow T$ 의 수전극 \rightarrow 방사극 $\rightarrow R_{방} \rightarrow$ 접지 \rightarrow 전원의

$\langle - \rangle$ 극의 회로를 따라 수전극전류가 흐르는데 이 전류는 기초극전류에 비해 3극소자의 전류증폭결수 β 배만큼 크다. 즉 증폭회로에서 신호전류가 증폭되었다.

다음은 입구신호전압이 어떻게 증폭되어 출구에 나타나는가를 보자.

수전극전류가 부하저항 $R_{수}$ 로 흐르면 거기에서 전압떨어짐 $I_{수} R_{수}$ 가 생기는데 그의 크기는 $I_{수}$ 에 따라 변한다.

결과 수전극전압(출구전압)도 $I_{수}$ 에 따라 변한다.

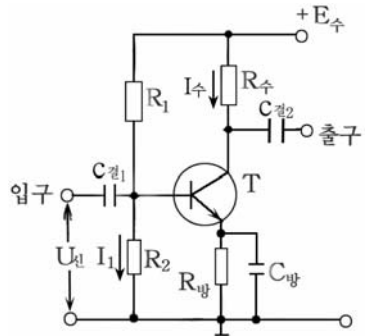


그림 3-7. 증폭회로

그런데 I_s 는 입구신호전류에 비해 β 배 크게 변하므로 출구전압도 입구신호전압의 변화에 비해 훨씬 크게 변한다. 즉 신호전압이 크게 증폭되어 출구에 나타난다.

이 회로에서 $C_{결1}$ 과 $C_{결2}$ 은 직류성분은 차단하고 교류(신호)성분만 통과시키는 역할을 한다.

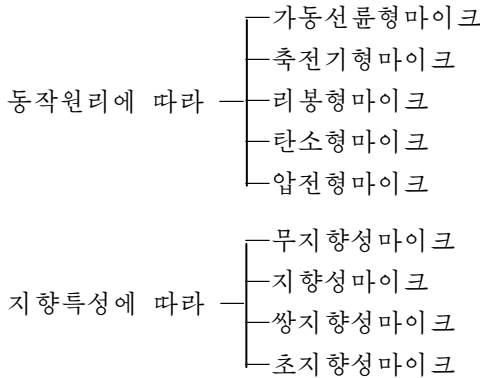
5. 마이크와 고성기

1) 마이크

마이크는 소리를 전기적신호로 바꾸는 전기음향기구이다.

(1) 마이크의 구조와 동작원리

마이크는 동작원리, 지향특성에 따라 다음과 같이 나눈다.



① 가동선륜형마이크

가동선륜형마이크는 자기마당속에 놓여있는 도체를 자기마당의 방향과 수직방향으로 움직이면 그 도체에 기전력이 유기된다는 전자기유도법칙을 리용한 마이크이다. (그림 3-8)

진동판에 음압이 작용하면 가동선륜이 아래위로 진동하면서 영구자석이 만드는 자력선을 끊으므로 이때 가동선륜에 기전력이 생긴다. 이 기전력은 진동판이 세게 움직이면 커지고 약하게 움직이면 작아진다.

가동선륜형마이크는 감도와 음질이 비교적 좋기때문에 영화와 방송녹화물제작 등에 널리 쓰인다.

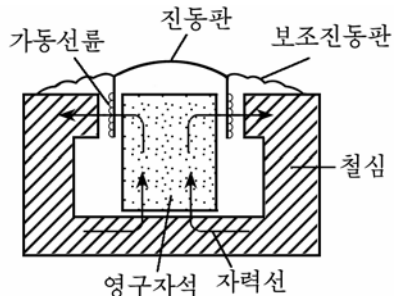


그림 3-8. 가동선륜형마이크의 구조

② 축전기형마이크

축전기형마이크는 진동판에 음압이 가해질 때 축전기의 용량이 변화되면서 축전기로 흐르는 전류가 변하는 원리에 기초하고있다. (그림 3-9)

축전기의 한개 극판은 고정되어 있고 다른 극판은 음압의 작용에 따라 움직이게 되어있다.

음압이 가동극판에 작용하면 가동극판이 움직이면서 두 극판사이의 거리가 변하므로 축전기의 용량이 변한다.

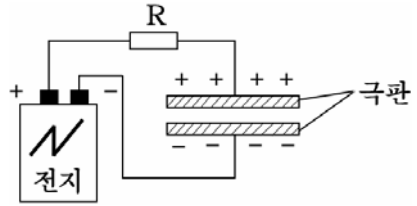


그림 3-9. 축전기형마이크의 원리

용량이 변하면 축전기의 충전전하량이 변하므로 회로에는 음압에 비례하는 음성전류가 흐르게 되며 저항에는 음압의 크기와 변화속도에 따르는 전압떨어짐이 생긴다.

저항 R에 생긴 이 전압떨어짐이 출구전압으로 된다.

축전기형마이크는 음질이 대단히 좋은 반면에 높은 직류전원이 필요하므로 주로 방송부문에서 고정된 장소에 설치하여 쓴다.

③ 분극축전기형마이크

분극축전기형마이크는 유전체의 분극현상을 리용한 축전기형마이크인데 음질이 좋고 일반축전기형마이크와는 달리 직류전원이 따로 필요없으므로 카세트녹음기의 내부에 설치하는 마이크로 많이 쓴다.

이 마이크를 증폭기와 연결할 때에는 마이크와 증폭기입구를 정합시키기 위하여 마이크본체안에 완전저항변환회로를 넣는다.

이 변환회로용전원으로는 1.5V건전지를 쓴다.

(2) 마이크의 시험과 설치방법

① 마이크의 동작검사

마이크의 동작상태를 간단히 검사하기 위하여 회로시험기나 1.5V의 건전지를 리용한다. (그림 3-10)

회로시험기에 의한 동작검사는 회로시험기를 낮은 저항측정대역 ($\times 1$)에 놓고 측정봉의 두끝을 차폐선의 속선과 바깥선에 대었을 때 마이크의 진동판에서 《까락, 까락》하는 소리가 나면 정상이다.

이 소리가 클수록 감도가 좋다.

1.5V의 건전지를 쓰는 경우에는 건전지에 수십 Ω 정도의 저항을 직렬로 연결하고 우와 같은 방법으로 검사한다.

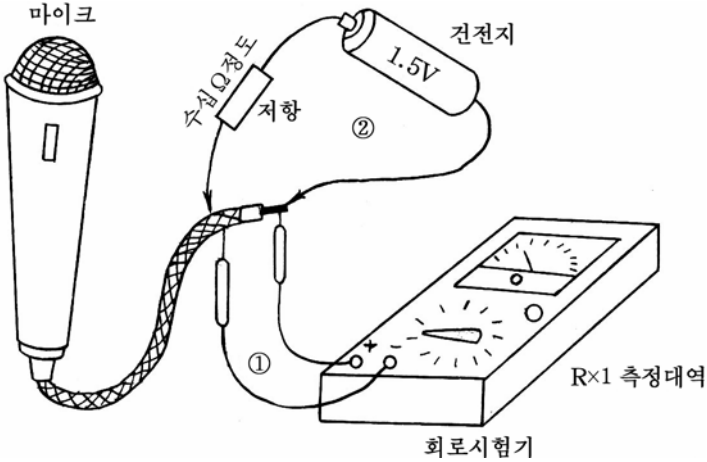


그림 3-10. 마이크의 동작검사

시험을 할 때 회로시험기를 고저항측정대역에 놓거나 저항을 떼어놓고 건전지로 시험하는 일이 없어야 한다. 또한 3V이상의 건전지나 축전지와 같이 내부저항이 작은 전원은 절대로 쓰지 말아야 한다.

② 마이크의 설치 및 사용상 주의점

- 마이크의 설치방법

- 사람의 입과 마이크와의 거리는 보통 10~20cm 정도로 하는 것이 좋다.
- 마이크를 진동하거나 움직이는 물체에 설치하는 경우에는 진동이 마이크에 전달되지 않도록 완충장치를 충분히 하거나 손에 쥐고 써야 한다.

마이크를 손에 쥐고 쓸 때에는 떨어뜨리지 않기 위하여 보호끈을 손목이나 목에 거는 것이 좋다.

- 마이크를 증폭기에 연결할 때 마이크의 <+> 단자는 증폭기의 입구 <+> 단자에 연결하며 <-> 단자는 접지에 연결한다.

- 마이크의 사용상 주의점

- 마이크는 약하고 정밀하며 예민하기 때문에 어떤 경우에든지 정히 다루어야 한다.
- 마이크는 필요없이 절대로 분해하지 말아야 한다.
- 마이크를 쓸 때 손가락으로 때리거나 떨구는 것과 같은 일이 절대로 있어서는 안된다.

- 마이크안으로 비, 눈, 먼지, 철가루 등이 들어가지 않도록 하여야 하며 강한 자기마당이나 전기마당속에 두지 말아야 한다.

2) 고성기

고성기는 전기적신호를 소리로 바꾸는 전기음향기구이다.

(1) 고성기의 구조와 동작원리

고성기는 동작원리에 따라 가동선륜형고성기, 가동철편형고성기, 결정형고성기, 축전기형고성기 등으로 나눈다.

① 가동선륜형고성기

이 고성기는 자기마당속에 놓인 도체에 전류가 흐르면 도체가 힘을 받아 움직이는 원리에 기초하고있다.

구조를 보면 자기마당을 만들기 위한 영구자석이 있고 영구자석의 틈사이에 가동선륜이 배치되어있으며 그의 한끝은 진동판과 연결되어있다.(그림 3-11)

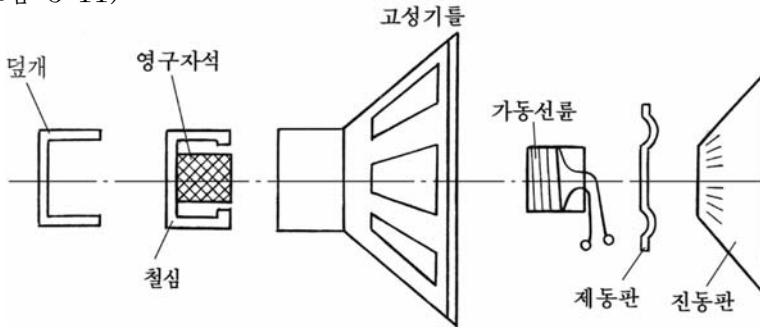


그림 3-11. 가동선륜형고성기의 구조

가동선륜에 전류가 흐르면 그가 만드는 자기마당과 영구자석이 만드는 자기마당이 서로 작용하며 가동선륜과 거기에 붙어있는 진동판이 떨면서 소리가 되살려진다.

이 고성기는 음질이 좋으므로 유선방송용으로 널리 쓰인다.

가정용고성기는 거의다가 가동선륜형고성기이다.

② 반사식고성기

반사식고성기는 광장, 거리, 농장벌 등에서 쓰는 출력이 큰 고성기로서 구조상 가동선륜형고성기로 되어있다.(그림 3-12)

고정자석의 틈에 가동선륜이 있으며 가동선륜은 진동판과 연결되어있다.

진동판앞에는 음향실이 있다. 여기서 소리가 여러번 반사되면서 복사된다. 반사식고성기는 직접복사식에 비하여 효율이 10배이상 높다. 반사식고성기는 출력에 따라서 5, 10, 25, 50, 100, 500W고성기로 나눈다.

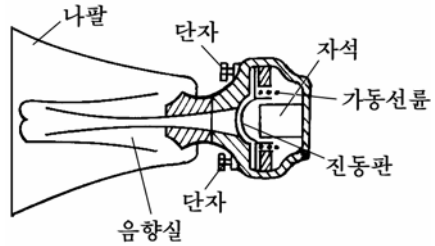


그림 3-12. 반사식고성기의 구조

(2) 고성기의 시험과 설치방법

① 고성기의 동작시험

고성기의 동작상태를 시험하기 위하여 그림 3-13과 같이 회로시험기나 1.5V의 건전지를 리용한다.

고성기의 두 단자에 저항 측정상태에 설정한 회로시험기의 두 측정봉을 가져다댈 때마다 《까락, 까락》하는 소리가 나면 정상이며 이 소리가 클수록 감도와 효율이 좋다고 볼수 있다.

1.5V의 건전지로 검사하는 방법도 같다.

② 고성기의 설치 및 사용상 주의점

- 고성기의 설치방법

- 고성기는 진동종을 보호하기 위하여 통안에 넣고 설치하는데 고성기진동종의 량측선의 연장길이안에 시청자들이 다 들어오도록 설치하여야 한다.

- 고성기를 마이크와 함께 쓸 때에는 그의 방향에 따라 음성되돌이현상이 일어나므로 거리와 각도를 잘 보장해야 한다.

- 고성기는 듣는 사람의 가까이에 설치하는것만큼 충격에 의하여 파손되거나 소리가 가리워지는 현상을 막기 위하여 높이와 각도를 잘 보장하면서 든든히 설치하여야 한다. 진동하거나 움직이는 물체에 고성기를 설치하는 경우에는 진동이 고성기에 전달되지 않도록 완충장치를 충분히 하여야 한다.

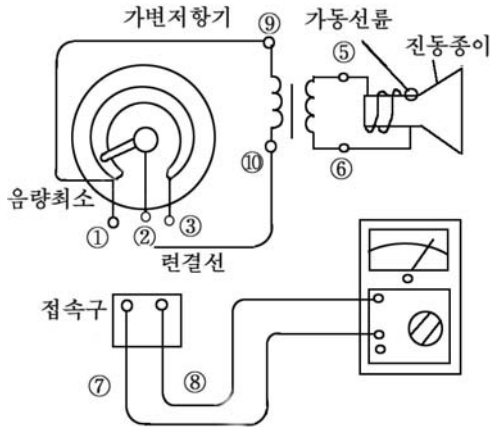


그림 3-13. 고성기의 동작시험

- 고성기는 증폭기의 출구나 유선방송선로의 완전저항과 정합시켜 설치하여야 한다.

실례로 완전저항이 4Ω 인 정합변성기가 없는 고성기를 유선방송선로에 직접 연결하면 가동선률을 태워버리며 $3.6k\Omega$ 의 정합변성기가 있는 고성기를 2V출구전압단자에 연결하면 소리가 작아진다.

- 출력이 작은 고성기가 여러개 있을 때 그것을 직렬 또는 병렬 연결하여 출력을 크게 할수 있다. (그림 3-14)

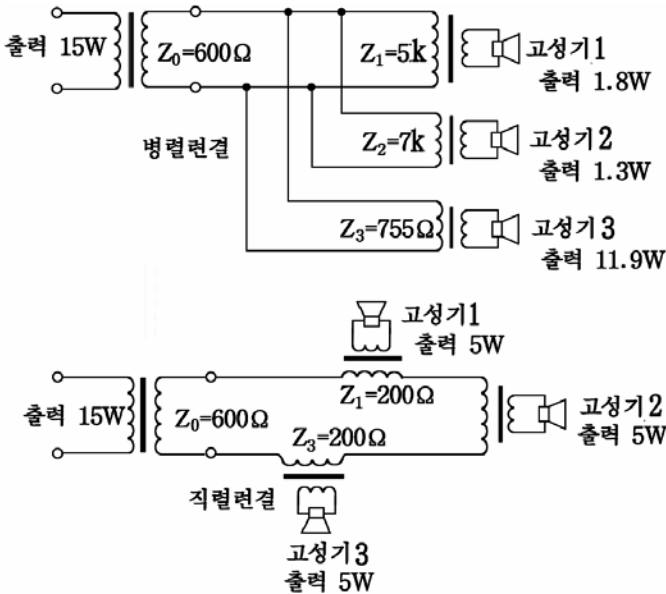


그림 3-14. 고성기의 병렬 및 직렬설치방법

- 고성기의 사용상 주의점

- 고성기에 기계적충격을 주지 말아야 한다.
- 고성기의 진동종을 잘 보호해야 한다.
- 고성기는 증폭기나 선로에 정합시켜 사용하여야 하며 정격전력 이상의 전력을 공급하지 말아야 한다.
- 고성기안에 비, 눈, 먼지, 철가루 등이 들어가지 않도록 하여야 하며 강한 전기마당속에 두지 말아야 한다.

연습문제

- 그림 3-4와 같은 회로에서 $R_1=80k\Omega$, $R_2=15k\Omega$ 이고 $E_{\text{수}}=6V$ 일 때 기 초극편의 전압은 얼마인가?
- 그림 3-6에 보여준 회로에서 $R_{\text{방}}$ 은 거기에 떨어지는 전압이 전원전 압의 약 10~20%정도 되게 정한다. 전원전압이 6V이고 $I_{\text{방}}=1mA$ 일 때 $R_{\text{방}}$ 은 얼마인가?

제2절. 증폭회로

1. 저항-용량결합증폭회로

1) 회로구성

증폭회로 한단으로 필요한 증폭도를 보장할수 없을 때에는 증폭단 수를 늘인다. 이때 증폭단사이를 저항과 용량에 의하여 결합한 증폭회로를 저항-용량결합증폭회로라고 부른다. (그림 3-15)

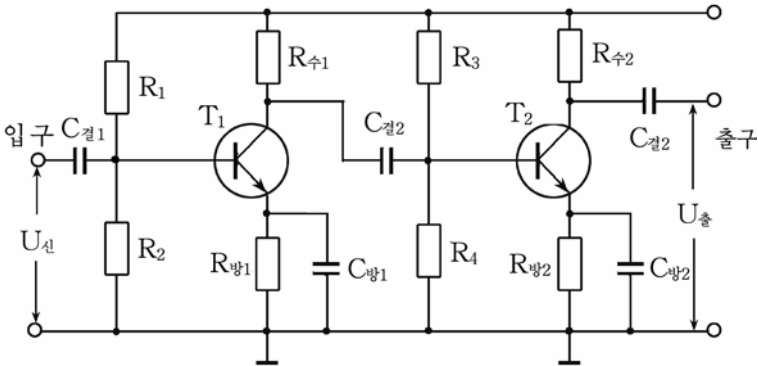


그림 3-15. 저항-용량결합증폭회로

그림 3-15에서 보면 3극소자 T_1 로 된 증폭단과 T_2 로 된 증폭단은 저항과 용량에 의하여 결합되었다. 즉 앞단 3극소자 T_1 의 수전극에 부하저항 $R_{\text{수}1}$ 을 연결하고 $R_{\text{수}1}$ 과 T_1 의 수전극이 연결된 쪽에 결합축전기 $C_{\text{결}2}$ 를 이어서 다음단 3극소자 T_2 의 기초극에 신호세력을 넘겨주도록 되어있다.

저항-용량결합증폭회로는 회로가 간단하고 특성이 좋으며 믿음성이 높은것 등의 우점이 있다. 때문에 여러단으로 구성된 증폭기들에서 예비증폭단으로 널리 리용되고있다.

예비증폭회로란 증폭기의 출력증폭단에서 요구하는 크기로 신호를 증폭하는 회로로서 증폭기의 앞부분에 배치된다고 하여 일명 앞단(전치)증폭기라고도 부른다.

2) 저항-용량결합증폭회로의 동작원리

(1) 회로요소들의 역할

회로의 맨 앞부분에 있는 $U_{신}$ 은 신호원이다.

증폭기의 신호원으로는 마이크, 녹음자두, 각종 변환기가 될수 있다. 또한 증폭기가 여러단으로 된 경우 앞단증폭기의 출구전압이 다음단의 입구신호전압으로 된다.

신호전압은 수~수십 mV 정도로서 일반적으로 대단히 작다.

R_1 과 R_2 , R_3 과 R_4 는 편지저항들이다. 이 저항들에 의하여 3극소자 T_1 과 T_2 의 기초극에 편지전류가 흐르게 된다.

$R_{방1}$ 과 $C_{방1}$, $R_{방2}$ 와 $C_{방2}$ 는 온도안정화요소들이다.

$R_{수1}$, $R_{수2}$ 는 수전극부하저항들이다. 이 저항들의 두 끝사이에서 출구전압(증폭된 전압)을 얻어낸다.

$C_{결1}$, $C_{결2}$, $C_{결3}$ 은 결합축전기들로서 앞단에서의 출구신호전압을 다음단의 입구에 넘겨주며 앞단의 직류전압이 다음단의 3극소자 기초극에 작용하지 않도록 하는 역할을 한다.

(2) 동작원리

증폭회로에 직류전원이 어떻게 련결되는가를 보자.

두 증폭소자 T_1 , T_2 는 다 npn형 3극소자이므로 수전극에 $\langle + \rangle$, 방사극에 $\langle - \rangle$ 전압이 걸려야 한다. 그러므로 T_1 과 T_2 의 수전극은 직류전원 $E_{수}$ 의 $\langle + \rangle$ 단자에 련결되고 방사극들은 $E_{수}$ 의 $\langle - \rangle$ 단자에 련결된다.

기초극에 편지전압을 보장하기 위하여 T_1 에는 저항 R_1 과 R_2 , T_2 에서는 저항 R_3 과 R_4 를 통하여 수전극직류전원 $E_{수}$ 의 일부를 리용할수 있도록 되어있다.

- 회로에 직류전압만 걸리는 경우

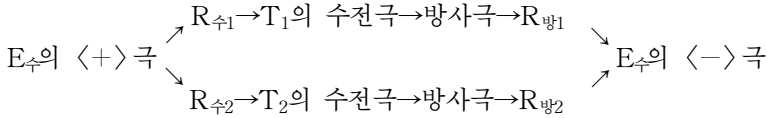
직류전압이 공급되면 그에 의하여 기초극편지전압과 수전극전압이 걸리게 된다.

기초극편지전압에 의하여 기초극에는 편지전류가 다음과 같이 흐른다.

$E_{수}$ 의 $\langle + \rangle$ 극 $\rightarrow R_1 \rightarrow T_1$ 의 기초극 \rightarrow 방사극 $\rightarrow E_{수}$ 의 $\langle - \rangle$ 극
 $E_{수}$ 의 $\langle + \rangle$ 극 $\rightarrow R_3 \rightarrow T_2$ 의 기초극 \rightarrow 방사극 $\rightarrow E_{수}$ 의 $\langle - \rangle$ 극
 3극소자의 기초극에 전류가 흐르면 3극소자가 열리어 수전극전류가 흐르게 된다.

수전극전류는 다음과 같은 회로를 따라 흐른다.

- 회로에 직류전압과 교류신호전압이 함께 걸리는 경우
 신호원으로부터 신호



전압 $U_{신}$ 이 첫단 3극소자 T_1 의 기초극에 가해지면 기초극에 신호 전류가 다음과 같은 회로를 따라 흐른다.

$U_{수} \rightarrow C_{결1} \rightarrow T_1$ 의 기초극 \rightarrow 방사극 $\rightarrow C_{방1} \rightarrow$ 접지

기초극에 신호전류가 흐르면 그것이 3극소자에서 증폭되어 수전극 회로에는 큰 신호전류가 흐르게 된다.

수전극에서 신호전류는 다음과 같은 회로를 따라 흐른다.

$+E_{수} \rightarrow R_{수1} \rightarrow T_1$ 의 수전극 \rightarrow 방사극 $\rightarrow C_{방1} \rightarrow$ 접지 $\rightarrow -E_{수}$

수전극부하저항 $R_{수1}$ 에는 이 신호전류에 의하여 큰 신호전압이 생기게 된다.

이 신호전압은 결합축전기 $C_{결2}$ 를 통하여 다음단의 3극소자 T_2 의 기초극에 작용하게 된다.

그러면 첫단에서와 같은 원리로 T_2 에서 다시 증폭되어 $R_{수2}$ 의 수전극에는 $R_{수1}$ 에서보다 훨씬 더 큰 신호전압이 얻어진다.

2. 부귀환증폭회로

1) 증폭기에서 부귀환을 실시하는 이유

전자회로에서 출구신호세력의 일부를 입구에 되돌려보내는것을 귀환이라고 부르며 이런 귀환이 이루어지도록 하는 회로를 귀환회로라고 부른다. 그리고 귀환회로를 통하여 입구에 되돌아오는 신호와 본래신호의 위상이 같으면 정귀환, 반대이면 부귀환이라고 부른다.

증폭기에서는 보통 부귀환을 실시한다. 부귀환을 실시한 증폭회로를 부귀환증폭회로라고 부른다.

그러면 증폭기에서 왜 부귀환을 실시하는가?

그것은 부귀환을 하면 증폭기의 특성이 훨씬 좋아지기때문이다.

부귀환을 실시하면 신호의 이치리짐과 잡음이 훨씬 작아진다. 이밖에도 여러가지 좋은 점들이 있으므로 질이 높은 증폭기들에서는 의례히 부귀환을 실시한다.

부귀환을 하면 증폭기의 증폭결수가 부귀환을 하지 않았을 때보다 작아지는 결함도 있다. 그러나 결함보다 우점이 더 많기때문에 부귀환을 널리 리용한다.

2) 부귀환증폭회로의 동작원리

부귀환회로에는 전류부귀환회로와 전압부귀환회로가 있다.

(1) 전류부귀환증폭회로

그림 3-16에 전류부귀환증폭회로를 보여주었다.

이 회로는 그림 3-15의 회로에서 방사극에 련결된 축전기 $C_{방}$ 이 없는 것과 같다.

방사극저항 $R_{방}$ 에서 신호전류(방사극전류의 교류성분)에 의한 전압떨어짐을 귀환전압으로 하는 부귀환을 **전류부귀환**이라고 부른다. 전류부귀환이라고 부르는것은 귀환전압이 부귀환전류에 비례하기때문이다.

그러면 이 회로에서 전류부귀환이 어떻게 실현되는가를 보자.

입구에 교류신호전압이 작용하면

$$+E_{수} \rightarrow R_{수} \rightarrow T \text{의 수전극} \rightarrow \text{방사극} \rightarrow R_{방} \rightarrow \text{접지} \rightarrow -E_{수}$$

로 흐르는 수전극전류가 신호전압에 따라 변하게 되고 전압 $U_{기방}$ 에 의하여 흐르는데 이 회로에서 $U_{기방}$ 은 기초극과 접지사이에 작용하는 입구신호전압 $U_{신}$ 에서 방사극저항 $R_{방}$ 에서의 전압떨어짐 $I_{방}R_{방}$ 을 뺀 것과 같다. 즉

$$U_{기방} = U_{신} - I_{방}R_{방}$$

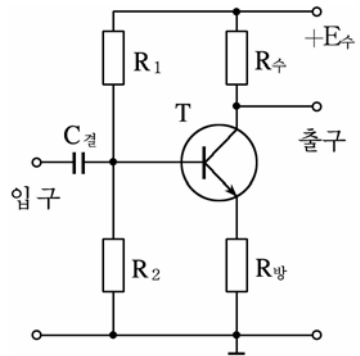


그림 3-16. 전류부귀환증폭회로

입구신호세력이 커지면 $I_{\text{방}}R_{\text{방}}$ 도 커지고 입구신호세력이 작아지면 $I_{\text{방}}R_{\text{방}}$ 도 작아진다. 결과 $U_{\text{기방}}$ 은 적게 변화된다.

그러나 방사극에 축전기 $C_{\text{방}}$ 이 있는 경우에는 사정이 다르다. 이때에는 방사극전류의 교류성분이 모두 $C_{\text{방}}$ 으로 흐르므로 $R_{\text{방}}$ 에서 신호에 의한 전압떨어짐은 거의 없다.

따라서 이때는 $U_{\text{기방}}$ 이 전적으로 $U_{\text{신}}$ 에 따라 변하게 된다.

이 회로에서 $I_{\text{방}}R_{\text{방}}$ 이 귀환전압으로 된다.

이 귀환전압이 출구전압의 얼마만한 몫에 해당하는가를 표시하기 위하여 귀환결수라는 량을 도입한다.

귀환결수 $\beta_{\text{귀}}$ 는 다음과 같다.

$$\beta_{\text{귀}} = \frac{U_{\text{귀}}}{U_{\text{출}}} = \frac{I_{\text{방}} \cdot R_{\text{방}}}{I_{\text{수}} \cdot R_{\text{수}}} \approx \frac{R_{\text{방}}}{R_{\text{수}}}$$

실례로 $R_{\text{수}}=10\text{k}\Omega$, $R_{\text{방}}=0.1\text{k}\Omega$ 이라면 $\beta_{\text{귀}}=0.01$ 이다. 즉 출구전압의 1%가 부귀환된다는 것을 말해준다.

(2) 전압부귀환증폭회로

이 회로는 출구전압에 비례하는 전압을 입구에 되돌려보내는 부귀환회로이다. (그림 3-17)

회로에서 $C_{\text{귀}}$, $R_{\text{귀}}$ 가 귀환요소이다. $C_{\text{귀}}$ 가 있으므로 교류신호만 귀환된다.

입구에 신호전압의 $\langle + \rangle$ 반주기가 걸리는 경우에 수전극에는 $\langle - \rangle$ 극성의 증폭된 전압이 나타난다. 이 전압이 $C_{\text{귀}}$, $R_{\text{귀}}$ 를 통하여 기초극에 작용하게 된다. 따라서 입구신호와 귀환신호는 위상이 반대로 되므로 부귀환결합이 실현된다.

입구에 $\langle - \rangle$ 반주기의 신호전압이 걸리는 경우는 앞에서와는 반대로 귀환전압이 $\langle + \rangle$ 로 된다.

귀환되는 세력의 크기는 귀환요소 $C_{\text{귀}}$, $R_{\text{귀}}$ 의 값에 관계된다.

$C_{\text{귀}}$ 의 용량을 크게 하거나 $R_{\text{귀}}$ 의 값을 작게 할수록 귀환전압이 커지고 반대로 $C_{\text{귀}}$ 의 용량을 작게 하거나 $R_{\text{귀}}$ 의 값을 크게 할수록 귀환전압이 작아진다.

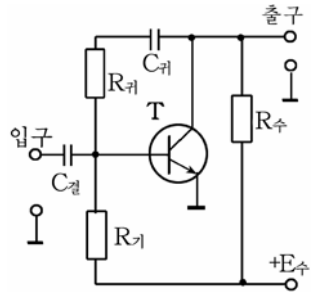


그림 3-17. 전압부귀환회로

3) 부귀환증폭회로의 증폭결수

부귀환증폭회로의 증폭결수는 다음 식으로 표시된다.

$$K_{\text{귀}} = \frac{K}{1 + K\beta_{\text{귀}}}$$

여기서 K는 귀환이 없을 때의 증폭결수이고 $\beta_{\text{귀}}$ 는 귀환결수이다.

식에서 보는바와 같이 부귀환을 실시하면 부귀환을 하지 않았을 때보다 증폭결수가 $1/(1+K\beta_{\text{귀}})$ 배 작아진다.

그대신 부하저항이나 전원전압이 변하거나 3극소자를 바꿀 때 증폭결수의 변화가 적어지게 된다.

이 관계를 실례를 들어서 보기로 하자.

부귀환이 없을 때의 증폭결수 $K=100$ 인 증폭회로에 $\beta_{\text{귀}}=0.1$ 인 부귀환회로를 련결하면 증폭결수는

$$K_{\text{귀}} = \frac{K}{1 + K\beta_{\text{귀}}} = \frac{100}{1 + 100 \times 0.1} \approx 9.1$$

어떤 원인으로 K가 100으로부터 10% 작아져서 90으로 되었다고 하면 이때

$$K_{\text{귀}} = \frac{90}{1 + 90 \times 0.1} = 9$$

즉 부귀환을 실시하지 않았을 때에는 증폭기의 증폭결수가 10% 변하였으나 부귀환을 하면 증폭결수가 1%밖에 변하지 않았다.

부귀환은 여러단으로 된 증폭회로에서도 적용할수 있다.

3. 전력증폭회로

반도체 3극소자증폭회로는 본질에 있어서 모두 전력증폭을 하지만 작은 신호를 증폭하는 회로는 흔히 예비증폭회로, 큰 신호를 증폭하는 회로는 전력증폭회로라고 부른다.

보통 전력증폭회로는 증폭기의 마지막단을 이루며 증폭기의 부하를 동작시키는데 필요한 출력을 얻는다.

전력증폭회로는 회로구성방식에 따라 비대칭전력증폭회로와 대칭전력증폭회로로 나눈다.

1) 비대칭전력증폭회로

비대칭전력증폭회로는 그림 3-18에 보여준것과 같이 한개의 3극소자로 증폭회로를 구성하고있다.

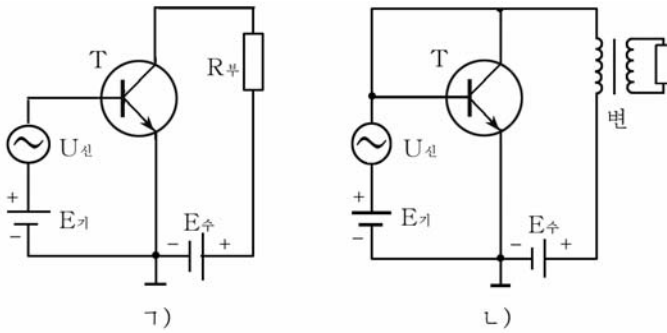


그림 3-18. 비대칭전력증폭회로

그림의 1)의 회로는 R_b 를 증폭회로의 출구에 연결한것이고 그림의 2)의 회로는 변성기를 통하여 간접적으로 R_b 를 연결한것이다.

그림에서 E_k 는 3극소자에 편의전압을 보장하기 위한 전원을 표시한것인데 실제회로에서는 E_k 를 따로 넣지 않고 편의회로를 통해 수전극전원 E_s 의 일부를 따내서 쓴다.

그림의 1)와 같이 부하 R_b 를 증폭기의 출구회로에 직접 연결하면 회로가 간단해지는 우점이 있는 반면에 다음과 같은 결함을 가지게 된다.

우선 부하로 항상 직류전류가 흐르므로 직류에너손실이 크다. 따라서 증폭기의 효율이 낮아진다.

다음으로 회로에서 최대출력조건이 잘 보장되지 않는다.

증폭회로에서 부하에 출력을 최대로 전달하자면 회로의 출구저항과 부하저항이 꼭 같아야 한다. 즉 정합시켜야 한다.

그런데 일반적으로 증폭회로의 출구저항과 부하저항은 같지 않다.

실례로 부하로 고성기를 쓰는 경우 고성기의 저항은 4~6Ω 정도이고 3극소자의 출구저항은 수십kΩ 또는 그 이상으로 크다.

그러므로 고성기를 직접 증폭회로의 출구에 연결하면 최대의 출력을 낼수 없다.

그림의 2)와 같이 변성기를 통하여 출구회로에 부하저항 R_b 를 연결하면 앞서서와 같은 결함들이 극복될수 있다.

변성기권선의 유효저항은 아주 작으므로 직류손실이 문제시되지 않는다.

또한 변성기의 1차와 2차권선사이의 권회수비 $n = \omega_1 / \omega_2$ 를 적당히 하면 증폭기의 출구와 부하를 정합시킬수 있다. 여기서 권회수비 n 을

변성기의 변성비라고 부른다.

증폭회로의 출구저항을 $R_{출}$, 부하저항을 $R_{부}$ 라고 할 때 정합을 보장하기 위한 변성비 n 은 다음과 같이 표시된다.

$$n = \sqrt{\frac{R_{출}}{R_{부}}}$$

례를 들어 출구저항이 $10k\Omega$ 이고 부하(고성기)의 저항이 4Ω 이라고 하면 변성비 n 은

$$n = \frac{\omega_1}{\omega_2} = \sqrt{\frac{R_{출}}{R_{부}}} = \sqrt{\frac{10000}{4}}$$

즉 1차권선은 2차권선의 50배 되게 감아야 한다. 이때 증폭회로에서 부하로 최대출력을 넘겨줄수 있다.

다음은 이 회로의 동작과정을 살펴보자.

기초극에 편의전압을 적당히 주고 큰 입구신호를 넣어주면 전력증폭이 진행된다.

입구신호의 $\langle + \rangle$ 반주기동안에는 수전극전류가 커지고 $\langle - \rangle$ 반주기 동안에는 수전극전류가 작아진다. 즉 입구신호전압에 따라 수전극전류가 변한다. 수전극전류는 수전극전원 $E_{수}$ 로부터 변성기1차권선을 거쳐 3극소자의 수전극 \rightarrow 방사극 $\rightarrow -E_{수}$ 로 흐른다.

변성기의 1차권선으로 입구신호에 따라 변하는 전류가 흐르면 2차권선에 신호기전력이 유기되고 이에 의하여 부하저항 $R_{부}$ 로는 $i_{부} = ni_{수}$ 의 큰 신호전류가 흐르게 된다.

비대칭전력증폭회로는 효율이 낮으나 질이 좋으므로 출력이 작은 증폭기들에서 널리 쓰이고있다.

2) 대칭전력증폭회로

두개의 출력3극소자를 대칭으로 련결하여 높은 효율을 가지고 큰전력 증폭을 실현하도록 한 회로를 대칭전력증폭회로라고 부른다.

대칭전력증폭회로에도 출력변성기를 쓴것과 쓰지 않은 두가지 회로 방식이 있는데 여기서는 출력변성기가 없는 회로에 대해서만 보기로 한다.(그림 3-19)

그림 3-19의 회로에서 3극소자 T_1 과 T_2 는 특성이 같고 극성만 다르다. 저항 R_1 , R_2 , R_3 , R_4 는 T_1 과 T_2 에 편전압을 보장하기 위한 요소들이다.

회로의 동작과정을 보자.

입구에 $\langle + \rangle$ 반주기의 신호가 들어오는 경우에 T_1 은 열리고 T_2 는 닫힌다. (T_2 는 pnp형 3극소자이므로)

이때 부하저항 $R_{부}$ 로는 다음과 같은 회로를 따라 전류가 흐른다.

$+E_{수} \rightarrow T_1$ 의 수전극 \rightarrow 방사극 $\rightarrow C_2 \rightarrow R_{부} \rightarrow$ 접지 $\rightarrow -E_{수}$

이때 축전기 C_2 는 그림에서 왼쪽극판이 $\langle + \rangle$, 오른쪽극판이 $\langle - \rangle$ 로 충전된다. 축전기 C_2 에 충전되는 전압은 거의 $E_{수}$ 와 같다. 이 전압은 T_2 의 방사극전압으로 된다.

다음 $\langle - \rangle$ 반주기의 입구신호가 들어오는 동안은 앞에서와 반대로 T_2 가 열리고 T_1 은 닫힌다. T_2 가 열리면 C_2 는 다음과 같은 회로를 따라 방전한다.

C_2 의 왼쪽극판 (+) $\rightarrow T_2$ 의 방사극 \rightarrow 수전극 \rightarrow 접지 $\rightarrow R_{부} \rightarrow C_2$ 의 오른쪽극판(-)

이와 같이 $R_{부}$ 로는 입구신호의 $\langle + \rangle$ 반주기와 $\langle - \rangle$ 반주기에 대하여 방향이 반대인 교류전류가 흐른다. 즉 두 3극소자에 의하여 증폭된 신호전류가 $R_{부}$ 로 흐르게 된다.

이런 회로를 **상보대칭출력회로**라고 부른다.

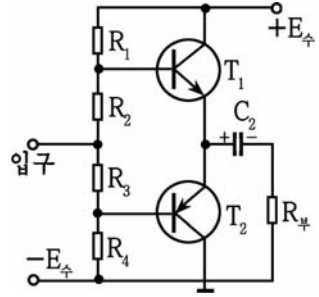


그림 3-19. 대칭출력증폭회로

4. 연산증폭기

연산증폭기란 큰 증폭결수와 깊은 부귀환을 가진 집적회로직류증폭기를 말한다.

전자회로에서 연산증폭기는 그림 3-20과 같이 표시한다.

여기서 $\langle - \rangle$ 입구를 **반전입구**라고 하며 $\langle + \rangle$ 입구를 **비반전입구**라고 한다.

반전입구라는것은 여기에 입구신호를 넣을 때 출구에서 위상이 반대가 된다는것이고

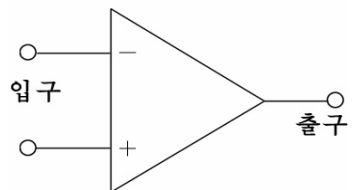


그림 3-20. 연산증폭기의 표시

비반전입구라는것은 여기에 신호를 넣을 때 출구신호의 위상이 입구와 같아지게 된다는것이다.

다시말하여 **반전**이란 위상이 뒤집힌다는 뜻이고 **비반전**이란 위상이 뒤집히지 않는다는 뜻이다.

이상적인 연산증폭기는 어떤 특징을 가지는가?

① 이상적인 연산증폭기의 증폭결수는 거의 무한대에 가깝다. 지금 증폭결수가 10^{10} 배정도의것도 생산되고있다.

② 이상적인 연산증폭기의 출구저항은 령에 가까우며 입구저항은 거의 무한대에 가깝다.

현재 입구저항이 $10^9\Omega$ 이상 되는 연산증폭기들도 생산되고있다.

이밖에도 여러가지 특성을 가지고있다.

연산증폭기는 우선 직류 및 교류증폭기로 리용한다.

연산증폭기는 또한 더하기, 덜기, 곱하기와 로그증폭, 미분, 적분과 같은 연산기능회로로 리용한다.

연산증폭기는 또한 전압안정기, 평활려파기, 각종 발진기, 수자-상사 및 상사-수자변환기 등으로 쓰인다.

그림 3-21에 전형적인 연산증폭기의 실례를 보여주었다.

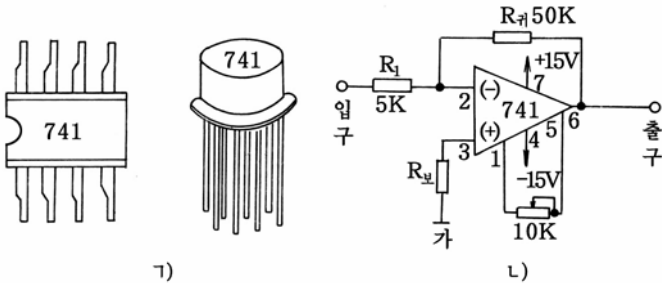


그림 3-21. 집적소자741의 외형과 그를 리용한 증폭기회로

1) 741의 외형, 2) 회로

그림에서 R_1 은 입구단자저항이며 R_f 는 귀환저항이다.

그리고 <가>는 가상접지점이라고 하는데 실제로는 접지되지 않았지만 접지로 보는것이다.

그 근거는 입구저항을 무한대로 보므로 입구전류 $I_{입} \approx 0$ 으로 본다는데로부터 <가> 점을 접지점으로 볼수 있다.

반전입구단자는 2번, 비반전입구단자는 3번이며 7번은 +15V전원

단자, 4번은 -15V전원단자이다.

1번단자와 5번단자사이에 10kΩ정도의 가변저항을 연결하여 령점조절을 한다.

령점조절이란 입구신호가 없을 때에도 출구에 신호가 나타날수 있는데 이것을 령으로 만들기 위한 조절이다.

이 회로의 증폭결수를 보기로 하자.

입구전류 $I_{입} \approx 0$ 으로 보면 $I_1 = I_{키}$ 으로 된다.

$$U_{입} = I_1 \cdot R_1$$

$$U_{출} = -I_{키} \cdot R_{키}$$

증폭결수

$$K = \frac{U_{출}}{U_{입}} = - \frac{I_{키} \cdot R_{키}}{I_1 \cdot R_1} = - \frac{R_{키}}{R_1}$$

이 식에서 보는바와 같이 연산증폭기의 증폭결수는 증폭회로를 구성하고있는 내부요소값에는 관계되지 않고 외부에 령결된 입구단자저항과 귀환저항에만 관계된다.

표 3-1에 연산증폭소자 741의 정수와 특성을 보여주었다.

연산증폭소자 741의 정수와 특성

표 3-1

K	R ₁	R _반	R _보	f	령점편차전압	R _입
-1	10kΩ	10kΩ	40kΩ	1MHz	6mV	10kΩ
-10	10kΩ	100kΩ	10kΩ	100kHz	60mV	10kΩ
-100	1kΩ	100kΩ	1kΩ	10kHz	0.6V	1kΩ
-1 000	100Ω	100kΩ	100Ω	1kHz	6V	100Ω

연산증폭소자 741은 내부보상이 되어있는 집적소자로서 비교적 낮은 증폭결수는 보통 10정도로서 외부에 다른 요소를 령결하지 않아도 쓸수 있다.

그러나 증폭결수가 100이상으로 되는 경우에는 출구에 나타나는 령점편의전압이 수V로 커진다. 이렇게 되면 사실상 쓸수 없다.

그래서 이때는 1번과 5번단자사이에 10kΩ의 가변저항을 넣어서 령점편의전압을 최소로 되게 조절한다.

저항 R_보는 입구편의전류를 작게 하기 위하여 비반전입구단자에 령결하였다.

f는 연산증폭기가 증폭할수 있는 주파수대역너비이다. 보통 741소자는 10kHz의 대역너비에서 쓴다.

연습문제

1. 그림 3-15에서 R_2 와 R_4 는 R_1 과 R_3 보다 작아야 한다. 왜 그런가?
2. 그림 3-15에서 결합축전기 $C_{결}$ 의 용량이 $5\mu F$ 이다. 신호주파수가 $1\ 000\text{Hz}$ 일 때 $C_{결}$ 에서의 교류저항은 얼마인가?
3. 그림 3-15에서 수전극부하저항 $R_{수}$ 의 값이 지내 크거나 작으면 증폭결수가 작아진다. 그 이유는 무엇인가?
4. 그림 3-16에서 $R_{수}=10\text{k}\Omega$, $R_{방}=100\Omega$ 일 때 귀환결수 $\beta_{귀}$ 는 얼마인가?
5. 부귀환증폭회로에서 $\beta_{귀}=0.01$ 이라고 할 때 $K_{귀}$ 는 얼마인가?
6. 출구변성기가 있는 비대칭전력증폭기에서 출구저항이 $10\text{k}\Omega$ 이고 부하저항이 16Ω 일 때 변성비를 얼마로 해야 부하에서 최대출력을 얻겠는가?
7. 연산증폭기에서 반전입구와 비반전입구란 무엇인가?
8. 연산증폭기의 증폭결수는 무엇에 관계되는가?

제3절. 저주파증폭기

1. 저주파증폭기에 대한 일반지식

저주파증폭기는 사람이 들을수 있는 주파수인 $16\sim 20\ 000\text{Hz}$ 의 신호를 증폭하는 전자장치이다.

저주파증폭기는 주로 사람의 말소리나 저주파신호를 크게 해주는 역할을 한다.

저주파증폭기에서는 필요한 증폭도를 보장하기 위하여 여러단 증폭한다. 이런 증폭기를 **여러단증폭기**라고 한다. 그림 3-22에 여러단으로 된 저주파증폭기의 구성도를 보여주었다.

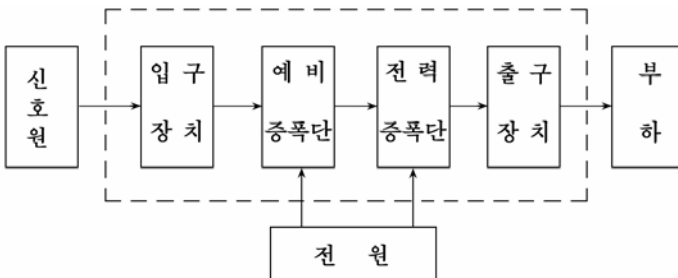


그림 3-22. 저주파증폭기의 구성도

여러단증폭기에서 매 증폭단은 꼭같은 회로로 되어있지 않다.

즉 매 증폭단은 그것이 쓰이는 목적과 동작상태, 증폭단에 쓰이는 전자요소들이 다를수 있다.

신호원은 증폭할 전기적신호를 내는 장치이다.

입구장치는 첫 증폭회로의 입구에 신호전압을 전달하기 위한 장치이다.

예비증폭단은 전력증폭단에서 요구하는 값까지 입구신호전압을 증폭하는 사명을 수행한다. 그의 증폭단수는 증폭해야 할 증폭도에 따라 하나 또는 몇개 단으로 구성한다.

전력증폭단은 부하를 동작시키는데 필요한 크기까지 신호세력을 전력증폭하여 부하에 보내는 역할을 한다.

출구장치는 끝단과 부하를 련결해주는 장치이다.

출구장치에는 전력증폭단과 부하를 정합시킬 목적으로 변성기를 쓰는 경우가 많다.

전력증폭단과 부하를 직접 련결하는 경우도 있는데 이런 때에는 출구장치를 따로 쓰지 않는다.

전원단은 매개 증폭단에서 요구하는 직류전압을 보장한다.

2. 저주파증폭기의 회로와 동작원리

여기서는 10W저주파증폭기의 회로와 동작원리에 대하여 보기로 하자.(그림 3-23)

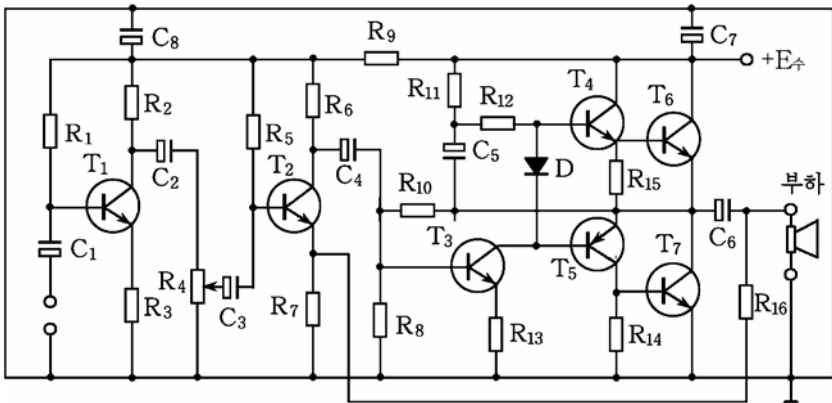


그림 3-23. 10W 저주파증폭기의 회로도

이 증폭기는 모두 4단으로 구성되어있는데 첫 두개 단은 예비증폭단, 셋째 단은 위상돌림단, 넷째 단은 상보대칭전력증폭회로로 구성되어있다.

1) 첫째 예비증폭단

첫째 예비증폭단은 3극소자 T_1 로 된 고정편의회로로 구성되어있다.

첫째 예비증폭단에서 C_1 은 결합축전기, R_1 은 T_1 의 기초극편의 저항, R_2 는 T_1 의 수전극부하저항, R_3 은 T_1 의 부귀환저항이다.

입구신호가 없을 때에는 기초극전류와 수전극전류가 일정하다.

입구에 신호전압이 작용하면 즉 마이크신호가 들어오면 기초극전류와 수전극전류에 입구신호성분이 포함되므로 수전극부하저항 R_2 에는 증폭된 신호전압이 나타나며 둘째 예비증폭단의 기초극으로 들어간다.

2) 둘째 예비증폭단

둘째 예비증폭단은 3극소자 T_2 로 구성된 저항-용량결합증폭회로로 되어있다.

회로에서 C_2 , C_3 은 첫째 예비증폭단과 둘째 예비증폭단을 결합시키기 위한 결합축전기, R_4 는 기초극전류를 조절하여 증폭결수를 변화시키기 위한 가변저항기(음향조절저항기), R_5 는 T_2 의 기초극편의 저항, R_6 은 T_2 의 수전극부하저항, R_7 은 T_2 의 부귀환저항기이다.

전류흐름길은 첫단에서와 같다. 둘째 예비증폭단에서 증폭된 신호전압은 결합축전기 C_4 를 통하여 위상돌림단회로로 들어간다.

3) 위상돌림단

3극소자 T_3 으로 구성된 회로는 위상돌림단회로를 이룬다.

T_3 의 기초극으로 신호전류가 흐를 때 T_3 의 수전극에는 위상이 반대인 신호전압이 나온다.

이 위상이 반대인 신호전압은 T_4 와 T_5 의 기초극에 작용하여 전력증폭회로를 동작시킨다.

4) 전력증폭단

전력증폭단은 3극소자 T_4 와 T_5 로 구성된 상보대칭전력증폭단으로 되어있으며 출력소자 T_6 을 T_4 의 방사극에, T_7 을 T_5 의 수전극에 편결하여 증폭결수를 크게 하였다.

3극소자 T_4 , T_5 의 기초극편의전압은 2극소자 D에 의해 걸리게 되어있다.

회로의 동작과정을 보자.

T_3 의 수전극에서 나오는 위상이 반대인 신호는 T_4 와 T_5 의 기초극에 작용하여 신호전압을 증폭한다.

T_3 의 수전극신호가 (+)반주기인 경우에 3극소자 T_4 가 열리면서 T_6

도 열리어 C₆을 충전시킨다.

+E₄→T₄의 수전극→T₄의 방사극→T₆의 기초극→T₆의 방사극→C₆의 <+> 극판→C₆의 <-> 극판→고성기→접지

이때 축전기 C₆은 왼쪽극판이 <+>로, 오른쪽극판이 <->로 충전되면서 고성기를 올린다.

충전전압은 거의 E₄와 같고 이 전압은 T₅의 방사극전압으로 된다.

T₃의 수전극신호전압의 <-> 반주기인 경우 3극소자 T₅가 열리면서 T₇도 열리어 C₆에 충전된 신호전류가 방전되면서 고성기로 증폭된 신호전류가 흐르면서 고성기를 올린다.

이때 고성기로는 다음과 같은 방전회로를 따라 전류가 흐른다.

C₆의 <+> 극→T₇의 방사극→고성기→C₆의 <-> 극

이와 같이 고성기로는 T₃의 출구신호의 <+> 반주기와 <-> 반주기에 대하여 T₄와 T₅이 서로 엇바뀌어 열리면서 증폭된 신호전류가 흐른다. 즉 증폭된 신호전류가 고성기로 흘러 증폭된 소리가 나온다.

3. 저주파증폭기의 운영

① 증폭기의 전원접속두를 교류전원의 접속구에 쏘는다.

② 증폭기의 전원스위치를 눌러 전원을 투입한다. 이때 신호등에 불이 켜진다. 전원의 차단은 전원스위치를 다시 누르면 된다.

③ 고성기를 증폭기의 출구단자에 련결한다. 이때 처음에 《부직, 부직》하는 소리가 나다가 고르로와진다.

④ 마이크를 마이크단자에 쏘는다.

⑤ 음량조절기를 돌리면서 고성기에서 나는 소리크기를 조절한다. 마이크를 고성기가까이에 가져가면 《뻑-》하는 발진음이 생기므로 적당한 위치에 마이크와 고성기를 설치해야 한다.

⑥ 유선방송을 중계하는 경우에는 유선방송신호를 증폭기입구에서 알맞는 크기로 작게 만들어넣어야 한다.

⑦ 녹음기신호를 증폭기의 전축신호입구단자에 련결할 때도 유선방송을 중계할 때와 같이 신호를 작게 한 다음 넣어야 한다.

연습문제

1. 저주파증폭기의 회로구성도를 그려라.
2. 예비증폭회로와 전력증폭회로의 차이점은 무엇인가?
3. 예비증폭단들에서 신호의 흐름경로를 말하여라.

[실습] 저주파증폭기만들기

1. 저주파증폭기의 조립 및 조정방법

1) 전자요소들의 준비와 검사방법

표 3-2에 요소들의 값을 주었다.

10W저주파증폭기의 전자요소와 자재명세표

표 3-2

요소 번호	이름	규격		요소 번호	이름	규격	수량
		부호	대용소자 규격				
T ₁	반도체3극소자	다427	C1815	R ₁₁	저항기	3.3kΩ	
T ₂	반도체3극소자	다427	C1815	R ₁₂	저항기	5.6kΩ	
T ₃	반도체3극소자	다427	C1815	R ₁₃	저항기	150kΩ	
T ₄	반도체3극소자	다427	C1815	R ₁₄	저항기	150Ω	
T ₅	반도체3극소자	가110	A1015	R ₁₅	저항기	22kΩ	
T ₆	반도체3극소자	라710	BU406	C ₁	전해축전기	1μF/30V	
T ₇	반도체3극소자	라710	BU406	C ₂	전해축전기	1μF/30V	
R ₁	저항기	620kΩ		C ₃	전해축전기	1μF/30V	
R ₂	저항기	4.7kΩ		C ₄	전해축전기	1μF/30V	
R ₃	저항기	150Ω		C ₅	전해축전기	47μF/30V	
R ₄	가변저항기	47kΩ		C ₆	전해축전기	1 000μF/50V	
R ₅	저항기	620kΩ		C ₇	전해축전기	1 000μF/50V	
R ₆	저항기	4.7kΩ		C ₈	전해축전기	100μF/50V	
R ₇	저항기	150Ω		D	반도체2극소자	1N4007	
R ₈	저항기	10kΩ		+E _수	직류전원	24V	
R ₉	저항기	3.3kΩ			멤납파 송진		약간량
R ₁₀	저항기	110kΩ			조립기판		

조립기판은 그림 3-24와 같다.

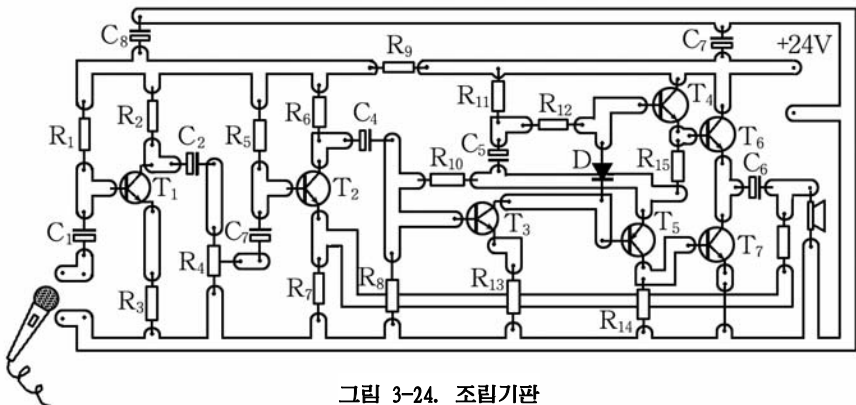


그림 3-24. 조립기판

전자회로조립에서는 먼저 조립할 회로에 해당하는 전자요소들을 준비해야 한다. 먼저 회로도에 표시된 반도체소자를 준비해야 한다.

반도체소자준비에서는 소자의 자호가 회로도에 표시된 자호와 맞는 것으로 선정하는것을 원칙으로 하며 없는 경우에는 그 소자와 특성이 같은 소자를 선택해야 한다. 저항기나 축전기준비에서는 회로도의 저항값과 용량값에 맞는가, 소비전력이나 사용전압이 맞는가를 확인하고 알맞는것으로 선정해야 한다.

전자요소가 준비되면 우선 외부검사를 하여 인출선이 끊어지지 않았는가, 외부적으로 흠집이 없는가를 확인하고 회로시험기로 검사한다.

검사결과가 정상인 전자요소들을 갈라낸다.

2) 부분품배치와 회로배선에서 지켜야 할 점

① 전원변압기와 선택류선류, 출력변성기와 입구변성기를 리용할 때에는 그것들사이의 거리를 될수록 멀리 해야 한다. 출력변성기 혹은 전원변압기의 새기자속이 입구변성기의 권선축과 수직으로 사귀게 설치해야 한다. 즉 두 변성기들은 서로 90°의 각도로 설치해야 한다. 보통 전원변압기와 선택류선류는 기본조립판에 배치하지 않고 따로 배치한다.

② 신호전류가 흐르는 배선들은 차폐선을 써야 한다.

③ 입구와 출구배선 및 요소들의 거리를 될수록 멀리 하며 특히 입구신호가 걸리는 배선들은 모두 차폐선을 써야 한다.

④ 입구신호가 걸리는 배선들의 길이를 될수록 짧게 해야 한다.

⑤ 높은 증폭결수를 가진 여러단증폭기에서 접지점을 잘 처리해야 한다. 즉 공동전원단자를 증폭기의 마지막접지점에 될수록 가까이 련결하며 개별적단들에서 요소들의 접지점은 그 단의 방사극접지점에 같이 련결하는것이 좋다.

3) 인쇄배선 만드는 방법

회로의 조립과 배선은 인쇄배선판에 한다. 그러므로 조립에 앞서 인쇄배선판을 준비해야 한다. 인쇄배선판은 인쇄기판으로 만든다.

인쇄기판이란 베클라이트나 합성수지로 된 판대기에 동판을 얇게 붙여 놓은 판대기를 말한다.

인쇄기판에는 동판을 한쪽 면에만 붙인 외면기판과 양쪽 면에 다 붙인 량면기판이 있다.

인쇄기판은 다음과 같이 만든다.

① 조립해야 할 전자요소의 크기와 수량 등을 고려하면서 인쇄기판을 적당한 크기로 자른다.

② 종이우에 전자요소를 배치해보면서 배선도를 그린다. 이때 배선들이 서로 사귀지 않도록 하면서 제품의 문화성을 고려해야 한다. 부득이 사귀지 않으면 안되는 곳은 전기줄을 리용할것을 예견하여야 한다.

③ 인쇄기판을 연마종이로 깨끗이 연마한다.

④ 인쇄기판에 산에 견디는 약품으로 배선도를 옅게그린다. 이때 배선들에서 급격한 꺾임이나 뾰족한 모서리가 없게 그려야 한다.

인쇄도선의 너비는 전류, 전압, 기계적세기, 제작가능성 등을 고려하면서 정하는데 여기서는 1~2mm로 한다. 그리고 도선사이간격은 1mm이상 되게 한다.

산에 견디는 약품으로는 공장에서 만든것이 없으면 라크나 니스, 알콜 또는 휘발유에 푼 피치 혹은 기린피 등을 쓴다.

⑤ 인쇄기판을 부식액속에 잠그어 불필요한 부분을 부식시킨다. 부식액으로는 염화제2철용액 또는 15~20%의 질산 등을 쓴다.

부식속도는 부식액의 농도와 온도에 따라 달라진다. 부식액의 농도와 온도를 높이면 부식속도는 빨라지지만 그 대신 남겨두어야 할 부분까지 부식될수 있으므로 적당히 하는것이 좋다.

⑥ 부식이 끝나면 기판을 물에 씻은 다음 잘 말리운다.

⑦ 기판에 남아있는 산에 견디는 약품을 물로 끊어내거나 신나, 알콜 등을 써서 깨끗이 없애버린다.

⑧ 정확히 부식되었는가 세심히 검사하고 인쇄도선이 끊어진것은 납땀으로 이어주고 채 부식되지 않은 부분은 칼로 따낸다.

⑨ 전자요소들의 인출선을 꽂을 자리를 표시하고 수동드릴 또는 전기드릴로 구멍을 뚫는다. 이 구멍뚫기는 부식에 앞서 먼저 할수도 있다.

⑩ 절연니스 또는 알콜에 송진을 푼 액을 기판에 골고루 발라주고 잘 말린다. 이렇게 하면 인쇄배선판이 완성된다.

4) 납땀방법

납땀은 40%의 석과 60%의 연을 섞어서 만든 합금을 쓰는데 183°C에서 녹기 시작하여 235°C이면 완전히 녹는다.

송진은 납땀이 잘 붙게 하는것과 함께 금속겉면에 붙어있는 어지러운것들을 청소하는 역할을 하며 금속겉면이 어지러워지는것을 막아주는 보호막의 역할도 한다. 또한 금속겉면이 산화되는것을 막아주는 역할도 한다.

흔히 쓰는 송진은 깨끗이 받은 송진에 테레빈기름을 섞어서 만든것인데 테레빈기름이 없을 때에는 알콜이나 글리세린, 석유, 벤졸 등에 풀어서 쓸수도 있다. 납땀은 전기인두로 한다.

전기인두는 전원전압이 110V 또는 220V에 쓸수 있게 만든다.

전기인두는 보통 250°C아래에서 쓰도록 만드는데 전원에 련결한 후 3~4min 지나면 이 온도에 이른다.

납땀은 다음과 같은 방법으로 한다.

① 잘 가열된 전기인두의 인두날에 납물을 묻힌다.

② 때려는 부분을 잘 닦아내고 납송진을 바른 다음 납땀과 함께 전기인두를 대어 납물을 올린다.

③ 인쇄기판에 붙이려는 전자요소들의 다리를 적당하게 자르고 연마종이 또는 칼로 닦아낸다.

④ 닦아낸 전자요소들의 다리에 납송진을 바르고 전기인두로 납물을 올린다.

⑤ 납물을 올린 전자요소들의 다리를 인쇄기판의 해당한 구멍에 끼워넣고 납땀한다.

⑥ 반도체소자나 집적소자의 다리를 인쇄기판에 붙이려고 할 때에는 핀셋으로 때려는 다리를 잡고 빠른 시간안에 때야 한다.

⑦ 납땀이 끝나면 그 부분을 닦아낸다.

⑧ 납땀부분을 검사한다.

먼저 납땀부분이 둥글고 미끈한가를 검사한다.

다음 납땀이 잘되었는가를 검사한다. 이때에는 핀셋으로 잡아당겨 보거나 흔들어보는 방법으로 한다.

검사할 때 잘 붙지 않은 부분이 있으면 다시 붙인다. 이렇게 하면 납땀이 끝난다.

2. 저주파증폭기의 조립 및 시험과 조정

1) 저주파증폭기의 조립

회로의 조립과 배선은 마지막단으로부터 시작하여 거꾸로 나오면서 진행한다.

매 단에서는 먼저 저항기, 축전기, 선류의 순서로 인쇄기관의 해당한 구멍에 꽂고 납땀하여 조립하며 반도체3극소자와 반도체2극소자는 마지막에 조립한다. 전자요소들을 조립할 때에는 잘 달은 전기인두와 질 좋은 납과 송진을 써서 빠른 시간안에 해야 한다.

① 인쇄기관의 땀할 부분에 납물 올리기

연마종이 또는 칼로 땀할 부분을 잘 닦은 다음 송진을 바른다. 다음 잘 가열된 전기인두로 납물을 올린다.

인쇄기관에 대한 납물올리기는 기관의 모든 부분에 대하여 다 같이 먼저 하는것이 좋다.

② 저항기, 축전기의 조립

먼저 저항기들을 인쇄기관의 해당한 구멍에 끼우고 전기인두로 납땀한다. 다음 축전기들을 해당한 구멍에 끼우고 납땀한다.

전해축전기들을 회로에 조립할 때에는 극성을 잘 보면서 극성에 맞게 조립하여야 한다.

소형전해축전기에는 단자가 두개 꼭같이 나와있는데 $\langle + \rangle$ 단자가 있는 걸통에 \oplus 라는 표식이 찍혀져있으므로 그것을 참고로 단자극성을 갈라보면 된다.

큰 전해축전기들은 단자가 하나밖에 없는데 그 단자가 $\langle + \rangle$ 단자이며 축전기의 걸통이 $\langle - \rangle$ 단자이다.

③ 반도체소자들의 조립

반도체3극소자를 조립할 때에는 기초극, 방사극, 수전극들을 정확히 찾아서 인쇄기관의 해당한 위치에 납땀하는것이 중요하다.

만일 잘못하여 다리들을 바꾸어서 납땀하면 회로가 동작하지 않을뿐 아니라 소자를 못쓰게 만들수 있다.

반도체소자들을 납땀할 때에는 핀셋으로 다리를 잡아주어 열이 소자 내부에 적게 전달되게 해주며 잘 가열된 전기인두로 2~3s 동안에 빨리 때 붙여야 한다.

출력소자들은 알루미늄관으로 만든 방열판과 함께 인쇄기관에 조

립한다. 이때 방열판과 소자가 닿는 면이 정확히 밀착되어 열방출이 잘 되도록 하여야 한다.

반도체2극소자들은 극성에 주의하면서 인쇄기관의 해당한 구멍에 끼워넣고 납땀한다.

2) 저주파증폭기의 시험과 조정

(1) 시험

① 증폭기에 전원을 주지 않은 상태에서 다음과 같이 시험한다.

- 요소들과 부분품들이 인쇄기관에 제대로 납땀되어있는가 또는 고정되었는가를 눈으로 확인한다.

- 회로시험기로 도통시험을 한다.

전원선과 접지선이 맞붙지 않았는가 혹은 납땀을 잘못하여 붙지 않을데 붙은것은 없는가를 축전기, 저항기, 반도체소자들의 련결점들사이의 저항을 측정해보면서 검사한다.

② 증폭기에 전원을 넣고 다음과 같이 시험한다.

- 회로시험기로 증폭기에 걸리는 직류전압을 측정해본다.

- 회로시험기로 매 3극소자의 방사극과 수전극에 걸리는 직류전압을 측정해본다. 이때 직류전압은 걸리는데 전류가 흐르지 않는다면 3극소자들이 못쓰게 된것으로 판정한다.

- 회로시험기로 매 3극소자의 기초극에 걸리는 직류전압을 측정해본다.

소자에 따라 조금씩 다르지만 이 전압은 0.1~1V이면 정상이다.

(2) 조정

① 모든 배선과 납땀이 정상이면 출구에 고성기를 련결하고 전원을 넣는다.

이때 고성기에서 《뵉—》 하는 소리가 크게 들리면 부귀환회로가 잘못된것이다.

② 다음 나사틀개나 손가락을 매 단의 기초극에 순차적으로 댄 때 고성기에서 《붕—》소리가 앞단으로 갈수록 점점 크게 들리면 증폭기가 제대로 동작한다고 볼수 있다. 만일 도라이바의 끝을 댄 때에도 고성기에서 아무런 소리가 들리지 않으면 회로시험기로 전원전압을 검사한다.

이때 전압이 제대로 걸린다면 출력단회로가 제대로 동작하지 못하는 것이며 전원전압이 걸리지 않으면 전원단의 고장이다. 이와 같은 방법으

로 출구에서부터 입구까지 가면서 차례로 시험하여 어느 단이 고장인가를 대략적으로 판정한다.

고장난 단이 판정되면 그 부분에 대한 구체적인 시험을 진행하여 고장난 부분을 찾고 퇴치한다.

(3) 시험 및 조정에서 주의할 점

① 증폭기에 규정된 직류전원을 주어야 한다.

② 증폭기의 요소나 부분품을 바꾸려고 할 때에는 반드시 전원을 끄고 해야 한다.

만일 전원을 끄지 않고 납땀하면 전기인두의 새기전류가 반도체소자로 흘러가면서 요소를 못쓰게 만들수 있다.

③ 반도체3극소자를 검사하려고 할 때에는 기초극을 인쇄기판에서 떼내고 해야 한다.

④ 요소의 저항값을 검사하려고 할 때에는 부하와 전원회로를 떼놓고 시험해야 한다.

그렇지 않으면 다른 회로를 거쳐 전류가 흐를수 있으므로 정확한 저항값이나 용량값을 알아낼수 없다.

제4절. 고주파회로

고주파회로란 주파수가 20kHz이상 되는 신호를 취급하는 전자회로를 말한다.

신호의 주파수가 높아질수록 회로안에서 선류의 유도도 L과 축전기의 용량 C의 영향이 보다 두드러지게 나타나며 반도체2극소자, 3극소자, 집적회로의 동작에서 제한을 받게 된다.

고주파회로는 그의 사명과 용도에 따라서 고주파증폭회로, 고주파발전회로, 주파수변환회로, 변조회로, 검파회로 등으로 나눈다.

1. 공진회로

1) 진동회로

진동회로란 전자기적인 떨기(진동)를 일으키는 회로를 말한다.

이러한 진동회로는 그림 3-25와 같이 축전기 C와 선류 L로 된 단진회로회로를 들수 있다.

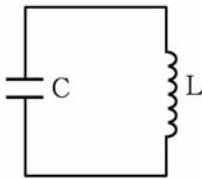


그림 3-25. LC진동회로

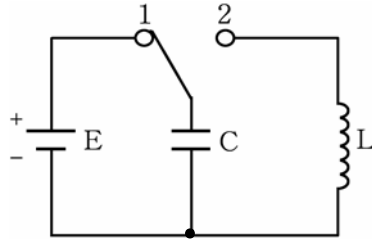


그림 3-26. 전자기진동의 원리회로

그러면 이 진동회로에서 어떻게 전자기진동이 생기는가를 보기로 하자.

그림 3-26과 같이 회로를 구성하고 여닫개를 1위치에 연결하자.

이때 축전기 C는 전원전압 E에 의하여 충전되어 축전기의 두 극판 사이에는 전위차(전압)가 생기게 된다. 축전기에서 전력은 전기마당의 에너지를 형태로 저축된다.

다음 여닫개를 2위치에 연결하면 축전기의 두 극판사이의 전위차에 의하여 여닫개와 선류를 통하여 방전전류가 흐르게 된다.

이 방전전류에 의하여 선류는 그 주위에 자기마당을 만든다.

축전기에 충전되었던 전기량이 거의 다 방전하여 방전전류가 작아지기 시작하면 선류주위에 형성되었던 자기마당의 세기도 작아지게 된다.

선류는 자체유도현상에 의하여 역기전력을 만드는데 그의 방향은 전류의 변화를 방해하는 방향으로 향한다. 이 역기전력에 의하여 축전기에 저축되었던 전기량이 다 방전한 이후에도 같은 방향으로 전류가 계속 흘러 축전기가 처음과는 반대극성으로 충전된다.

결국 축전기의 전기마당의 에너지가 선류에서 자기마당의 에너지로 변환되었다가 다시 축전기에 전기마당의 에너지로 충전되는데 처음과는 극성이 반대로 된다.

이 과정이 끝나면 다시 축전기가 선류를 통하여 먼저와는 반대방향의 전류를 흘리면서 방전한다. 이때도 앞에서와 같은 원리로 축전기의 전기마당의 에너지가 선류에서 자기마당의 에너지로 변환되었다가 축전기에 다시 전기마당의 에너지로 충전된다.

이와 같이 축전기 C와 선류 L로 된 닫힌전기회로에 외부에서 한번 직류에너지를 주면 전기마당과 자기마당이 주기적으로 부단히 서로 엇바뀌면서 회로에 크기와 방향이 주기적으로 변하는 진동전류가 흐르게 된다.

이와 같은 현상을 **전자기진동**이라고 부르며 이런 전자기진동을 일으키는 닫힌전기회로를 **진동회로**라고 부른다.

진동회로는 축전기의 전기용량 C와 선류의 유도도 L의 크기에 관계되는 자체의 고유한 진동주파수를 가진다. 이 주파수를 진동회로의 **고유주파수**라고 부른다. 진동회로의 고유주파수는 다음 식으로 결정된다.

$$f = \frac{1}{2\pi\sqrt{LC}}$$

앞에서 본 LC진동회로는 외부에서 한번 에너지를 받으면 끊임없이 전자기진동을 진행하는것이 아니라 회로에서의 손실로 인하여 그 진폭이 점점 작아지면서 일정한 시간이 지나면 완전히 잦아들고만다.

진동회로에서 전자기진동이 잦아들지 않고 계속되게 하자면 외부에서 주기적으로 에너지를 공급하여야 한다.

진동회로에 작용하는 전기적신호의 주파수가 진동회로의 고유주파수와 같아질 때 전압 또는 전류의 진폭이 최대로 된다. 이런 현상을 **공진**이라고 부르며 공진이 일어나도록 만든 회로를 **공진회로**라고 부른다.

공진회로는 전자장치들에서 요구하는 주파수의 신호만을 선택하여 처리하는데 흔히 이용된다.

공진회로에는 직렬공진(전압공진이라고도 부른다.)회로와 병렬공진(전류공진이라고도 부른다.)회로가 있다.

(1) 직렬공진회로

그림 3-27과 같이 축전기 C와 선류 L이 직렬로 연결된 회로에 고주파발전기(외부 교류신호원)와 전자전압계를 연결하자.

고주파발전기의 출력은 일정하게 보강하면서 그 주파수를 0으로부터 600kHz까지의 사이에서 변화시키면 어떤 주파수를 기준으로 전자전압계의 바늘이 점차 최대값에 이르렀다가 다시 되돌아가는것을 볼수 있다. 또한 축전기에 걸리는 전압과 선류에 걸리는 전압의 크기가 같아지는것을 볼수 있다.

이 실험을 통하여 어떤 주파수(실례로 465kHz)에서 L과 C에 걸리는 전압이 최대(발전기출구전압의 약 100배정도)로 된다는것을 알수 있다.

이런 현상을 **직렬공진**이라고 부르며 L과 C에서의 전압이 최대로 되

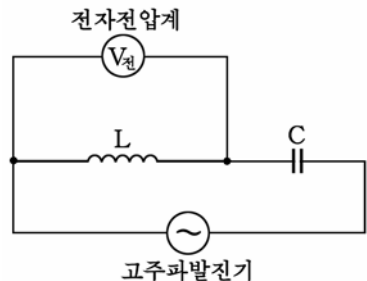


그림 3-27. 직렬공진실험회로

는 때의 주파수를 직렬공진회로의 **공진주파수**(고유주파수)라고 부른다.

직렬공진은 진동회로의 고유주파수와 외부신호의 주파수가 같아질 때 일어난다.

직렬공진이 일어날 때 회로의 총저항은 최소로 되고 회로에는 최대 전류가 흐른다. 직렬공진회로는 불필요한 신호를 제거하는 잡음흡수회로 등에서 많이 쓰인다.

(2) 병렬공진회로

그림 3-28과 같이 축전기 C와 선류 L을 병렬로 연결한 회로에 고주파발전기와 전자전압계를 연결하고 고주파발전기의 발전주파수를 0부터 600kHz사이에서 변화시키자.

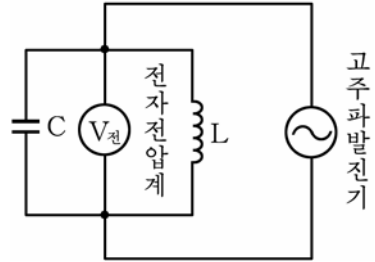


그림 3-28. 병렬공진실험회로

전자전압계의 바늘이 직렬공진실험때와 마찬가지로 어떤 주파수에서 최대값을

가리키는것을 볼수 있다. 이런 현상을 **병렬공진**이라고 부르며 이때의 주파수를 병렬공진회로의 **공진주파수**(또는 고유주파수)라고 부른다.

병렬공진이 일어날 때 진동회로의 전압은 최대로 된다.

병렬공진회로는 TV, 라디오수신기 등의 입구회로에서 필요한 신호만을 선택하는 회로로 많이 쓰인다.

입구진동회로의 고유주파수를 수신하려는 방송국의 신호주파수(통로)에 맞추어놓으면 병렬공진이 일어나 수신하려는 신호전압만 커지고 그밖의 다른 신호전압은 작아진다. 따라서 수신하려는 전파만을 선택할수 있다.

이런 작용을 **동조**라고 한다. 병렬공진회로는 또한 고주파증폭회로와 중간주파증폭회로의 부하로도 많이 쓰인다.

2. 고주파증폭회로

고주파증폭회로란 수십kHz로부터 수백MHz까지의 높은 주파수의 신호를 증폭하는 회로를 말한다.

고주파증폭회로는 입구에 들어오는 여러가지 주파수의 신호들가운데서 필요한 하나의 주파수 또는 좁은 범위의 주파수신호만을 증폭하는데 많이 쓰인다. 이런 의미에서 고주파증폭회로를 선택증폭회로라고 부른다.

고주파증폭회로의 증폭작용은 저주파증폭회로에서와 기본적으로 같다. 그러나 회로구성에서는 일련의 차이가 있다.

저주파증폭회로에서는 부하로 흔히 저항기나 변성기 같은것이 리용되지만 고주파증폭회로에서는 부하로 LC공진회로가 리용되는것이 특징이다.

그러면 고주파증폭회로에서는 왜 부하로 LC공진회로를 쓰는가?

첫째로, 증폭도를 크게 하기 위해서이다. 부하를 공진회로로 하였으므로 출구전압이 증폭소자에서 증폭된 신호전압보다 훨씬 더 커지게 된다.

둘째로, 요구되는 주파수의 신호만을 선택적으로 증폭하기 위해서이다.

이미 앞절에서 학습한바와 같이 LC진동회로는 L과 C의 크기에 의하여 결정되는 자기의 고유주파수를 가지고있다. 이 진동회로에 걸리는 전압은 신호주파수와 진동회로의 고유주파수와 같을 때 즉 공진이 일어날 때 최대로 된다. 따라서 진동회로의 고유주파수와 같은 주파수를 가진 신호만 선택적으로 크게 증폭할수 있다.

그러면 그림 3-29와 같은 고주파증폭회로에서 어떻게 신호가 선택적으로 증폭되는가를 보기로 하자.

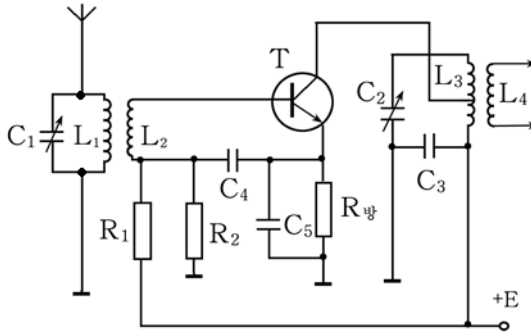


그림 3-29. 고주파증폭회로

고주파증폭회로에서는 신호의 주파수가 높으므로 증폭소자로 고주파용3극소자를 쓴다. 또한 입구진동회로 L_1C_1 과 출구진동회로 L_3C_3 은 신호의 주파수에 공진되게 한다.

안테나로부터 들어온 고주파신호는 입구진동회로 L_1C_1 에서 그의 고유주파수와 같은 주파수의 신호만이 선택되며 그것이 L_2 를 거쳐 고주파3극소자의 기초극에 들어가 증폭된다. 3극소자에서 증폭된 신호는 출구진동회로 L_3C_2 에서 다시 선택증폭되어 L_4 로 넘어간다.

입구 및 출구진동회로의 고유주파수는 가변축전기 C_1 과 C_2 로 변화시킬수 있다. 흔히 C_1 과 C_2 로는 하나의 손잡이로 된 2련가변축전기를 쓴다.

3. 발진회로

발진이란 진동을 일으킨다는 뜻인데 전자회로에서 발진회로라고 할 때에는 전기적진동을 만들어내는 회로를 말한다.

발진을 실현하는 물리적기초는 진동계에서의 자유진동이 여러가지 원인에 의하여 그 진폭이 잦아드는것을 보상해서 잦아들지 않게 하는것이다.

진동계에서 진폭이 잦아드는 중요한 원인은 유효저항 등에서 생기는 자체손실과 발진세력의 일부를 부하에 공급해줌으로써 생기는 외부손실 때문이다. 그러므로 진동계에 부단히 에너지를 보충해주어야 발진이 유지될수 있다.

이 에너지보충은 회로에 직류전원을 연결하여 실현한다. 따라서 **발진과정**이란 회로에 공급되는 직류에너지를 교류신호로 바꾸는 과정이라고 말할수 있다.

발진회로에는 여러가지 종류가 있다.

우선 발진주파수에 따라 저주파발진회로, 고주파발진회로, 초단파발진회로 등으로 나눈다. 그리고 발진파형에 따라 조화파(시누스파)발진회로와 임펄스발진회로로 나눈다. 또한 회로의 구성과 동작원리에 따라서도 여러가지로 나눌수 있다.

그러면 발진회로에서 실지 어떻게 발진이 실현되는가를 그림 3-30과 같은 회로에서 보기로 하자.

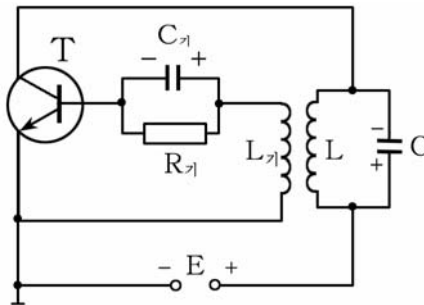


그림 3-30. 유도결합발진회로

보통 발진회로는 증폭회로와 출구진동회로, 출구세력의 일부를 입구에 같은 위상으로 되돌려보내는 정귀환회로로 이루어진다.

회로에 전원을 연결하는 순간 초기충격전류(변하는 전류)가 3극소자의 수전극—방사극용량을 통해 흐른다. 그리하여 진동회로의 축전기 C

가 그림과 같은 극성으로 충전된다.

한편 초기충격전류가 L로 흐르면 L_기에 기전력이 유기되어 기초극 축전기 C_기가 그림과 같은 극성으로 충전된다.

이 순간이 지나면 C_기에 충전된 전기량이 기초극저항 R_기를 통해 방전하면서 기초극에 <-> 편의전압이 걸리게 하여 3극소자를 닫는다.

3극소자가 닫기면 진동회로의 축전기 C는 L을 통해 방전하면서 전자기진동을 일으킨다.

한편 L로 방전전류가 흐르면 상호유도현상에 의해 L_기에 기전력이 생긴다. 이 기전력에 의해 3극소자의 기초극쪽이 <+>로 되면서 3극소자가 열리고 전원으로부터 LC진동회로에 소비된 에너지를 보충해준다.

다음순간 즉 C의 웃극판이 <+>일 때는 L_기에 유기되는 기전력의 극성이 바뀌어 3극소자의 기초극쪽이 <->로 되면서 3극소자가 닫히고 C는 먼저와 반대방향으로 L을 통하여 방전한다.

이상과 같은 과정이 부단히 반복되면서 진동회로에서 전자기진동이 계속된다. 즉 발진한다.

회로의 발진주파수는 다음 식으로 결정된다.

$$f = \frac{1}{2\pi\sqrt{LC}}$$

4. 주파수변환 및 중간주파증폭회로

1) 주파수변환회로

주파수변환이란 신호의 모양은 변화시키지 않고 그 주파수만 적당한 크기로 낮추어주는 조작을 말한다.

주파수변환을 실현하자면 기본신호와 그보다 주파수가 얻으려는 크기만큼 더 높은 주파수가 있어야 한다. 이 고주파를 얻어내기 위하여 장치안에 설치하는 고주파발진회로를 **국부발진회로**라고 부른다. 그리고 주파수변환되어 출구에서 얻어지는 신호를 **중간주파신호**라고 부른다.

주파수변환회로는 TV, 라디오수신기를 비롯하여 수신기들에서 널리 이용되고있다.

수신기들에서 주파수변환회로를 쓴 이유는 다음과 같다.

안테나를 통하여 수신기의 입구에 들어오는 신호는 주파수가 매우 높은 고주파신호이다. 이 고주파신호를 그대로 필요한 크기까지 증폭하

자면 매우 복잡한 회로를 써야 하는것을 비롯하여 기술적으로 여러가지 문제들이 제기된다.

그러나 주파수변환회로에서 주파수가 보다 낮은 일정한 주파수의 신호로 변환되면 신호를 다루기 쉽고 증폭회로가 간단해지며 증폭단이 여러개인 경우에도 신호에 동조시키기 쉬워진다.

그러면 회로에서 주파수변환이 어떻게 실현되는가를 보자. (그림 3-31)

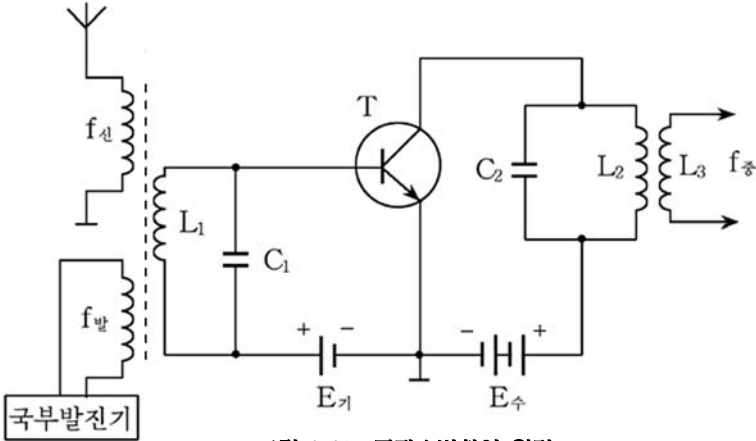


그림 3-31. 주파수변환의 원리

주파수변환원리는 3극소자의 입구(기초극 또는 방사극)에 주파수가 서로 다른 두개의 신호 즉 안테나로부터 오는 기본신호($f_{신}$)와 수신기안에 있는 국부발진기에서 오는 신호($f_{발}$)를 함께 넣으면 출구(수전극)에 이 두 신호의 차주파수신호가 나온다는데 기초하고있다. 즉 출구에서 얻어지는 중간주파수 $f_{중}$ 은

$$f_{중} = f_{발} - f_{신}$$

으로 된다.

그림에서 L_1C_1 은 입구진동회로로서 신호주파수에 동조시키며 L_2C_2 는 출구진동회로인데 이것은 중간주파수에 공진되도록 하였다. 그러므로 L_3 으로는 주파수변환된 신호 즉 중간주파수신호만 넘어간다.

주파수변환용으로 쓰이는 3극소자를 주파수변환소자 또는 혼합소자라고 부른다. 주파수변환회로를 주파수혼합회로라고 부르는 경우도 있다.

TV에서는 동조기안에 국부발진회로와 주파수변환회로를 설치하고 여기서 영상 및 음성의 중간주파수신호를 얻어내고있다.

2) 중간주파증폭회로

중간주파증폭회로는 주파수변환회로에서 얻어진 중간주파신호를 증폭하는 회로이다.

중간주파증폭회로에서는 항상 일정한 주파수의 신호만 증폭하므로 수전극진동회로에 가변축전기를 쓰지 않아도 항상 신호주파수에 동조되도록 할 수 있다.

그러면 실제 중간주파증폭회로의 구성과 동작원리를 보기로 하자.
(그림 3-32)

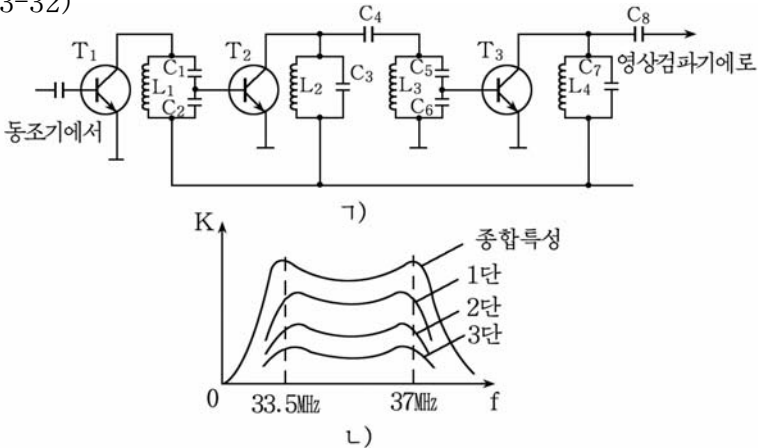


그림 3-32. 중간주파증폭회로(㉠)와 주파수특성(㉡)

그림 3-32의 ㉠)는 세개의 증폭단으로 된 중간주파증폭기의 회로이다.

매 단 3극소자의 수전극회로에는 중간주파수에 공진되는 진동회로가 있다. 첫 단 3극소자 T_1 의 기초극에 주파수변환회로로부터 오는 중간주파신호를 가하면 그것이 증폭되어 수전극진동회로 $L_1C_1C_2$ 에 걸린다.

$L_1C_1C_2$ 는 중간주파수에 공진시켰으므로 이 진동회로의 두 끝사이에 중간주파신호전압이 최대가 되어 나타난다. 이때 C_2 에 걸린 전압이 두번째 증폭단의 입구신호전압으로 되어 3극소자 T_2 의 기초극과 방사극 사이에 가해진다. 그러면 앞단에서와 같은 원리로 증폭된 신호전압이 수전극진동회로에 나타나며 그것이 세번째 증폭단에서 더 크게 증폭된다.

회로에서 C_4 와 C_8 은 증폭단사이를 결합시키는 결합축전기이다.

TV에서도 이와 유사한 원리로 중간주파증폭회로를 구성하고있는데 신호가 6.5MHz의 넓은 주파수대역을 가지므로 매개 단의 공진주파수를 조금씩

다르게 하여 넓은 주파수통과대역과 큰 증폭도를 얻고있다. 그림 3-32의 L)는 이때의 종합주파수특성을 보여주고있다.

5. 변조 및 검파회로

1) 변조에 대한 개념

직류나 저주파진동은 안테나에서 전자기파로 잘 복사되지 않는다. 그런데 TV이나 라디오방송에서 쓰이는 영상신호와 음성신호는 주파수가 그리 높지 못한 저주파신호들이다. 그러므로 이 신호를 그대로는 전자기파로 공간에 내보낼수 없다.

이런 저주파신호를 전자기파로 내보내자면 저주파신호들을 고주파에 태워보내야 한다. 이때 저주파신호를 고주파에 태우는 조작이 변조이다.

변조란 고주파진동의 진폭 또는 주파수를 신호(음성이나 영상 등)의 모양대로 변화시키는 조작을 말한다.

그리고 변조를 실현하는 전자회로를 **변조회로**라고 부른다.

여기서 고주파진동은 신호를 나르는 역할을 한다는 의미에서 **반송파**라고 부른다. 그리고 변조에 참가하는 저주파신호를 **변조파**, 변조파의 모양대로 변조된 고주파를 **피변조파**라고 부른다.

변조방식에는 진폭변조, 주파수변조 등 여러가지가 있다.(그림 3-33)

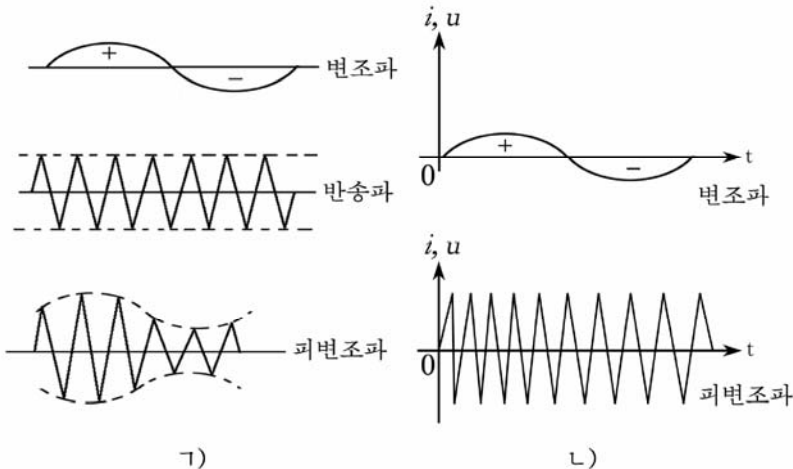


그림 3-33. 변조원리

ㄱ) 진폭변조, ㄴ) 주파수변조

① 진폭변조

진폭변조는 그림 3-33의 ㄱ)와 같이 변조파의 <+> 반주기에는 반송파의 진폭이 커지고 변조파의 <-> 반주기에는 반송파의 진폭이 작아지는 변조방식이다. 즉 반송파의 진폭을 변조파의 모양대로 변화시키는 것이 **진폭변조**이다.

② 주파수변조

주파수변조는 그림 3-33의 ㄴ)와 같이 변조파의 <+>반주기에는 반송파의 주파수를 변조파의 진폭에 비례하여 커지게 하고 변조파의 <-> 반주기에서는 반송파의 주파수를 변조파의 진폭에 비례하여 작아지도록 하는 변조방식이다. 즉 보내려는 신호(변조파)의 모양에 따라 반송파의 주파수를 변화시키는 변조방식을 **주파수변조**라고 부른다.

TV방송에서 영상신호에 대해서는 진폭변조를 하고 음성신호에 대해서는 주파수변조를 한다. 라디오방송에서는 진폭변조(AM)방식과 주파수변조(FM)방식을 다같이 쓰고있다.

2) 검파

검파란 송신측에서 보내오는 피변조파에서 변조파(저주파신호)를 갈라내는 작업을 말하며 이룬데 쓰이는 전자회로를 검파회로라고 부른다.

그러면 검파회로가 어떻게 구성되며 어떻게 검파가 진행되는가를 보자. (그림 3-34)

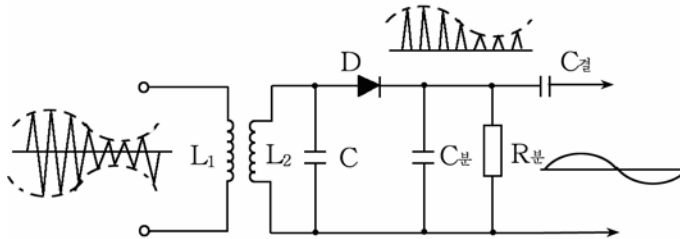


그림 3-34. 2극소자검파회로

그림에서 L_2C 는 피변조파주파수에 공진(동조)된 입구진동회로이고 2극소자 D는 검파소자, $C_{\text{분}}$ 은 고주파분로축전기, $R_{\text{부}}$ 는 검파회로의 부하저항, $C_{\text{결}}$ 은 결합축전기이다.

입구진동회로 L_2C 를 통해 들어온 피변조파는 2극소자 D에서 아래 절반부분이 잘리워 비대칭맥동파로 된다. 이 맥동파속에는 직류성분, 변조파(신호)성분, 고주파성분들이 다 포함되어있다. 이 가운데서 고주파성

분은 $C_{분}$ 을 통해서 접지로 흐르고 변조파성분과 직류성분만 $R_{부}$ 에 걸린다. 그런데 검파회로의 출구에 결합축전기 $C_{결}$ 이 있으므로 직류성분은 여기서 차단되고 변조파(신호)성분만이 다음 단(증폭기)으로 넘어간다.

2극소자검파회로에서는 2극소자를 어떻게 회로에 연결하는가에 따라 검파된 신호의 극성이 달라진다.

그림 3-35에서 보는바와 같이 신호가 2극소자의 양극에 걸리게 하면 정극성신호가 얻어지고 음극에 걸리게 하면 부극성신호가 얻어진다.

TV의 영상검파회로에서 정극성신호를 얻는가, 부극성신호를 얻는가 하는것은 다음 단인 영상증폭회로가 몇개 단인가와 수상관의 어느 전극에 신호를 주는가 하는데 따라 결정된다.

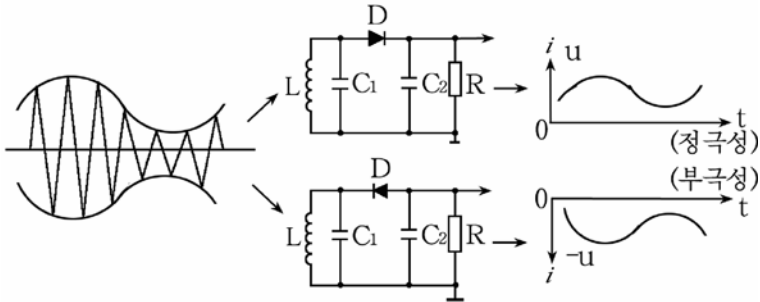


그림 3-35. 검파소자의 연결방법과 신호의 극성

연습문제

- 진동회로에서 선류는 어떤 역할을 하는가?
- 진동회로의 고유주파수를 크게 하려면 어떻게 해야 하는가?
- 직렬공진과 병렬공진의 차이점은 무엇인가?
- $L=10\mu F$, $C=400\text{pF}$ 인 LC진동회로의 고유주파수는 얼마인가?
- 그림 3-30에서 증폭회로는 어느것이며 귀환회로는 어느것인가?
- 한 학생이 그림 3-30을 보면서 회로를 만들었는데 동작하지 않았다. 생각끝에 선류 L_1 의 두끝에 연결한 전기줄을 서로 바꾸었더니 잘 동작하였다. 그 이유를 설명하여라.
- TV의 수신안테나에서 받은 영상신호의 주파수가 93.25MHz이다. 38MHz의 영상중간주파신호를 얻으려면 국부발진기의 발진주파수를 얼마로 하여야 하겠는가?
- 중간주파증폭회로와 고주파증폭회로의 같은 점은 무엇이며 차이점은 무엇인가?
- 진폭변조와 주파수변조의 공통점과 차이점을 설명하여라.

제4장. 수자회로의 기초

제1절. 수체계

1. 수 체계에 대한 개념

수체계란 수를 읽고 쓰는 방법의 총체를 말한다.

수체계에는 자리수체계와 비자리수체계가 있다.

자리수체계란 수들이 일정한 개수의 수기호로 표시되면서 이 수기호들이 소수점으로부터 오른쪽 또는 왼쪽으로 몇자리만큼 떨어져있는가에 따라 다른 수값을 표시하게 되어있는 수체계를 말한다.

자리수체계에서는 수기호가 놓이는 자리에 따라 다른 내용(크기)을 나타낸다.

자리수체계는 수를 표시하는데 쓰이는 수기호의 개수에 따라 수기호가 10개이면 10진수체계, 수기호가 2개이면 2진수체계, 수기호가 16개이면 16진수체계 등으로 나눈다.

비자리수체계란 수값이 수기호들이 놓이는 자리에 의해서가 아니라 수기호에 의하여 결정되는 수체계를 말한다.

비자리수체계에서는 한 기호가 어느 자리에서나 같은 내용(크기)을 나타낸다.

로마수자는 비자리수체계이다.

로마수자 LXX(10진수로 70)에서 L은 50, X는 자리에 관계없이 각각 10을 나타낸다.

컴퓨터를 비롯한 수자장치들에서는 자리수체계만이 쓰이므로 이에 대해서 보기로 하자.

1) 10진수체계

우리가 일상생활에서 흔히 쓰고있는 수체계는 10진수체계이다.

10진수체계는 0~9까지의 10개의 수기호로써 모든 수들을 표시하며 9 다음에 자리올림이 이루어진다.

10진수체계에서 모든 수는 10의 제곱합렬로 표시할수 있다.

실례: 12.27을 10의 제곱합렬로 표시하여라.

$$\begin{aligned} 12.27 &= 1 \times 10 + 2 \times 1 + 2 \times 0.1 + 7 \times 0.01 = \\ &= 1 \times 10^1 + 2 \times 10^0 + 2 \times 10^{-1} + 7 \times 10^{-2} \end{aligned}$$

이 실례에서 $10^1, 10^0, 10^{-1}, 10^{-2}$ 을 10진수체계에서의 무게라고 하며 여기서 10을 10진수체계의 밑수라고 한다. 여기로부터 10진수체계는 10을 밑수로 하는 수체계라고 말할수 있다.

2) 2진수체계

2진수체계는 두개의 수기호 0과 1로 모든 수를 표시하는 수체계이다.

2진수체계에서는 1 다음에 자리올림이 이루어진다.

2진수체계에서 모든 수들을 2의 제곱합렬로 표시할수 있다.

실례: 2진수 1101과 101.11을 제곱합렬로 표시하여라.

$$1101 = 1 \times 2^3 + 1 \times 2^2 + 0 \times 2^1 + 1 \times 2^0$$

$$101.01 = 1 \times 2^2 + 0 \times 2^1 + 1 \times 2^0 + 0 \times 2^{-1} + 1 \times 2^{-2}$$

이 실례에서 $2^3, 2^2, 2^1, 2^0, 2^{-1}, 2^{-2}$ 은 2진수체계에서의 무게이며 이때 2는 2진수체계의 밑수이다.

컴퓨터를 비롯한 수자장치들에서는 왜 10진수체계를 쓰지 않고 2진수체계를 쓰고있는가?

컴퓨터를 비롯한 수자장치들에서 우리가 일상적으로 쓰면서 습관 된 10진수체계를 쓰지 않고 2진수체계를 쓰는 이유는

첫째로, 임의의 2진수는 두가지 안정상태만을 가지는 물리적요소를 써서 회로적으로 쉽게 실현할수 있기때문이다.

2진수체계는 1과 0이라는 두개의 수기호로 모든 수를 표시할수 있기때문에 회로에 전류가 흐르는 상태를 1, 흐르지 않는 상태를 0에 또한 전압이 높은 상태를 1, 낮은 상태를 0에 대응시킨다면 이 회로를 쉽게 표현할수 있다.

그러나 10진수체계를 쓰려면 명확히 구별되는 10개의 상태만을 가지는 요소를 실현하여야 하는데 이것은 여러가지 복잡한 기술적문제로 하여 실현하기 힘들다.

둘째로, 2진수체계에서는 더하기, 덜기, 곱하기, 나누기와 같은 산수연산이 다른 수체계들에 비해 훨씬 간단히 수행되기때문에 연산회로를 구성하기 쉽다.

셋째로, 2진수체계를 리용하면 간단한 논리적판단을 쉽게 수학적으로 표시할수 있다.

레하면 <옳다> 라는 판단에 1, <아니다> 라는 판단에 0을 대응시

킴으로써 논리 판단과정을 2진수렬로 쉽게 표현할수 있다.

이로부터 일상적으로 습관된 10진수체계를 쓰지 않고 2진수체계를 쓰게 된다.

3) 16진수체계

16진수체계는 0~9와 A, B, C, D, E, F로 된 16개의 수기호에 의하여 표시되는 수체계이다.

16진수체계에서는 F(10진수에서는 15) 다음에 자리올림이 일어난다. 16진수도 모든 수를 제곱합렬로 표시할수 있는데 이때 밑수는 16이다.

실례 : 16진수 7B5D를 제곱합렬로 표시하여라.

16진수 B는 10진수로 11, D는 13이므로 제곱합렬을 다음과 같이 표시할수 있다.

$$\begin{aligned}7B5D &= 7 \times 16^3 + B \times 16^2 + 5 \times 16^1 + D \times 16^0 = \\ &= 7 \times 16^3 + 11 \times 16^2 + 5 \times 16^1 + 13 \times 16^0\end{aligned}$$

2. 수체계들사이의 호상변환

10진수, 2진수, 16진수체계로 표시된 수들은 서로 다른 수체계로 변환하여 표시할수 있다.

1) 10진수와 2진수사이의 호상변환

(1) 10진수를 2진수로의 변환

10진수를 2진수로 변환하려면 주어진 10진수를 옹근수와 소수부로 가르고 옹근수에 대해서는 2진수의 밑수인 2로 나누어 상과 나머지를 구하고 나머지가 있으면 1, 없으면 0을 써준다.

이와 같은 과정을 반복하여 상이 2보다 작아질 때까지 나누기를 진행한다.

다음 맨 마지막에 얻어진 상을 2진수의 맨 옷자리의 수로 하고 차례로 써준 나머지를 마지막부터 거꾸로 올라가면서 차례로 써주면 옹근수부에 대한 얻으려는 2진수가 된다.

실례 : $(30)_{10}$ 을 2진수로 변환하여라.

용근수부	나머지	
2	30 0
2	15 1
2	7 1
2	3 1
1		

↑ 배
렬
순
서

따라서 $(30)_{10} = (11110)_2$

여기서 괄호밖에 쓴 10과 2는 그 수가 어떤 진수체계로 표시되는가를 밝힌것이다. 즉 $(30)_{10}$ 은 10진수 30을, $(11110)_2$ 은 2진수 11110을 표시한것이다.

(2) 2진수를 10진수으로의 변환

2진수의 소수점우의 제일 낮은 자리로부터 순서대로 $2^0, 2^1, \dots$ 을 그리고 소수점아래의 제일 높은 자리로부터 $2^{-1}, 2^{-2}, \dots$ 을 대응시키고 이 값들에 그 자리의 수를 곱한 다음 그것들을 모두 더하면 된다.

실례 : $(1101.011)_2$ 을 10진수로 고쳐라.

$$\begin{array}{cccccccc}
 1 & 1 & 0 & 1 & . & 0 & 1 & 1 & \dots & 2\text{진수} \\
 \vdots & \vdots & \vdots & \vdots & \vdots & \vdots & \vdots & \vdots & \vdots & \\
 2^3 & 2^2 & 2^1 & 2^0 & & 2^{-1} & 2^{-2} & 2^{-3} & \dots & 2\text{진수의 해당하는 자리의 무게}
 \end{array}$$

그러므로

$$\begin{aligned}
 (1101.011)_2 &= (2^3 \times 1) + (2^2 \times 1) + (2^1 \times 0) + (2^0 \times 1) + \\
 &\quad + (2^{-1} \times 0) + (2^{-2} \times 1) + (2^{-3} \times 1) = (8 \times 1) + (4 \times 1) + \\
 &\quad + (2 \times 0) + (1 \times 1) + (0.5 \times 0) + (0.25 \times 1) + (0.125 \times 1) = \\
 &= (13.375)_{10}
 \end{aligned}$$

(3) 2진화10진수(BCD코드)

지금까지 본 10진수와 2진수의 호상변환은 자리수가 많아짐에 따라 매우 복잡해지므로 쓰기가 편리하지 못하다. 그러므로 컴퓨터를 비롯한 수자장치들에서는 2진화10진수를 많이 쓰고있다.

2진화10진수란 10진수의 매개 자리를 네 자리의 2진수로 표시하여 배열한 수를 말한다. 다시말하여 2진화10진수는 2진수의 네 자리(4bit)를 한묶음의 수자로서 10진수에 가까운 형태로 취급할수 있도록 부호화한 수자체계를 말한다.

10진수의 한개 자리수자는 0~9까지의 수이므로 매개 수자는 네자리 2진수로 표시할수 있다.

이와 같은 방법을 쓰면 아무리 큰진수도 간단히 2진수로 변환할수 있고 반대로 2진수도 쉽게 10진수로 변환할수 있다.

례를 들어 10진수 17은 0001 0111로 된다.

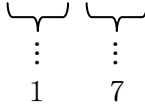


표 4-1에 10진수 0~9까지와 2진수사이의 관계를 주었다.

10진수와 2진수와의 관계 표 4-1

10진수	2진수	10진수	2진수
0	0000	5	0101
1	0001	6	0110
2	0010	7	0111
3	0011	8	1000
4	0100	9	1001

2) 2진수와 16진수사이의 호상변환

(1) 2진수를 16진수로의 변환

2진수를 16진수로 변환하려면 주어진 2진수를 소수점으로부터 네자리씩 가르고 매 부분을 16진수로 표시한 다음 그것들을 련달아 쓰면 된다.

실례 : 2진수 10110110110을 16진수로 표시하여라.

소수점으로부터 4자리씩 가르면 0101, 1011, 0110으로 된다.

이것들을 각각 16진수로 바꾸면 5, B, 6이므로

$$(10110110110)_2 = (5B6)_{16} \text{이다.}$$

이 변환에서 주어진 2진수를 네자리씩 구분할 때 맨 윗부분 또는 소수점아래 맨 끝부분에서 네자리가 못되는 경우에는 모자라는 개수만큼 앞에(소수점아래부분에서는 뒤에) 령을 쳐주고 변환한다.

(2) 16진수를 2진수로의 변환

16진수의 한자리수는 2진수의 네자리로 표시된다. 그러므로 16진수를 2진수로 변환하자면 주어진 16진수의 매개 자리를 네자리2진수로 바꾸고 그것들을 차례로 련달아 이어쓰면 된다.

실례 : 16진수 3A7을 2진수로 변환하여라.

16진수의 매 자리수자는 네 자리2진수로 변환하면 3은 0011, A는 1010, 7은 0111이므로 $(3A7)_{16} = (1110100111)_2$ 이다.

0~F까지의 16진수와 2진수사이의 관계를 표 4-2에 주었다.

16진수와 2진수사이의 관계

표 4-2

16진수	2진수	16진수	2진수	16진수	2진수	16진수	2진수
0	0000	4	0100	8	1000	C	1100
1	0001	5	0101	9	1001	D	1101
2	0010	6	0110	A	1010	E	1110
3	0011	7	0111	B	1011	F	1111

3. 2진수의 연산

2진수의 더하기, 덜기, 곱하기에는 각각 다음의 네가지 경우가 있다.

더하기	덜기	곱하기
$0+0=0$	$0-0=0$	$0 \cdot 0=0$
$0+1=1$	$1-0=1$	$0 \cdot 1=0$
$1+0=1$	$1-1=0$	$1 \cdot 0=0$
$1+1=10$	$10-1=1$	$1 \cdot 1=1$

1) 2진수의 더하기

2진수의 더하기에서 어떤 자리의 수자가 1을 넘으면 자리올림이 생기어 옷자리에 1을 더한다.

실례 : 2진수 11011과 1001을 더하여라.

2진수	10진수
11011	(27)
+) 1001	(9)
100100	(36)
$\begin{matrix} \curvearrowright & \curvearrowright & \curvearrowright \\ \text{자리올림} \end{matrix}$	

실례에서 보는바와 같이 2진수의 연산에서도 10진수의 연산에서와 같이 자리올림을 한다. 즉 10진수에서 9 다음에 자리올림이 생기는것처럼 2진수연산에서는 1+1일 때 자리올림 1이 생겨 옷자리수에 더해진다.

2) 2진수의 덜기

2진수의 덜기도 10진수에서와 같은 방법으로 할수 있는데 어떤 자리에서 댄 결과가 0보다 작을 경우 우의 자리로부터 1을 내려와야 한다. 이것을 <꾸어온다>고 한다.

실례 : 11001에서 1011을 덜어라.

2진수	10진수
11001	(25)
-) 1011	(11)
1110	(14)

[참고] 컴퓨터를 비롯한 수자장치들에서는 2진수의 덜기연산을 보수에 의한 더하기방법으로 실현하고있다. 그것은 보수를 써서 덜기연산을 더하기연산으로 쉽게 할수 있기때문이다.

보수를 만드는 방법과 보수를 써서 덜기를 더하기로 하는 방법을 보자.

- 보수를 만드는 방법

2진법에서 보수는 2에 대한 보수와 1에 대한 보수 두가지가 있다.

1에 대한 보수란 주어진 수의 매개 자리의 수자를 1에서 댄 수를 말하고 2에 대한 보수란 1에 대한 보수의 맨 아래자리에 1을 더한 수를 말한다.

실례 : 1011의 보수를 구하여라.

1에 대한 보수	1111
	-)1011
	0100
2에 대한 보수	0100
	+) 1
	0101

- 보수를 써서 덜기를 더하기로 하는 방법

덜어질 수에 더는 수의 2에 대한 보수를 더하고 그 결과에서 맨 윗자리의 1을 무시하면 된다.

1에 대한 보수를 쓰는 경우에는 우에서와 같이 하되 맨 아래자리에 1을 더하면 된다.

실례: 0101-0011을 보수를 써서 더하기로 구하여라.
0011의 2에 대한 보수는 1101이므로

$$\begin{array}{r} 0101 \\ +)1101 \\ \hline 10010 \end{array}$$

여기서 결과의 맨앞의 수 1은 무시한다.
따라서 0101-0011=0010이 얻어진다.

3) 2진수의 곱하기

2진수의 곱하기는 10진법의 곱하기와 마찬가지로 한다.

실례: 0110과 1010의 곱하기를 구하여라.

$$\begin{array}{r} 0110 \\ \times) 1010 \\ \hline 0000 \\ 0110 \\ 0000 \\ 0110 \\ \hline 0111100 \end{array}$$

따라서 $0110 \times 1010 = 0111100$

4) 2진수의 나누기

먼저 나누는수와 나누이는수사이의 자리를 정하고 나누는수를 나누이는수에서 더는 방법으로 한다.

실례: 11011을 1001로 나누어라.

$$\begin{array}{r} 11 \\ 1001 \overline{)11011} \\ \underline{1001} \\ 1001 \\ \underline{1001} \\ 0 \end{array}$$

연습문제

- 다음의 10진수를 2진수로 변환하여라.
 - 51
 - 12.24
- 다음의 2진수를 10진수로 변환하여라.
 - 1101111
 - 10110011.101

3. 다음의 16진수를 2진수로 변환하여라.
 - 1) AF8
 - 2) B37AD
4. 다음의 2진수를 16진수로 변환하여라.
 - 1) 1011001011
 - 2) 110111.1011101
5. 다음의 10진수를 2진화10진수로 표시하여라.
 - 1) 43
 - 2) 13.82
6. 다음의 10진수를 2진수로 바꾸어 계산하여라.
 - 1) $34+17$
 - 2) 25.75
7. 다음의 16진수를 2진수로 바꾸어 계산한 다음 다시 10진수, 16진수로 변환하여라.
 - 1) $3AD+7F3$
 - 2) $5AC7+A7D3A$

제2절. 기본론리회로

수자회로에서 취급되는 량들은 1과 0으로 표시되며 이에 대응하게 신호는 높은 준위와 낮은 준위로만 표시된다. 이때 1과 0에 대응되는 신호준위들을 논리준위라고 하며 신호의 과도기간을 제외하고는 논리준위 이외의 준위들은 있을수 없는것으로 본다.

론리회로란 1과 0 값만을 기호적으로 표시하는 회로를 말한다.

론리회로는 컴퓨터와 같은 수자식전자장치들에서 많이 쓰이는 단순한 여단이회로이다. 0과 1중에 어느 수를 높은 준위에 해당하게 하는가 하는것은 구체적인 논리회로에 따라 다르다.

1을 높은 준위에, 0을 낮은 준위에 대응시킨 논리회로를 정론리회로라고 하며 1을 낮은 준위, 0을 높은 준위에 대응시킨 논리회로를 부론리회로라고 한다.

정론리에서는 $H=1, L=0$ 으로 부론리에서는 $H=0, L=1$ 로 표시한다.

1. 논리대수

1) 논리대수에 대한 개념

복잡한 논리회로를 설계하거나 그의 동작원리를 쉽게 리해하기 위해서는 $\langle 0 \rangle$ 과 $\langle 1 \rangle$ 만을 다루는 논리대수를 알아야 한다.

론리대수는 원래 논리학에서 여러가지 논리적관계를 수학적으로 해

석하기 위하여 나온것인데 수자식전자장치의 논리회로의 설계에 유용하게 쓰이고있다.

논리대수란 모임 $\{0,1\}$ 에 있어서 그 원소들사이에 논리더하기, 논리곱하기에 의한 두마디연산과 논리부정에 의한 한마디연산으로 정의되는 대수계를 말한다.

일반적으로 어떤 모임이 있어서 그 모임의 원소들사이에 어떤 연산이 정의되어있다면 그 모임은 대수계를 이루고있다고 한다.

실례로 정수들의 모임이나 옹근수들의 모임은 그 원소들사이에 더하기, 덜기, 곱하기, 나누기연산이 정의되는 대수계이다.

논리대수에서 변수는 0과 1 두개의 값만을 가진다.

변수 0과 1을 보통 논리변수라고 하며 논리함수가 가지는 값(진리값)도 0과 1값만을 가진다.

논리회로에서 0과 1은 전압이 걸려있는가 걸려있지 않는가, 전류가 흐르는가 흐르지 않는가를 표시하는데 쓰인다.

논리대수에서는 일반수학에서 쓰는 사칙산법을 쓸수 없다. 때문에 일련의 함수들을 설정하고 일반수학에서 쓰이는 사칙산법과 같은 연산을 도입하게 된다.

(1) 기본논리연산

논리더하기, 논리곱하기, 논리부정을 **기본논리연산**이라고 한다.

— 논리더하기(OR)

논리변수 A와 B가운데서 적어도 한개의 원소라도 1일 때에만 결과가 1이 되고 모두 0일 때에만 0으로 되는 연산을 논리더하기라고 하며 $f=A+B$ 또는 $f=A\vee B$ 로 표시한다.

논리변수 A와 B의 모든 조합에 대한 논리더하기는 다음과 같다.

A	B	f
0	0	$0\vee 0=0$
0	1	$0\vee 1=1$
1	0	$1\vee 0=1$
1	1	$1\vee 1=1$

— 논리곱하기(AND)

논리변수 A와 B의 값이 둘 다 모두 1일 때에만 결과가 1이 되고 그밖의 경우에는 모두 0으로 되는 연산을 **논리곱하기**라고 하며 $f=A \cdot B$ 또는 $f=A\wedge B$ 라고 표시한다.

A	B	f
0	0	$0 \cdot 0 = 0$
0	1	$0 \cdot 1 = 0$
1	0	$1 \cdot 0 = 0$
1	1	$1 \cdot 1 = 1$

— 논리부정 (NOT)

논리변수 A가 0이면 결과가 1이 되고 반대로 A가 1이면 결과가 0으로 되는 연산을 **논리부정**이라고 하며 $f = \overline{A}$ 로 표시한다.

논리식이란 간단히 말하여 몇개의 논리변수와 그것의 부정변수 또는 정수 0, 1을 논리연산기호들로 이어놓은 식을 말한다.

(2) 논리식

실례로 $A \cdot (B \cdot C)$, $A + (B \cdot C)$ 를 들수 있다.

논리식에서의 셈법순서는 논리부정, 다음에 논리곱하기 그리고 논리더하기의 차례로 진행한다.

2) 논리대수의 기본법칙

논리대수의 기본법칙은 논리식으로 전개하여 증명하든가 진리값표를 만들어 증명할수 있지만 여기서는 중요한 몇개의 결과식만을 보기로 하자.

- ① 바꿈법칙 $A+B=B+A$
 $A \cdot B=B \cdot A$
- ② 묶음법칙 $(A+B)+C=A+(B+C)=A+B+C$
 $(A \cdot B) \cdot C=A \cdot (B \cdot C)=A \cdot B \cdot C$
- ③ 분배법칙 $A \cdot (B+C)=A \cdot B+A \cdot C$
 $A+(B \cdot C)=(A+B) \cdot (A+C)$
- ④ 동일법칙 $A+A=A$ $A \cdot A=A$
- ⑤ 흡수법칙 $1+A=1$ $0+A=A$
 $1 \cdot A=1$ $0 \cdot A=0$
 $A+A \cdot B=A$ $A \cdot (A+B)=A$

- ⑥ 부정법칙 $\overline{\overline{A}}=A$, $A+\overline{A}=1$, $A \cdot \overline{A}=0$
여기서 $\overline{\overline{A}}$ 는 변수 A에 대한 부정을 두번 하였음을 의미한다.

- ⑦ 쌍대법칙 $\overline{A+B}=\overline{A} \cdot \overline{B}$
 $\overline{A \cdot B}=\overline{A} + \overline{B}$

쌍대법칙을 n 개의 변수로 넓히면

$$\overline{A_1 + A_2 + \dots + A_n} = \overline{A_1} \cdot \overline{A_2} \cdot \dots \cdot \overline{A_n}$$

$$\overline{A_1 \cdot A_2 \cdot \dots \cdot A_n} = \overline{A_1} + \overline{A_2} + \dots + \overline{A_n}$$

2. 기본논리회로

1) 논리더하기(OR)회로

논리더하기회로란 여러개의 입구와 하나의 출구를 가진 논리회로 가운데서 어느 하나의 입구라도 1이면 출구가 1로 되며 모든 입구가 다 0일 때에만 출구가 0으로 되는 회로를 말한다.

간단한 논리회로의 경우를 예를 들어보면 두개의 입구 A, B와 한 개의 출구 X를 가진 회로가 있을 때 A, B가 모두 0일 때에만 출구 X가 0으로 되고 A, B가운데서 어느 하나가 1이거나 A, B가 모두 1이면 출구 X는 1로 되는 회로이다.

이 논리더하기회로의 입구 A, B와 출구 X와의 관계를 표로 작성하면 다음과 같은 진리값표가 얻어진다. (표 4-3)

진리값표란 주어진 조건의 모든 경우와 그에 대한 결과를 표시한 표를 말한다.

논리더하기회로의 진리값표 표 4-3

입 구		출 구
A	B	X
0	0	0
1	0	1
0	1	1
1	1	1

논리더하기회로는 그림 4-1과 같은 기호로 표시된다. 그림에서 A, B는 입구단자이고 X는 출구단자이다.

논리회로의 원리를 그림 4-2와 같은 회로로 설명해보자.

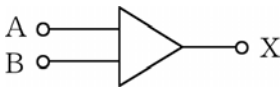


그림 4-1. 논리더하기회로의 기호표시

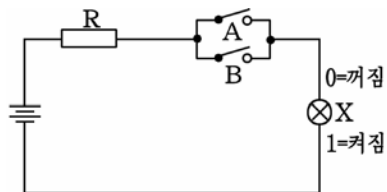


그림 4-2. 논리더하기원리회로

스위치 A와 B가 닫히는것을 <1>, 열리는것을 <0> 그리고 전구 X가 불이 켜지는것을 <1>, 꺼진것을 <0> 이라고 약속하자.

- 스위치 A와 B가 다 열리면 전구에는 전류가 흐르지 못하므로

불이 켜지지 않는다. 즉 $A=0, B=0$ 일 때 $X=0$ 이다.

- 스위치 A가 닫히고 B가 열려있으면 전류는 스위치 A를 통해 흐르므로 불이 켜진다. 즉 $A=1, B=0$ 일 때 $X=1$ 이다.

- 스위치 A가 열리고 B가 닫겨있을 때에도 회로에 전류가 흐르므로 불이 켜진다. 즉 $A=0, B=1$ 일 때 $X=1$ 이다.

- 스위치 A, B가 모두 닫겨있을 때에도 전류가 흘러 전구에 불이 켜진다. 즉 $A=1, B=1$ 일 때 $X=1$ 이다.

그러면 이제 반도체 2극소자나 3극소자와 같은 전자요소를 써서 실제 논리더하기회로를 어떻게 만드는가를 보자.

반도체 2극소자나 3극소자에서는 전류가 흐르는 상태를 열린상태 $\langle 1 \rangle$, 흐르지 않는 상태를 닫힌상태 $\langle 0 \rangle$ 이라고 한다. 스위치와는 반대이다.

(1) 2극소자논리더하기회로

그림 4-3에 두개의 2극소자와 저항을 가지고 만든 논리더하기회로를 보여주었다.

두 입구 A와 B가운데서 어느 하나라도 $-E$ 보다 전위가 높은 $\langle + \rangle$ 신호를 주면 해당한 2극소자가 열리면서 출구 X에는 $\langle + \rangle$ 신호가 나온다.

례를 들어 입구 A에 $+5V$ 의 신호가 들어온다고 하자.

그러면 2극소자 D_1 이 열리면서 입구 $A \rightarrow D_1 \rightarrow R \rightarrow -E$ 로 전류가 흐르면서 저항 R에서 전압떨어짐을 만든다.

결과 출구 X로는 $+5V$ 의 신호가 나온다.

이때 전위가 낮은 $-E$ 상태를 논리 $\langle 0 \rangle$, 전위가 높은 $+5V$ 상태를 논리 $\langle 1 \rangle$ 에 대응시킨다면 $A=1, B=0$ 일 때 $X=1$ 로 된다.

같은 방법으로 $A=0, B=1$ 이거나 $A=1, B=1$ 인 경우도 $X=1$ 이다.

(2) 3극소자논리더하기회로

그림 4-4에 3극소자 3개로 구성된 논리더하기회로를 보여주었다.

이 회로는 3극소자의 수전극(출구)전압이 소자가 열리면 낮아지고 닫기면 높아지는 원리를 리용한것이다.

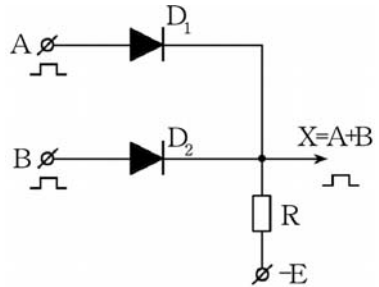


그림 4-3. 2극소자논리더하기회로

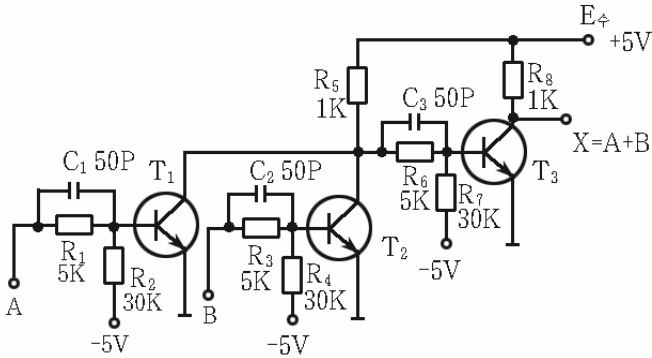


그림 4-4. 3극소자론리더하기회로

두 입구 A와 B가운데서 어느 하나에라도 <+>신호가 들어오면 해당하는 3극소자가 열리면서 T₃의 기초극전위가 낮아지므로 T₃은 닫힌다. 결과 T₃의 수전극전위는 높아진다. 즉 입구 A, B가운데서 어느 하나라도 1이면 출구 X=1이다.

입구 A, B에 둘 다 신호가 들어오지 않는 경우에는 T₁과 T₂가 모두 닫혀있다. 이때 T₃의 기초극전위는 높아지므로 T₃은 열려 그의 출구전위는 낮은 상태로 된다. 즉 A=0, B=0일 때 X=0이다.

(3) 론리더하기집적회로

지금 론리회로들은 거의 모두 집적화되어있다.

론리집적회로들가운데서 대표적인것은 74계렬소자들이다.

74계렬소자란 7400, 7402, ...등과 같이 처음 두개의 수자가 74로 표시되는 집적회로들을 말한다.

74계렬소자가운데는 론리더하기의 기능을 수행하는 소자가 있는데 실례로 7432를 들수 있다.(그림 4-5)

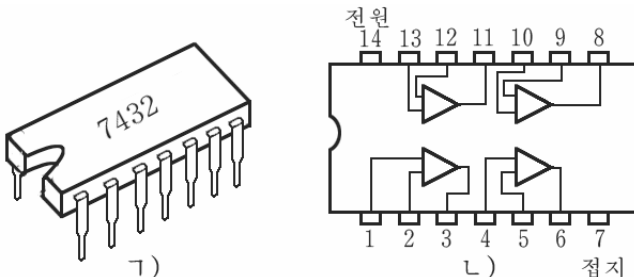


그림 4-5. 론리더하기집적회로 7432

ㄱ) 겉모양, ㄴ) 내부기능도

그림에서 보는바와 같이 이 소자는 2입구논리더하기회로가 4개 들어있다. 이런 소자를 **4중2입구논리더하기소자**라고 한다.

단자 7은 접지단자로서 전원의 <-> 단자와 연결되고 단자 14는 +5V단자로서 전원의 <+> 단자에 연결된다.

이 소자의 출구 0준위는 0.2V, 출구 1준위는 3.0V이다.

2) 논리곱하기(AND)회로

논리곱하기회로는 여러개의 입구가운데서 어느 하나라도 0이면 출구가 0이 되고 모든 입구가 다 <1>일 때에만 출구가 <1>로 되는 논리회로이다.

례를 들어 두개의 입구 A, B가 있을 때 A=1, B=1일 때에만 출구 X=1로 되고 A와 B가운데서 하나라도 0이면 출구 X=0이 되는 회로이다. 이 관계를 진리값표로 쓰면 표 4-4와 같다.

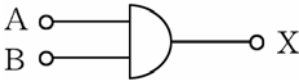


그림 4-6. 논리곱하기 회로의 기호표시

논리곱하기회로를 회로도에 기호로 표시할 때에는 그림 4-6과 같이 반달모양의 활등쪽에 출구단자, 활줄쪽에 입구단자를 표시한다.

논리곱하기회로의 진리값표 표 4-4

입 구		출 구
A	B	X
0	0	0
1	0	0
0	1	0
1	1	1

논리곱하기회로의 원리를 그림 4-7과 같은 회로를 리용하여 보기로 하자.

논리더하기회로에서와 같이 스위치가 닫기는것을 <1>, 열리는것을 <0>으로, 전구에 불이 켜진것을 <1>, 전구에 불이 꺼진것을 <0>으로 약속하자.

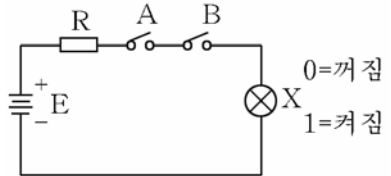


그림 4-7. 논리곱하기원리회로

먼저 스위치 A가 닫히고 B는 열린 경우를 보자.

이때는 전구로 전류가 흐르지 못하므로 불이 켜지지 못한다. 즉 A=1, B=0인 때 X=0으로 된다.

다음은 스위치 A가 열리고 B가 닫기는 경우를 보자. 이때에도 전구로 전류가 흐르지 못하므로 불이 켜지지 않는다. 즉 A=0, B=1인

때에도 $X=0$ 이다.

오직 두 스위치가 다 닫힌 경우에만 전구로 전류가 흘러 불이 켜진다. 즉 $A=1, B=1$ 인 경우에만 $X=1$ 로 된다.

(1) 3극소자론리곱하기회로

그림 4-8은 3극소자를 써서 구성한 논리곱하기회로이다.

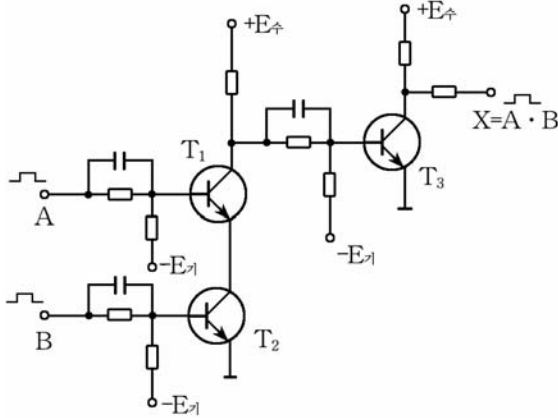


그림 4-8. 3극소자론리곱하기회로

두 입구 A, B에 다같이 신호가 없을 때 3극소자 T_1, T_2 의 기초극에는 $\langle - \rangle$ 편이전압이 걸리므로 T_1, T_2 는 닫힌다. 이때 T_1 의 수전극전위는 높은 상태로 되며 따라서 3극소자 T_3 의 기초극전위도 높아진다. 결과 T_3 은 열리어 그의 수전극전위도 낮아진다. 즉 $A=0, B=0$ 일 때 $X=0$ 이다.

다음은 두 입구 가운데서 어느 하나에만 신호가 들어오는 경우를 보자.

이때 신호가 들어오는 쪽의 3극소자가 열린다. 그러나 3극소자 T_1 과 T_2 가 직렬로 련결되어있기때문에 어느 하나만 열려서는 수전극전류가 흐르지 못한다. 따라서 T_1 의 수전극전위와 T_3 의 기초극전위는 여전히 높다. 결과 T_3 은 열리고 그의 수전극전위는 낮은 상태에 있게 된다. 즉 $A=1, B=0$ 이거나 $A=0, B=1$ 인 때에도 $X=0$ 이다.

오직 두 입구 A와 B에 동시에 $\langle + \rangle$ 신호가 들어올 때에만 T_1, T_2 가 열려 T_1 의 수전극전위가 낮아지고 따라서 T_3 의 기초극전위도 낮아진다. 결과 T_3 이 닫기고 그의 수전극전위(출구전위)가 높아진다. 즉 $A=1, B=1$ 일 때 $X=1$ 이다.

(2) 논리곱하기집적회로

그림 4-9에 논리곱하기집적회로의 실례로서 7409를 주었다.

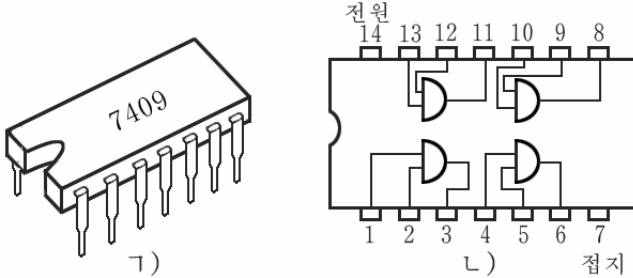


그림 4-9. 논리곱하기집적회로 7409

ㄱ) 겉모양, ㄴ) 내부기능도

이 집적회로는 4중2입구논리곱하기집적회로이다. 즉 하나의 결통 안에 4개의 논리곱하기회로가 집적되어있으며 매개 회로는 2개의 입구를 가지고있다.

그림에서 첫 논리곱하기회로의 입구단자는 1, 2이고 출구단자는 3, 두번째 논리곱하기회로의 입구단자는 4, 5이고 출구단자는 6, 세번째 논리곱하기회로의 입구단자는 12, 13이고 출구단자는 11, 네번째 논리곱하기회로의 입구단자는 9, 10이고 출구단자는 8이다. 단자 7은 접지 단자로서 전원의 <->와 연결되며 14는 +5V단자로서 전원의 <+>와 연결된다.

3) 논리부정(NOT)회로

이 회로는 하나의 입구 A와 하나의 출구 X를 가지고있으며 입구 A가 1이면 출구는 0으로 되고 입구 A가 0이면 출구 X가 1로 되는 논리회로이다. 즉 입구와 출구는 항상 반대로 된다. 그러므로 입구상태가 뒤집혀서 출구에 나타난다는 의미에서 **반전기**라고도 한다.

논리부정회로의 진리값표는 표 4-5와 같다.

회로도에서 논리부정회로는 그림 4-10의 ㄱ)와 같이 표시할수 있다.

논리부정회로의 원리를 그림 4-10의 ㄴ)를 통해서 보자.

앞에서와 같이 스위치가 닫힌것을 <1>, 열린것을 <0>으로 약속하자.

논리부정회로의 진리값표 표 4-5

입 구	출 구
A	B
1	0
0	1

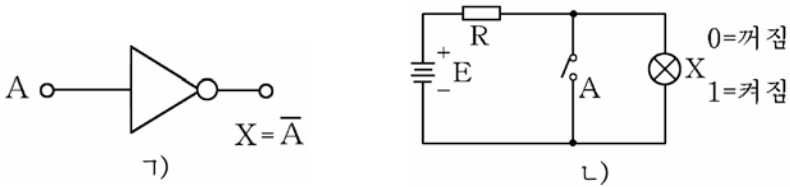


그림 4-10. 논리부정회로

먼저 스위치 A가 열려있는 경우를 보자.

이때는 전원 E로부터 전류가 흐르므로 전구에 불이 켜진다. 즉 A=0이면 X=1로 된다.

다음은 스위치 A를 닫는 경우를 보자.

스위치가 닫기면 전원으로부터 전류는 저항이 작은 스위치를 통해서만 주로 흐르고 전구로는 거의 흐르지 않는다. 결과 전구에 불이 켜지지 않는다. 즉 A=1일 때 X=0으로 된다.

(1) 3극소자논리부정회로

그림 4-11에 3극소자를 써서 구성한 논리부정회로를 보여주었다.

입구에 신호가 없을 때 즉 A=0일 때 3극소자 T의 기초극에는 E₂에 의해 부편의전압이 걸리므로 소자가 닫힌 상태에 있게 된다.

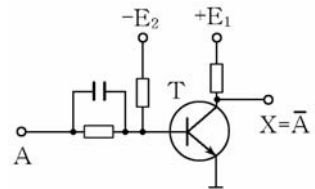


그림 4-11. 3극소자논리부정회로

결과 수전극전위(출구전위)는 높은 상태로 된다. 즉 A=0이면 X=1로 된다.

다음 입구에 부편의전압보다 높은 (+) 신호가 들어오면 3극소자가 열리면서 출구전위는 낮은 상태로 된다. 즉 A=1이면 X=0으로 된다.

(2) 논리부정집적회로

74계렬에는 논리부정집적회로가 여러개 있는데 여기서는 대표적으로 7404만을 보기로 한다.

7404는 하나의 결통안에 6개의 논리부정회로를 집적하고있다. 이런 집적회로를 6중반전기라고 부른다. 그림에서 단자 7은 접지단자이고 14는 +5V단자이다. 이것들은 전원의 (-) 와 (+) 단자에 각각 연결된다.(그림 4-12)

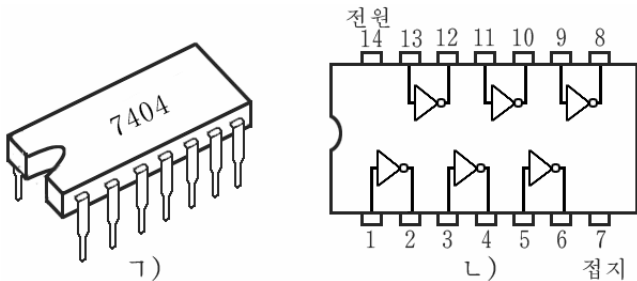


그림 4-12. 3극소자론리부정집적회로

ㄱ) 겉모양, ㄴ) 내부기능도

4) 론리더하기부정(NOR)회로

이 회로는 론리더하기회로와 반대동작을 하는 론리회로이다. 즉 모든 입구가 다같이 0일 때에만 출구가 1로 되고 나머지 경우에는 항상 출구가 0으로 되는 론리회로이다.

이 회로의 진리값표는 표 4-6과 같다.

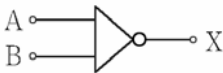


그림 4-13. 론리더하기 부정회로의 기호표시

이 회로는 론리더하기회로의 출구에 론리부정회로를 연결한 것으로 볼수 있다.

론리기호는 그림 4-13에서와 같이 론리더하기기호의 출구쪽에 부정을 의미하는 작은 동그라미를 붙여 표시한다.

론리더하기부정을 식으로 쓰면 다음과 같다.

$$X = \overline{A+B} \text{ 또는 } X = \overline{A} \overline{B}$$

론리더하기부정회로의 원리를 보자. (그림 4-14)

앞에서와 같이 스위치가 닫힌것을 <1>, 열린것을 <0>으로, 전구에 불이 켜진것을 <1>로, 불이 꺼진것을 <0>으로 약속하자.

론리더하기부정회로의 진리값표 표 4-6

입 구		출 구
A	B	X
0	0	1
0	1	0
1	0	0
1	1	0

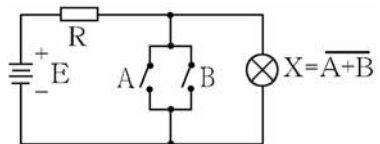


그림 4-14. 론리더하기 부정회로의 원리회로

먼저 두 스위치 A와 B가 둘다 열린 경우를 보면 이때에는 전구로 전류가 흐르면서 불이 켜진다. 즉 $A=0, B=0$ 인 때 $X=1$ 로 된다. (론리더하기회로에서는 이 경우 출구 $X=0$ 이다.)

다음 두 스위치가운데서 어느 하나라도 닫기면 전류는 스위치를 통해서만 흐르고 전구로는 흐르지 못한다. 따라서 전구에 불이 켜지지 못한다. 즉 입구 A, B가 둘 다 1이거나 어느 하나라도 1이면 출구 $X=0$ 으로 된다.

론리더하기부정회로도 집적회로로 생산되고있다. 여기서는 대표적으로 7402를 보자. (그림 4-15)

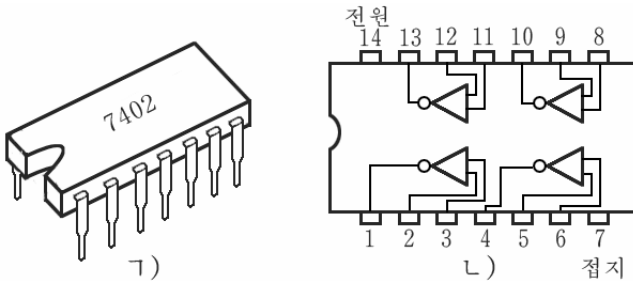


그림 4-15. 론리더하기부정집적회로 7402

ㄱ) 겉모양, ㄴ) 내부기능도

그림에서 보는것처럼 이 집적회로에는 2입구론리더하기부정회로가 4개 들어있다. 즉 4중2입구론리더하기부정집적회로이다.

단자 7은 접지단자, 14는 +5V단자이다.

5) 론리곱하기부정(NAND)회로

이 회로는 앞에서 본 론리곱하기회로와 반대의 론리동작을 수행하는 론리회로이다. 즉 여러개의 입구와 한개의 출구를 가지며 어느 하나라도 $\langle 0 \rangle$ 이면 출구가 $\langle 1 \rangle$ 로 되고 모든 입구가 다 $\langle 1 \rangle$ 인 때에만 출구가 $\langle 0 \rangle$ 으로 되는 회로이다.

론리곱하기부정회로는 그림 4-16과 같으며 이 회로의 진리값표는 표 4-7과 같다.

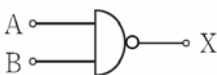


그림 4-16. 론리곱하기 부정회로의 기호표시

론리곱하기부정회로의 진리값표 표 4-7

입 구		출 구
A	B	X
0	0	1
0	1	1
1	0	1
1	1	0

론리곱하기부정회로를 론리식으로 표시하면 다음과 같다.

$$X = \overline{A \cdot B} \text{ 또는 } X = \overline{A \wedge B}$$

론리곱하기부정회로는 론리곱하기회로의 출구에 론리부정회로를 연결한것과 같다.

론리곱하기부정회로의 원리를 보자. (그림 4-17)

앞의 론리회로들에서와 같이 스위치가 닫힌것을 <1>, 열린것을 <0>으로 하고 전구가 켜진것을 <1>, 꺼진것을 <0>으로 약속하자.

스위치 A는 닫고 B를 열어놓는 경우 전류는 스위치쪽으로 흐르지 못하고 전구쪽으로만 흐르므로 불이 켜진다. 즉 $A=1, B=0$ 이면 $X=1$ 이다.

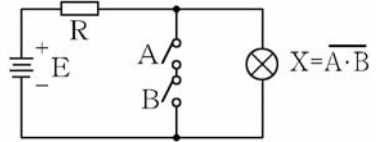


그림 4-17. 론리곱하기부정원리회로

우와 반대로 스위치 A는 열고 B를 닫는 경우에도 전류는 전구로만 흐르면서 불이 켜진다. 즉 $A=0, B=1$ 인 경우에도 $X=1$ 로 된다.

두 스위치가 다 열린 경우에도 전류는 전구로만 흐르므로 불이 켜진다. 즉 $A=0, B=0$ 이면 $X=1$ 이다.

다음은 두 스위치가 다 닫기는 경우를 보자.

이때에는 전류가 스위치 A와 B를 따라서만 흐르고 전구쪽으로는 흐르지 못한다. 따라서 전구에 불이 켜지지 않는다. 즉 $A=1, B=1$ 일 때 $X=0$ 으로 된다.

실제 회로들에서는 스위치대신 반도체 2극소자나 3극소자 등과 같은 전자요소를 써서 회로를 구성하고있다.

다른 론리회로들에서와 같이 이 회로도 집적회로로 생산되고있다.

74계열집적회로가운데서 론리곱하기부정집적회로로서 대표적인것은 7400이다. (그림 4-18)

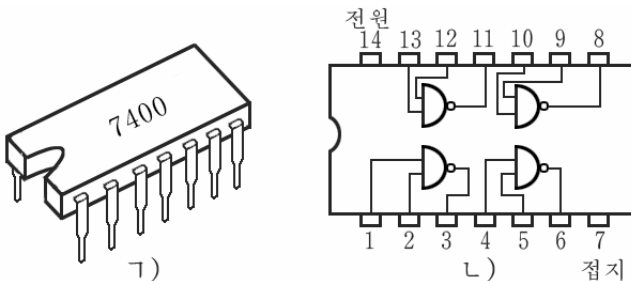


그림 4-18. 4중2입구론리곱하기부정집적회로 7400

ㄱ) 겉모양, ㄴ) 내부기능도

그림 4-18의 ㄴ)에서 보는것처럼 이 집적회로는 하나의 궤통안에 4개의 2입구논리곱하기부정회로를 집적하고있다. 즉 4중2입구논리곱하기부정집적회로이다.

6) 안갈기론리더하기(XOR)회로

이 회로는 논리더하기회로의 변종으로서 논리더하기회로와 다른 점은 두 입구가 다 <1>인 경우 출구가 <1>로 되는것이 아니라 <0>으로 되는것이다. 즉 두 입구가 같지 않을 때에만 출구가 <1>로 된다는 뜻에서 **안갈기론리(배타적론리)더하기회로**라고 한다.

이것을 진리값표로 보면 표 4-8과 같다.

안갈기론리더하기회로의 진리값표 표 4-8

입 구		출 구
A	B	X
0	0	0
0	1	1
1	0	1
1	1	0

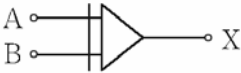


그림 4-19. 안갈기론리더하기회로의 기호표시

안갈기론리더하기를 식으로 쓰면 다음과 같다.

$$X = A \oplus B$$

안갈기론리더하기회로는 회로도에서 그림 4-19와 같이 표시한다.

그림에서 보는것처럼 논리더하기회로의 기호와 비슷하나 입구쪽에 수직선을 하나 더 그어주었다.

다음은 안갈기론리더하기집적회로 74136을 보기로 하자. (그림 4-20)

그림에서 보는것처럼 74136에는 4개의 안갈기론리더하기회로가 집적되어있으며 매개 회로는 입구를 2개씩 가지고있다. 즉 4중2입구안갈기론리더하기집적회로이다.

단자 7은 접지단자이고 14는 +5V단자로서 각각 전원의 <->와 <+> 단자들과 련결된다.

[참고] 한개이상의 입구와 한개의 출구를 가지며 입구의 <1>과 <0>의 조합에 의하여 출구가 결정되는 회로를 **문회로**라고도 한다. 즉 논리더하기회로를 **론리더하기문회로**, 논리곱하기회로를 **론리곱하기문회로** 그리고 논리부정회로를 **론리부정문회로**라고도 한다.

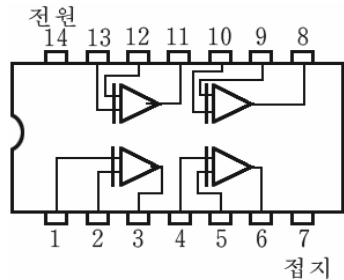


그림 4-20. 4중2입구안갈기론리더하기 집적회로 74136의 내부기능도

연습문제

1. 다음의 논리식을 가지고 논리회로를 그려라. (논리기호들을 써서 표시하여라.)
 - 1) $X=(A+B) \cdot (C+D)$
 - 2) $X=(\overline{A} \cdot \overline{B}) \cdot (\overline{C} + \overline{D})$
 - 3) $X=(A+B) \cdot (\overline{A} + \overline{B})$
 - 4) $X=(A \oplus B) \cdot (C+D)$
 - 5) $X=(A \cdot B \cdot C \cdot D) + (C+D)$
2. 반도체 2극소자를 가지고 3입구 논리 더하기 회로, 3입구 논리 곱하기 회로를 구성하여라.
3. 반도체 3극소자를 가지고 2입구 논리 더하기 부정회로와 2입구 논리 곱하기 부정회로를 구성하고 그 동작원리를 설명하여라.
4. 반도체 2극소자와 3극소자들을 가지고 안갈기 논리 더하기 회로를 구성하고 그 동작원리를 설명하여라.
5. 7400부터 7420까지의 집적회로들이 어떤 논리 집적회로인가를 집적회로 편람에서 찾아보아라.
6. 논리 더하기 회로와 논리 곱하기 부정회로의 차이는 무엇인가?
7. 논리 곱하기 회로와 논리 더하기 부정회로의 차이는 무엇인가?

제3절. 부진기

부진기는 구형파 임펄스를 만들어내는 임펄스 발진기이다.

부진기는 수자회로에서 신호원으로 많이 쓰인다.

부진기는 동작방식에 따라 자려부진기와 대기부진기로, 거기에 쓰이는 소자에 따라 반도체 3극소자 부진기, 집적회로 부진기 등으로 나눈다.

1. 자려부진기

1) 3극소자 자려부진기

자려부진기란 전원만 넣으면 외부에서 다른 신호를 주지 않아도 출구에 연속적인 구형파를 계속 내보내는 부진기를 말한다. 즉 자려부진기는 회로 자체의 특성량에 의하여 결정되는 반복주기와 지속시간을 가진 구형파를 발진하는 임펄스 회로이다.

(1) 회로구성

3극소자들로 구성된 자려부진기의 회로는 2단으로 된 저항-용량결합 증폭회로와 비슷한데 두 증폭단의 출구가 다른쪽 입구에 귀환결합을 이루고있는것이 특징이다. 즉 T_2 의 출구는 T_1 의 입구, T_1 의 출구는 T_2 의 입구와 축전기를 통하여 결합되어있다. (그림 4-21)

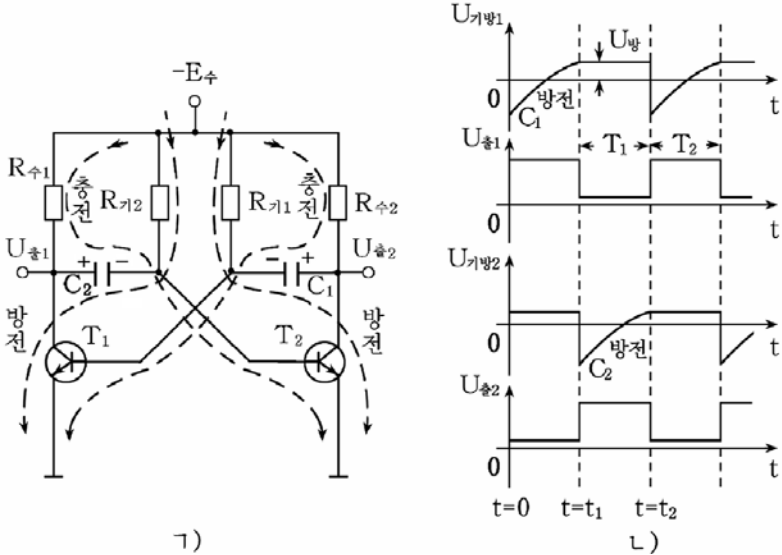


그림 4-21. 자려부진기회로(가)와 동작파형(나)

두 증폭단은 서로 대칭을 이루고있다. 즉 두 증폭소자들은 특성이 같은 npn형 3극소자로 되어있으며 $R_{b1}=R_{b2}$, $R_{c1}=R_{c2}$, $C_1=C_2$ 이다.

회로에서 R_{b1} , R_{b2} 는 T_1 , T_2 의 수전극부하저항이고 그리고 R_{c1} , R_{c2} 는 T_1 , T_2 의 기초극편의저항으로서 이 저항을 통해 편의전압(전류)이 공급된다. C_1 , C_2 는 두 3극소자출구를 다른쪽 입구에 결합시키는 축전기로서 이 축전기의 용량은 기초극저항과 함께 발진주파수를 결정한다.

(2) 동작원리

전원을 넣는 첫 순간 회로가 대칭되어있으므로 두 3극소자에 걸리는 수전극전압은 같고 기-방사이의 편의전압도 같이 걸린다. 그러므로 T_1 과 T_2 는 동시에 열리어 수전극전류가 흐르며 축전기들은 일정한 전압까지 충전된다.

리상적인 경우는 회로가 대칭이므로 두 회로는 평형상태를 유지하게 될것이다. 즉 두 3극소자의 수전극전류는 같으며 매개 전극들에서의 전압도 같을것이다. 그러나 이러한 상태는 오래 지속되지 못하며 곧 평형이 파괴된다.

그것은 아무리 특성이 같은 3극소자와 저항, 축전기를 골라쓴다 하더라도 약간이라도 차이가 있기때문이다. 그리하여 T_1 의 수전극전류와 T_2 의 수전극전류는 차이나게 된다.

만약 T_2 의 수전극전류가 T_1 의 수전극전류보다 약간 커졌다고 하자.

그러면 저항 $R_{\text{수}2}$ 에서의 전압떨어짐이 커지므로 T_2 의 수전극전압 $U_{\text{수}2}$ 가 낮아진다. 이때 충전되었던 축전기 C_1 은 T_2 와 $R_{\text{기}1}$ 을 통해 방전된다. (그림에서는 점선으로 표시되었다.) C_1 의 방전전류에 의하여 $R_{\text{기}1}$ 의 아래쪽은 $\langle - \rangle$ 전압을 가진다. 따라서 T_1 의 기초극편의는 낮아지고 $I_{\text{수}1}$ 는 작아지며 수전극전압 $U_{\text{수}1}$ 은 높아진다. 이때 축전기 C_2 는 T_2 의 기초극을 따라 더욱 방전되며 이것은 T_2 의 기초극전류를 더욱 크게 한다. 그러므로 T_2 의 수전극전류 $I_{\text{수}2}$ 는 더 커지고 ($I_{\text{수}2} = \beta I_{\text{기}2}$) 수전극전압 $U_{\text{수}2}$ 는 더 낮아지며 C_1 은 계속 방전한다.

그리하여 T_1 의 기초극편의전압이 령으로 되면 T_1 은 완전히 닫히고 T_2 는 포화상태로 된다. 이와 같은 과정은 전원을 넣은 후 매우 순간적으로 일어난다. 이 상태에서 T_1 의 수전극전압 $U_{\text{수}1} \approx +E_{\text{수}}$, T_2 의 수전극전압 $U_{\text{수}2} \approx 0$ 이다. ($t=0$)

다음 축전기 C_1 의 방전전류는 축전기가 방전함에 따라 점점 작아지며 따라서 $R_{\text{기}1}$ 에서의 전압떨어짐도 점차 작아지면서 T_1 의 기초극전압보다 높아지는 점에 이르는 순간부터 T_1 의 기초극전압 $U_{\text{기}1}$ 이 점점 높아진다. 그러다가 이 전압이 T_1 의 닫김전압보다 높아지는 점에 이르는 순간부터 T_1 이 열리면서 수전극전류 $I_{\text{수}1}$ 이 흐르기 시작한다. 그러면 수전극저항 $R_{\text{수}1}$ 에서 전압떨어짐이 생겨 수전극전압 $U_{\text{수}1}$ 은 낮아지며 축전기 C_2 가 방전되기 시작한다. 따라서 $R_{\text{기}2}$ 의 아래쪽이 $\langle - \rangle$ 전압으로 되어 T_2 의 기초극편의전압이 낮아진다. (C_1 이 방전하던 앞의 경우와 같다.)

그리하여 앞에서와 같은 과정을 거치면서 순식간에 T_2 는 완전히 닫히고 T_1 은 열려 포화상태에 이른다. 이때 $U_{\text{수}1} \approx 0$, $U_{\text{수}2} \approx +E_{\text{수}}$ 이다. ($t=t_1$)

다음부터는 C_2 의 방전전류가 점점 작아지며 따라서 $R_{\text{기}2}$ 에서의 전압떨어짐도 점점 작아지면서 T_2 의 기초극전압 $U_{\text{기}2}$ 가 점점 높아진다. 그리하여 이 전압이 T_2 의 닫김전압보다 높아지는 점에 이르는 순간

($t=t_2$)부터 T_2 가 열리기 시작하고 처음과 같은 과정이 진행된다. 이러한 동작은 계속 반복된다.

이와 같이 두 3극소자는 교대로 여닫기면서 출구에 구형임펄스를 내보낸다.

(3) 출구임펄스의 주기

출구임펄스의 주기 T 는 3극소자가 열려있는 시간 $T_{\text{열}}$ 과 닫혀있는 시간 $T_{\text{닫}}$ 의 합과 같다.

대칭부진기에서는 $T_{\text{열}}=T_{\text{닫}}$ 이고 시간 $T_{\text{열}}$, $T_{\text{닫}}$ 은 시정수 $\tau=CR_{기}$ 에 관계되는데 근사적으로 다음과 같이 표시된다.

$$T_{\text{열}}=T_{\text{닫}}\approx 0.69CR_{기}$$

따라서 임펄스의 주기는

$$T=T_{\text{열}}+T_{\text{닫}}\approx 1.38CR_{기}$$

여기서 $C=C_1=C_2$, $R_{기}=R_{기1}=R_{기2}$ 이다.

발진주파수는

$$f = \frac{1}{T} = \frac{1}{1.38CR_{기}}$$

이 식에서 알수 있는것처럼 발진주기 (또는 주파수)는 시정수 $CR_{기}$ 를 조절하여 변화시킬수 있다.

2) 집적회로자려부진기

(1) 회로구성

자려부진기는 논리집적회로를 가지고 쉽게 만들수 있다. 그림 4-22의 ㄱ)는 논리집적회로 7405에 들어있는 두개의 논리부정회로를 리용하여 만든 자려부진기회로이다.

회로구성을 보면 두개의 논리부정회로가 직렬로 연결되어있다. 그리고 첫번째 논리부정회로의 입구와 출구사이에 저항 R 를 연결하고 두번째 논리부정회로의 출구와 첫번째 논리부정회로의 입구사이에 축전기 C 를 연결하였다.

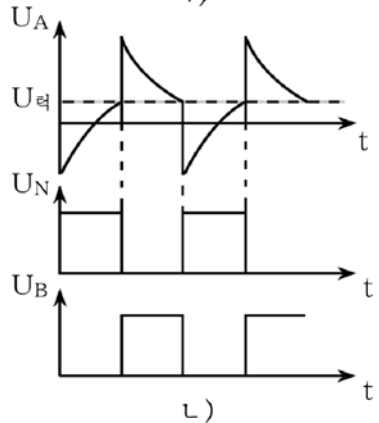
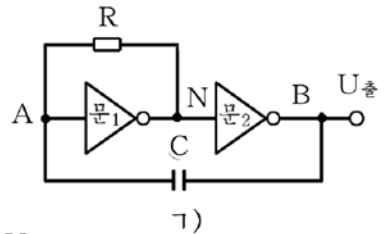


그림 4-22. 집적회로자려부진기 회로(ㄱ)와 동작파형(L)

(2) 동작원리

첫 순간 A점과 B점은 낮은 전위(0)이고 N점은 높은 전위(1)에 있다고 하자. 이때 축전기 C는 N점→R→A점→C→B점을 통해 충전된다. 따라서 왼쪽극판은 $\langle + \rangle$, 오른쪽극판은 $\langle - \rangle$ 로 충전된다. 그림 4-22의 L)에 C의 충전과정을 표시하였다.

축전기 C가 충전됨에 따라서 문₁의 입구(A점)전압이 높아진다. 이 전압이 턱전압 $U_{\text{턱}}$ 을 초과하면 문₁은 상태가 뒤집혀져 A점은 높은 전위(1)에 놓이고 문₁의 출구이면서 문₂의 입구점인 N점은 낮은 전위(0)에 놓인다. 따라서 문₂의 출구인 B점은 높은 전위(1)로 올라간다. 이때 C는 방전하는데 방전전류는 C의 왼쪽극판→R→N점으로 흐르므로 C의 왼쪽극판의 전위(A점의 전위)가 점점 낮아진다.

이것은 동작과형을 보고 알수 있다.

이 전압이 턱전압 $U_{\text{턱}}$ 아래로 떨어지면 문₁은 다시 본래의 상태인 A점이 낮고(0) N점이 높은(1) 상태로 절환된다. (턱전압이란 기준전압을 말하는데 어떤 기준전압이상이면 열리고 어떤 기준전압아래이면 닫기는 전압을 말한다.) 따라서 문₂도 다시 절환되면서 B점이 낮은 전위(0)로 되고 출구로는 구형임펄스 하나를 내보낸다.

이렇게 되어 첫 상태로 되돌아온다.

다음 다시 N점으로부터 R와 A점을 거쳐 C가 충전되고 위에서와 같은 과정이 반복된다.

이 부진기의 발진주기는 다음과 같이 계산한다.

$$T=2.22RC$$

부진기를 만들기 위해 론리부정집적회로 7405를 쓰는 경우에 집적회로안에 있는 6개의 반전기가운데서 두개만 쓰면 된다. 그리고 4중2 입구론리곱하기부정집적회로인 7400으로 만들려면 두 입구를 함께 묶어서 그것을 한개의 입구로 하면 된다.

2. 대기부진기

대기부진기란 외부에서 신호가 있을 때만 출구에서 구형임펄스를 한개씩 내보내는 회로를 말한다. 다시말하여 외부로부터 시동임펄스를 줄 때에만 다른 상태(준안정상태)에로 넘어갔다가 저절로 본래상태(안정상태)로 되돌아오는 부진기를 말한다. 이런 의미에서 대기부진기를 단안정부진기라고도 한다.

대기부진기는 신호의 지연 또는 임펄스파형을 다듬는데 흔히 이용한다.

1) 회로구성

문회로 두개로 구성된 대기부진기를 그림 4-23에 주었다.

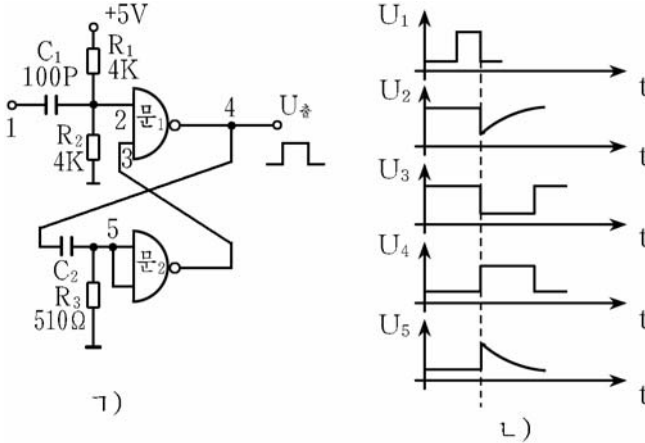


그림 4-23. 대기부진기회로(ㄱ)와 동작파형(ㄴ)

문회로중의 하나는 논리곱하기부정회로이고 다른 하나는 논리곱하기부정회로의 두 입구를 같이 묶어서 만든 논리부정회로이다.

저항 R_1 , R_2 는 전원전압을 분할하여 문₁에 턴전압을 주기 위한 요소이고 C_1 은 R_2 와 함께 입구에 들어오는 구형파를 N형파로 만드는 역할을 하는 동시에 교류신호에 대한 결합작용도 한다.

C_2 와 R_3 은 발진주파수를 결정하는 요소이다.

그림 4-23의 ㄴ)에는 신호에 따르는 매개 점에서의 동작파형을 보여주었다.

2) 동작원리

처음 전원을 넣으면 점 2는 높은 전위(1)에, 문₂의 입구(점 5)는 저항 R_3 (510Ω)에 의하여 거의 접지전위에 놓인다. 따라서 문₂의 출구는 높은 전위에 있게 되는데 이것은 점 3의 전위와 같으므로 문₁의 입구에는 둘 다 높은 전위(1, 1)가 들어가 그의 출구(점 4)는 낮은 전위(0)로 된다. 즉 신호가 없을 때 출구(점 4)는 낮은 전위(0)에 놓여있다. 이때 C_2 도 낮은 전위에 놓여있다.

입구 1에 <+>임펄스가 들어와서 임펄스의 뒤면이 끝나는 순간 점 2의 전위는 낮은 상태(0)로 된다. 따라서 문₁의 입구는 (0,1)이므로 출구는 1로 된다. 이와 함께 C₂과 R₃의 연결점(점 5)에서의 전위는 높아진다. 이것이 출구임펄스의 앞면에 해당된다.

다음은 임펄스의 수평부가 어떻게 이루어지는가를 보자.

점 1에 가해지는 시동임펄스가 끝나도 점 3의 전위가 낮으면 점 4는 계속 높은 전위를 유지한다.

이렇게 하여 수평부가 이루어진다.

다음은 임펄스의 뒤면이 어떻게 이루어지는가를 보자.

시간이 지남에 따라 축전기 C₂는 점차 충전되어 점 5의 전위는 낮아진다. 이 전압이 턴전압에 이르면 문₂는 다시 열리면서 점 3이 높은 전위로 되고 점 4는 낮은 전위로 된다. 이렇게 하여 임펄스의 뒤면이 형성된다. 이때 축전기 C₂는 문₁과 저항 R₃을 거쳐 방전하여 처음 상태로 돌아간다.

임펄스의 길이(지속시간) t_임은 다음 식으로 결정된다.

$$t_{\text{임}} \approx 0.7RC$$

R나 C를 조절하여 t_임을 변화시킬수 있다.

연습문제

1. 기초극저항 R_기=20kΩ, 축전기의 용량 C=1 000 pF인 3극소자자력부진기의 발진주파수는 얼마인가?
2. 저항 R=2kΩ, 축전기의 용량 C=0.01 μF인 집적회로자력부진기의 발진주기는 얼마인가?
3. 대기부진기의 출구임펄스의 길이가 t_임=700 ns로 되게 하려면 저항 R=500 Ω일 때 C의 값은 얼마인가?

제4절. 방아쇠회로

방아쇠회로는 방아쇠와 비슷한 원리로 동작한다고 하여 이름이 붙여진 회로이다.

방아쇠회로란 외부에서 시동임펄스를 주면 한 안정상태로부터 다른 안정상태로 넘어가고 또 한개의 시동임펄스를 주면 초기의 안정상태로 돌아가는 회로를 말한다. 즉 입구에 신호가 작용하면 회로가 한 상태로부터 다른 상태로 갑자기 넘어가는 회로를 방아쇠회로라고 한다.

방아쇠회로는 두가지 상태가 있다. (그림 4-24)

① 2개의 출구 Q(기본출구)와 \bar{Q} (반대출구)를 가지고있고 Q=1, \bar{Q} =0 및 Q=0, \bar{Q} =1의 두가지의 안정상태가 있다.

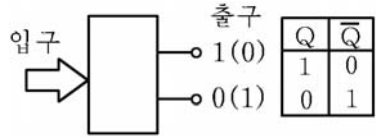


그림 4-24. 방아쇠회로의 두가지 상태

이때 Q=1, \bar{Q} =0인 상태를 방아쇠회로의 **1상태**, Q=0, \bar{Q} =1인 상태를 방아쇠회로의 **0상태**라고 한다.

② 1~5개의 입구가 있고 입구신호에 따라 두가지 상태가운데서 어느 한 상태를 선택할수 있으며 일단 어느 한 상태에 놓인 다음에는 입구신호를 없애도 그 상태를 계속 유지(기억)한다.

방아쇠회로는 이와 같은 특징으로 하여 수자회로에서 2진수의 기억, 셈세기, 주파수분할 등에 널리 리용된다.

방아쇠회로는 입구회로의 형식에 따라 크게 S-R, J-K, T, D방아쇠회로로 나눈다.

1. S-R방아쇠회로

1) 회로구성

S-R방아쇠회로란 두개의 입구 S, R와 두개의 출구 Q, \bar{Q} 를 가진 방아쇠회로를 말한다.

S-R방아쇠회로는 논리곱하기부정회로와 논리부정회로(반전기)로 구성할수 있다. (그림 4-25)

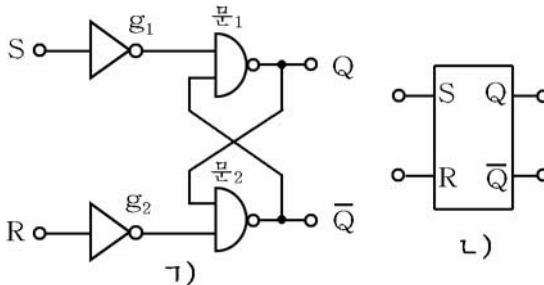


그림 4-25. S-R방아쇠회로(ㄱ)와 그 기호표시(L)

회로에서 입구 S를 **설정입구**, 입구 R를 **지우기(재설정입구)**라고 한다.

회로에서 문1의 출구 Q는 문2의 한쪽 입구에, 문2의 출구 \bar{Q} 는 문1의 한쪽입구에 련결되어있다.

2) 동작원리

입구 S, R가 10, 01, 00, 11의 순서로 변할 때 출구 Q, \bar{Q} 의 상태가 어떻게 되는가를 보자.

먼저 회로의 처음 출구상태가 $Q=0, \bar{Q}=1$ 이었다고 하자.

- S=1, R=0인 경우

이때 입구 S와 연결된 논리곱하기부정회로 문₁의 입구는 $g_1=0, \bar{Q}=1$ 이므로 그의 출구 $Q=1$ 로 된다. 따라서 문₂의 입구는 $Q=1, g_2=1$ 로 되어 출구 $\bar{Q}=0$ 이 된다. 즉 S=1, R=0일 때 방아쇠회로의 출구 $Q=1, \bar{Q}=0$ 으로 된다. 방아쇠회로의 이와 같은 동작을 <설정>이라고 한다.

- S=0, R=1인 경우

입구 R와 연결된 논리곱하기부정회로 문₂의 입구 $g_2=0, Q=1$ 이므로 그의 출구 $\bar{Q}=1$ 로 된다. 그러면 문₁의 입구가 $Q=1, g_1=1$ 로 되어 출구 $Q=0$ 으로 된다. 즉 지우기입구 R가 1이고 설정입구 S가 0이면 방아쇠회로의 출구는 $Q=0, \bar{Q}=1$ 로 된다. 방아쇠회로의 이와 같은 동작을 <지우기>라고 한다.

- S=0, R=0인 경우

입구 S, R에 아무런 신호도 작용하지 않으므로 출구상태는 변하지 않으며 따라서 본래의 상태를 계속 <유지>한다.

- S=1, R=1인 경우

설정신호와 지우기신호가 둘다 작용하여 출구 Q, \bar{Q} 가 모두 1로 되려고 하므로 출구상태가 어떻게 되겠는지 알수 없는 <미정>상태로 된다. 그러므로 S-R방아쇠회로에서는 두 입구가 모두 1이 되는것을 <금지>하여야 한다.

S-R방아쇠회로의 진리값표를 표 4-9에 그리고 이 회로의 동작과형을 그림 4-26에 보여주었다.

동작과형에서의 번호 ①, ②, ③, ④는 진리값표의 번호에 대응한다.

S-R방아쇠회로의 진리값표 표 4-9

번호	입 구		출 구		동 작
	S	R	Q	\bar{Q}	
①	1	0	1	0	설 정
②	0	1	0	1	지 우 기
③	0	0	변하지 않음		유 지
④	1	1	알수 없음		미 정

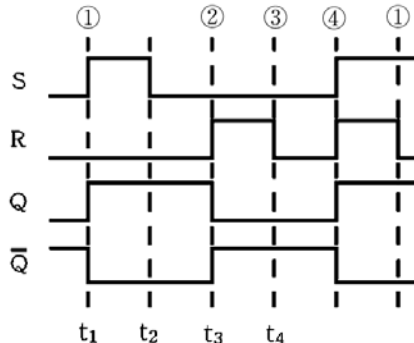


그림 4-26. S-R방아쇠회로의 동작과형

동작과형에서 보는바와 같이 S와 R가 0으로부터 1로 될 때 (t_1 , t_3) 즉 입구임펄스의 오름면에서 방아쇠회로가 시동되면 정극성시동이라고 부르며 이러한 방아쇠회로를 **오름면시동** 또는 **정극성시동방아쇠회로**라고 한다.

S와 R가 1에서 0으로 될 때 (t_2 , t_4) 즉 입구임펄스의 내림면에서 시동되는 방아쇠회로도 있는데 이와 같은 시동을 **부극성시동**이라고 부르며 이러한 방아쇠회로를 **내림면시동** 또는 **부극성시동방아쇠회로**라고 한다.

3) 동기식S-R방아쇠회로

동기식S-R방아쇠회로란 입구 S, R외에 동기입구 CK를 더 가지고 있는 방아쇠회로를 말한다.

앞에서 본 S-R방아쇠회로를 비동기식방아쇠회로라고 한다.

동기식S-R방아쇠회로를 4개의 논리곱하기부정회로로 구성할수 있다.(그림 4-27의 ㄱ)

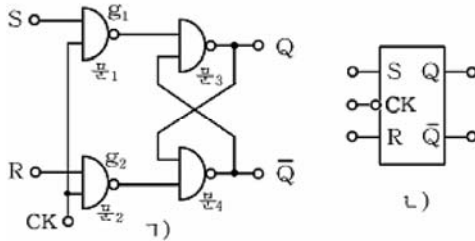


그림 4-27. 동기식S-R방아쇠회로(ㄱ)와 그 기호표시(L)

동기입구 CK, 설정입구 S, 지우기입구 R에 신호가 작용할 때 회로의 출구상태가 어떻게 변하는가를 보자.

CK=0이면 논리곱하기부정회로의 동작(어느 한 입구라도 0이면 그의 출구는 1로 된다.)으로부터 문₁, 문₂의 출구는 $g_1=g_2=1$ 이다. 이것은 비동기식S-R방아쇠회로에서 S=0, R=0인 경우와 같으므로 회로의 출구상태는 변하지 않는다. 다시말하여 동기입구 CK=0일 때에는 설정신호 S와 지우기신호 R가 작용하여도 회로의 상태는 절 환되지 않는다.

그러나 CK=1이면 논리곱하기부정회로 문₁, 문₂의 동작특성(한쪽 입구가 1이면 회로는 다른쪽 입구에 대하여 반전기처럼 동작한다.)으

로부터 동기식S-R방아쇠회로의 동작은 마치도 비동기식의 경우와 똑 같게 된다.(표 4-10)

동기식S-R방아쇠회로의 진리값표 표 4-10

번 호	입 구			출 구		동 작
	S	R	CK	Q	\overline{Q}	
①	1	0	1	1	0	설 정
②	0	1	1	0	1	지 우 기
③	0	0	1	변 하지 않 음		유 지
④	1	1	1	알 수 없 음		미 정

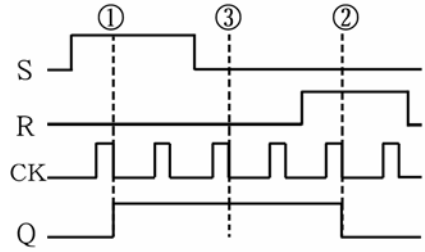


그림 4-28. 동기식S-R방아쇠회로의 동작파형

만일 동기입구 CK에 동기임펄스들이 입구되면서 설정 및 지우기 신호가 작용한다면 동기식S-R방아쇠회로의 동작파형은 그림 4-28과 같다.

동작파형에서 알수 있는바와 같이 입구 S, R에 신호가 작용하여도 CK=0이면 회로의 상태가 변하지 않으며 오직 동기신호 CK가 들어와야만 회로가 절환된다.

이와 같이 동기식S-R방아쇠회로에서 회로의 상태절환이 동기신호 CK에 의하여 진행되며 신호 S와 R는 회로가 절환할수 있는 조건을 제어출뿐이다.

동작파형의 번호 ①, ②, ③은 표 4-10에서의 번호와 대응된다.

동기입구 CK는 동작파형에서 표시한것처럼 일반적으로 내림면시동을 많이 쓴다.

동기식S-R방아쇠회로의 기호표식(그림 4-27의 L)에서 CK에 동그라미기호표식을 붙인것은 이 단자가 내림면시동단자라는것을 의미한다.

동그라미기호가 없으면 오름면시동단자라는것을 의미한다. 이와 같은 표식은 다른 방아쇠회로들에서도 같은 의미로 쓰인다.

S-R방아쇠회로의 설정상태(Q=1)를 2진수 1의 기억으로, 지우기 상태(Q=0)를 2진수 0의 기억으로 보면 S-R방아쇠회로는 1bit기억기로 된다. 그러므로 S-R방아쇠회로는 1bit의 2진수를 등록해두는 회로(등록기)로 쓸수 있다.

2. J-K방아쇠회로

1) 회로구성

J-K방아쇠회로란 입구 J, K와 출구 Q, \bar{Q} 를 가진 방아쇠회로를 말한다.

이 회로는 S-R방아쇠회로와 두개의 논리곱하기회로로 구성할수 있다. (그림 4-29)

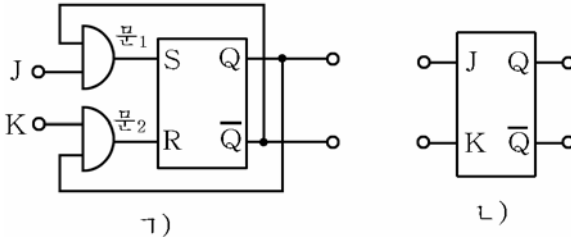


그림 4-29. J-K방아쇠회로(ㄱ)와 그 기호표시(ㄴ)

2) 동작원리

입구 J, K가 10, 01, 00, 11의 순서로 변할 때 회로의 상태가 어떻게 변하는가를 보자. (회로의 처음상태는 $Q=0, \bar{Q}=1$ 이었다고 하자.)

- J=1, K=0인 경우

문₁의 입구는 J=1, $\bar{Q}=1$ 이므로 그의 출구 S=1이다. 다음 문₂의 입구는 K=0, Q=0이므로 출구 R=0으로 된다. 이것은 S-R방아쇠회로에서 입구 S=1, R=0의 경우와 같으므로 J-K방아쇠회로의 출구는 $Q=1, \bar{Q}=0$ 으로 된다.

- J=0, K=1인 경우

문₂의 입구는 K=1, Q=1이므로 출구는 R=1이다. 다음 문₁의 입구는 J=0, $\bar{Q}=0$ 이 되며 출구 S=0으로 된다. 이것은 S-R방아쇠회로에서 S=0, R=1의 경우와 같으므로 J-K방아쇠회로의 출구는 $Q=0, \bar{Q}=1$ 로 된다.

- J=0, K=0인 경우

문₁의 출구 S=0, 문₂의 출구 R=0이므로 J-K방아쇠회로의 출구상태는 그대로 유지된다.

- J=1, K=1인 경우

문₁의 입구는 J=1, $\bar{Q}=1$ 이므로 S=1이며 문₂의 입구는 K=1, Q=0이므로 R=0으로 된다. 이것은 S-R방아쇠회로에서 입구가 S=1, R=0인 경우와 같으므로 J-K방아쇠회로의 출구는 $Q=1, \bar{Q}=0$ 으로서 우와

반대상태로 된다.

마찬가지로 현재 출구상태가 $Q=1, \bar{Q}=0$ 인 경우 $J=1, K=1$ 이 작용하면 회로의 상태는 반전되어 $Q=0, \bar{Q}=1$ 로 된다.

S-R방아쇠회로의 부족점은 $S=R=1$ 일 때 회로의 상태가 어떻게 되겠는지 알수 없는것이였다. 그러나 J-K방아쇠회로에서는 입구 J, K가 모두 1일 때 회로의 상태가 반전되는데 이것은 S-R방아쇠회로와의 본질적 차이점이다.

J-K방아쇠회로의 동작을 진리값표로 표시하면 표 4-11과 같다.

J-K방아쇠회로의 진리값표 표 4-11

번호	입구		출구		동작
	J	K	Q	\bar{Q}	
①	1	0	1	0	설정
②	0	1	0	1	지우기
③	0	0	변하지 않음	유지	유지
④	1	1	처음과 반대	반전	반전

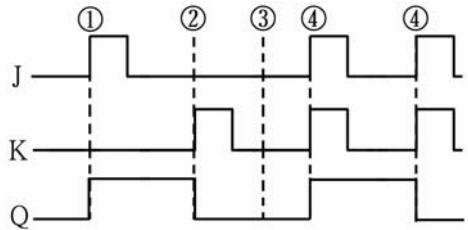


그림 4-30. J-K방아쇠회로의 동작파형

그림 4-30의 동작파형에서 번호 ①, ②, ③, ④는 진리값표의 번호와 대응된다.

J-K방아쇠회로의 동작은 $J=K=1$ 일 때 출구상태가 반전되는것을 제외하고는 S-R방아쇠회로의 경우와 같다.

3) 동기식J-K방아쇠회로

동기식J-K방아쇠회로란 입구 J-K외에 동기입구 CK가 더 있는 방아쇠회로를 말한다.

이 회로는 S-R방아쇠회로의 입구에 3입구론리곱하기회로 2개를 결합하여 구성할수 있다. (그림 4-31)

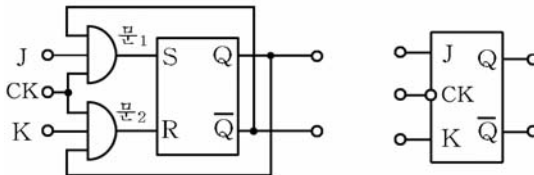


그림 4-31. 동기식J-K방아쇠회로

동기입구 $CK=0$ 이면 논리곱하기회로의 동작(어느 한 입구라도 0이면 출구는 0)으로부터 문₁, 문₂의 출구는 $S=R=0$ 으로 된다. 그러므로 $CK=0$ 이면 입구 J, K에 신호가 작용하여도 방아쇠회로의 상태는 변하지 않는다.

동기입구 $CK=1$ 일 때에는 논리곱하기회로의 동작(두 입구 가운데서 한 입구가 1이면 출구값은 다른쪽 입구의 값과 같다.)으로부터 문₁과 문₂는 각각 입구신호 J, K를 그대로 출구한다. 그러므로 $CK=1$ 일 때 회로의 동작은 동기입구가 없는 J-K방아쇠회로의 경우와 같다. 이 내용을 진리값표와 동작과형으로 보면 각각 표 4-12, 그림 4-32와 같다.

동기식J-K방아쇠회로의
진리값표 표 4-12

번호	입 구			출 구		동 작
	J	K	CK	Q	\bar{Q}	
①	1	0	1	1	0	설 정
②	0	1	1	0	1	지 우 기
③	0	0	1	변하지 않음		유 지
④	1	1	1	처음과 반대		반 전

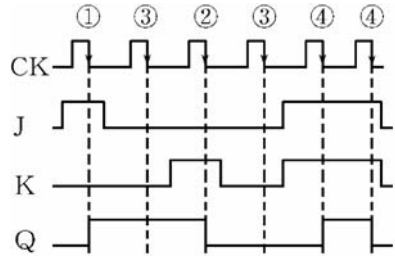


그림 4-32. 동기식J-K방아쇠회로의
동작과형

동기식J-K방아쇠회로는 입구신호 J, K가 작용한 상태에서 동기신호 CK가 들어와야 상태가 절환될수 있다. 그림 4-32의 동작과형에서 번호 ①, ②, ③, ④는 진리값표의 번호에 대응한다.

동기식J-K방아쇠회로는 입구 J, K, CK외에 우선권설정입구 PR와 우선권지우기입구 CLR를 가진 동기식J-K방아쇠회로도 있다. 그림 4-33에 이 회로의 기호표시를 주었다.

입구 PR와 CLR는 입구 J, K, CK보다 우선적이다. 즉 J, K, CK가 어떤 상태에 있든 관계없이 $PR=0$ 이면 $Q=1$ 로 설정되며 $CLR=0$ 이면 $Q=0$ 으로 지워진다.

보통상태에서는 $PR=CLR=1$ 로 되게 한다. 그러면 이 방아쇠회로는 J-K방아쇠회로처럼 동작한다. 또한 우선권설정입구 PR와 지우기입구 CLR

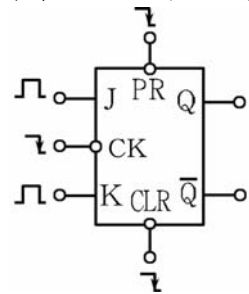


그림 4-33. 동기식
J-K방아쇠회로의 기호표시

를 리용하면 이 방아쇠회로를 S-R방아쇠회로처럼 쓸수 있다.

74계렬집적회로 가운데는 우선권설정 및 지우기 기능을 가진 동기식 J-K방아쇠회로로서 7476이 있다. (그림 4-34)

그림에서 보는것처럼 이 집적회로안에는 두개의 J-K방아쇠회로가 들어있다.

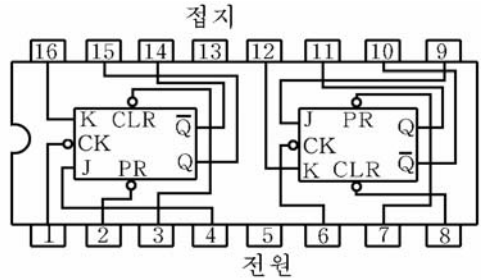


그림 4-34. J-K방아쇠집적회로 7476내부기능도

3. T방아쇠회로

T방아쇠회로란 하나의 입구 T와 두개의 출구 Q, \bar{Q} 를 가진 방아쇠회로를 말한다. 즉 T방아쇠회로는 입구단자 T에 신호가 들어올 때마다 출구단자 Q와 \bar{Q} 의 상태가 반전되는 회로이다.

T방아쇠회로는 S-R방아쇠회로와 논리곱하기회로로 만들수 있다. (그림 4-35)

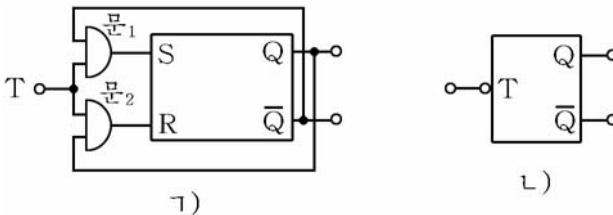


그림 4-35. T방아쇠회로(가)와 그 기호표시(나)

입구가 0 또는 1일 때 출구가 어떻게 달라지는가를 보자.

T=0인 경우 S=0, R=0이므로 회로의 상태는 변하지 않는다.

T=1인 경우에는 처음에 Q=1, \bar{Q} =0이었다면 문1, 문2의 출구가 S=0, R=1이므로 방아쇠회로의 출구는 Q=0, \bar{Q} =1로 바뀌어진다.

만일 처음에 Q=0, \bar{Q} =1이었다면 문1, 문2의 출구가 S=1, R=0이므로 방아쇠회로의 출구는 Q=1, \bar{Q} =0으로 바뀌어진다. 다시말하여 방아쇠회로의 입구에 신호가 들어올 때마다 출구상태가 변한다.

T방아쇠회로의 동작을 진리값표로 표시하면 표 4-13과 같으며 동작파형으로 보면 그림 4-36과 같다.

T방아쇠회로의 진리값표 표 4-13

입 구	출 구	동 작
T	Q	
0	변하지 않음	유 지
1	처음과 반대	반 전

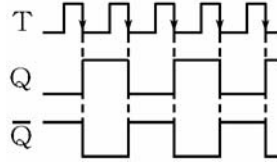


그림 4-36. T방아쇠회로의 동작파형

그림에서 알수 있는것처럼 T방아쇠회로는 입구신호의 두 주기에 대하여 출구신호의 한 주기가 대응된다. 이것은 T방아쇠회로의 동작이 그를 단위로 하여 수를 세는 동작, 입구신호의 주파수를 2로 나누는 동작이라는것을 의미한다. 이와 같은 특징으로 하여 T방아쇠회로는 주로 셉퍼로, 높은 주파수의 신호를 보다 낮은 주파수의 신호로 만드는 주파수분할회로 등에 리용된다.

주파수분할회로에서 낮아진 주파수는 다음과 같다.

$$f_{\text{낮}} = f_{\text{높}} / 2^n$$

여기서 $f_{\text{낮}}$: 얻으려는 주파수(출구신호)

$f_{\text{높}}$: 본래의 높은 주파수(입구신호)

n : 방아쇠회로의 개수

T방아쇠회로는 동기식J-K방아쇠회로로 쉽게 만들수 있다. J-K방아쇠회로의 입구 J와 K를 한데 묶어 높은 준위(1)로 하여 놓고 동기입구 CK를 입구 T로 쓰면 입구임펄스에 따라서 회로의 상태가 바뀐다. (J-K방아쇠회로의 진리값표 참고)

4. D방아쇠회로

입구 D와 동기입구 CK, 출구 Q와 \bar{Q} 를 가진 방아쇠회로를 D방아쇠회로라고 부른다.

D방아쇠회로는 J-K방아쇠회로와 반전기로 구성할수 있다. (그림 4-37)

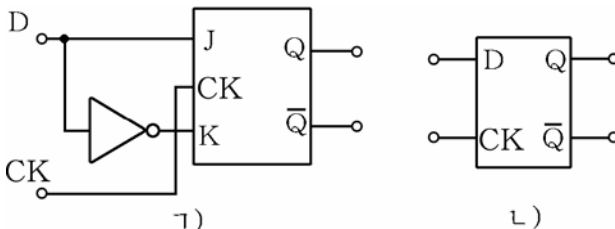


그림 4-37. D방아쇠회로(ㄱ)와 그 기호표시(ㄴ)

D=0일 때 J=0, K=1이므로 동기신호가 들어오면 출구 Q=0, $\bar{Q}=1$ 로 된다.

D=1일 때 J=1, K=0이므로 동기신호가 들어오면 출구 Q=1, $\bar{Q}=0$ 로 된다.

이 내용을 진리값표와 파형으로 표시하면 표 4-14, 그림 4-38과 같다.

D방아쇠회로의 진리값표 표 4-14

입 구		출 구	
D	CK	Q	\bar{Q}
0	1	0	1
1	1	1	0

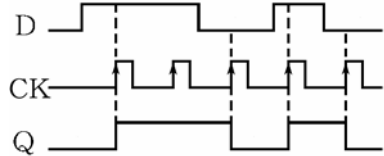


그림 4-38. D방아쇠회로의 동작파형

동작파형에서 알수 있는바와 같이 D방아쇠회로는 입구신호 D가 어떤 시간만큼 늦어져서 출구 Q에 나타난다. 이런 의미에서 D방아쇠회로를 **지연방아쇠회로**라고도 한다.

D방아쇠회로는 주로 2진수자료들을 임시로 보관해두기 위한 등록기를 구성하는데 리용된다.

D방아쇠집적회로 7474에 대하여 보자. (그림 4-39)

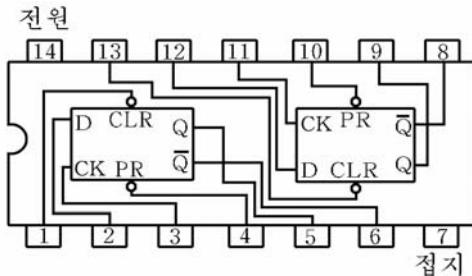


그림 4-39. D방아쇠집적회로 7474의 내부기능도

이 집적회로의 내부에는 우선권설정(PR) 및 우선권지우기(CLR)기능을 가진 D방아쇠회로가 2개 들어있다.

PR와 CLR단자의 기능은 J-K방아쇠회로에서 설명한것과 같다.

D방아쇠회로는 보통 동기입구 CK의 오름면에서 시동된다.

연습문제

1. S-R방아쇠회로를 0상태로 만들려면 입구 S, R에 어떤 신호를 주어야 하는가?

2. 동기식 S-R 방아쇠 회로에서 동기 입구 단자 CK의 기능을 설명하여라.
3. S-R 방아쇠 회로의 입구 CK, S, R에 그림 4-40과 같은 신호가 작용할 때 출구 Q, \bar{Q} 의 변화상태를 파형으로 그려라.

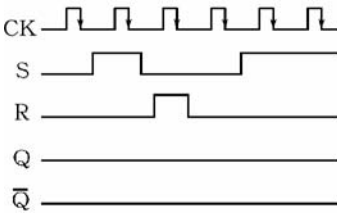


그림 4-40. S-R방아쇠회로의 동작파형

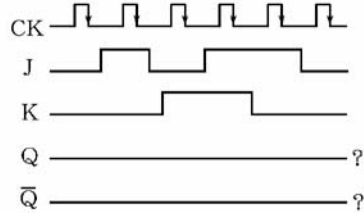


그림 4-41. J-K방아쇠회로의 동작파형

4. S-R 방아쇠 회로와 J-K 방아쇠 회로의 동작에서의 차이점을 말하여라.
5. J-K 방아쇠 회로의 입구 CK, J, K에 그림 4-41에서와 같은 신호가 작용할 때 출구 Q, \bar{Q} 의 변화상태를 파형으로 그려라.
6. 집적 회로 7476에서 PR, CLR 단자들의 기능을 설명하여라.
7. T 방아쇠 회로 2개를 리용하여 주파수를 4분의 1로 떨어뜨리는 회로를 만들어라.
8. 발진 주파수가 32 768Hz인 신호를 주파수가 1Hz인 신호로 만들자면 T 방아쇠 회로를 몇 개 써야 하는가?
9. 그림 4-42에 보여준 것처럼 D 방아쇠 회로의 입구에 신호가 작용할 때 출구 Q, \bar{Q} 의 변화를 파형으로 그려라.

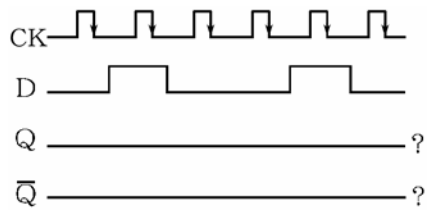


그림 4-42. D방아쇠회로의 동작파형

제5절. 등록기

컴퓨터와 같은 수자장치들에서는 연산을 위한 자료나 결과 등을 림시로 보관해두기 위한 기억회로들이 필요하다. 이를 위하여 등록기라는 기억회로를 리용하게 된다.

등록기란 2진수자료들을 일시적으로 기억할수도 있고 꺼낼수도 있는 방아쇠회로의 묶음을 말한다.

등록기는 기억용량이 작은 기억장치라고도 말할수 있다.

등록기는 동작방식에 따라 병렬등록기와 직렬등록기로 나눈다.

1. 병렬등록기

1) 회로구성

병렬등록기란 2진수자료를 병렬로 동시에 넣거나 꺼낼수 있는 등록기를 말한다.

그림 4-43에 4개의 S-R방아쇠회로와 4개의 논리곱하기회로로 구성된 4bit병렬등록기를 보여주고있다.

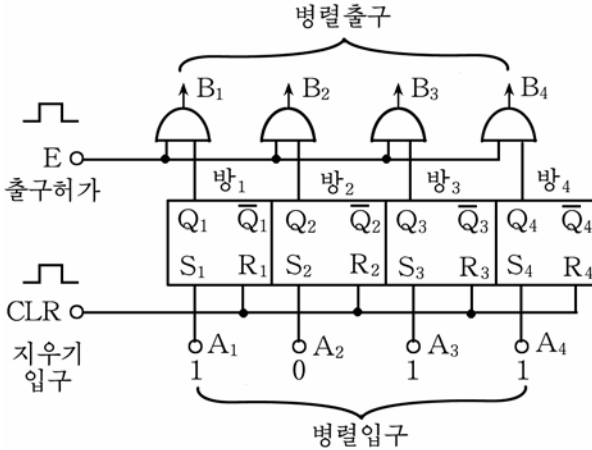


그림 4-43. 4bit병렬등록기

회로에서 $A_1 \sim A_4$ 는 4자리씩 2진수자료를 받아들이기 위한 자료입구단자이고 $B_1 \sim B_4$ 는 방아쇠회로에 기억된 자료를 내보내는 자료출구단자이다. 그리고 CLR는 방아쇠회로를 0상태로 만들기 위한 지우기신호입구단자이며 E는 출구허가단자로서 자료출구허가임펄스를 입구시키는데 쓴다.

2) 동작원리

등록기에 자료를 기억시키기 위해서는 먼저 지우기임펄스 즉 CLR=1을 넣어준다. 그러면 모든 방아쇠회로들이 다 0상태($Q_1=Q_2=Q_3=Q_4=0$)로 된다.

다음 병렬입구에 4자리2진수 실례로 $A_1=1, A_2=0, A_3=1, A_4=1$ 을 넣어준다. 그러면 방아쇠회로의 출구 $Q_1 \sim Q_4$ 에는 4bit자료 1011이 그대로 설정(기억)된다.

등록기에 기억된 자료를 꺼내기 위해서는 출구허가단자 E에 출구허가임펄스 E=1을 입구시킨다. 그러면 논리곱하기회로의 동작(두 입구가운데서

한 입구가 1이면 출구값은 다른 입구값에 의하여 결정된다.)에 의하여 방아쇠회로들의 출구값 $Q_1 \sim Q_4$ 가 출구단자 $B_1 \sim B_4$ 에 출구된다. 따라서 $B_1=1$, $B_2=0$, $B_3=1$, $B_4=1$ 로 된다.

이와 같은 원리에 의하여 8자리, 16자리 등의 2진수를 기억하는 등록기도 만들수 있다.

2. 직렬등록기

1) 회로구성

직렬등록기는 2진수자료를 하나씩 차례로 넣거나 꺼낼수 있도록 구성된 등록기이다.

그림 4-44에는 D방아쇠회로로 구성된 4bit직렬등록기를 보여주었다.

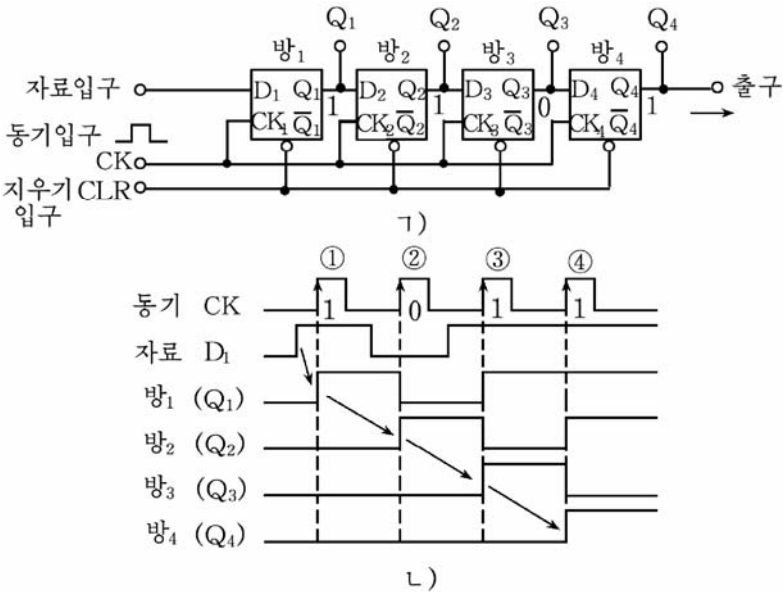


그림 4-44. 4bit직렬등록기회로(Γ)와 동작파형(L)

매 방아쇠회로의 출구 Q 는 다음 방아쇠회로의 입구 D 에 이어져있다. 등록기의 입구는 D_1 이며 출구는 Q_4 이다. CK 는 동기임펄스단자이다.

2) 동작원리

회로에서 매 방아쇠회로의 입구 D 의 신호는 박자임펄스 CK 가 0에서 1로 변할 때 다음단으로 옮겨진다. 즉 동기임펄스 CK 가 0으로 될

때마다 입구 D_1 은 다음 입구 D_2 에, D_2 은 D_3 에, D_3 은 D_4 에, D_4 는 Q_4 에 상태를 넘긴다.

실례로 직렬등록기에 2진수자료 1101을 $Q_1=1, Q_2=1, Q_3=0, Q_4=1$ 이 되게 기억시키려 한다고 하자.

먼저 지우기입구단자 CLR에 신호 0을 넣어 모든 방아쇠회로들을 0상태로 만든다.

등록기의 입구 D_1 에 자료 1101을 제일 낮은 자리의 수부터 동기임펄스에 맞추어 하나씩 넣는다. 그러면 첫 동기임펄스(그림 4-44의 \neg)에서 ①의 오름면에서 제일 낮은 자리의 수 1이 방₁에 들어간다. 이때 $Q_1=1, Q_2=Q_3=Q_4=0$ 으로 된다.

두번째 동기임펄스의 오름면에서 방₁은 방₂에 자기의 내용을 넘겨 주고 자기는 두번째 자리의 수 0을 받는다. 이때 $Q_1=0, Q_2=1, Q_3=Q_4=0$ 으로 된다. 마찬가지로 세번째 동기임펄스가 들어오면 $Q_1=1, Q_2=0, Q_3=1, Q_4=0$ 으로 된다.

네번째 동기임펄스의 오름면에서 등록기는 $Q_1=1, Q_2=1, Q_3=0, Q_4=1$ 로 된다.

이런 직렬등록기에서는 동기임펄스에 따라 입구자료를 마치 오른쪽으로 하나씩 밀어주는것과 같이 동작하므로 직렬등록기를 **밀기등록기**라고도 한다.

이 직렬등록기에 기억된 자료를 꺼내기 위해서는 동기입구에 4개의 동기임펄스를 주어야 한다. 그러면 출구 Q_4 로 본래의 입구자료와 똑같은 형태(1101)를 가진 직렬자료가 밀리워나온다.

만일 병렬출구 $Q_1 \sim Q_4$ 을 리용하면 직렬등록기에 기억된 자료를 병렬로 읽어낼수 있다. 이와 같이 이 등록기는 직렬입구-직렬출구, 직렬입구-병렬출구의 기능을 가진다.

연습문제

1. J-K방아쇠회로(비동기식)를 리용하여 4bit병렬등록기의 회로를 구성하여라.
2. 8bit직렬등록기에 8bit자료를 넣었다가 꺼내는데 필요한 동기임펄스의 개수는 몇개인가?
3. 4bit직렬등록기의 내용이 0110이다. 두개의 동기임펄스가 작용하였을 때 등록기의 내용은 어떻게 되겠는가?

이것을 실현할 회로 즉 반더하기회로는 그림 4-45와 같다.

반더하기회로는 두 2진수 A, B를 단순히 더하기만 하고 아래자리에서 올라올수 있는 자리올림수는 고려하지 않았으므로 완전한 더하기회로로 되지 못한다.

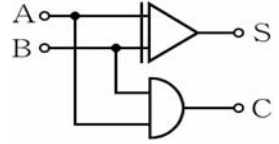


그림 4-45. 반더하기회로

2. 옹근더하기회로

아래자리에서 올라오는 자리올림수까지 고려한 더하기의 실례를 들어보자.

두 수 A=11, B=01의 더하기는

$$\begin{array}{r}
 1\ 1\ \cdots\cdots\ A \\
 0\ 1\ \cdots\cdots\ B \\
 +) \textcircled{1}\ \textcircled{1}\ \cdots\cdots\ C \\
 \hline
 1\ 0\ 0\ \cdots\cdots\ S
 \end{array}$$

로 된다.

첫 자리의 연산에서는 자리올림수를 고려하지 않아도 된다.

그러나 둘째 자리의 연산에서는 첫 자리의 연산에서 생긴 자리올림수까지 고려하여 더하기가 진행된다.

아래자리로부터 올라오는 자리올림수(C_{n-1})를 고려한 더하기 회로를 **옹근더하기회로**라고 부른다. (그림 4-46)

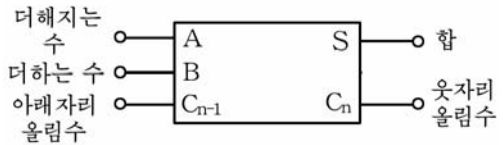


그림 4-46. 옹근더하기회로의 기호표시

옹근더하기회로에 대한 진리값표는 표 4-16과 같다.

옹근더하기회로의 진리값표

표 4-16

아래 자리 올림수	더해지는 수	더하는 수	합	웃자리 올림수
C_{n-1}	A	B	S	C_n
0	0	0	0	0
0	0	1	1	0
0	1	0	1	0
0	1	1	0	1
1	0	0	1	0
1	0	1	0	1
1	1	0	0	1
1	1	1	1	1

표에서 $C_{n-1}=0$ 은 아래자리로부터의 자리올림이 없을 때이며 $C_{n-1}=1$ 은 자리올림이 있을 때이다.

이 진리값표를 만족하는 옹근더하기회로는 그림 4-47과 같다.

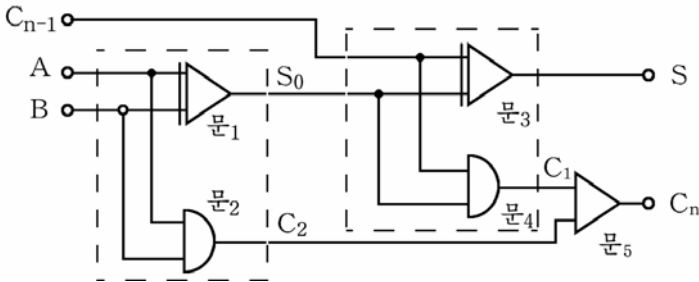


그림 4-47. 옹근더하기회로

이 회로는 반더하기회로 2개와 론리더하기회로 1개로 이루어져있다. 이 회로가 표 4-16의 진리값표를 만족하는 옹근더하기회로가 되는가를 보기로 하자.

먼저 옹근더하기회로의 입구가 $C_{n-1}=1, A=1, B=1$ 일 때를 보자.

이 경우에 문1의 출구 $S_0=0$ (문1의 입구가 모두 1이므로)

문2의 출구 $C_2=1$ (문2의 입구가 모두 1이므로)

문3의 출구 $S=1$ (문3의 입구가 $C_{n-1}=1, S_0=0$ 이므로)

문4의 출구 $C_1=0$ (문4의 입구가 $C_{n-1}=1, S_0=0$ 이므로)

문5의 출구 $C_n=1$ (문5의 입구가 $C_1=0, C_2=1$ 이므로)

로 되어 진리값표에서의 결과($S=C_n=1$)와 같다.

이와 같은 방법으로 따져보면 옹근더하기회로의 입구 C_{n-1}, A, B 가 000, 001, 010, ...일 때 진리값표에서와 같은 결과 (S, C_n)를 얻을 수 있다.

3. 여러자리더하기회로

실례로 4자리로 된 2진수의 더하기연산은

$$\begin{array}{r}
 A_4 \ A_3 \ A_2 \ A_1 \ \cdots \text{ 더해지는수} \\
 B_4 \ B_3 \ B_2 \ B_1 \ \cdots \text{ 더하는수} \\
 +) \ C_4 \ C_3 \ C_2 \ C_1 \ C_0 \ \cdots \text{ 아래 자리 올림수} \\
 \hline
 C_4 \ S_4 \ S_3 \ S_2 \ S_1 \ \cdots \text{ 합}
 \end{array}$$

과 같이 진행된다.

이런 기능을 수행하는 더하기연산회로에는 직렬형과 병렬형이 있다.

1) 직렬더하기회로

그림 4-48에는 옹근더하기회로(Σ)와 등록기로 구성된 직렬더하기 회로를 보여주었다.

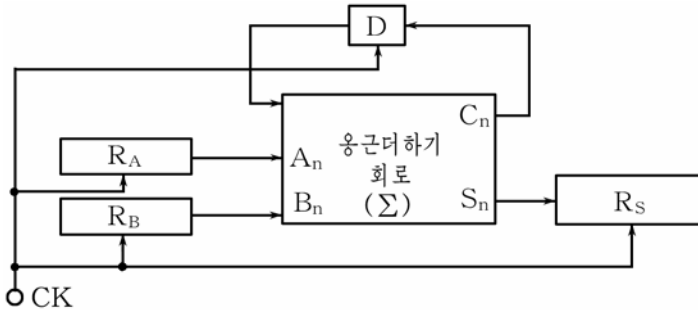


그림 4-48. 직렬더하기회로

회로에서 R_A 는 더해지는 수등록기, R_B 는 더하는 수등록기이고 R_S 는 합등록기이다. 등록기 R_A 와 R_B 는 제일 낮은 자리가 옹근더하기회로의 A_n , B_n 단자에 연결되며 R_S 는 제일 높은 자리가 S_n 에 연결된다. 세 등록기는 모두 동기임펄스(CK)에 의하여 등록기내용을 오른쪽으로 한자리씩 옮기는 밀기등록기로 되어있다.

지연방아쇠회로 D는 아래자리더하기연산에서 생기는 자리올림수 C_n 을 다음자리연산시작신호(동기임펄스)에 의하여 옹근더하기회로의 자리올림수입구단자로 돌려보내는 한자리(1bit)지연회로의 역할을 한다.

직렬더하기회로의 더하기원리를 보자.

례를 들어 $A=1010$ (10진수 10), $B=0011$ (10진수 3)이라고 하면 첫 동기임펄스에 의하여 A의 제일 낮은 자리의 수 0과 B의 제일 낮은 자리의 수 1이 더하기회로에 들어가므로 $C_n=0$, $S_n=1$ 로 되면서 R_S 의 자리에 1이 등록된다.

두번째 동기임펄스에 의하여 세 등록기의 내용은 한자리 오른쪽으로 이동한다. 더하기회로는 A의 두번째 낮은 자리의 수 1과 B의 두번째 낮은 자리의 수 1을 더한다. 이때 $S_n=0$ 으로 되므로 R_S 의 제일 높은 자리에는 0이 등록되며 $C_n=1$ 로 된다.

세번째 동기임펄스에 의하여 세 등록기는 또다시 오른쪽으로 한자리 옮겨간다. 그러면 $A_n=0$, $B_n=0$ 이지만 D에 들어간 올림수 1이 작용

하여 $S_n=1$ 로 되고 $C_n=0$ 으로 된다.

네번째 동기임펄스에 의하여 $A_n=1$, $B_n=0$, 올림수 0이 작용하여 $C_n=0$, $S_n=1$ 로 된다. 그리하여 합등록기 R_S 에는 1101(10진수의 13)이 등록된다.

직렬더하기회로는 회로가 간단한 우점이 있는 반면에 여러자리수를 더할 때에 더하는 시간이 길어지는 결함이 있다. 그러므로 직렬더하기회로는 계산시간이 크게 문제로 되지 않고 설비가 작아야 할 장치들에서 주로 쓴다.

2) 병렬더하기회로

실례로 4bit병렬더하기회로를 보기로 하자. (그림 4-49)

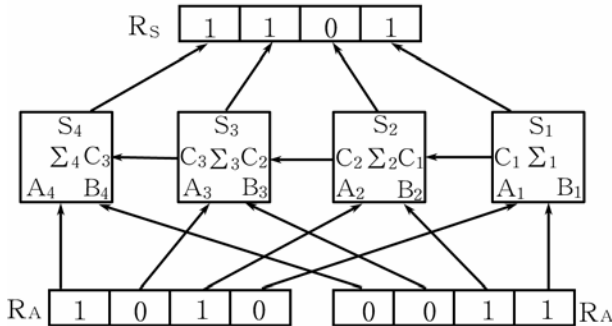


그림 4-49. 병렬더하기회로

회로는 4개의 올림수더하기회로와 더해지는 수등록기 R_A , 더하는 수등록기 R_B , 합등록기 R_S 로 구성되었다.

등록기 R_A, R_B 의 병렬출구단자들은 올림수더하기회로들의 해당한 입구단자들에 연결되며 등록기 R_S 의 병렬입구단자들은 올림수더하기회로들의 출구와 연결된다.

더해지는수를 등록기 R_A , 더하는수를 등록기 R_B 에 설정하면 더하기회로의 연산결과는 등록기 R_S 에 등록된다.

실례로 $R_A=1010$ (10진수의 10), $R_B=0011$ (10진수의 3)의 더하기는 다음과 같이 수행된다.

올림수더하기회로에서는 Σ_1 에서는 R_A 와 R_B 의 제일 낮은 자리의 수 0, 1을 더하여 합 $S_1=1$ 은 R_S 의 제일 낮은 자리에, 올림수 $C_2=1$ 은 Σ_2 의 C_1 단자에 보낸다.

옹근더하기회로 Σ_2 에서는 R_A 와 R_B 의 둘째 자리의 수 1, 1과 아래 자리올림수 $C_2=0$ 을 더하여 합 $S_2=0$ 은 R_S 의 둘째 낮은 자리에, 올림수 $C_2=1$ 은 Σ_3 의 C_2 단자에 보낸다.

옹근더하기회로 Σ_3 에서는 R_A 와 R_B 의 셋째 자리의 수 0, 0과 아래 자리의 올림수 $C_2=1$ 을 더하여 합 $S_3=1$ 은 R_S 의 셋째 자리에, 올림수 $C_3=0$ 은 Σ_4 의 C_3 단자에 보낸다.

옹근더하기회로 Σ_4 에서는 R_A 와 R_B 의 제일 웃자리의 수 1, 0과 아래 자리올림수 $C_3=0$ 을 더하여 합 $S_4=1$ 을 R_S 의 제일 웃자리에 보낸다. 이때 $C_4=0$ 으로 된다.

그리하여 합등록기 $R_S=1101$ (10진수의 13)로 된다.

옹근더하기집적회로 7483을 보기로 하자. (그림 4-50)

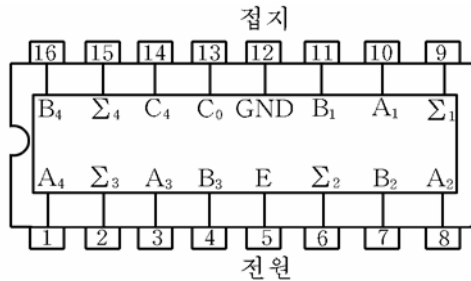


그림 4-50. 4bit옹근더하기집적회로 7483의 단자기능도

A_1, A_2, A_3, A_4 및 B_1, B_2, B_3, B_4 는 2개의 네 자리 2진수 입구 단자들이며 C_0 은 아래 자리에서 올라오는 올림수 입구 단자이다.

$\Sigma_1, \Sigma_2, \Sigma_3, \Sigma_4$ 는 내부에 있는 4개의 옹근더하기회로의 합출구 단자이며 C_4 는 네번째 자리 올림수 출구 단자이다. 올림수 C_1, C_2, C_3 의 연결은 내부에서 하였다.

연습문제

1. 옹근더하기회로에서 입구 $A=1, B=0, C_{n-1}=1$ 일 때 출구 $S=0, C_n=1$ 로 되는 과정을 설명하여라.
2. 직렬더하기회로에서 $A=1011, B=0001$ 이다. 2개의 동기임펄스가 작용하였을 때 합등록기 R_S 의 내용은 어떻게 되겠는가?
3. 위의 문제에서 세번째 동기임펄스가 작용한 후 합등록기 R_S 의 내용은 어떻게 되겠는가?
4. 병렬더하기회로에서 $A=1001, B=0011$ 일 때 합등록기 R_S 의 내용은 어떻게 되겠는가?

제7절. 부호기

컴퓨터안에서는 2진수의 형태로 연산이 진행된다. 그러므로 10진 수나 기호, 문자 등을 2진수로 변환하여 컴퓨터의 내부에 넣어주어야 한다.

어떤 수나 기호를 2진수로 변환하는것을 부호화(암호화)한다고 하며 이것을 실현하는 회로를 부호기라고 부른다.

여기서는 10진수를 2진수로 변환하는 10진부호기에 대해서만 보기로 한다.

1. 2극소자10진부호기

먼저 그림 4-51과 같이 2극소자를 써서 구성한 10진부호기에 대하여 보자.

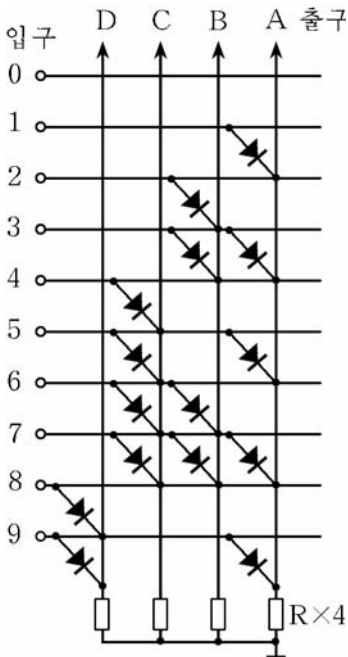


그림 4-51. 2극소자10진부호기

10진부호기의 진리값표 표 4-17

입구 (10진수)	출구(2진수)			
	D	C	B	A
0	0	0	0	0
1	0	0	0	1
2	0	0	1	0
3	0	0	1	1
4	0	1	0	0
5	0	1	0	1
6	0	1	1	0
7	0	1	1	1
8	1	0	0	0
9	1	0	0	1

이 부호기의 입구는 0~9이며 출구는 A~D이다.

실례로 부호기의 입구 <3>에 신호 1(+5V)이 가해지면 2극소자를 거쳐 출구 A 및 B에 신호 1이 나타나므로 출구 DCBA=0011로 된다.

다른 실례로 입구 <5>에 신호 1을 주면 2극소자를 거쳐 출구 A 및 C에 신호 1이 나타나므로 출구 DCBA=0101로 된다.

다른 입구들에도 신호 1을 넣어보면 표 4-17과 같은 진리값표가 얻어진다.

2. 논리회로를 리용한 10진부호기

론기곱하기부정회로와 반전기로 구성된 10진부호기를 그림 4-52에 보여주었다.

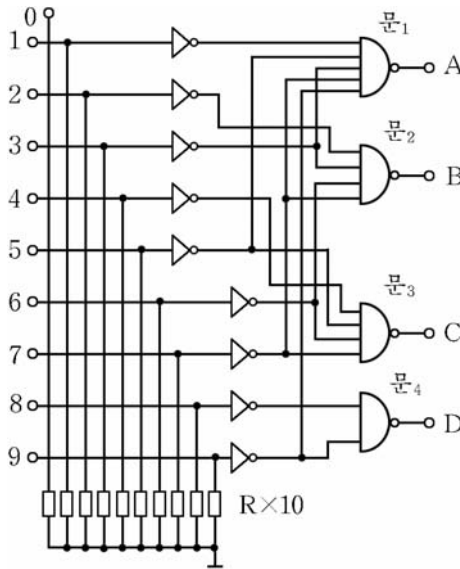


그림 4-52. 논리회로를 리용한 10진부호기

부호기의 입구 <3>에 신호 1을 넣으면 그것은 반전기를 거치면서 0으로 되어 문₁, 문₂의 입구로 들어간다. 따라서 문₁과 문₂의 출구는 각각 1로 된다.

한편 입구 <3>을 제외한 나머지 입구는 모두 0이므로 문₃과 문₄

의 입구는 모두 1로 되어 그의 출구는 0으로 된다. 결국 입구 <3>에 신호 1을 넣으면 부호기의 출구 DCBA=0011로 된다.

다른 실례로 입구 <5>에 신호 1을 넣으면 이 신호는 0으로 반전되어 문₁과 문₃의 입구에 들어가므로 출구 A와 C는 1로 되며 나머지 출구 B, D는 0으로 된다. 즉 입구 <5>에 신호를 넣으면 부호기의 출구 DCBA=0101로 된다.

이 경우에도 진리값표는 표 4-17과 같다.

다음은 10진부호기집적회로 74147을 보자. (그림 4-53)

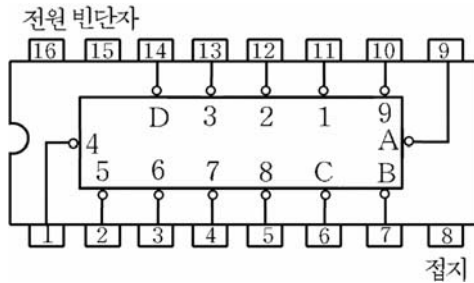


그림 4-53. 부호기집적회로 74147의 단자기능도

A, B, C, D는 2진수출구이고 1, 2, 3, 4, 5, 6, 7, 8, 9는 10진수입구이다.

이 집적회로는 0상태가 능동이기때문에 1과 0의 관계가 표 4-16에서와는 반대로 된다는것을 주의해야 한다.

실례로 입구 <5>에 신호 0을 넣으면 출구 DCBA=1010으로 된다.

연습문제

1. 그림 4-52의 회로에서 입구 <7>에 신호 1을 넣을 때 출구에 10진부호가 얻어지는 과정을 설명하여라.
2. 그림 4-52의 회로에서 출구 DCBA=0100으로 되기 위해서는 어느 입구에 어떤 준위의 신호를 주어야 하는가?

제8절. 해신기

2진부호(암호화된 수)를 그에 대응하는 수(원래의 수)로 변환하는 과정을 해신기라고 하며 이것을 실현하는 회로를 해신기라고 부른다. 해신은 부호화의 반대과정이다.

해신기는 입구에 넣는 2진수신호에 따라 여러개의 출구가운데서 어느 하나만을 선택한다.

해신기는 부호기와 함께 컴퓨터, 원격조종장치, 정보전송장치 등에서 널리 쓰인다.

1. 2ⁿ진해신기

이것은 n자리의 입구에 대하여 2ⁿ개의 출구를 가지는 해신기이다. 즉 2진수의 자리수를 n이라고 하고 출구를 m이라고 하면 다음의 관계가 성립한다.

$$m=2^n$$

례를 들어 2개의 입구를 가진 2ⁿ진해신기의 출구수는 2²=4이고 3개의 입구를 가진 해신기의 출구수는 2³=8이다.

1) 2입구4출구해신기(4진해신기)

입구에 넣는 두자리의 2진수신호에 따라 4개의 출구가운데서 어느 하나를 선택하는 해신기이다.

그림 4-54에는 논리곱하기회로와 반전기로 구성된 2입구4출구해신기의 회로를 보여주었다.

입구 A, B에 넣는 두자리의 2진수 00, 01, 10, 11에 따라서 어느 출구가 선택되는가를 보자.

- AB=00이면 문₀의 입구에만 모두 1이 들어가 Y₀은 1로 되고 문₁, 문₂, 문₃에는 0과 1이 섞여들어가므로 그것들의 출구 Y₁, Y₂, Y₃은 모두 0으로 된다.

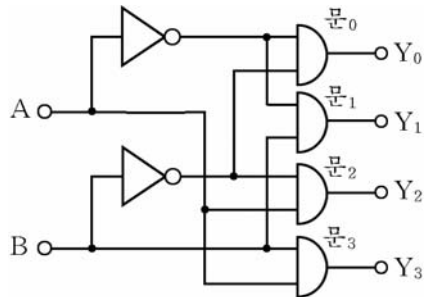


그림 4-54. 2입구4출구해신기

- AB=01이면 문₁의 입구에만 모두 1이 들어가고 문₀과 문₂, 문₃

의 입구에는 0과 1이 섞여들어간다. 따라서 문₁의 출구 $Y_1=1$ 이고 나머지 문회로의 출구 $Y_0=Y_2=Y_3=0$ 이다.

• $AB=10$ 이면 문₂의 입구에만 모두 1이 들어가고 문₀, 문₁, 문₃의 입구에는 0과 1이 섞여들어간다. 그러므로 문₂의 출구 $Y_2=1$ 이고 나머지 문회로의 출구 $Y_0=Y_1=Y_3=0$ 이다.

• $AB=11$ 이면 문₃의 입구에만 모두 1이 들어가 그의 출구 $Y_3=1$ 이고 나머지 문회로의 출구 $Y_0=Y_1=Y_2=0$ 으로 된다.

이 내용을 진리값표로 쓰면 표 4-18과 같다.

2입구4출구해신기의 진리값표 표 4-18

입 구		출 구			
A	B	Y_0	Y_1	Y_2	Y_3
0	0	1	0	0	0
0	1	0	1	0	0
1	0	0	0	1	0
1	1	0	0	0	1

진리값표에서 보는바와 같이 2입구4출구해신기는 입구에 넣는 2자리의 2진수신호에 따라 4개의 출구가운데서 어느 한 출구만을 선택한다.

2) 3입구8출구해신기(8진해신기)

이 해신기는 입구에 넣는 3자리의 2진수신호에 따라 8개의 출구가운데서 어느 하나만을 선택하는 해신기이다.

여기서는 3입구8출구해신집적회로 74138에 대해서 보기로 하자.(그림 4-55)

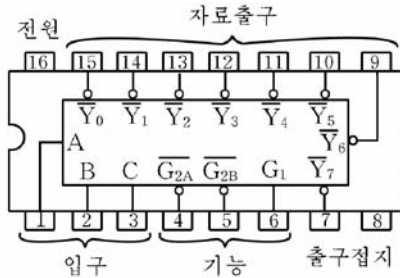


그림 4-55. 3입구8출구해신소자 74138의 단자기능도

A, B, C는 3자리의 2진수신호를 넣기 위한 입구단자이며 $\overline{Y_0} \sim \overline{Y_7}$ 은 출구단자이다.

이 해신기에는 해신기의 동작을 조종하기 위한 동작허용입구단자 G_1 , $\overline{G_{2A}}$, $\overline{G_{2B}}$ 가 있다.

이 해신기의 동작을 진리값표로 보면 표 4-19에서와 같다.

해신기가 동작가능하게 하자면 동작허용입구단자들을 $G_1=1$, $\overline{G_{2A}}=\overline{G_{2B}}=0$ 으로 해놓아야 한다.

다음 해신기의 입구 CBA에 000을 넣으면 0번 출구 $\overline{Y_0}$ 이 선택되며 001을 넣으면 1번 출구 $\overline{Y_1}$ 이 선택된다.

이와 같이 이 해신기는 입구에 3자리의 2진신호를 넣는데 따라 8개의 출구 가운데서 어느 한 출구를 선택한다.

표 4-19와 같은 진리값표에서 보는바와 같이 동작허용입구가 $G_1=1$, $\overline{G_{2A}}=\overline{G_{2B}}=0$ 과 다르면 출구가 모두 1로 되어 해신동작을 하지 못한다.

해신집적회로 74138의 진리값표

표 4-19

입 구						출 구							
C	B	A	G_1	$\overline{G_{2A}}$	$\overline{G_{2B}}$	$\overline{Y_0}$	$\overline{Y_1}$	$\overline{Y_2}$	$\overline{Y_3}$	$\overline{Y_4}$	$\overline{Y_5}$	$\overline{Y_6}$	$\overline{Y_7}$
0	0	0	1	0	0	0	1	1	1	1	1	1	1
0	0	1	1	0	0	1	0	1	1	1	1	1	1
0	1	0	1	0	0	1	1	0	1	1	1	1	1
0	1	1	1	0	0	1	1	1	0	1	1	1	1
1	0	0	1	0	0	1	1	1	1	0	1	1	1
1	0	1	1	0	0	1	1	1	1	1	0	1	1
1	1	0	1	0	0	1	1	1	1	1	1	0	1
1	1	1	1	0	0	1	1	1	1	1	1	1	0
∇	∇	∇	∇	1	1	1	1	1	1	1	1	1	1
∇	∇	∇	0	∇	∇	1	1	1	1	1	1	1	1

진리값표에서 표시 ∇는 1, 0가운데서 임의의 값을 가진다는것을 의미한다.

2. 10진해신기

10진해신기는 2진수렬을 10진수로 변환하는 해신기이다.

이 해신기는 입구에 넣는 4자리의 2진수신호에 따라 10개의 출구 가운데서 어느 한 출구가 선택된다.

10진해신기의 회로는 논리곱하기부정회로와 반전기로 구성할수 있다.(그림 4-56)

회로에서 A, B, C, D 는 2진수입구단자이고 0~9 는 10진수출구단자이다.

입구 ABCD에 0000, 0001, 0010, ...의 신호를 넣는데 따라 어느 출구가 선택되는가를 보자.

입구 ABCD에 0000신호를 넣으면 논리곱하기부정회로 문₀의 입구에만 모두 1이 들어가 그의 출구가 0이 되고 나머지 문회로들의 입구에는 0, 1이 섞여들어 가 그 출구는 1로 된다.

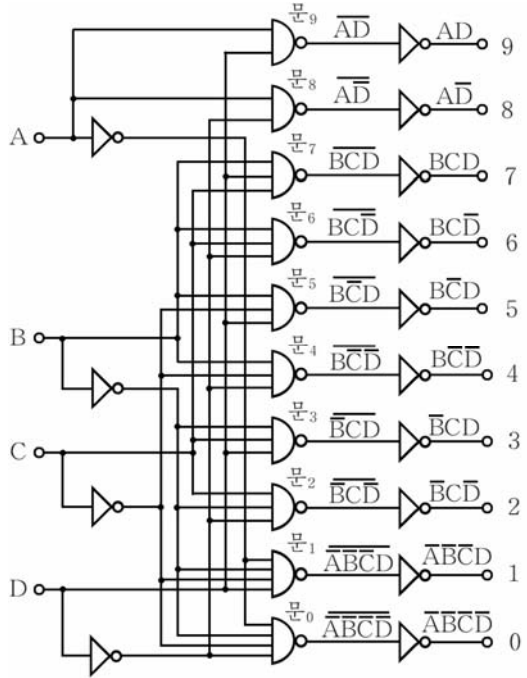


그림 4-56. 10진해신기회로

10진해신기의 진리값표

표 4-20

2진수(입구)				10진수(출구)									
A	B	C	D	0	1	2	3	4	5	6	7	8	9
0	0	0	0	1	0	0	0	0	0	0	0	0	0
0	0	0	1	0	1	0	0	0	0	0	0	0	0
0	0	1	0	0	0	1	0	0	0	0	0	0	0
0	0	1	1	0	0	0	1	0	0	0	0	0	0
0	1	0	0	0	0	0	0	1	0	0	0	0	0
0	1	0	1	0	0	0	0	0	1	0	0	0	0
0	1	1	0	0	0	0	0	0	0	1	0	0	0
0	1	1	1	0	0	0	0	0	0	0	1	0	0
1	0	0	0	0	0	0	0	0	0	0	0	1	0
1	0	0	1	0	0	0	0	0	0	0	0	0	1

입구 ABCD에 0001신호를 넣으면 문₁의 입구에만 모두 1이 들어가고 나머지 문회로들에는 0, 1이 섞여들어간다. 그러므로 문₁의 출구는 1로 된다.

이 신호들이 반전기를 거치면 입구신호에 따르는 해신기의 출구상태는 표 4-20과 같이 된다.

그림 4-57에는 10진해신집적회로의 하나인 74141의 단자기능도를 보여주었다.

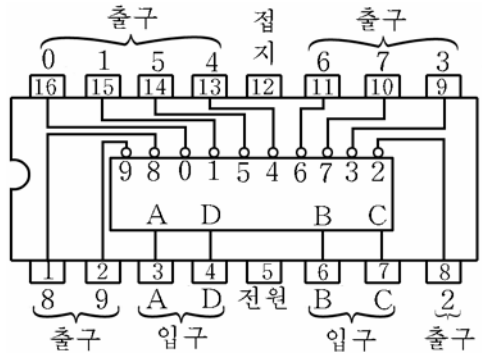


그림 4-57. 10진해신집적회로 74141의 단자기능도

3. 7쪼각해신기

1) 수자표시소자

수자식장치들에는 내부에서 처리된 결과를 사람의 눈으로 볼수 있도록 하기 위하여 수자표시장치를 쓴다.

소수점이 있는 7쪼각수자표시소자의 실례를 그림 4-58에 보여주고 있다.

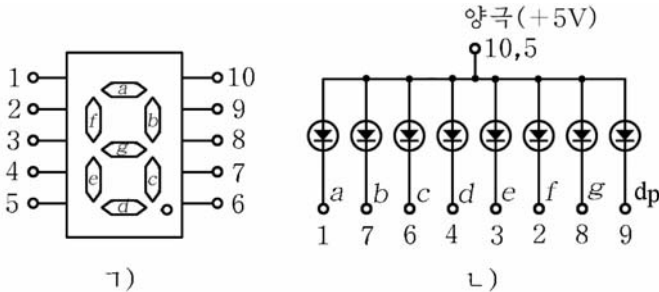


그림 4-58. 수자표시소자
 ㄱ) 외부구조, ㄴ) 내부구조

쪼각 a, b, c, d, e, f, g로 0~9의 10진수를 표시하며 쪼각 dp는 소수점을 표시한다.

실례로 10진수 3을 표시하려면 쪼각 a, b, c, d, g만 불이 오게 하여야 한다. 이를 위하여 단자 10(양극)에 <+>전압을 주고 단자 1(a), 7(b), 6(c), 4(d), 8(g)는 접지(0전위)시킨다.

2) 7조각해신소자 7447

이 소자는 7조각수자표시소자를 구동하기 위한 해신소자이다. 먼저 7조각해신회로의 원리를 보기로 하자. (그림 4-59)

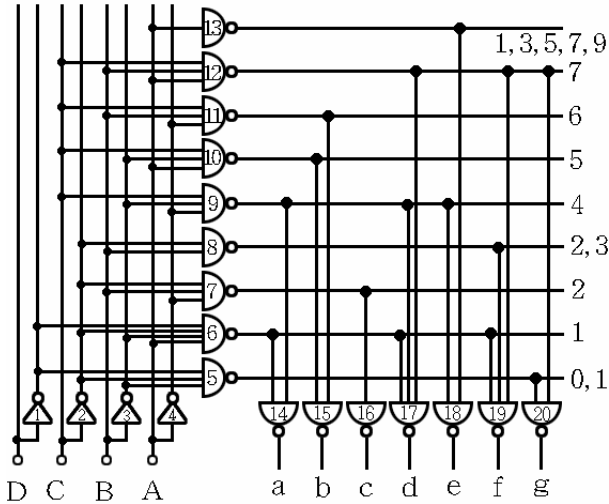


그림 4-59. 7진해신기회로

회로에는 2진수자료를 넣기 위한 4개의 입구 A, B, C, D와 조각구동을 위한 7개의 출구 a~g가 있다.

회로는 논리곱하기부정회로와 반전기로 이루어져있다.

먼저 입구 DCBA=0000의 경우를 보기로 하자.

이때 반전기 문₁~문₄의 출구는 모두 1이다. 그러면 논리곱하기부정회로 문₅~문₁₃에서 문₅의 입구에만 모두 1이 들어가 0이 되고 나머지는 0과 1이 섞여들어가므로 그 출구는 모두 1이다.

이때 문₅와 문₁₂에서 나온 0과 1은 출구 g를 가진 논리곱하기부정회로 문₂₀의 입구에 들어간다. 그러므로 그의 출구 g=1로 되고 나머지 문₁₄~문₁₉의 입구에는 모두 1, 1이 들어가 출구 a~f는 0이 된다. 이것은 수자표시소자에서 조각 a~f(수자 0)를 직접 켤수 있는 신호로 된다.

다음으로 해신회로의 입구에 DCBA=0110(10진수 6)을 넣는 경우를 보자.

문₅~문₁₃가운데서 문₁₁만이 입구에 모두 1이 들어가 그 출구가 0으로 되고 나머지는 0과 1이 섞여들어가므로 그 출구는 모두 1로 된다.

론리곱하기부정회로 문₁₁과 문₁₀의 출구에서 나온 0, 1은 출구 b를 가진 론리곱하기부정회로 문₁₅의 입구에 들어간다. 입구에 0, 1이 들어가므로 그 출구는 b=1이 되고 나머지는 모두 1이 들어가 0이 나온다. 그리하여 10진수 6을 표시하는 출구신호가 얻어진다. 이와 같은 원리로 따져보면 입구 DCBA가 0000, 0001, 0010, ... 일 때 출구신호는 표 4-21과 같다.

7조각해신기의 진리값표

표 4-21

입구(2진수)				출 구							10진수
D	C	B	A	a	b	c	d	e	f	g	
0	0	0	0	0	0	0	0	0	0	1	0
0	0	0	1	1	0	0	1	1	1	1	1
0	0	1	0	0	0	1	0	0	1	0	2
0	0	1	1	0	0	0	0	1	1	0	3
0	1	0	0	1	0	0	1	1	0	0	4
0	1	0	1	0	1	0	0	1	0	0	5
0	1	1	0	0	1	0	0	0	0	0	6
0	1	1	1	1	0	0	1	1	1	1	7
1	0	0	0	0	0	0	0	0	0	0	8
1	0	0	1	0	0	0	0	1	0	0	9

그림 4-60에는 널리 쓰이는 7조각해신집적회로 7447의 단자배치를 보여주고있다.

A, B, C, D는 2진수입구단자이며 a, b, c, d, e, f, g는 출구단자이다.

LT는 표시등검사를 위한 시험신호입구단자인데 이 신호가 0이면 해신기의 모든 출구가 0이 되어 7조각전체가 불이 오는가를 검사할수 있다.

정상동작일 때는 LT=1로 놓는다.

RBI는 령점화조종입구, RBO는 령점화조종출구단자이다.

이 단자들의 기능은 세자리의 10진수를 표시할 때 그 내용이 <005>라고 하면 웃자리에 있는 00을 표시하지 않고 <5>만 표시할수 있게 하기 위한것이다.

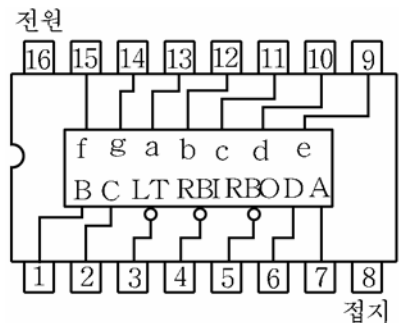


그림 4-60. 7조각해신소자 7447의 단자기능도

입구 ABCD가 모두 령일 때 표시소자에는 <0>이 표시되어야 한다. 그러나 이때 령점화조종입구 RBI=0으로 해놓으면 출구 a~g가 모두 1로 되어 표시소자에는 <0>이 나타나지 않는다.(즉 점화되지 않는다.)

이때 령점화조종출구 RBO에는 0이 출구된다. 이 신호는 다른 해신집적회로의 령점화조종입구신호로 쓸수 있다.

시험조종과 령점화조종을 하지 않으려면 LT, RBI, RBO단자를 개방상태에 놓으면 된다.

그림 4-61은 7쪼각해신집적회로 7447을 리용한 세 자리 표시장치의 회로이다.

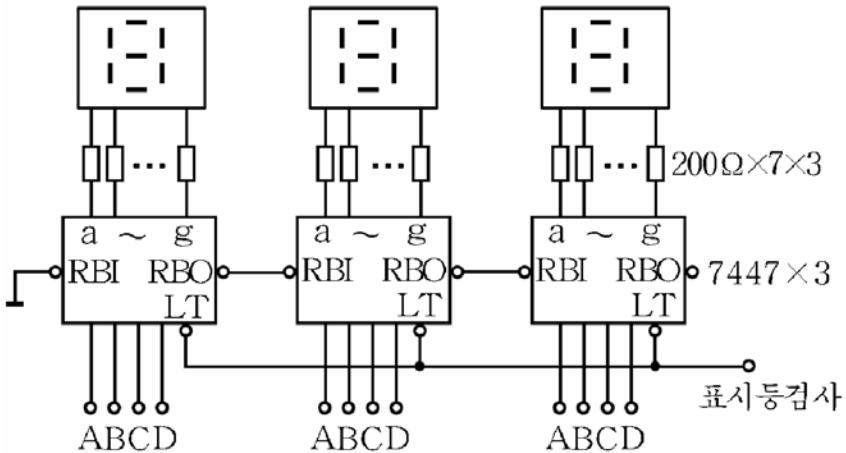


그림 4-61. 수자표시소자와 결합한 7쪼각해신기회로

해신기의 출구와 발광2극소자사이는 200~300Ω정도의 저항을 거쳐서 령결된다.

이것은 전류를 제한하여 소자를 보호하기 위해서이다.

제일 웃자리 해신소자는 령점화조종입구 RBI가 늘 0이므로 령표시는 하지 않는다.

제일 아래자리 해신소자는 RBI와 RBO를 개방시켜놓았으므로 표시내용이 <000>일 때도 제일 아래자리만은 <0>으로 표시되어 아무 표시도 없는 고장상태와 구별할수 있게 한다.

연습문제

1. 그림 4-54에서 보여준 2입구4출구해신회로의 출구유효준위를 0으로 되게 하려면 회로를 어떻게 구성하는가?
2. 해신집적회로 74138의 4번출구(Y_4)를 선택하려면 입구 및 조종단자들에 어떤 신호를 주어야 하는가?
3. 해신집적회로 74141의 7번출구(\overline{Y}_7)를 선택하려면 입구 DCBA에 어떤 신호를 주어야 하는가?
4. 그림 4-59에 보여준 7조각수자표시소자에서 수자 4가 표시되자면 매 단자들에 어떤 신호를 주어야 하겠는가?
5. 7조각해신소자 7447에서 LT, RBI, RBO단자들의 기능을 말하여라.
6. 그림 4-61의 회로에서 표시부에 <123>이 나타나게 하자면 매 해신소자의 입구에 어떤 신호를 주어야 하는가?

제9절. 셴회로

셴회로란 임펄스의 개수를 세는 회로를 말한다. 또는 계수회로라고 부른다.

셴회로는 몇개의 임펄스를 셀수 있는가에 따라 8진셴회로, 10진셴회로, 16진셴회로 등으로 나눈다.

일반적으로 N개의 임펄스가 들어왔을 때 출구에 한개의 임펄스를 내보내고 처음상태로 돌아가는 셴회로를 말한다.(그림 4-62)



그림 4-62. N진셴회로

셴회로는 2진세포(방아쇠회로)들로 구성된다.

1. 2^n 진셴회로

1) 2진세포(2진셴회로)

2진세포는 2개의 임펄스만을 셀수 있는 회로로서 입구에 2개의 임펄스가 들어왔을 때 출구에 한개의 임펄스를 내보내고 처음상태로 돌아간다.

2진세 포로는 하나의 T방아쇠 회로가 될 수 있다. (그림 4-63)

처음 $Q=0$ 상태에 있었다면 첫 임펄스의 내림면(1→0)에서 Q 는 0→1로 된다. 다음 두번째 임펄스가 들어오면 그의 내림면에서 Q 는 1로부터 0으로 되어 처음상태로 되돌아간다.

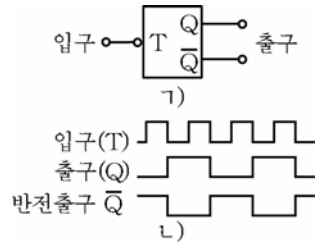


그림 4-63. 2진세포(2진셈회로)

2) 4진셈회로

이것은 입구에 4개의 임펄스가 들어왔을 때 출구에 한개의 임펄스를 내보내고 처음상태로 돌아가는 셈회로이다.

4진셈회로는 T형방아쇠회로 2개를 직렬로 연결하여 구성할 수 있다. (그림 4-64)

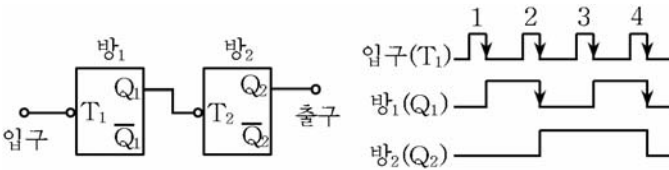


그림 4-64. 4진셈회로(1)와 그 동작파형(L)

처음에 두 방아쇠회로가 모두 0상태 ($Q_1=Q_2=0$)에 있었다고 하자.

- 첫 임펄스(1)가 들어오면 그 임펄스의 내림면에서 방₁이 절환되어 그의 출구 Q_1 은 0에서 1로 된다.

이 변화는 방₂를 절환시키지 못하기때문에 방₂의 출구 Q_2 는 여전히 0이다. ($Q_1Q_2=01$)

- 두번째 임펄스(2)가 들어오면 그 임펄스의 내림면에서 방₁이 절환되어 그의 출구 Q_1 은 1에서 0으로 절환된다.

이 변화는 방₂를 절환시키므로 그의 출구 Q_2 는 0에서 1로 된다. ($Q_2Q_1=10$)

- 세번째 임펄스(3)가 들어오면 방₁은 절환되어 그의 출구 Q_1 은 0에서 1로 되지만 방₂는 절환되지 않는다. ($Q_2Q_1=11$)

- 네번째 임펄스(4)가 들어오면 방₁이 절환되어 Q_1 은 1에서 0으로 된다. 이 변화는 방₂를 절환시켜 그의 출구 Q_2 는 1에서 0으로

된다. ($Q_2Q_1=00$)

그리하여 입구에 4개의 임펄스가 들어오는 동안 셴회로의 출구에는 1개의 임펄스가 나온다.

이 내용을 진리값표로 표시하면 표 4-22와 같다.

4진셴회로의 진리값표 표 4-22

임펄스의 개수	셴회로의 상태	
	방 ₂ (Q_2)	방 ₁ (Q_1)
0	0	0
1	0	1
2	1	0
3	1	1
4	0	0

3) 8진셴회로

이 셴회로는 8개의 임펄스를 세는 회로인데 입구에 8개의 임펄스가 들어왔을 때 출구에 한개의 임펄스를 내보내고 처음상태로 돌아간다.

8진셴회로는 J-K방아쇠회로 3개로 구성할수 있다. (그림 4-65)

회로에서 $J=K=1$ 일 때 방아쇠회로의 동작은 t방아쇠회로의 경우와 똑 같다. 즉 $J=K=1$ 일 때 동기입구 CK에 임펄스가 들어오면 그 임펄스의 내림면에서 방아쇠회로는 절환된다. (J-K진리값표 참고할것)

8진셴회로의 동작과형을 보면 네번째 임펄스가 들어올 때까지 방₁, 방₂의 동작은 4진셴회로의 경우와 같다.

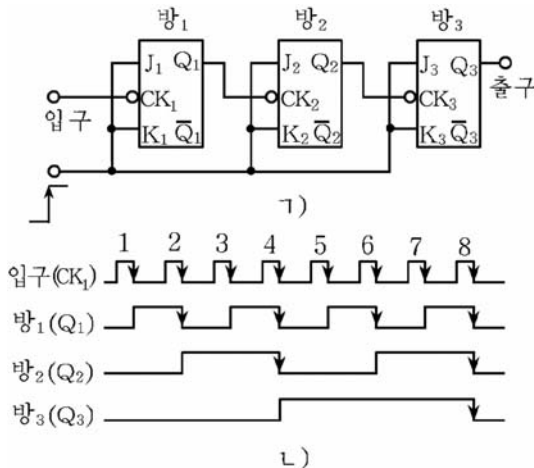


그림 4-65. 8진셴회로(㉠)와 그 동작과형(㉡)

네번째 임펄스가 들어왔을 때 방₂가 1→0변화에 의하여 방₃의 출구 Q_3 은 0→1로 된다. 이때 셴회로의 상태는 $Q_3Q_2Q_1=100$ (10진수의 4)으로 된다.

다섯번째 임펄스가 들어오면 Q_1 은 0→1로 되어 $Q_3Q_2Q_1=101$ (10진수의 5)으로 된다.

여섯번째 임펄스가 들어오면 Q_1 은 1→0, Q_2 은 0→1로 되므로 $Q_3Q_2Q_1=110$ (10진수의 6)이 된다.

일곱번째 임펄스가 들어오면 Q_1 은 0→1 따라서 $Q_3Q_2Q_1=111$ (10진수의 7)이 된다.

여덟번째 임펄스가 들어오면 Q_1, Q_2, Q_3 이 모두 0으로 된다. 따라서 $Q_3Q_2Q_1=000$ 으로 된다. (10진수의 0) 이상의 내용을 진리값표로 표시하면 표 4-23과 같다.

8진셈회로의 진리값표 표 4-23

임펄스의 개수	셈회로의 상태		
	방 ₃ (Q_3)	방 ₂ (Q_2)	방 ₁ (Q_1)
0	0	0	0
1	0	0	1
2	0	1	0
3	0	1	1
4	1	0	0
5	1	0	1
6	1	1	0
7	1	1	1
8	0	0	0

4) 셈회로의 셈용량

셈회로가 최대 몇개의 임펄스를 셀수 있는가를 나타내기 위하여 셈용량이라는 말을 쓴다.

2진세포(방아쇠회로) 2개로 된 셈회로는 8개의 임펄스를 셀수 있다. 일반적으로 셈용량과 2진세포의 개수사이에는 다음의 관계가 있다.

$$N = \underbrace{2 \times 2 \times \dots \times 2}_{n} = 2^n$$

여기서 N-셈용량
n-2진세포의 개수

이와 같은 원리로부터 방아쇠회로 4개를 직렬연결하면 16진셈회로, 5개를 연결하면 32진셈회로를 만들수 있다.

그림 4-66에는 8진 및 16진셈회로집적회로 7493의 내부구성과 단자 배치를 보여주었다.

집적회로의 내부는 4개의 J-K 방아쇠회로로 되어있는데 첫방아쇠회로를 다음 단과 분리시켜놓았다. 그러므로 16진셈집적회로로 쓸 때에는 단자 12와 1을 밖에서 연결해 주어야 한다.

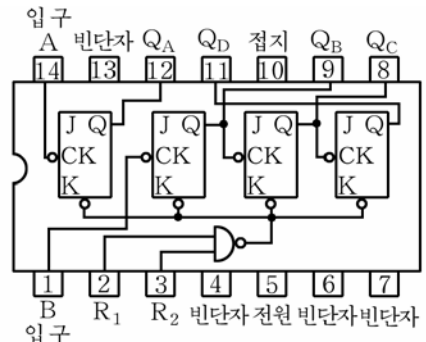


그림 4-66. 집적회로 7493의 내부구성도

단자 14와 1은 각각 2진입구, 8진입구단자들이다.

7493은 매 방아쇠회로의 출구가 밖에 나와있으므로 2^1 (2진), 2^2 (4진), 2^3 (8진), 2^4 (16진)셈회로가운데서 어느 한 셈회로로 리용할수 있다. 단자 2(R_1)와 3(R_2)은 지우기단자들인데 모두 높은 준위(1)의 신호를 주면 셈회로의 모든 출구가 0으로 된다. 셈동작을 시킬 때에는 단자 2와 3가운데서 어느 하나라도 낮은 준위(0)에 놓이게 하여야 한다.

2. 10진셈회로

1) 회로구성

10진셈회로는 입구에 10개의 임펄스가 들어갈 때 출구에 1개의 임펄스를 내보내고 처음상태로 돌아가는 셈회로이다.

10진셈회로를 어떻게 구성하는가를 보자.

2진세로 3개를 쓰면 $2^3=8$ 개밖에 세지 못하고 4개를 쓰면 $2^4=16$ 즉 16진셈회로가 된다. 때문에 2진세로 4개를 쓰되 10진셈회로를 만들기 위하여 출구신호의 일부를 입구쪽으로 되돌리는 귀환을 리용한다. (그림 4-67)

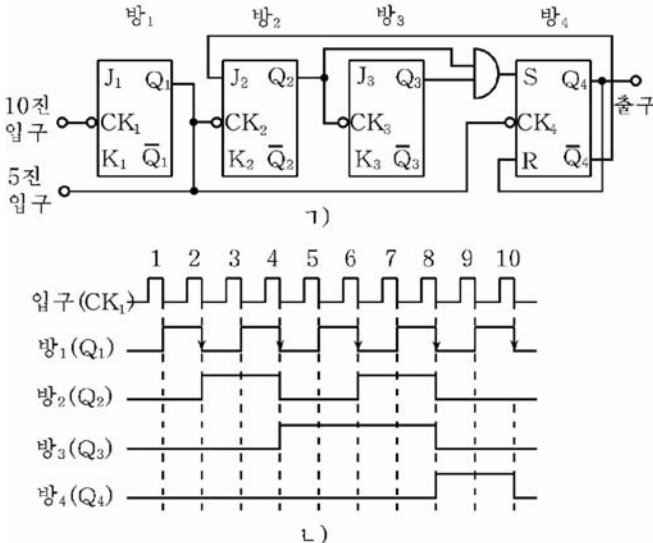


그림 4-67. 귀환을 쓴 10진셈회로(ㄱ)와 그 동작파형(ㄴ)

회로는 3개의 J-K방아쇠회로와 1개의 S-R방아쇠회로로 구성하였다.

방₄의 반대출구 \overline{Q}_4 는 방₂의 입구 J_2 에로 귀환시켰다.

이것은 \overline{Q}_4 로 방₂의 절환조건을 조종하기 위한것인데 $\overline{Q}_4=0$ 일 때는 방₂가 1로 절환될수 없을것이다.

방₄의 출구 Q_4 는 지우기입구 R에로 귀환시키고 방₁의 출구 Q_1 은 방₄의 동기입구 CK_4 에, 방₂의 출구 Q_2 와 방₃의 출구 Q_3 은 논리곱하기 회로를 거쳐 방₄의 설정입구 S에 련결하였다. 그러므로 방₄가 1로 설정될 조건은 $Q_2=Q_3=1$ (따라서 $S=1$)인 때 Q_1 이 1로부터 0으로 변하는 것이다.

2) 동작원리

10진셈회로의 동작과정을 동작파형에 기초하여 보기로 하자.

여덟번째 임펄스가 들어오기 직전에 셈회로의 상태는 $Q_4Q_3Q_2Q_1=0111$ (10진수 7)로서 이때까지의 동작은 8진셈회로의 경우와 같다.

여덟번째 임펄스가 들어오면 Q_1 은 $1 \rightarrow 0$, Q_2 은 $1 \rightarrow 0$, Q_3 은 $1 \rightarrow 0$ 으로 될것이다. 이때 Q_4 는 $0 \rightarrow 1$ 로 되는데 이것은 여덟번째 임펄스가 들어오기 직전에 $S=1$ ($Q_2=Q_3=0$ 이므로)이고 여덟번째 임펄스가 들어오면 Q_1 의 $1 \rightarrow 0$ 의 변화가 방₄의 동기입구 CK_4 에 작용하기때문이다.

결국 여덟번째 임펄스가 들어오면 셈회로의 상태는 $Q_4Q_3Q_2Q_1=1000$ (10진수의 8)으로 된다.

아홉번째 임펄스가 들어오면 Q_1 이 $0 \rightarrow 1$ 로 될뿐 다른 변화는 없다. 결과 $Q_4Q_3Q_2Q_1=1001$ (10진수의 9)로 된다.

열번째 임펄스가 들어오면 Q_1 은 $1 \rightarrow 0$ 으로 된다. 그런데 $J_2(\overline{Q}_4)$ 이므로 방₂는 절환될수 없다. 따라서 방₃도 절환되지 못한다.

방₄는 절환된 후 Q_4 는 $1 \rightarrow 0$ 으로 된다. 그것은 $S=0$ ($Q_2=Q_3=0$ 이므로), $R(Q_4)=1$ 의 상태에 Q_1 의 $1 \rightarrow 0$ 신호가 동기입구 CK_4 에 작용하기때문이다. 결국 열번째 임펄스가 들어오면 모든 방아쇠회로들은 모두 0상태로 된다. ($Q_4Q_3Q_2Q_1=0000$)

이상의 동작과정을 진리값표로 표시하면 표 4-24와 같다.

10진셈회로의 진리값표

표 4-24

임펄스의 개수	셈회로의 상태			
	방 ₄ (Q ₄)	방 ₃ (Q ₃)	방 ₂ (Q ₂)	방 ₁ (Q ₁)
0	0	0	0	0
1	0	0	0	1
2	0	0	1	0
3	0	0	1	1
4	0	1	0	0
5	0	1	0	1
6	0	1	1	0
7	0	1	1	1
8	1	0	0	0
9	1	0	0	1
10	0	0	0	0

그림 4-67에서 방₂, 방₃, 방₄는 5진셈회로를 이룬다.

이 그림의 동작과정에서 방₁의 출구신호를 5진셈회로의 입구에 넣어 세려는 임펄스로 바꾸어 생각하면 방₂, 방₃, 방₄는 5진셈회로로 동작한다는것을 알수 있다.

10진셈회로는 5진셈회로의 입구에 2진셈회로(2진세포)를 직렬연결한것이다. 만일 5진셈회로의 입구에 2진셈회로 2개(4진셈회로)를 연결하면 $2 \times 2 \times 5 = 20$ 진셈회로가 된다.

귀환을 효과적으로 리용하면 임의의 n진셈회로도 구성할수 있다.

3) 10진셈회로집적회로 7490

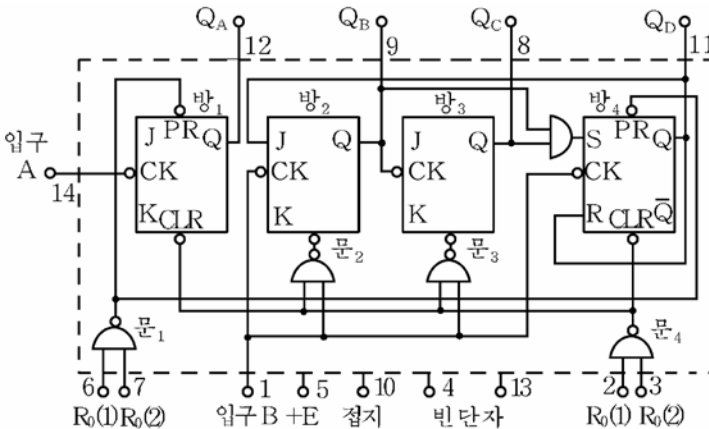


그림 4-68. 10진셈회로집적회로 7490의 내부구성도

그림 4-68에 10진셈회로집적회로 7490의 내부구성과 단자배치를, 표 4-25에는 그의 진리값표를 보여주었다.

10진셈회로집적회로 7490의 진리값표 표 4-25

입구임펄스의 개수	출 구				설정 및 지우기입구				출 구			
	D	C	B	A	R ₀ (1)	R ₀ (2)	R ₉ (1)	R ₉ (2)	D	C	B	A
0	0	0	0	0	1	1	0	∇	0	0	0	0
1	0	0	0	1	1	1	∇	0	0	0	0	0
2	0	0	1	0	∇	∇	1	1	1	0	0	1
3	0	0	1	1	∇	0	∇	0	계 수			
4	0	1	0	0	0	∇	0	∇				
5	0	1	0	1	0	∇	∇	0				
6	0	1	1	0	∇	0	0	∇				
7	0	1	1	1					계 수			
8	1	0	0	0								
9	1	0	0	1								
10	0	0	0	0								

※ 이 진리값표에서 표식 <∇>는 0과 1가운데서 어느것도 좋다는것이다.

집적회로의 내부는 크게 2진셈회로(방₁)와 5진셈회로(방₂, 방₃, 방₄)로 이루어졌다. 두개의 단을 직렬연결(출구 Q_A를 입구 B에 연결)하면 입구 A에 대하여 10진셈회로로 된다.

론리곱하기부정회로들인 문₁, 문₂, 문₃, 문₄는 방아쇠회로들에 설정 및 지우기신호를 넣어주기 위한 문회로들이다.

R₀(1), R₀(2)는 지우기입구단자인데 모두 1일 때 문₄의 출구가 0으로 되어 매 방아쇠회로를 0상태로 만든다. 즉 Q_A, Q_B, Q_C, Q_D는 모두 0으로 지워진다.

R₉(1), R₉(2)는 설정입구단자이다.

이 단자가 둘 다 1일 때 회로는 10진수 9(Q_D=1, Q_C=0, Q_B=0, Q_A=1)를 설정한다.

연습문제

1. 그림 4-64의 회로에서 출구에 두개의 임펄스파형이 나오자면 셈회로의 입구에 몇개의 임펄스가 작용하여야 하는가?

2. 그림 4-65의 회로에서 출구에 3개의 임펄스파형이 나오자면 셈회로의 입구에 몇개의 임펄스가 들어가야 하겠는가?
3. 32진, 64진 셈회로를 구성하려면 각각 방아쇠회로 몇개씩 써야 하는가?
4. 오름면시동D방아쇠회로 2개를 써서 4진 셈회로를 구성하였다. (그림 4-69) 이 셈회로의 동작파형(CK₁, Q₁, Q₂)을 그려라.

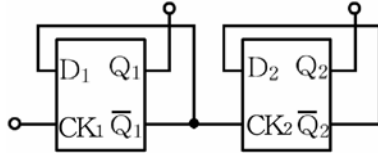


그림 4-69. D방아쇠회로를 리용한 4진 셈회로

5. J-K방아쇠회로를 써서 16진 셈회로를 구성하여라.
6. 그림 4-70은 입구임펄스가 1개씩 주어질 때마다 출구상태의 조합 Q₃Q₂Q₁의 값이 하나씩 작아지는 셈회로(덜기 셈회로)이다. 이 셈회로의 동작파형(CK₁, Q₁, Q₃)을 그려보아라. 셈회로의 처음 출구상태는 Q₃Q₂Q₁=111이다.

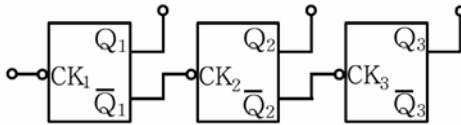


그림 4-70. 덜기 셈회로

제10절. 간단한 몇가지 수자형전자장치

수자회로는 동작속도가 빠르고 정확성이 높으며 장치를 구성하는데서 일련의 유리한 측면들이 있는것으로 하여 컴퓨터와 로보트뿐 아니라 각종 자동조종장치와 측정장치, 통신장치 등 현대적인 전자, 자동화장치들에서 기본회로로 되고있다.

전자공업 특히 집적회로기술의 급속한 발전과 더불어 전자장치들에서 수자형전자장치가 차지하는 몫은 날로 늘어나고있다.

그러므로 수자회로와 그것으로 만들어진 수자형전자장치에 대하여 잘 아는것은 전자, 자동화기술을 습득하기 위한 중요한 요구로 나서고있다.

1. 수자형집적회로의 분류와 사용방법

전자공업의 비약적인 발전은 집적회로기술의 발전과 밀접히 연관되어 있다. 집적회로가 개발되면서부터 전자장치들의 소형화, 극소형화가 급속히 추진되고 극소형컴퓨터와 같은 현대적인 전자제품들이 출현하게 되었다.

오늘 집적회로들가운데서 절대적비중을 차지하는것은 수자형집적회로이다. 수자회로는 거의 다 집적회로화되고있으며 규격품으로 계열생산되고있다.

따라서 수자회로와 수자장치를 파악하고 원만히 다루는데서 수자형 집적회로의 특성과 사용방법을 잘 아는것이 매우 중요하다.

수자형집적회로는 그 종류가 대단히 많고 응용분야도 대단히 넓다.

어떤 전자장치들의 회로를 보면 몇십개의 집적회로를 쓰고있기때문에 입구와 출구를 구별하기도 힘들고 동작원리도 짐작하기가 힘들다. 그러나 아무리 장치가 크고 복잡하다 하여도 그것을 하나씩 나누어 고찰하면 동작원리도 파악할수 있고 얼마든지 다룰수 있게 된다. 그러자면 수자형전자장치의 기본구성을 이루는 수자형집적회로에 대하여 잘 알아야 한다.

여러가지 수자형집적회로들의 기능과 동작원리, 그 사용방법을 잘 알아야 수자회로로 된 각종 전자자동화기구와 설비들을 원만히 다루고 또 만들어낼수도 있다.

1) 수자형집적회로의 분류

수자형집적회로는 그 종류가 대단히 많으며 회로구성이나 집적도, 집적회로에 들어가는 3극소자의 극성 등 구조상 여러가지로 분류할수 있다.

(1) 회로구성에 의한 분류

초소형모듈: 극소형의 개별부분품들을 묶어 모듈화하여 만든 집적회로이다.

혼성IC: 박막기술이 발전하면서 저항이나 축전기 등과 반도체, 마당 효과소자 등 능동소자를 결합한 집적회로이다.

저항이나 축전기 등을 진공증착이나 불꽃증착하여 얇은 기판위에 올리는 기술을 **박막기술**이라고 한다.

단일회C: 거의 모든 전자회로를 능동소자만으로 구성할수 있게 됨으로써 아주 작은(수mm정도) 규모결정우에 복잡한 전자회로를 구성한 집적회로이다.

단일회 IC를 단일구조집적회로라고도 한다.

단일구조집적회로는 대량생산이 가능하게 하고 품질의 균일성을 보장할수 있는것으로 해서 집적회로생산에서 기본으로 되고있다.

(2) 능동소자의 성질에 의한 분류

단일구조집적회로는 반도체능동소자를 구조결정소편우에 집적한것이지만 이 능동소자의 전기물리적인 성질에 따라 쌍극성집적회로, 단극성집적회로로 크게 갈라볼수 있다.

순수한 반도체는 절연체와 같이 전류를 통과시키지 않지만 극히 적은 량의 불순물을 섞으면 전류를 잘 통과시키는 성질을 가지게 된다는것은 잘 알고있다. 여기서 섞는 불순물의 종류에 따라 그 반도체안에서 전류를 통과시키는 형태가 달라진다. 즉 금속과 같이 <전자>의 이동에 의하여 전류를 통과시키는 형태와 전자가 부족한 상태인 <구멍>에 의하여 통과시키는 형태로 나눈다. 이때 첫째 형태를 n형반도체, 둘째 형태를 p형반도체라고 부른다.

쌍극성집적회로: n형과 p형의 반도체를 조합하여 만든것으로서 소자내부에 흐르는 신호전류가 우의 두가지 형태로 흐르는 집적회로이다.

례를 들어 반도체와 같은 능동소자는 쌍극성이라고 한다.

단극성집적회로: 신호전류가 n형 또는 p형가운데서 어느 한 전도형으로만 흐르는 집적회로를 말한다.

례를 들어 마당효과소자 같은것은 단극성이라고 한다.

(3) 외형에 의한 분류

집적회로는 외형에 따라

- 두줄형결함집적회로(DIP형 IC)
- 한줄형결함집적회로(SIP형 IC)
- 반도체의 외형과 같은
반도체식집적회로
- 단자본체가 같은 표면에
놓인 박막형집적회로

집적회로의 여러가지 외형을 그림 4-71에 주었다.

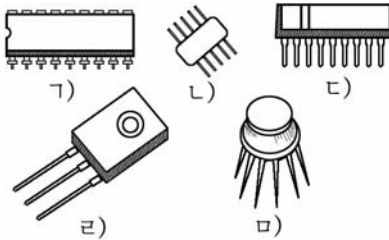


그림 4-71. 수자식집적회로의 여러가지 외형

- 가) 두줄형결함집적회로
- 나) 뺨침형집적회로
- 다) 한줄형결함집적회로
- 라) 반도체형집적회로(금속결함형)
- 마) 반도체형집적회로(수지결함형)

[참고]

수자식집적회로의 단자번호찾기

수자식집적회로의 단자는 집적회로내부회로와 바깥회로를 잇는에서 중요한 역할을 하며 단자를 제대로 잇지 못하면 집적회로가 동작하지 못하거나 파손될수도 있다.

수자식집적회로는 단자번호가 수십개나 되므로 단자를 잇는에서 착오를 없애기 위하여 일정한 규칙에 따라 단자에 번호를 붙인다.

단자번호를 찾는 방법을 그림 4-72에 주었다.

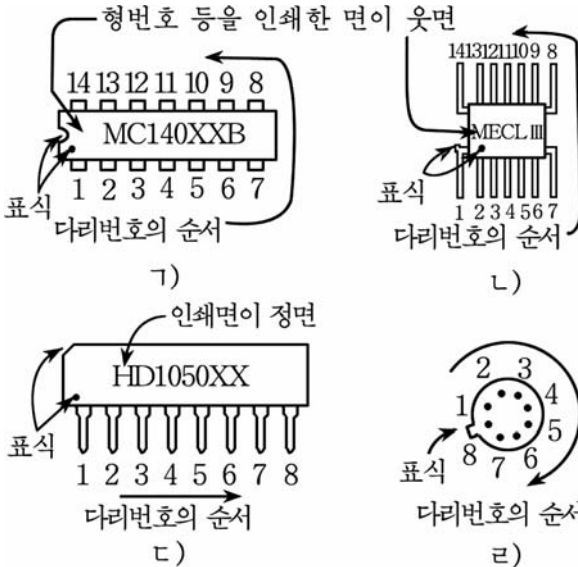


그림 4-72. 집적회로에 단자번호붙이는 방법

- 가) 두줄형IC(웃면으로부터 본 그림), 나) 평면게지형(웃면으로부터 본 그림)
- 다) 한줄형IC(정면으로부터 본 그림), 라) TO-5형IC(밑으로부터 본 그림)

(4) 집적도에 따르는 분류

집적회로는 그 내부회로를 이루는 전자요소의 수 즉 집적도에 따라 다음과 같이 분류한다.

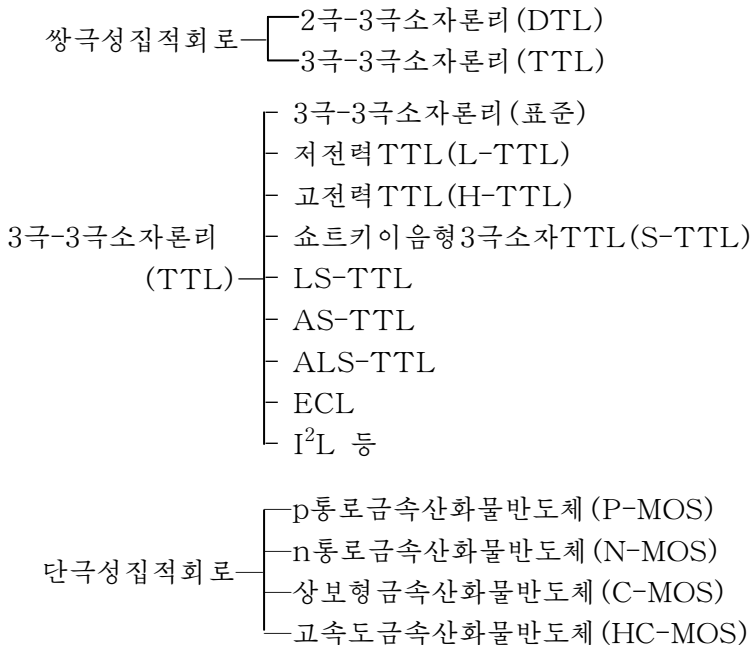
집적회로의 내부에 들어있는 전자요소의 수가

- 100개이하인 집적회로를 **소규모집적회로(SSI)**
- 100~1 000개인 집적회로를 **중규모집적회로(MSI)**
- 1 000~10만개까지의 집적회로를 **대규모집적회로(LSI)**
- 10만~100만개까지의 집적회로를 **초대규모집적회로(VLSI)**
- 100만개이상인 집적회로를 **극초대규모집적회로(ULSI)**라고 한다.

과학과 기술이 발전하면서 집적회로의 집적도가 급속히 높아져 집적회로는 극소형화되고있다.

2) 집적회로의 종류

수자식집적회로는 집적회로의 성질에 따라 쌍극성집적회로와 단극성집적회로로 크게 갈라볼수 있으며 그것들을 다시 그의 회로구성, 용도 등에 따라 여러가지로 나눌수 있다.



여기서 3극-3극소자론리(TTL)회로와 상보형 금속산화물반도체(C-MOS)에 대해서 보기로 하자.

(1) 3극-3극소자론리소자

— 3극-3극집적회로론리

3극집적회로 및 3극집적회로론리를 간략하여 3극-3극집적회로론리(TTL)라고 한다.

3극-3극집적회로론리회로의 주요부분은 3극집적회로만으로 이루어져 있다.

그림 4-73에 3극-3극집적회로론리의 기본회로를 주고있으며 그 동작은 2입구론리곱하기부정회로이다.

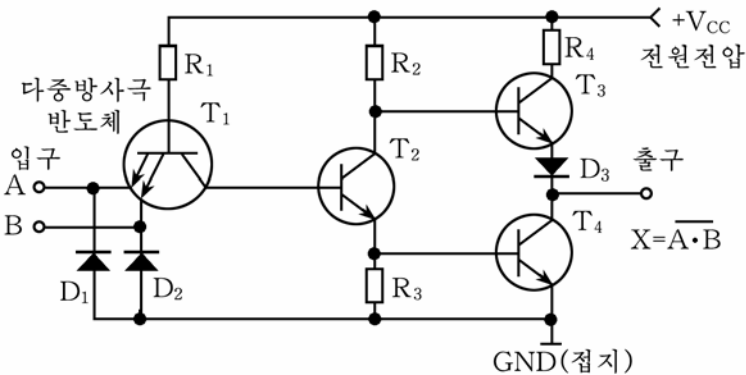


그림 4-73. 3극-3극소자론리의 기본회로

그림에서 반도체3극집적회로 T₁은 여러개의 방사극을 가지고있으므로 다중방사극반도체이다.

두 입구 A, B가운데서 어느것이든 0이면 T₁은 열린상태로 되며 T₂의 기초극전위가 낮아져 T₂은 닫긴상태가 된다.

따라서 T₃은 열린상태, T₄는 닫긴상태가 되어 출구 X는 1로 된다.

만일 A, B 두 입구가 모두 1이면 T₁의 기초극과 수전극사이가 정방향의 2극집적회로처럼 되어 T₂는 열린상태로 된다. 결국 T₃은 닫기고 T₄는 열린상태가 되므로 출구 X는 0으로 된다.

— 3극-3극집적회로론리(TTL)의 최대정격과 전기적특성

직류적인 사용조건에 기본을 두고 TTL을 실지 사용할 때 제기되는 전기적조건을 보자.

• TTL의 최대정격

수자형집적회로는 정상조건에서는 각종 전기적특성이 변하지 않지 만 온도 등의 변화에 의하여 전기적특성값들이 변하게 되며 이 변화에 견딜수 있는 한계를 알아야 한다.

이 한계를 규정한것이 최대정격이다.

최대정격이란 집적회로의 동작과는 관계없이 집적회로의 믿음성을 보장하기 위하여 제작하면서 정해놓은 값으로서 어느 순간에도 이 값을 초과해서는 안되는 값을 말한다.

최대정격값은 집적회로의 종류에 따라 그 값이 달라진다.

표 4-26과 4-27에 TTL(표준)의 최대정격과 동작원리를 주었다.

TTL집적회로의 최대정격(주위온도 -30°C~75°C) 표 4-26

항 목	기 호	정 격	단 위
전원전압	V_{CC}	-0.5~7.5	V
입구전압	V_i	5.5	V
출구전압	V_o	-0.5~5.5	V
입구전류	I_i	-12~1.0	mA
출구전류	I_o	20	mA
동작온도	T_{opr}	-30~75	°C
보관온도	T_{stg}	-55~125	°C

TTL소자의 표준동작조건

표 4-27

항 목	기 호	정 격	표 준	최 대	단 위
전원전압	V_{CC}	4.5	5.0	5.5	V
<H> 출구전압	V_{OH}	-	-	5.5	V
<L> 출구전류	I_{OL}	-	-	16	mA
출구분기수	n	-	-	10	-

전원전압(V_{CC})은 집적회로가 파괴되지 않고 자기의 기능을 유지할수 있는 최소, 최대의 전원전압을 말한다.

표에서 입구전류와 입구전압은 집적회로가 파괴되지 않고 규정된 성능을 내게 하기 위한 입구전류와 전압범위를 보여주는 값이다. <-> 부호는 전류의 방향이 흘러나오는 방향임을 표시한다.

출구전압은 집적회로의 출구에서 나오는 최대전압범위이며 출구전류는 집적회로에서 얻을수 있는 최대전류로서 이 이상의 전류가 흐르면 그 기능을 보존할수 없을뿐아니라 때로는 전력손실에 의하여 파손될수 있다는것을 보여준다.

동작온도와 보관온도는 집적회로가 자기의 기능을 원만히 수행할수 있는 온도범위인데 보통 동작온도는 $-30\sim 75^{\circ}\text{C}$ 이다.

표준동작조건은 집적회로의 동작조건가운데서 어느모로 보아 가장 적당한 조건이라고 볼수 있는 값을 준것이다.

표준동작조건에서 전원전압은 집적회로가 규정된 성능을 내게 하기 위한 전원전압범위인데 TTL에서는 $5\text{V}\pm 5\sim 10\%$ 이다.

<H> 출구전압은 출구전압을 높여서 사용하기 위한 조건인데 출구전압이 그 이상 주어지면 동작하지 않는 경우도 있다.

<L>출구전류는 집적회로의 출구가 <L>준위에 있을 때 얻을수 있는 전류를 말하며 출구분기수는 1개의 집적회로의 출구에 몇개의 TTL집적회로의 입구를 연결할수 있는가를 보여준다.

출구분기수란 한개의 출구단자에 몇개의 입구단자를 연결할수 있는가 하는것을 규정한 수를 말한다.

표에서 보면 TTL의 최대출구분기수는 대체로 10으로 되어있다. 그것은 <L>출구전류가 16mA인 경우 매개 TTL의 입구전류가 1.6mA로 고정되어있으므로 출구에 연결할수 있는 입구수는 10이라는것이다.

최대정격에서 주의를 돌려야 할것은 전원과 입구에 <->의 전압이 걸리면 회로가 파괴될수 있다는것이다.

- TTL의 전기적특성

수자형집적회로의 전기적특성은 입출구의 전압준위나 전류를 보여주는 특성으로서 최대값 또는 최소값이 정해져있다.

출구단자를 다른 입구단자에 이을 때 반드시 입출구호상간에 전류가 흐르게 된다.

그림 4-74에 입구와 출구사이의 전류흐름을 보여주었다.

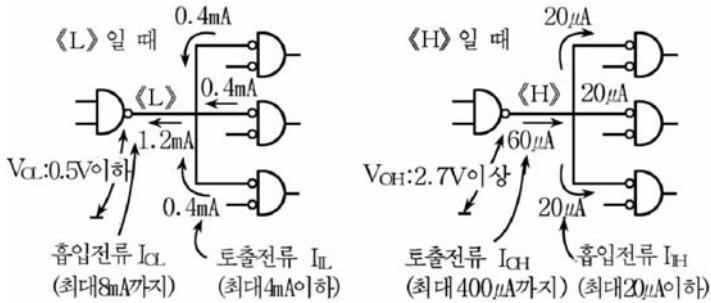


그림 4-74. 입구와 출구사이의 전류흐름

TTL의 전기적특성

표 4-28

구분 계열	동작 입구 저항 /k Ω	<H> 일 때 최대 입구전류 $I_{IH}/\mu A$	<L> 일 때 최대입구 전류 I_{IL}/mA	전달 지연 시간 /ns	한개 회로에서 소비하는 전력/mW	동작 주파수 /Mhz	<H> 일 때 최대출구 전류 $I_{OH}/\mu A$	<L> 일 때 최대 입구전류 I_{OL}/mA
표준 54/74	4	40	-1.6	10	10	35	-400	16
54H/74H	2.8	50	-2	6	22	50	-500	20
54L/74L*	40	10	-0.18	33	1	3	-100	2/3.6
	8	20	-0.8					
54LS/74LS	18	20	-0.4	9.5	2	45	-400	4/8
54S/74S	2.8	50	-2	3	19	125	-1 000	20
54ALS/ 74ALS	40	20	-0.2	4	1	100	-400	4/8
54AS/74AS	2.7	200	-2	1.5	22	200	-2 000	20

그림 4-74와 표 4-28을 보면서 설명하자.

- 입구단자가 <H> 일 때 입구전류(I_{IH})

TTL의 입구단자에 <H> 준위의 전압을 걸었을 때 그 전원(론리준위를 공급하는 출구다리 등)으로부터 입구다리에 전류 I_{IH} 가 흐른다. 따라서 이 전류를 흘려보내도 <H>준위아래로 전압이 낮아지지 않는 전원이 요구된다. 그러나 이 I_{IH} 는 표에서 알수 있는것처럼 그리 큰 값이 아니다.

이 표의 값은 최대값인데 실제로는 이 값보다 상당히 작은 경우가 많다.

- 입구단자가 <L> 일 때 밖으로 흘러나가는 전류(I_{IL})

TTL의 입구단자를 <L>로 한다는것은 사실 입구단자로부터 밖으로 전류 I_{IL} 을 받아도 전원전압을 $V_{IL,max}$ (<L> 준위의 최대전압)아래로 유지할수 있도록 내부완전저항이 충분히 작아야 한다. 이러한 리유로 하여 I_{IL} 을 토출전류라고 부르기도 한다. 표에서 보면 이 토출전류값에 미누스의 기호가 붙어있는데 이것은 집적회로로부터 밖으로 흘러나가는 방향을 가리킨것이다. 표에 제시된 I_{IL} 의 값은 앞에서 본 I_{IH} 의 경우와 마찬가지로 최대값이므로 보통 이 값보다 작다.

- 출구단자가 <H> 일 때 출구전류(I_{OH})

출구단자는 다른 집적회로입구단자에 논리준위를 공급하는 전원으로서의 역할을 한다. 이제 출구단자가 <H>였다고 하면 이미 앞에서 본 것처럼 이 출구단자로부터 상대방의 입구단자로 전류가 흐른다. 표에 제시한 I_{OH} 값은 출구단자로부터 흘러나가는 최대전류값인데 전류값이 이 값보다 작으면 출구전압이 $V_{OH, min}$ (<H> 준위의 최저전압)보다 낮다는것을 의미한다.

- 출구단자가 <L> 일 때 밖으로부터 흘러드는 전류(I_{OL})

출구단자가 <L>일 때 그 논리준위를 다른 집적회로의 입구단자에 공급한다고 하는것은 상대방 입구단자에서 나오는 토출전류를 출구단자가 빨아들인다는것을 의미한다.

표에 제시된 I_{OL} 값은 출구단자에 밖으로부터 이 전류값까지 흘려보내도 이 다리의 <L>준위가 $V_{OL, max}$ (<L>준위의 최대출구전압)보다 낮다는것을 의미한다.

[참고]

계렬과 2 차원천

수차식집적회로가 요구하는 기능은 여러가지이다.

그 기능을 만족시켜주기 위하여 전기적사용조건이 같도록 설계된 각이한 기능의 집적회로를 **같은 계렬**이라고 한다.

같은 계렬의 집적회로는 서로 대응으로 바꾸어쓸수 있지만 다른 계렬일 때에는 매 회로의 전기적특성을 고려해야 한다.

어떤 기능의 집적회로를 먼저 개발했을 때 그 집적회로와 완전히

호환성(대신하여 쓸수 있는 정도)을 가진 다른 집적회로를 새롭게 제작한 경우 후의 집적회로를 **2차원천**이라고 한다.

— TTL의 특징

- 대체로 완성된 집적회로이다.
- 종류가 대단히 많으므로 이것들을 잘 리용하면 어떤 장치도 쉽게 만들수 있다.

- 만드는 공정이 복잡하다.
- 사용전원전압은 $5 \pm 0.5V$ 즉 4.5~5.5V이다. (4.5~5.25V정도의 좁은 범위도 있다.)

- 동작전류가 큰것이 결함이다.

하나의 집적회로에서 수십mA가 필요하다.

이런 집적회로를 10개, 20개정도를 동시에 쓰는 경우에 전류는 수A에 이른다.

그런데 전원전압허용범위가 $5 \pm 0.5V$ 라는 좁은 범위에 있으므로 전원문제가 중요하게 제기된다.

- 온도특성은 일반적으로 0~70°C, 특별한 경우 -55~125°C까지이다.

- 주파수특성이 대단히 좋다. 이것은 TTL의 가장 중요한 우점의 하나이다. 수십MHz까지에서도 쉽게 동작하며 또 고속용으로 특별히 만든것도 많다.

(2) 상보형집적회로(C-MOS)

— C-MOS의 최대정격과 전기적특성

- C-MOS의 최대정격

초시기 C-MOS에는 CD4000계렬, MC14500계렬과 2차원천을 중심으로 하는 표준 C-MOS계렬이 있었을뿐이었다.

그러나 이 계렬들은 동작속도가 뜨고 출구전류가 작은 부족점이 있어 그후 이것을 개량한 준고속 C-MOS와 그것을 고성능화한 고속 C-MOS 등 새 계렬이 많이 개발되어 현재 많은 비중을 차지하고있다.

표 4-29와 표 4-30은 이 C-MOS의 매 계렬에 대한 최대정격 및 표준사용조건을 묶은것이다.

C-MOS계렬소자들의 최대정격

표 4-29

계렬 구분	표준C-MOS TC40/TC45계렬	준고속C-MOS TC40H계렬	고속C-MOS TC74HC계렬	단위
최대정격				
전원전압(V_{DD})	-0.5~20	-0.5~10	-0.5~7	V
입구전압($V_{\text{입}}$)	-0.5~ $V_{DD}+0.5$	-0.5~ $V_{DD}+0.5$	-0.5~ $V_{DD}+0.5$	V
출구전압($V_{\text{출}}$)	-0.5~ $V_{DD}+0.5$	-0.5~ $V_{DD}+0.5$	-0.5~ $V_{DD}+0.5$	V
입구전압(10ms이내의 임펄스)	—	—	-3~ $V_{DD}+0.5$	V
입구전류($I_{\text{입}}$)	± 10	± 10	—	mA
출구전류($I_{\text{출}}$)	—	—	± 25	mA
전원단자전류(I_{DD}, I_{SS})	—	—	± 50	mA
소비전력(소자 1개당)	300	300	500	mW
소비전력(출구단자1개당)	—	—	100	mW
보관온도	-65~150			°C
온도와 시간	260°C	10s동안	300°C, 10s동안	

C-MOS계렬소자들의 표준동작조건

표 4-30

전원전압(V_{DD})	3~13	2~3	2~6	V
입구전압($V_{\text{입}}$)	0~ V_{DD}	0~ V_{DD}	0~ V_{DD}	V
출구전압($V_{\text{출}}$)	—	—	0~ V_{DD}	V
임펄스, 오름, 내림시간			0~150	ns
사용온도(T)	-45~35			°C

표에서 모든 전압은 접지단자(V_{SS} 또는 GND)에 대한 전압이고 전류는 매 단자마다에 흐를수 있는 전류이다.

입구전압에 <10ms이내의 임펄스>라고 써넣은것은 10ms이내의 짧은 시간동안에 전원전압 V_{DD} 를 넘는 전압을 입구에 걸어주어도 견딜수 있다는것을 말해주고있으나 이것은 고속 C-MOS소자에 대해서만 가능하다.

입구전류는 입구단자에 흐를수 있는 최대전류이며 출구전류는 출구 단자에 흐를수 있는 최대전류로서 각각 1개의 단자에 해당한 값이다.

다음으로 한개의 소자가 소비하는 전력은 전원전압과 소비전류(전원단자로 흐르는 전류)를 곱한 값으로서 한개의 집적회로에서 소비되는 최대전력 즉 최대발열량의 한계이다.

매 출구단자에서 소비되는 전력은 한개의 출구단자에 흐르는 전류와 전원전압을 곱한것의 최대값을 의미한다. 매개 출구단자에 대하여 각각 이 한계를 넘으면 안되며 이때 모든 출구단자에서 소비되는 전력의 총합은 한개 소자의 소비전력을 초과하면 안된다.

- C-MOS계렬소자의 전기적특성

표 4-31에 C-MOS계렬소자의 전기적특성을 주었다.

C-MOS계렬집적회로들의 전기적특성

표 4-31

구분 계렬	<H>일 때 최대입구 전류 $I_{IH}/\mu A$	<L>일 때 최대입구 전류 $I_{IL}/\mu A$	전달 지연 시간 /ns	동작 주파수 /MHz	<H>일 때 최대출구 전류 I_{OH}/mA	<L>일 때 최대출구 전류 I_{OL}/mA
TC40/TC45	$10^{-5} \sim 0.3$	$-10^{-5} \sim 0.3$	170 130	1~3	-0.16이상	0.44이상
TC40H	$10^{-5} \sim 0.3$	$-10^{-5} \sim 0.3$	18 14	10~20 이상	-0.44이상	1.1이상
TC74HC	0.1이하	-0.1이하	8 8	25~45 이상	-5이상	5이상

C-MOS소자의 입구단자는 금속산화물마당효과반도체 3극소자(MOS-FET)의 조종극에 연결되어있다. 그러므로 TTL소자와는 달리 C-MOS소자의 입출구단자를 서로 연결해도 TTL소자에서와 같이 단자호상간에 전류가 흐르지 않는다.

그러면 C-MOS소자의 출구단자를 TTL소자의 입구단자에 직접 연결하는 경우 전류가 어느 정도로 흐를수 있는가를 보자.

- 입구단자가 <H> 일 때 최대입구전류(I_{IH})

C-MOS소자의 입구단자에는 전류가 거의 흐르지 않는다.

<H>상태의 논리준위전압을 주면 표에서 보는것처럼 매우 작은 전류가 흘러든다. 그러나 실제적으로는 전압만 가해진것으로 생각하여도 된다.

- 입구단자가 <L> 일 때 최대입구전류(I_{IL})

입구단자에 <L> 상태의 논리준위전압을 걸어주었을 때는 <H> 일 때와 반대로 매우 작은 전류가 흘러나간다. 즉 토출전류가 생긴다.

그러나 이때도 역시 전류를 0으로 생각하여도 된다.

- 출구단자가 <H> 일 때 출구전류(I_{OH})

표에 제시된 I_{OH} 값은 전원전압 $V_{DD}=5V$ 일 때 출구단자의 전압이 논리준위 <H>를 보장하면서 흘러나갈수 있는 최대전류이다.

일반적으로 전원전압 V_{DD} 가 높아지면 이 전류값 I_{OH} 값도 커진다. 또한 이 값이 TTL소자의 I_{OH} 와 비교해보면 큰 차이는 없으나 고속 C-MOS소자인 경우에는 엄청나게 크다.

- 출구단자가 <L> 일 때 밖에서 흘러들수 있는 전류(I_{OL})

TTL소자의 경우와 마찬가지로 C-MOS소자의 출구단자가 <L>일 때에는 전류를 빨아들이는 동작을 한다. 이때 출구단자의 논리준위를 <L>로 보존하면서 흘러들수 있는 최대전류가 I_{OL} 이다.

고속 C-MOS소자에서는 I_{OL} 이 크다.

— C-MOS의 특징

- 속도측면에서는 TTL보다 떨어진다.
- 대규모집적회로(LSI), 초대규모집적회로(VLSI)로 발전전망이 크다.

례를 들어 한개의 소편으로 수자형전자수산기를 만들수 있다. 이것은 TTL집적회로 수십, 수백개를 대신한다.

- 전원전압은 종류에 따라 다르지만 0~16V사이에서 임의의 값을 쓰는것도 있고 보통은 3~12V, 3~8V가 많다.

- 동작전류가 매우 작다.

외부부하로 전류가 흐르지 않는다면 동작전류가 필요없다고 말할수 있을 정도로 작으며 전원전압허용범위가 크므로 전원에 대한 문제에서 TTL과 본질적인 차이가 있다. 이와 같은 차이는 사용측면에서 볼 때 대단히 좋은것이다.

최근에 C-MOS집적회로를 리용하여 크기도 작고 소비전력도 작은 전자수산기와 같은 전자제품들이 많이 나오고있다.

- 생산원가가 TTL보다 많이 든다.
- 주파수특성은 현재 TTL수준에 이르지 못하고있다.
- 입구저항은 무한대에 가까울 정도로 큰데 이것이 C-MOS의 다른 하나의 우점이다.
- 온도특성이 대단히 좋다.

다른 반도체에서는 상상도 할수 없을 정도로 온도특성이 좋다. -30~80°C범위에서는 일반적인 온도특성을 고려하지 않아도 된다.

3) 수자형집적회로의 사용방법

일반적으로 집적회로는 그 집적도가 커지면 커질수록 믿음성도 커진다.

례를 들어 소규모집적회로를 여러개 조합하여 만든 회로보다 같은 기능을 가진 대규모집적회로가 더 큰 믿음성을 가진다는것을 의미한다.

집적회로를 쓰면 반도체3극소자 등 개별부분품으로 만든 회로보다 훨씬 높은 믿음성을 얻을수 있다.

그러나 이 좋은 우점도 그 취급을 잘못하면 순식간에 잃게 될수 있다.

(1) 집적회로취급에서 일반적으로 주의할 점

① 온도가 높아질수 있는 사용법이나 보관방법을 쓰지 말아야 한다.

반도체소자는 사용온도가 10°C 올라갈 때마다 그 수명이 절반으로 감소될만큼 온도의 영향을 크게 받는다. 따라서 집적회로를 사용할 때에는 물론 보관할 때에도 직사광선이나 밀폐된 환경 등 온도가 높아지는것을 피하며 집적회로자체의 방열과 주변의 통풍 등에 주의를 돌려야 한다.

② 최대정격을 넘는 전압이나 반대극성의 전압을 절대로 걸지 말아야 한다.

최대정격이 넘는 전압이 가해지면 집적회로들이 못쓰게 되거나 그 특성이 나빠지게 된다.

TTL집적회로는 반대극성의 전압에 특별히 약하므로 순간에 파괴될수 있다. 그러므로 전원전압뿐아니라 입구단자 등에 과전압이나 역전압을 절대로 걸어주지 말아야 한다.

③ 납땜을 높은 온도에서 오래동안 하지 말아야 한다.

납땜할 때 집적회로내부에 열에 의한 압력이 제일 많이 걸린다.

최대정격에 밝혀져있지 않아도 260°C, 3s이하의 한계를 지켜야 한다.

④ 온도가 높은 주위환경에서 보관 또는 사용하지 말아야 한다.

온도가 높고 습기가 많은 나쁜 사용조건에서는 수지속에 있는 불순물을 거쳐 습기가 규소소편에까지 침습할수 있다. 이것으로 하여 소자가 못쓰게 될수 있다.

⑤ 기계적인 압력이 걸리지 않게 해야 한다.

집적회로의 인출선이나 단자를 밀부분으로부터 억지로 구부리거나 비트는 등 무리한 힘을 가하는것은 수지결함에 금이 가는 원인으로 되며 거기로부터 습기가 침습하여 집적회로를 불량하게 만들수 있다.

이밖에도 전자기구일반에 대한 주의사항으로서 먼지, 가스, 소금기, 방사능 등이 있는 환경에서 사용하지 말아야 한다.

(2) C-MOS소자의 취급에서 주의할 점

C-MOS소자의 입구단자는 절연저항이 대단히 크다. 그것으로 하여 거의 전류가 흐르지 않는다는데 대해서는 알고있다.

그러나 5~7.5pF정도의 정전용량을 가지고있으므로 여기에 정전하가 축적되기 쉽고 또 용량이 작은것으로 하여 매우 작은 전하로써도 고전압으로 되며 경우에 따라서는 입구마당효과3극소자의 문을 파괴할수도 있다.

따라서 그림 4-75와 같은 입구보호회로를 넣는것이 보통이다.

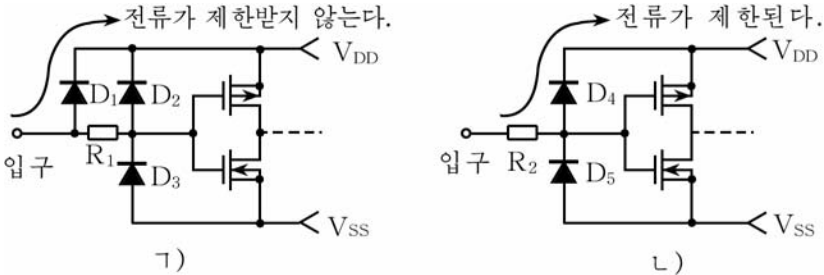


그림 4-75. C-MOS 소자의 입구보호회로

입구마당효과3극소자의 문에 정전하가 축적되면 조종극과 원천극 혹은 조종극과 배출극사이가 D_2, D_3, D_4, D_5 등을 거쳐 열린 상태로 되어 전하가 방전된다. 또한 이 입구보호회로는 입구단자로부터 오는 너무 큰 입력을 제한하여 소자를 보호하는 역할도 한다. 즉 입구전압이 V_{DD} 를 초과하면 그림 4-75의 1)에서는 D_1 이, 2)에서는 D_4 가 열린 상태로 되어 입구전압을 V_{DD} 근방에서 일정하게 유지하게 된다.

최대정격에 주어진 입구단자의 최대전류는 과전압상태에서 이 입구 보호회로에 흐르는 보호전류까지도 포함하고있다.

특히 그림의 1)에서와 같이 표준 C-MOS소자인 경우에는 집적회로내부에서 전류제한작용을 하지 못하므로 외부로부터 지내 큰 입력이 예견될 때에는 외부회로로써 입구를 보호해야 한다.

C-MOS계렬의 집적회로를 보관할 때에는 입구단자에 정전하가 축적되지 않도록 하기 위하여 알루미늄박지에 싸거나 해면에 쫓는다.

C-MOS뿐만아니라 P-MOS, N-MOS 등의 집적회로에서도 이런 주의를 돌려야 하며 집적도가 높은 일부 쌍극성집적회로들도 그렇게 해야 한다.

(3) 출구분기수에 대한 주의사항

① TTL의 출구분기수

TTL의 입구단자에 <1> 또는 <0>의 논리준위를 공급한다는것은 입구단자의 전압을 각각 <1> 또는 <0>의 전압범위를 보장한 상태에서 <1>일 때는 I_{IH} 를 흘려보내고 <0>일 때는 I_{IL} 을 내보내야 한다는 것이다.

그림 4-74를 보면서 한개의 출구단자에 몇개의 입구단자를 접속할 수 있는가를 보자.

례를 들어 LS-TTL을 보자.

표 4-28에서 보면 <H>상태인 LS-TTL소자의 출구단자에서 나오는 전류 I_{OH} 는 $400\mu A$ 이다.

한편 <H>상태인 때 LS-TTL소자의 입구단자로는 최대 $20\mu A$ 의 I_{IH} 를 흘려보내야 하므로 한개의 출구단자에 접속할수 있는 상대방의 입구단자수는 $400/20=20$ 즉 20개까지로 정할수 있다.

출구단자의 부하는 언제나 이 출구분기수보다 작게 하여야 한다.

이와 같은 방법으로 출구단자가 논리 <0>일 때를 보면 역시 출구분기수가 74LS계렬의 절반으로 된다.

② C-MOS의 출구분기수

그림 4-76에 C-MOS의 출구분기수를 보여주었다.

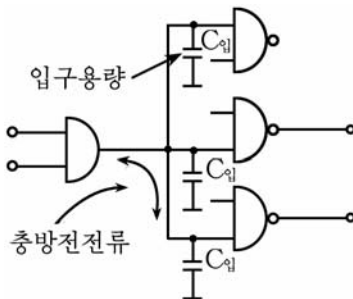


그림 4-76. C-MOS 소자의 출구분기수

C-MOS소자의 입구단자는 전류를 거의 통과시키지 않으므로 한개 출구단자에 접속할수 있는 상대방의 입구단자수 즉 출구분기수는 무한대로 생각할수 있다.

그러나 실지 그림에서 볼수 있는것처럼 매 입구마다 정전용량 C_0 , 입구용량 $C_{입}$ 이 있으므로 출구의 논리준위가 변할 때마다 총방전전류가 흐르므로 출구분기수는 제한을 받으며 대체로 표준C-MOS소자에서 50 정도이다.

(4) 쓰지 않는 단자의 처리

수자형집적회로를 사용할 때 한개의 집적회로가운데서 일부 문회로를 사용하지 않든가 한개의 문회로가운데서도 일부를 사용하지 않는 경우가 흔히 생긴다.

이런 경우에 사용하지 않는 문회로의 입출구단자를 어떻게 처리하는가를 보자.

TTL인 경우에는 우선 쓰지 않는 문회로의 모든 입구단자를 한데 묶어서 <1> 또는 <0> (V_{cc} 또는 접지에 접속시킨다.)상태로 하고 출구단자는 열린 상태(어디에도 접속되지 않는다.)로 놓아둔다.

또한 그림 4-77에서와 같이 4개의 입구단자 가운데서 3개만 사용하는 경우 사용하지 않는 한개의 입구단자에 대하여 논리곱하기부정문회로나 논리곱하기문회로에서는 <1>로 하고 논리더하기부정문회로에서는 <0>으로 한다.(<1>일 때에는 V_{cc} 에, <0>일 때에는 접지에 연결한다.)

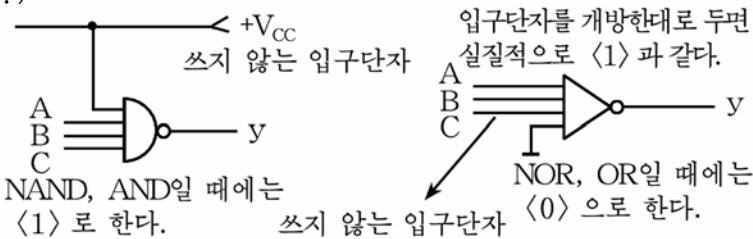


그림 4-77. 쓰지 않는 입구단자의 처리

C-MOS소자인 경우에 쓰지 않는 단자처리는 TTL에서와 같이 처리하면 된다. 특히 C-MOS소자에서는 쓰지 않는 입구단자를 그냥 내버려두면 안되며 반드시 <1> 또는 <0> 상태로 해주어야 한다.

(5) 수자형집적회로의 전원

집적회로는 그 종류와 사용조건에 따라 전원에 대한 요구조건이 다르다.

① TTL소자용전원

TTL소자의 전원전압은 $5V \pm 5\%$ 이므로 일반적으로 정전압전원 혹은 여단개식전압안정기가 리용된다.

• 정전압전원

그림 4-78과 같이 교류전원을 정류하여 얻은 직류를 다시 안정회로에서 안정화시켜 $5V \pm 5\%$ 의 안정한 전압을 얻을수 있는 전원을 **정전압전원**이라고 한다.

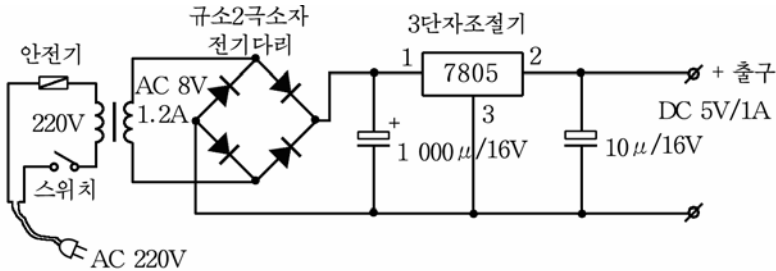


그림 4-78. 7805를 쓴 정전압안정회로

여기서 7805는 소자형집적회로 74계렬의 안정전압을 보장할것을 목적으로 만든 전압안정용집적회로로서 입구전압이 7~35V인 때 5V의 직류안정전압을 얻는다.

7805는 78계렬의 안정소자이다.

78계렬은 다시 78L계렬과 78M계렬, 78H계렬로 나눈다.

78L계렬은 출구전류가 100~200mA까지, 78M계렬은 500mA~1A까지, 78H계렬은 5A까지의 출구전류를 얻을수 있다.

• 여단개식전압안정기

여단개식전압안정기는 직류-직류변환기의 일종이다.

이 전원장치는 78계렬의 전압안정기보다 에너지를이용효율과 안정도가 더 높은 전원장치로서 수자형집적회로전원장치의 기본형으로 되고 있다.

그러나 일반적으로 수자형전자장치들에서는 7805를 리용한 전압안정회로가 많이 쓰인다.

② C-MOS소자용전원

C-MOS소자는 소비전력이 작으며 전원전압이 크게 변할 때도 안정하게 동작하므로 TTL소자에서처럼 안정화전원을 쓸 필요가 없다. 그러므로 규모가 작은 전자장치들에서는 전지를 전원으로 쓸수도 있다.

그러나 C-MOS소자와 TTL소자를 섞어쓰는 경우가 많으므로 C-MOS소자도 5V의 안정화전원을 사용하는 경우가 많다.

연습문제

1. TTL소자란 어떤 소자를 말하는가?
2. C-MOS소자란 어떤 소자이며 TTL소자와의 차이점은 무엇인가?
3. TTL소자에 비한 C-MOS소자의 우점을 말하여라.
4. 최대정격과 표준동작조건은 어떻게 다른가?
5. TTL소자와 C-MOS소자의 전기적특성을 비교하여라.
6. 집적회로를 취급할 때의 일반적주의사항은 무엇인가?
7. C-MOS소자의 취급에서 주의할 점은 무엇인가?
8. 집적회로들에서 쓰지 않는 단자들은 어떻게 처리하는가?

2. 수자형점멸기

점멸기란 일정한 시간간격으로 빛을 내보내게 하는 전자장치를 말한다.

밤에 시내의 거리들에 설치된 장식등들은 부단히 번쩍거리면서 도시의 풍치를 더욱 화려하게 해주는데 이런 장치들에는 그 형식과 방법은 각이하지만 모두 점멸기라고 하는 전자장치를 리용하고있다.

수자형집적회로를 리용한 간단한 점멸기를 보기로 하자.

그림 4-79에 점멸기에서 흔히 리용하는 부진기의 기본회로를 보여주고있다.

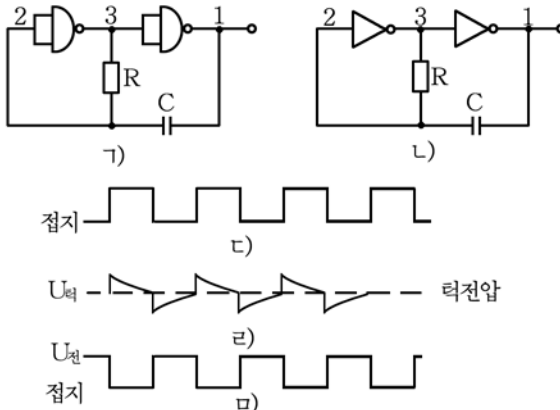


그림 4-79. 부진기의 기본회로와 그 동작파형

부진기의 기본회로에서는 두개의 반전기를 직렬로 련결하고 첫번째 단에는 저항 R로, 두번째 단에는 축전기 C로 귀환을 실시하고있다.

그림 4-79의 ㄱ)는 논리곱하기부정문회로를 쓴 부진기회로이고 ㄴ)는 반전기를 쓴 회로인데 서로 똑같은 기능을 수행하며 동작원리도 같다. 또한 ㄷ)는 CR시정수에 의해 지수함수적으로 변화되는 파형으로서 턱전압을 경계로 하여 반전된다.

점 1과 3은 출구점으로서 여기에서는 거의 구형에 가까운 임펄스파를 얻을수 있다.

발진주기는

$$T \approx 1.38RC$$

따라서 발진주파수는

$$f = \frac{1}{1.38RC} \text{ (Hz)}$$

여기서 $U_{전}$ 은 전원전압, $U_{턱}$ 은 집적회로의 턱전압(집적회로의 출구전압이 반전하는 입구전압으로서 C-MOS수자형집적회로의 경우는 대체로 $U_{전}$ 의 1/2정도이다.)이다.

발진주파수는 저항 R와 축전기 C의 값에 따라 달라진다.

부진기는 신호가 내부를 빙빙 돌아가고있으므로 H, L의 논리적 취급은 의의가 없다.

이 회로를 리용하여 실제적인 점멸기를 구성하면 그림 4-80과 같다.

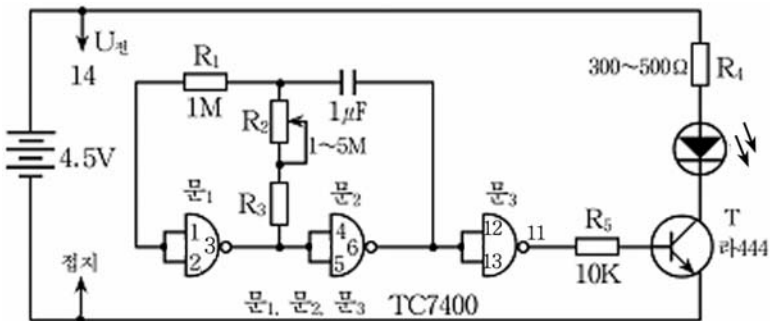


그림 4-80. 부진기를 리용한 점멸기회로

회로에서 문1, 문2, 문3은 논리곱하기부정집적회로 TC7400을 리용하면 되며 TC7404와 같은 반전기집적회로를 쓸수도 있다.

회로에서 R_2 와 R_3 , C 는 발진주파수를 결정하는 시정수요소들이다.

식 $T=1.38RC$ 에 의하면 발진주기는 $R_1+R_2=1(M\Omega)$ 으로 보았을 때 $C=1\mu F$ 이라면 $T\approx 1.38s$ 이므로 발광2극소자를 리용하여 점멸기의 동작상태를 관찰할수 있게 된다.

회로에서 문₃은 발진부분을 이루고있는 부진기와 발광2극소자구동용3극소자사이의 결합을 위한 완충기로 작용한다.

이 회로에서는 축전기 C 와 저항 R_2 의 값을 변화시키는 방법으로 발광2극소자의 점멸속도를 조절할수 있게 된다.

R_1 은 원리적으로는 없어도 일없지만 TC7400의 입구저항이 매우 크므로 전원전압의 변화에 의한 발진주기변화를 보상하기 위하여 설치하며 그 값은 R_2 의 2배이상 되게 설정하는것이 좋다.

이와 같은 점멸기는 단순한 발진기에 의한것이므로 응용분야는 신호장치와 같은데서 리용할수 있다.

다른 점멸회로로 그림 4-81과 같이 해신기용집적회로 7442와 10진셈소자 7490을 결합하여 10개의 발광2극소자들이 순서대로 점멸할수 있게 된 회로를 보자.

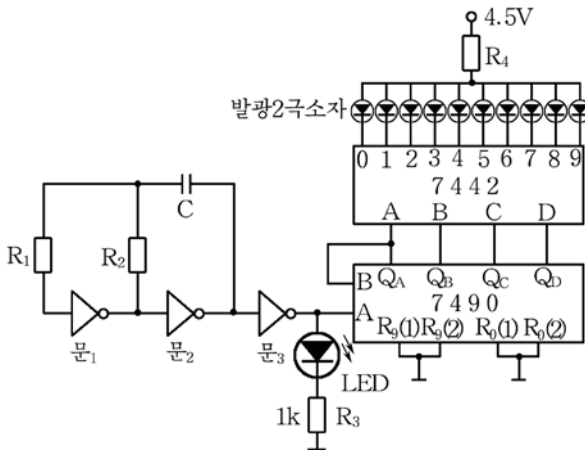


그림 4-81. 순차점멸회로

그림에서 문1, 문2, 문3으로 이루어진 부진기회로는 앞에서 본 점멸기와 같다.

발광2극소자 LED₁과 저항 R₃은 점멸기용박자발진기의 동작상태를 보여주는 표시회로로서 R₂와 C의 시정수에 의해 결정되는 주파수에 따라 깜빡거린다.

문₃의 출구에서 나오는 신호는 10진셈소자 7490의 입구 A_입에 들어간다.

10진셈소자 7490은 내부에 2진셈부분과 5진셈부분으로 구성되어있으므로 10진셈회로로 동작시키자면 2진셈부분 출구단자인 Q_A와 5진셈회로의 입구단자인 B를 서로 외부에서 연결해놓아야 한다.

지우기단자들인 R₀(1), R₀(2), R₉(1), R₉(2)들은 모두 접지시켜야 한다.

10진셈소자 7490의 출구 Q_A, Q_B, Q_C, Q_D들은 해신기용집적회로인 7442의 입구단자 A, B, C, D와 각각 연결되어있다.

해신기용집적회로 7442는 출구가 0~9까지 모두 합쳐 10개이며 이 출구단자들은 <L> 상태에서 유효이므로 출구에 연결해주는 발광2극소자들은 전원과 직렬로 연결해놓아야 한다.

이제 셈소자의 입구 A에 1개의 임펄스가 들어왔다고 하자.

이때 셈소자의 출구 Q_A, Q_B, Q_C, Q_D가운데서 Q_A가 <1>로 되고 나머지는 모두 령이 된다. 즉 2진수로서 <0001>상태를 표시한다.

이 신호는 해신기용집적회로 7442의 입구에 그대로 가해진다.

결과 해신기의 출구(10개의 출구)가운데서 첫번째 출구단자가 <L>로 되면서 그와 연결된 발광2극소자 LED₂가 켜진다.

다음 두번째 임펄스가 들어오면 셈소자는 <0010>상태의 신호를 출구하게 되며 해신기는 이에 해당하는 두번째 출구단자가 <L>로 되어 LED₂는 꺼지고 LED₃만이 켜진다.

임펄스가 계속 들어오면 셈소자는 더하기셈을 하게 되므로 수자가 커지는 방향으로 출구단자(Q_A~Q_D)의 상태가 변하면서 출구하게 되고 해신기에 연결된 발광2극소자들은 순서대로 차례로 켜진다.

그림에서 박자발진회로의 시정수를 조절하면 점등속도가 변화된다. 따라서 어떤 일정한 주파수에 가서는 마치도 10개의 발광2극소자들이 한방향으로 흐르는것처럼 보이게 된다.

이런 원리를 리용하면 이미 순서가 정해진대로 전등이 깜빡거리야 하는 여러가지 점멸기들도 만들수 있다.

[실습] 부진기를 리용한 점멸기의 조립과 시험

1. 부진기를 리용한 점멸기의 조립

부진기를 리용한 점멸기의 조립은 인쇄기판에 마지막단으로부터 거꾸로 나오면서 진행한다.(회로도는 그림 4-80과 같다.)

인쇄기판의 인쇄회로는 그림 4-82에 주었다.

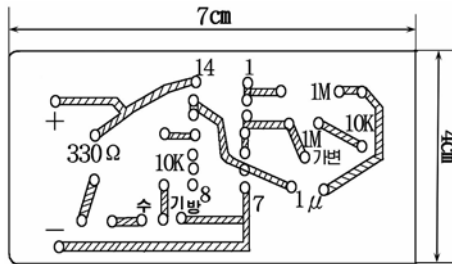


그림 4-82. 점멸기의 인쇄회로

매 단의 조립에서는 먼저 저항기와 축전기를 해당한 구멍에 쫓고 납땀하여 조립한 다음 반도체3극소자와 발광2극소자, 집적회로는 마지막에 조립한다.

집적회로를 조립할 때에는 잘 가열된 전기인두와 질이 좋은 납과 송진을 리용하여 짧은 시간에 때야 한다.

① 인쇄기판 및 부품품의 다리에 납물올리기

인쇄기판의 땀할 부분과 부속품들의 다리는 먼저 납물올리기를 하고 해당한 구멍에 끼워서 납땀하는것이 좋다.

인쇄기판의 땀할 부분을 칼이나 연마종이로 긁어서 윤기가 나게 한 다음 송진을 발라주고 전기인두를 가져다대면 인차 납물이 오르면서 땀하기가 쉬워진다.

다른 전자요소들도 송진을 리용하여 먼저 납물을 올려놓고 납땀하여야 짧은 시간에 납땀을 진행할수 있다.

② 저항기, 축전기의 조립

저항기들과 축전기들을 해당한 구멍에 끼우고 전기인두로 납땀한다.

③ 반도체소자와 집적회로의 조립

반도체3극소자는 방사극과 기초극, 수전극을 잘 가려보고 인쇄기판의 해당한 구멍에 끼우고 납땀한다.

집적회로는 다리들이 구부러지지 않게 조심히 끼우되 다리번호가 혼돈되지 않도록 끼워야 한다.

납땀할 때에는 집적회로의 다리와 다리사이간격이 좁으므로 납물이 흘러서 서로 련결되지 않도록 해야 한다.

납땀과정에 련접한 다리들이 붙은 경우 칼로 끊어내거나 전기인두로 녹여서 분리시킨다.

집적회로의 다리를 납땀할 때 지나치게 열을 오래 주면 집적회로의 특성이 변할수 있으며 또 인쇄기판이 못쓰게 될수 있으므로 2~3s이내의 짧은 시간에 하여야 한다.

발광2극소자는 극성을 가지고있으므로 주의하여 납땀해야 한다.

2. 점멸기의 시험과 조종

1) 시험

점멸기의 조립이 끝나면 먼저 전원을 걸어주지 않은 상태에서 다음과 같은 시험을 진행한다.

집적회로와 3극소자, 발광2극소자의 극성이 정확한가, 저항기와 축전기들이 자기 위치에 조립되었는가, 납땀은 제대로 되었는가를 눈으로 확인한다.

회로시험기를 리용하여 도통시험을 하여 매개 요소들이 정확히 련결되었는가, 인쇄배선이 끊어진 곳은 없는가, 집적회로다리들이 잘못 납땀되지는 않았는가를 검사한다.

2) 조종

① 전원전압을 5V로 고정하여 점멸기인쇄기판의 전원단자에 련결한다. 이때 발광2극소자가 켜졌다꺼졌다하면 회로가 정상이고 계속 켜져있던가 꺼져있으면 회로가 정상동작을 하지 못하는것이다.

② 점멸기회로가 정상동작을 한다고 판정되면 먼저 축전기 C(1 μ F)의 값을 0.47 μ F 또는 2.2 μ F 등 다른 값으로 바꾸어본다.

이때 점멸기의 점멸속도가 달라지게 되는데 그 원인을 분석해본다.

③ 같은 원리로 가변저항기 R₂를 조절하면서 점멸속도가 어떻게 변화되며 그 원인은 무엇인가를 알아낸다.

④ 이와 같은 방법으로 저항기나 축전기들의 값을 달리해보면서 그것들이 발진회로의 주파수에 어떤 영향을 주며 어떤 역할을 하는가를 시험한다.

⑤ 만일 발진이 일어나지 않아서 점멸기가 동작하지 않는 경우에는 집적회로가 고장이 아닌가 검사하는것과 함께 발광2극소자가 정상인가, 발광2극소자구동용3극소자가 고장이 아닌가를 회로시험기로 검사한다.

점멸기의 시험에서는 규정된 5V의 직류전원을 주는것을 원칙으로 한다. 만일 회로의 동작이 비정상인 경우 요소를 교체할 때에는 반드시 전원을 끄고 납땀하여야 하며 그렇지 않으면 집적회로가 파괴될수 있다.

3. 수자식전자시계

1) 수자식전자시계의 회로구성

전자시계라고 하면 일반적으로 그 표시수단이 무엇인가에 따라서 바늘표시를 쓴 기계표시방식의 전자시계와 액정표시소자나 발광2극소자, 형광표시소자 등의 수자표시소자를 쓴 수자표시식전자시계로 나눌 수 있다.

(1) 바늘표시식전자시계

바늘표시식전자시계는 그림 4-83에서 보는것처럼 수정진동자와 발진회로, 분주회로, 출구회로, 변환기, 표시기 등으로 구성된다.

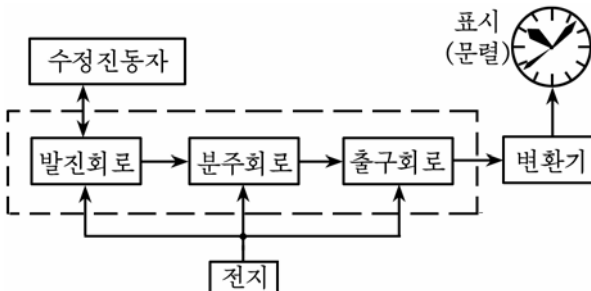


그림 4-83. 바늘표시식전자시계

수정진동자는 일반적으로 높은 안정도를 가진 주파수의 신호를 발진시킬 목적으로 리용하는데 보통 수십kHz~수MHz의 구형파를 발진하는것들이 있다.

실례로 《백두산》전자벽시계와 《칠보산》손목시계는 발진주파수가 32 768Hz인 수정편을 쓰고있다.

발진회로는 C-MOS집적회로를 쓴 발진회로로 구성되며 분주회로는 위에서 본 32 768Hz의 신호를 1Hz까지 낮추는 사명을 수행한다.

분주회로의 출구신호(1Hz)는 출구회로에서 증폭된 다음 시계바늘과 연결된 변환기(전동기)를 동작시킨다.

바늘표시식전자시계들에서 발진회로, 분주회로, 출구회로 등은 하나의 소편으로 된 대규모집적회로로 구성되며 따라서 소비전력은 대단히 작아서 수십 μ W정도로 된다.

(2) 수자표시식전자시계

그림 4-84에 가장 간단한 수자표시식전자시계의 구성도를 보여 주었다.

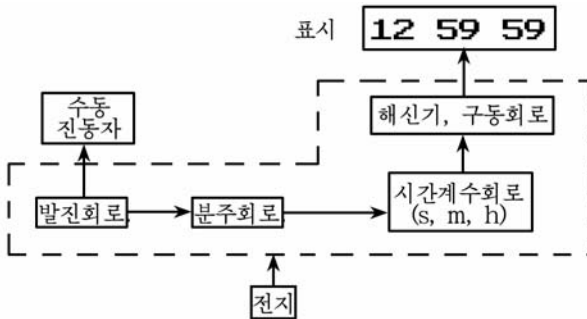


그림 4-84. 수자표시식전자시계

수자표시방식의 전자시계는 기계표시방식의 전자시계와는 달리 회로가 좀 복잡하다.

수정진동자와 발진회로, 주파수분할회로(분주회로) 등은 기계표시방식전자시계와 같지만 분주회로의 출구신호는 시간계수회로라고 부르는 회로가 들어간다.

시간계수회로는 s, m, h단위로 1Hz의 임펄스를 썬세기하여 출구신호를 해신기에 보낸다. 해신기는 이 신호를 받아 해당한 표시소자를 구동하게 된다.

일반적으로 수자표시방식의 전자손목시계는 표시장치가 액정으로 되어있으므로 소비전력은 수 μ W정도이다.

2) 수자식초시계

시간의 기본단위는 초(s)이며 어떤 시계이든지 시간은 모두 이 s를 단위로 하여 표시한다.

여기서는 00s부터 99s까지의 시간을 측정할수 있는 수자표시방식의 초시계를 통하여 수자표시방식전자시계의 원리를 보자.

수자식초시계도 역시 시계이므로 일반적인 시계의 구성에서처럼 기준임펄스발진회로와 주파수분할회로, 셈회로, 표시회로 등으로 구성된다.(그림 4-85)




그림 4-85. 수자식초시계의 구성도

기준임펄스발진회로는 수정편을 쓴 발진회로나 3극-3극소자론리(TTL)집적회로를 쓴 발진회로, C-MOS집적회로를 쓴 발진회로 등 여러가지 방식을 리용할수 있다.

그림 4-86에 점멸기에서와 같이 문회로에 의한 RC발진회로를 리용한 기준임펄스발진기의 회로를 주었다.

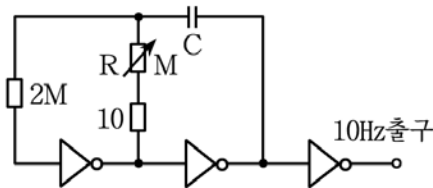


그림 4-86. 기준임펄스발진회로

이 회로의 주파수는 10Hz의 주파수를 발진하는 회로를 리용한 경우를 보기로 한다.

시정수요소들인 저항기 R는 온도특성이 좋은 금속피막저항기를 쓰며 축전기로는 무극성축전기를 리용하여 주파수편차가 될수록 작게 하면서도 주파수안정성을 높일수 있도록 한다.

주파수분할회로는 기준임펄스발진회로에서 얻어진 신호를 주파수분할하여 1Hz의 출구신호를 얻는다.

기준임펄스발진회로의 출구주파수가 10Hz이므로 10진셈소자 1개이면 1Hz의 임펄스를 얻을수 있게 된다. 그러므로 10진셈소자 7490을 1개로 구성하였다.(그림 4-87)

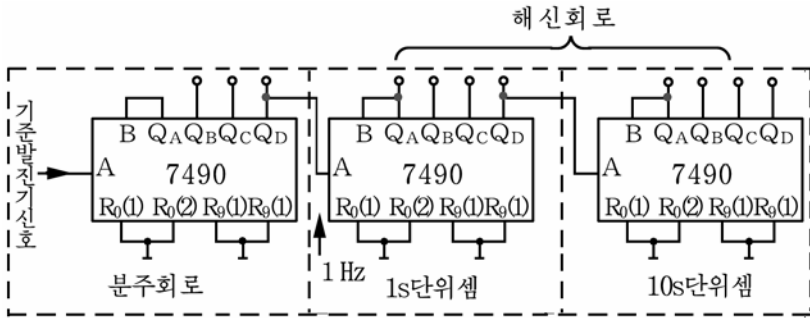


그림 4-87. 주파수분할 및 셈회로

만일 기준발진주파수가 100Hz라면 7490을 2개 쓰고 1 000Hz라면 3개의 7490의 재설정단자들인 $R_0(1)$, $R_0(2)$, $R_9(1)$, $R_9(2)$ 들은 모두 접지시키고 출구 Q_A 와 입구 B는 밖에서 연결하여 10진셈동작을 할 수 있도록 하였다.

이제 주파수분할용셈소자의 입구 A도 10Hz의 임펄스가 들어오면 셈소자의 제일 마지막출구인 Q_D 에는 1Hz의 임펄스가 얻어진다. 이렇게 얻어진 1Hz의 임펄스는 셈회로의 입구로 들어간다.

셈회로는 1s단위의 셈회로와 10s단위의 셈회로로 나누어볼수 있다.

1s단위의 셈소자의 출구 Q_A , Q_B , Q_C , Q_D 와 10s단위의 셈소자의 출구들은 각각 해신기소자 7447의 입구 A, B, C, D와 직접 연결된다.

1s단위셈회로는 10진회로이므로 10개의 임펄스가 들어오면 다음자리(10s단위)로 자리옮김을 한다. 즉 0~9까지 셈세기를 하고는 다음자리로 1을 보내고 다시 0부터 센다.

10s단위의 셈회로도 이와 똑같은 동작을 하지만 9 다음자리에 0

자리가 없으므로 자리옮김도 없다.

만일 초시계에서 00~99까지가 아니라 00~59까지 60s를 측정하는 초시계로 만들자면 10s단위의 셈회로를 6진셈회로로 만들어야 한다.

7490을 리용하여 6진셈회로를 만들자면 6을 표시하는 순간에 지우기를 하게 해야 한다. 이렇게 하자면 소자 6에 대응하는 BCD코드 <0110>에서 <1>인 출구 Q_C , Q_B 의 출구신호를 지우기단자들인 $R_0(1)$, $R_0(2)$ 에 보내주면 된다.

기타 나머지회로도 원리상 같다.

해신회로에서는 셈회로에서 셈세기한 내용을 10진수로 바꾼다. (그림 4-88)

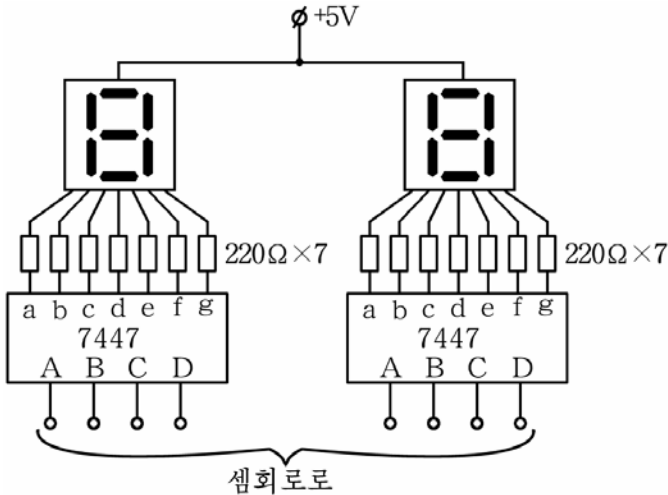


그림 4-88. 초시계의 해신회로

해신기로는 7447을 리용하였으며 해신기의 표시등검사단자 LT와 선행령억제입구 RBI, 선행령억제출구 RBO들은 개방상태로 내버려두어도 된다.

집적회로 7446, 74247 등도 단자배치와 특성이 꼭 같으므로 대신해서 쓸수 있다. 표시소자로는 공동양극형 7조각소자를 리용하였다.

만일 표시소자가 공동음극형이면 해신기용집적회로는 7448, 7449 또는 4511을 리용하여야 한다.

[실습] 수자회로의 동작고찰

1. 회로와 동작원리

그림 4-89에 실습하려는 회로도를, 그림 4-90에는 조립도를 보여 주었다.

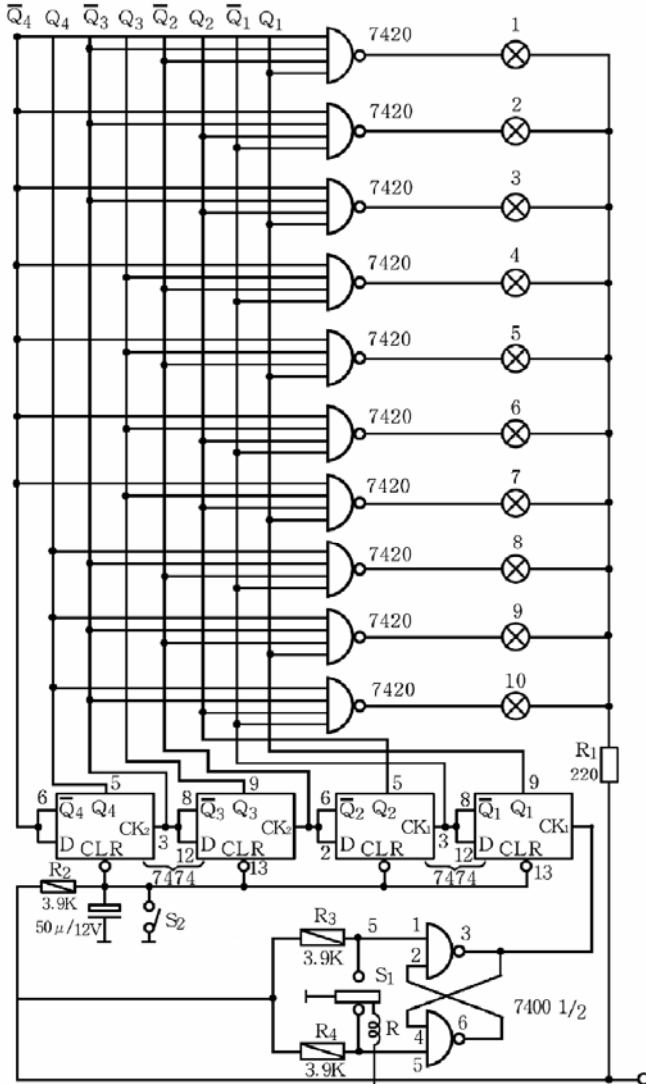


그림 4-89. 실습회로

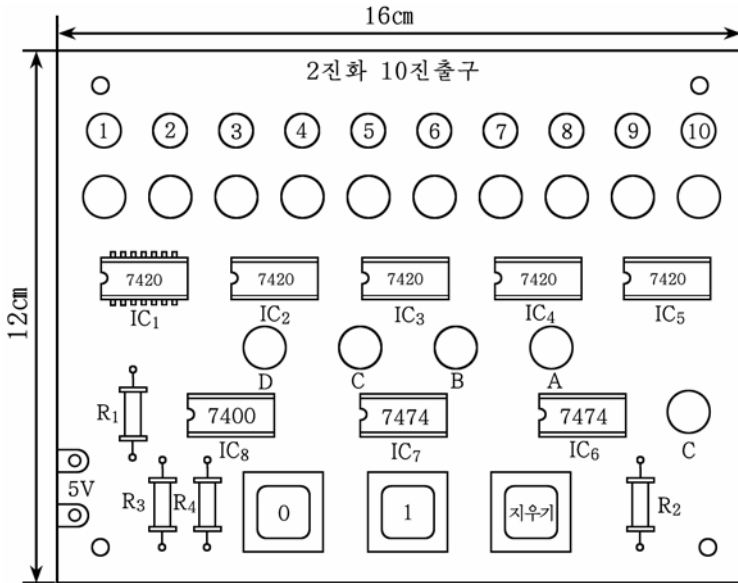


그림 4-90. 조립도

1) 회로구성과 집적회로들의 역할

회로는 크게 3개의 부분으로 이루어져있다. 즉 집적회로 7400으로 이루어진 신호발생회로, 집적회로 7474 2개로 이루어진 셸회로, 집적회로 7420 5개로 이루어진 10진해신기로 구성되어있다.

저항 R_1, R_2, R_3, R_4 는 집적회로에 지나친 전류가 흐르는것을 막기 위한 전류제한저항들이고 $50\mu F$ 의 축전기는 전원ripple요소이다.

(1) 7400

이 집적회로는 4중2입구논리곱하기 부정소자이다.

집적회로 7400의 기능 및 단자배치도를 그림 4-91에 주었다.

소자에 들어있는 4개의 2입구논리곱하기부정회로가운데서 2개를 써서 S-R 방아쇠회로를 구성하였다.

그림 4-89에서 1~6까지의 수자는 7400의 단자번호이다.

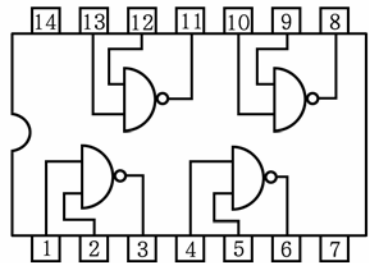


그림 4-91. 집적회로 7400의 기능 및 단자배치도

이 S-R방아쇠회로에서는 스위치 S_1 을 우아래로 움직일 때마다 출구(단자 3)에 한개씩의 구형임펄스가 나온다.

(2) 7474

이 소자는 D방아쇠집적회로로서 소자안에는 오름면시동D방아쇠회로가 2개 들어있다. 그러므로 총 4개의 D방아쇠회로를 가지고 셈회로를 구성하였다.

그림 4-92에서 보는바와 같이 매 방아쇠회로의 입구는 동기임펄스단자 CK로 하였으며 출구 \bar{Q} 는 D단자와 묶어서 다음 방아쇠회로의 입구단자 C K에 연결하였다. 그리고 CLR는 지우기단자인데 4개의 방아쇠회로의 CLR 단자를 공동으로 묶어서 스위치 S_2 에 연결하였다. S_2 을 닫으면 이 단자에 <0>이 들어가 모든 출구가 <0>으로 된다.

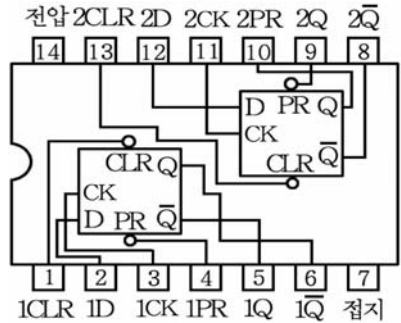


그림 4-92. 집적회로 7474의 단자배치도

(3) 7420

이 소자는 그림 4-93에서 보는바와 같이 2중4입구론리곱하기부정집적회로이다. 즉 4개의 입구 가운데서 하나라도 <0>이면 출구는 <1>로 되고 4개의 입구가 다 <1>일 때 출구가 <0>으로 된다.

7420소자 5개로 10진해신기회로를 구성하였다. 매 논리곱하기부정회로의 출구에는 표시등(발광2극소자)이 연결되어 있다. 논리곱하기회로의 4개의 입구가 모두 <1>일 때 출구가 <0>으로 되면서 표시등으로 전류가 흘러 불이 켜진다.

매개 집적회로와 회로에는 직류전압 +5V가 공급되는데 이 직류전원회로는 그림에 표시하지 않았다.

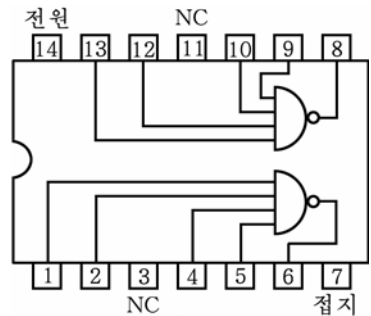


그림 4-93. 집적회로 7420의 단자배치도

2) 동작원리

먼저 S-R방아쇠회로의 스위치 S_1 을 우아래로 움직일 때 출구(③번단자)에 구형임펄스가 생기는 원리를 보자.

스위치 S_1 이 그림에서와 같이 되어있는 상태에서는 $R=0$, $S=1$ 이므로 S-R방아쇠회로의 출구는 <0>이다.

스위치 S_1 을 우로 올리면 $S=0$, $R=1$ 로 되며 S-R방아쇠회로의 출구는 $\langle 1 \rangle$ 로 된다.

다음 S_1 을 다시 아래로 내리면 출구는 $\langle 0 \rangle$ (이때 $R=0$, $S=1$ 로 되므로)으로 되어 하나의 구형임펄스가 형성된다.

이와 같은 원리로부터 S-R방아쇠회로에서는 S_1 을 우아래로 움직일 때마다 출구에 한개씩의 구형임펄스가 나온다.

다음으로 셈회로부분의 동작을 보자.

스위치 S_2 을 올렸다가 내리면 방아쇠회로의 모든 지우기(CLR) 단자에 $\langle 0 \rangle$ 이 들어가므로 방아쇠회로의 출구는 $Q_4Q_3Q_2Q_1=0000$, $\overline{Q_4}\overline{Q_3}\overline{Q_2}\overline{Q_1}=1111$ 로 된다. 그러면 매 론리곱하기부정회로(7420)는 입구가 어느 하나라도 $\langle 0 \rangle$ 이 되기때문에 출구는 $\langle 1 \rangle$ 로 된다. 따라서 모두 켜지지 않는다.

첫 임펄스가 들어오면 그의 오름면에서 첫 방아쇠회로가 동작하여 출구 Q_1 은 $\langle 0 \rangle$ 에서 $\langle 1 \rangle$ 로, $\overline{Q_1}$ 는 $\langle 1 \rangle$ 에서 $\langle 0 \rangle$ 으로 상태가 전환된다.

두번째 방아쇠회로의 입구는 첫 방아쇠회로의 $\overline{Q_1}$ 출구와 연결되어 있다. 그런데 방아쇠회로는 정극성시동이므로 $\overline{Q_1}$ 는 $\langle 1 \rangle$ 에서 $\langle 0 \rangle$ 으로 되어도 두번째 방아쇠회로는 동작하지 않는다. 따라서 세번째, 네번째 방아쇠회로도 동작하지 않고 처음상태를 유지한다.

이리하여 첫 임펄스가 작용할 때 4개의 셈회로방아쇠의 출구는 $Q_4Q_3Q_2Q_1=0001$, $\overline{Q_4}\overline{Q_3}\overline{Q_2}\overline{Q_1}=1110$ 으로 된다. 이때는 첫번째 4입구론리곱하기부정회로의 4입구가 모두 $\langle 1 \rangle$ 로 되어 그의 출구가 $\langle 0 \rangle$ 이므로 첫번째 표시등만 불이 켜진다. 다른 4입구론리곱하기부정회로들은 그 입구가 다같이 $\langle 1 \rangle$ 로 되지 못하므로 그 표시등들은 불이 켜지지 못한다.

다음 두번째 임펄스가 들어오면 첫 방아쇠회로의 출구 Q_1 은 $\langle 1 \rangle$ 에서 $\langle 0 \rangle$ 으로, $\overline{Q_1}$ 는 $\langle 0 \rangle$ 에서 $\langle 1 \rangle$ 로 된다.

두번째 방아쇠회로의 입구와 연결된 $\overline{Q_1}$ 가 $\langle 0 \rangle$ 에서 $\langle 1 \rangle$ 로 되므로 두번째 방아쇠회로도 동작하여 그의 출구 Q_2 는 $\langle 0 \rangle$ 에서 $\langle 1 \rangle$ 로, $\overline{Q_2}$ 는 $\langle 1 \rangle$ 에서 $\langle 0 \rangle$ 으로 된다. $\overline{Q_2}$ 가 $\langle 1 \rangle$ 에서 $\langle 0 \rangle$ 으로 되므로 세번째 방아쇠회로는 동작하지 못하고 이전상태를 유지한다.

결과 두번째 임펄스가 들어올 때 4개의 방아쇠회로의 출구는 $Q_4Q_3Q_2Q_1=0010$, $\overline{Q_4}\overline{Q_3}\overline{Q_2}\overline{Q_1}=1101$ 로 된다.

이때에는 두번째 4입구론리곱하기부정회로의 4입구가 모두 <1>로 되므로 두번째 표시등에 불이 온다.

같은 원리로 세번째 임펄스가 들어오면 $Q_4Q_3Q_2Q_1=0011$, $\overline{Q_4}\overline{Q_3}\overline{Q_2}\overline{Q_1}=1100$ 으로 되면서 세번째 4입구론리곱하기부정회로에 련 결된 표시등에 불이 오게 한다.

네번째, 다섯번째, ... 임펄스에 대해서도 같은 원리로 동작한다.

2. 실습준비

① 실습하려는 회로를 깊이 학습하여 회로구성과 동작원리를 환히 꿰뚫고있어야 한다.

② 회로의 동작을 선도로 그리기 위한 방안지(그물모양으로 잘게 줄칸을 친 종이) 1장(16절지 규격으로)

③ 회로시험기(론리회로시험기가 있으면 더 좋다.)

3. 실습방법

① 전원스위치를 넣어 회로에 직류전압 +5V가 공급되도록 한다.

② 셴회로방아쇠회로의 Q출구를 모두 0으로 하기 위하여 스위치 S_2 를 눌렀다 놓는다. 그러면 방아쇠회로의 모든 지우기(CLR)단자에 <0>이 들어가서 표시등이 모두 꺼진다.

③ 스위치 S_1 을 조작하여 S-R방아쇠출구에 임펄스를 발생시키면서 임펄스개수에 따라 해당한 표시등이 켜지는것을 관찰한다.

④ 회로시험기로 방아쇠회로, 론리곱하기부정회로의 입구 및 출구 전압을 매번 측정하여 진리값표를 작성한다.

⑤ 4개의 D방아쇠회로에 대한 동작과형선도를 그린다.

4. 실습에 대한 결속

학생들이 다음과 같이 실습보고서를 작성하여 실습지도교원에게 바 쳐야 한다.

① 집적회로 7400, 7474, 7420의 다리배치도와 진리값표

② 실습에서 측정한 전압값과 그것으로 작성한 진리값표

③ 셴회로의 동작시간선도

제5장. 《삼일포》천연색TV

위대한 령도자 김정일대원수님께서서는 다음과 같이 말씀하시였다.

《오늘 텔레비전기술은 방송분야에서만이 아니라 인민경제와 과학연구 사업에 널리 리용되고있습니다.》

TV방송은 화면과 음성이 배합된 아주 생동하고 우월한 선전선 동수단으로서 사람들의 사상문화생활에서 커다란 역할을 놓고있다.

TV방송을 통하여 나라의 방방곡곡에 당의 로선과 정책이 전달되며 과학과 기술, 문화지식이 보급되고있다.

위대한 수령 김일성대원수님과 위대한 령도자 김정일대원수님의 현명한 령도에 의하여 우리 나라에서는 이미 온 나라의 TV화가 빛나게 실현되었으며 우리 인민들은 누구나 질 좋은 TV를 갖추어놓고 문화정서생활을 마음껏 누리고있다.

TV은 흑백색TV으로부터 천연색TV으로 다시말하여 전자관식, 반도체소자식, 집적회로식, 대규모집적회로식, 수자식으로 급속히 발전하여왔으며 오늘날에 와서 흑백색TV은 점차 자취를 감추게 되었다.

현대전자공학의 성과들이 집대성되어있는 천연색TV에 대하여 잘 알고 능란하게 다루자면 무엇보다도 천연색TV에 대한 기초지식부터 튼튼히 다지고 꾸준히 학습하여야 한다.

제1절. 천연색TV에 대한 일반지식

1. 색에 대한 일반지식

1) 색

천연색TV을 리해하자면 색에 대한 개념을 알고있어야 한다.

색에 대한 정확한 개념을 알아야 천연색TV의 원리를 파악할수 있으며 천연색TV을 발전시킬수 있다.

색이란 한마디로 말하여 물체가 내보내는 빛의 속성으로 표현되는 데 빛의 파장(주파수)에 따라 구별되는 감각이다. 다시말하여 빛에 의하여 눈에 느끼는 물체의 성질을 색이라고 한다.

파장에 따르는 색깔분포를 그림 5-1에 주었다.

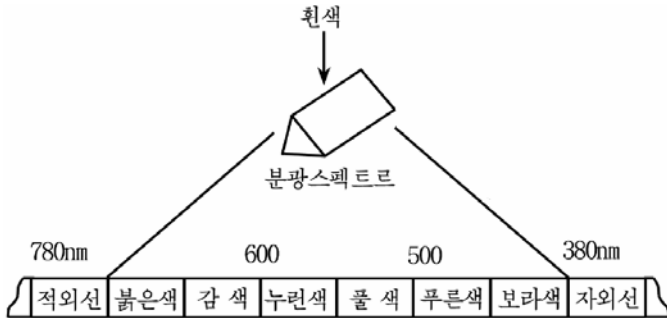


그림 5-1. 색의 파장범위

2) 색의 3요소

(1) 색상

색상은 붉은색, 누런색, 풀색, 푸른색과 같은 색의 상태를 색의 종류로 특징지어주는 색의 속성이다.

색상은 색을 표시하는 가장 중요한 속성으로서 색깔느낌의 기본이라고 할수 있다.

(2) 색포화도

같은 색상을 가진 색이라고 하더라도 연한것과 짙은것으로 갈라볼수 있다.

색포화도는 색의 농도 또는 짙은 정도를 나타내는 색의 속성이다.
(간단히 포화도라고 한다.)

색상과 색포화도는 색의 기본성질을 나타내기때문에 이것을 통털어 색도라고 한다.

색상은 색의 종류이고 포화도는 색에 흰색이 포함되는 비율이다.

(3) 색밝기

밝고 어두운 색느낌의 성질을 밝기라고 한다.

3) 색의 합성

천연색TV은 세가지 색의 빛을 내는 형광체에 의하여 여러가지 색을 얻는다.

이 세가지 색을 색더하기법(가색법)의 3원색이라고 하는데 여기에는 붉은색(R), 풀색(G), 푸른색(B)이 속한다.

이 3원색으로 모든 색을 합성할수 있으며 얻어진 색은 자연의 색과 별로 차이가 없다.

색더하기법에 의한 색의 합성을 그림 5-2에 주었다.

그림에서 보는바와 같이 여러가지 색의 빛을 흰 판에 비치고 그것들을 겹치면 새로운 다른 색이 얻어진다.

이것을 **색더하기법**이라고 한다.

천연색수상판에는 붉은색, 푸른색, 풀색으로 된 작은 점광원조가 30만개 이상 배열되어있다. 그러므로 붉은색, 풀색, 푸른색의 점광원 한조로 빛을 내는 방법에 따라 여러가지 색을 얻을수 있다.

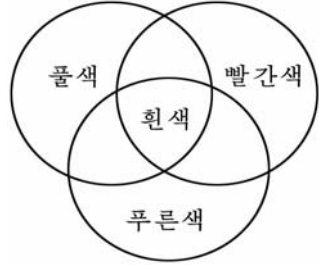


그림 5-2. 색더하기법(가색법)에 의한 색의 합성

2. 천연색TV의 량립성

흑백색TV의 영상신호성분은 0으로부터 6MHz까지의 주파수대역을 차지하고있지만 천연색TV에서는 3개의 신호를 보내야 하기때문에 6MHz만 한 대역의 3배 즉 18MHz의 주파수대역이 필요하다.

그런데 이렇게 넓은 대역을 가진 전자장치들을 만들자면 기술적으로 복잡한 문제들이 제기된다.

이렇게 되면 천연색TV으로 흑백색TV방송을 시청할수 없다. 그러므로 천연색TV에서는 이런 불합리한 점을 없애기 위하여 흑백색TV방송이 차지하는 주파수대역에 천연색TV의 밝기신호(즉 흑백색영상신호)성분과 색신호성분을 끼워넣어 그 주파수대역을 흑백색TV과 같게 하고있다.

이렇게 하면 천연색방송을 하는 경우에 천연색TV에서는 천연색화면이 그대로 나타나고 흑백색TV에서는 그것이 흑백색화면으로 나타난다. 반대로 흑백색방송을 하는 경우에는 천연색TV에서나 다 흑백색화면을 볼수 있다

이것을 TV에서의 **량립성**이라고 한다.

3. 천연색TV의 표준방식과 색합성영상신호

1) 천연색TV의 표준방식

천연색TV에서는 송신쪽에서 영상을 분해하여 순차로 보내고 수신 쪽에서 순차로 조립하여 화면을 얻으므로 여기서는 송수신쪽에서의 분해조립방법이 정해져야 한다. 천연색TV의 표준방식은 이와 같은 분해조립방식을 결정하여놓은것을 말하는데 여기에는 몇가지 방식이 있다.

표준방식의 내용에는 전개방식, 주사선수, 매초화면수, 동기신호의 형태, 변조방식, 영상과 음성 피변조과대역의 너비 등이 포함된다.

표준방식에서 기본은 주사선수이다.

우리 나라에서는 625주사선체계로 하고있다.

(1) 전개방식

전개 방식에는 순차식전개와 간격식전개방식이 있다.

순차식전개란 처음부터 모든 주사선을 하나도 빠짐없이 차례로 전개하는 방식이다.

이 방식은 화면에서 재현되는 영상이 깜박거리므로 현재 쓰지 않는다.

간격식전개란 처음에 홀수번째 주사선을 전개하고 다음에 짝수번째 주사선을 전개하는 방식 즉 다시말하여 옹근 한개의 화면을 두개의 반화면으로 나누어 전송하는 방식을 말한다.

(2) 주사선수와 매초화면수

한개 화면안에 들어가는 주사선의 수가 많을수록 영상이 선명하고 부드럽게 되살려진다. 그렇다고 하여 주사선의 수를 지내 많이 하려면 여러가지 기술적문제들이 제기된다. 그러므로 주사선수는 일정한 값으로 규정하고있다.

이 주사선의 수는 나라마다 약간씩 차이난는데 우리 나라 TV체계에서는 625방식(하나의 영상을 세로로 625등분한 방식)을 쓰고있다. 즉 주사선수를 625로 하고있다.

사람의 눈은 어떤 빛을 받으면 그것이 사라진 다음에도 약 0.1s만한 시간동안 그것을 기억하는 성질을 가지고있다. 그러므로 매초 16번 이상 바뀌어지는 화면에 대해 서로 갈라보지 못하고 련속된 장면으로 느끼게 된다. TV에서는 매초 25개의 영상이 흐른다.

(3) 동기신호의 형태, 변조방식, 영상과 음성피변조파대역너비

동기신호에는 수평동기신호, 수직동기신호, 색동기신호가 있으며 변조방식은 영상신호는 진폭변조, 음성신호는 주파수변조이다.

영상과 음성피변조파대역은 6.5MHz이다.

2) 색합성영상신호

TV방송국에서 보내는 흑백색TV방송신호는 합성영상신호이다.

이 합성영상신호는 영상신호와 동기신호로 이루어져있다. 여기에는 색을 나타내는 신호가 없다.

천연색TV방송의 량립성을 보장하기 위하여 이 합성영상신호에 색도신호로 변조된 파와 색동기신호를 넣어야 한다. 다시말하여 색합성영상신호에는 색도신호와 함께 흑백색TV에서와 같은 밝기신호가 있어야 한다. 그러므로 색합성영상신호에는 밝기신호, 동기신호, 색도신호로 변조된 파와 색동기신호가 포함되어있다.

색합성영상신호를 그림 5-3에 주었다.

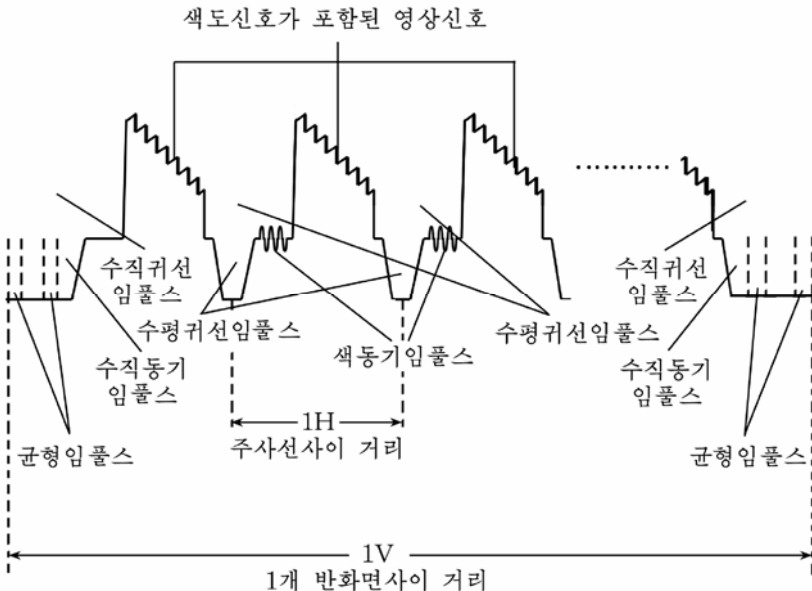


그림 5-3. 색합성영상신호

4 천연색TV의 세가지방식

천연색TV방송은 색영상신호를 어떤 원리와 방법을 써서 보내고 받는가 하는데 따라 방송방식(천연색TV체계)이 달라진다.

지금 세계적으로 알려진 천연색TV방식을 종합해보면 크게 세개의 부류 즉 팔(PAL), 엔티에스씨(NTSC), 세캄(SECAM)으로 갈라볼수 있다.

1) PAL방식

PAL방식의 이름은 주사선에 따르는 자리각엣바뀜이라는 영어의 첫 글자들을 따서 부르는것이다.

PAL방식은 NTSC방식에서와 같이 부반송파를 두개의 색차신호로 직각2이상 변조를 하여 전송색신호를 얻고 이것을 밝기신호에 겹쳐서 합성영상신호를 얻는 방식이다.

PAL방식이 NTSC방식과 다른것은 두가지 색차신호가운데서 하나의 색차신호 E_R-E_Y , E_B-E_Y 를 주사선마다 자리각을 180° 로 엣바꾸어 내보내는것이다.

PAL방식에서는 부반송파의 주파수를 부반송파의 장애가 화면에 될수록 덜 나타나게 하기 위하여 4.43MHz로 선정하고있다.

우리 나라 천연색TV방식은 PAL방식이다.

2) NTSC방식

NTSC방식의 이름은 국가TV체계위원회라는 영어의 첫 글자들을 따서 부르는것인데 흑백색TV525선 주사체계에 기초하고있다. 때문에 TV전송통로가 5MHz로 되어있다.

이 방식에서는 두 색차신호로 I, Q신호를 쓰고있다.

NTSC방식은 자리각차가 90° 인 부반송파를 두가지 색차신호로 각각 직각2상 변조하여 전송색도신호를 얻고 이것을 밝기신호에 겹쳐서 합성영상신호를 얻는 방식이다. 그러므로 부반송파의 진폭은 색포화도를 나타내고 자리각은 색상을 나타낸다.

부반송파가 흑백색TV에서 나타나는 점무늬장애가 가장 덜 나타나게 하기 위하여 부반송파의 주파수 3.58MHz으로 선정하고있다.

3) SECAM방식

SECAM방식의 이름은 순서대로 색도전송-기억이라는 영어의 첫 글자들을 따서 부르는것이다.

SECAM방식도 다른 천연색TV방식과 마찬가지로 영상대역안에 있는 부반송파를 두가지 색차신호로 변조하여 전송하는 방식이다. 이때 진폭변조가 아니라 주파수변조를 한다.

제2절. 천연색TV의 일반원리

1. 천연색TV방송의 일반원리

TV방송은 주위공간을 매질로 하여 정보를 주고받는 무선통신체계에 기초하고있다.

무선통신체계에서는 송신측에서 대상물체의 영상이나 소리파의 음성과 같은 구체적인 정보를 전기적신호로 바꾼 다음 이것을 증폭 및 변조하여 전자기파의 형태로 공간에 복사하며 수신측에서는 이 전자기파를 검출하여 다시 구체적인 정보로 되살린 다음 수상관과 고성기 등을 통하여 재생하는 방식을 취하고있다.

1) 천연색TV방송의 송신원리

천연색TV의 원리를 원만히 이해하자면 TV방송의 송신체계와 구성도에 대하여 잘 알아야 한다.

그림 5-4에 TV방송의 송신체계구성도를 주었다.

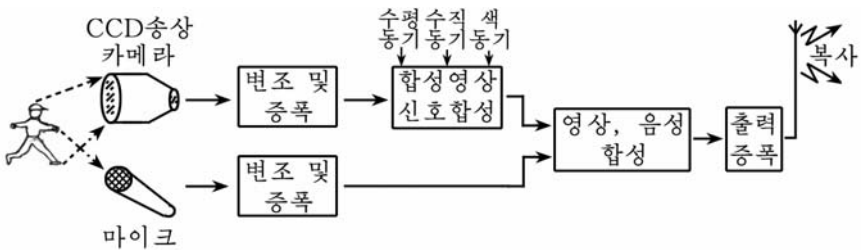


그림 5-4. 천연색TV방송의 송신체계구성도

TV방송의 송신체계는 크게 영상신호계통과 음성신호계통으로 이루어져있다.

영상신호계통에서는 우선 피사체(대상물체)로부터 오는 영상정보를 빛의 밝기와 색상의 형태로 수감하여 전기적신호로 바꾼다. 이것은 빛전하결합소자(CCD)를 수감부로 하는 송상카메라에 의해 실현된다.

CCD에 의해 영상정보는 붉은색, 풀색, 푸른색에 해당하는 전기적 신호의 적당한 비율로 갈라져 붉은색신호 E_R , 풀색신호 E_G , 푸른색신호 E_B 로 되며 행렬회로라고 하는 회로에서 전송색신호 E_R-E_Y , E_B-E_Y 와 밝기신호 E_Y 로 변환된다.

3원색신호를 전송색신호로 변환시키는 이유는 종전의 흑백색TV방송과의 량립성을 보장하기 위하여 지금까지 리용하여온 흑백색TV의 주파수대역(8MHz)에 색신호성분을 끼워넣기 위해서이다.

밝기신호 E_Y 도 바로 이 량립성을 만족시키기 위하여 만들어낸것이다.

이를 위하여 TV방송에서는 중첩통신기술이라는 특수한 기술을 리용하고있다.

E_R-E_Y , E_B-E_Y 와 같이 두 색신호의 차로 이루어진 신호를 **색차신호**라고 한다.

두 색차신호는 4.43MHz의 고주파신호에 태워져 반송색신호로 만들어진다.

이때 반송색신호의 주파수대역은 4.43MHz+1.3MHz로 보장된다. 이상의 과정은 위상변조의 특수한 형태인 직각위상변조에 의해 실현되며 이때 벡터크 값을 가지는 반송색신호의 위상은 색갈의 종류인 색상을 표시하고 진폭은 색의 농도인 색포화도를 나타낸다.

반송색신호(색도신호로 변조된 파라고도 한다.)는 밝기신호 E_Y 와 겹쳐지고 수신측과 그림을 일치시키기 위한 수평 및 수직동기신호, 색상을 맞추기 위한 색동기신호와 조합되어 합성영상신호로 만들어진다.

합성영상신호는 흑백색TV에서와 같이 보다 높은 주파수인 영상반송파(수십MHz~수백MHz)를 진폭변조한 다음 음성피변조파와 합쳐져 출력 증폭되어 안테나를 통해 공간에 복사된다.

음성신호계통에서는 음성파를 마이크를 통해 전기적신호로 바꾼 다음 이것을 증폭하고 6.5MHz의 고주파와 합성(주파수변조)하며 합성영상신호에 포함시켜 보내게 된다.

2) 천연색TV방송의 수신원리

천연색TV에서는 안테나를 통해 신호를 받아 본래의 정보인 영상파 음성을 되살리는 역할을 수행하므로 송신체계의 반대과정으로 이루어지게 된다.(그림 5-5)

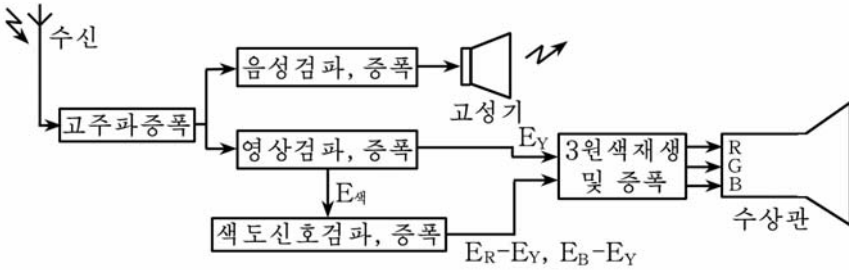


그림 5-5. 천연색TV수신체계구성도

천연색TV의 안테나를 통해 들어온 고주파신호의 세력은 수 μ V정도로써 아주 약하므로 이것을 우선 고주파증폭회로에서 검파에 필요한 준위까지 증폭하여야 한다. 다음 이로부터 영상신호부분과 음성신호부분을 따로따로 복조(검파)하여 실지정보인 영상신호와 음성신호를 얻은 다음 증폭하여 말단부하인 수상관과 고성기를 통해 영상과 음성으로 재생하게 된다.

영상신호계통에 들어온 합성영상신호는 먼저 밝기신호(E_Y)와 색도신호 $E_{색}$ 으로 선별되어 각각 밝기회로와 색도회로를 통해 증폭된 다음 다시 합쳐져 3원색재생회로를 통하여 3원색신호 E_R, E_B, E_Y 로 변환되어 수상관에 들어가게 된다.

3) 천연색TV수상관

수상관의 종류에는 여러가지가 있지만 여기서는 다공가림판식색수상관에 대하여 보기로 한다.(그림 5-6)

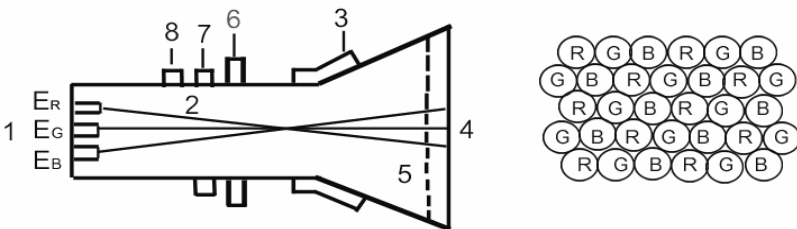


그림 5-6. 다공가림판식색수상관의 구조와 3색형광점의 배열

그림 5-6에서와 같이 다공가림판식색수상관의 구조는 붉은색, 풀색, 푸른색의 삼색신호를 받아들이는 3개의 음극전자총과 살창무늬의 다공가림판, 점상태의 삼색형광판을 가진 전자선관으로 이루어져있다.

형광면에는 붉은색, 풀색, 푸른색의 빛을 내는 형광체가 30만조(90

만~100만개)정도 배렬되어있으며 매개의 조는 다공가림판의 격자구멍과 수평직선을 이루고있어 세 전자총에서 방출된 전자선은 정확히 자기 색에 해당하는 형광점만을 타격하여 색을 내게 되어있다.

그러므로 3개의 전자총에 그에 해당하는 영상신호를 보내면 형광면에는 삼색영상이 겹쳐진 천연색화면이 나타난다.

[상식] 직각형수상관

지금 천연색TV에서 이전의 원형수상관이 아니라 직각형수상관이 많이 리용되고있으며 완전히 직각평면인 수상관도 보급되기 시작하였다.

그 특징을 보면 다음과 같다.

- 외부에서 들어오는 빛반사를 억제한다.

앞면의 곡률반경이 원형에 비하여 2배이므로 외부빛에 의한 빛반사를 30% 감소시킨다.

- 변두리에서 시각확인성이 높아졌다.

화면의 가장자리에 표시된 문자는 원형인 경우 판별하기 어려웠으나 FS관은 직각이므로 변두리에서 시각확인성이 15% 높아졌다.

- 결보기의 도형이지러짐이 감소되었다.

수상관에 표시된 도형은 일반적으로 보는 각도에 따라 이지러진다. FS관은 앞면이 보다 평면이므로 도형이지러짐도 적다.

- 표시령역이 커졌다.

직각형이므로 수직수평의 화면유효길이는 변하지 않으면서 표시령역이 커졌다.

2. 천연색TV의 기초지식

천연색TV는 전자공학과 임플스공학을 비롯한 최신전자기술의 종합체로 구성되어있어 천연색TV의 내부회로의 동작원리와 신호의 전달과정을 파악하자면 그 기초개념과 원리들에 대한 상식을 가져야 한다. 여기서는 천연색TV의 내부구조와 기능을 파악하는데 도움이 될수 있는 몇가지 개념과 원리회로들에 대하여 보기로 한다.

1) 변조와 복조(검파)

변조와 복조는 무선통신기술에서 가장 중요한 부분의 하나이다.

전자기파의 성질로부터 공간을 전파매질로 하는 무선통신에서 먼거리통신을 실현하자면 주파수가 아주 높은 전자기파를 리용하여야 한다.

실례로 음성신호의 주파수는 50Hz~15kHz로서 이것을 그대로 공간에 복사하면 멀리 전달되지 못하므로 이보다 주파수가 훨씬 높은 수십~수백 kHz이상의 고주파신호에 중첩시켜 보내야 한다.

이와 같이 유효한 정보를 나타내는 저주파신호를 그보다 훨씬 높은 고주파신호에 태우는 과정을 **변조**라고 한다.

이때 저주파신호를 **변조파신호**, 고주파신호를 **반송파신호**라고 하며 변조된 신호를 **피변조파신호**라고 한다.

수신측에서는 피변조파신호로부터 다시 유효한 정보를 나타내는 저주파신호를 갈라내야 하는데 이러한 과정을 **복조** 또는 **검파**라고 한다.

변조의 원리는 저주파신호의 모양에 따라 고주파신호의 진폭이나 주파수, 위상 등을 변화시키는 것으로서 그 종류도 여러가지가 있다.

진폭변조(AM)- 변조파신호의 진폭에 따라 고주파신호의 모양을 변화시키는 변조방식이다. (그림 5-7)

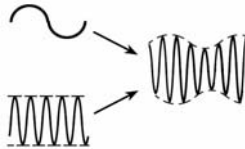


그림 5-7. 진폭변조파형

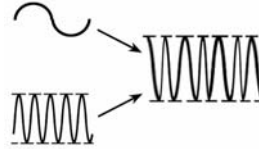


그림 5-8. 주파수변조파형

진폭변조는 라지오통신에서와 TV방송에서 합성영상신호의 변조에 이용한다.

진폭변조의 반대과정은 진폭검파이다.

주파수변조(FM)- 변조파신호의 모양에 따라 고주파신호의 주파수를 변화시키는 변조방식이다. (그림 5-8)

라지오통신과 TV방송에서 음성신호를 변조하는데 이용한다.

주파수변조의 반대과정은 주파수검파이다.

위상변조(PM)- 변조파신호의 모양에 따라 고주파신호의 위상을 변화시키는 변조방식이다. (그림 5-9)

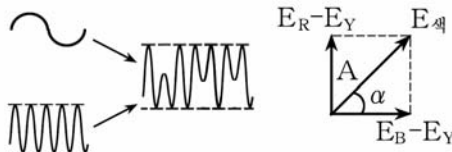


그림 5-9. 위상변조파형과 직각위상변조의 벡터선도

위상변조된 신호는 고주파신호의 진폭과 주파수는 일정하며 위상만이 변화된 상태로 된다.

색TV방송체계에서 위상변조의 한 형태인 직각위상변조를 리용하여 색차신호를 고주파에 태우고있다.

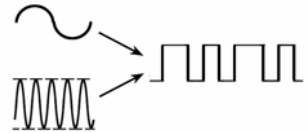
직각위상변조는 색신호를 전송할 때 두 색차신호의 위상을 90°만큼 차이나게 하여 4.43MHz의 반송파를 변조시키는 방식이다.

이때 반송색신호는 $E_{\text{색}} = a(E_R - E_Y)\cos \omega t + b(E_B - E_Y)\sin \omega t$ 로 표시된다.

그림 5-9에서 α 는 색상을, A는 색포화도를 나타낸다.

천연색TV에서는 직각위상변조된 반송색신호로부터 색차신호를 갈라내기 위해 동기검파를 리용한다.

임펄스너비변조(PWM) - 주파수변조와 원리상 비슷하며 임펄스의 너비를 변화시키는 변조방식이다. (그림 5-10)



최근 수자통신기술에서 많이 리용하고있다.

그림 5-10. 임펄스너비변조파형

2) 공진회로

공진회로는 무선수신체계에서 필요한 신호를 선택수신하기 위한 회로로서 전자기공진현상원리에 기초하고있다. (그림 5-11)

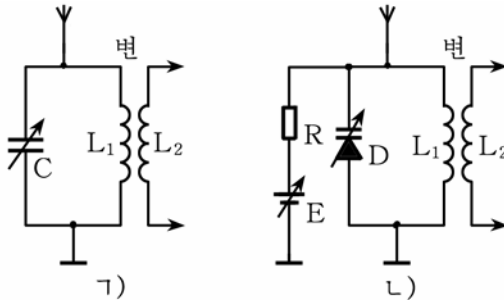


그림 5-11. 여러가지 공진회로

그림 5-11의 1)에서 변성기의 1차출토리 L_1 와 가변축전기 C는 공진회로를 이루고있으며 안테나에 걸린 각이한 주파수의 신호들 가운데서 공진회로의 고유공진주파수 $f_{\text{공}} = 1 / 2\pi\sqrt{L_1 C}$ 에 해당하는 신호만이 세계 공진되어 L_2 을 통해 다음단에 넘어가게 된다. 즉 C의 값을 변화시켜 필요한 주파수의 신호를 공진시켜 선택할수 있게 된다.

공진회로는 라디오와 TV에서 필요한 방송국의 통로를 선택수신하

는데 리용되며 최근에는 부피가 큰 가변축전기대신 가변용량2극소자를 리용하여 전자식으로 공진주파수를 변화시키고있다.(그림 5-11의 L)

3) 대역려파 및 흡수회로

대역려파회로- TV영상신호나 음성신호는 어떤 주파수를 기준으로 일정한 주파수의 범위내에 분포되어있다.

실례로 TV방송국에서 내보내는 영상신호의 주파수분포대역은 그림 5-12와 같다.

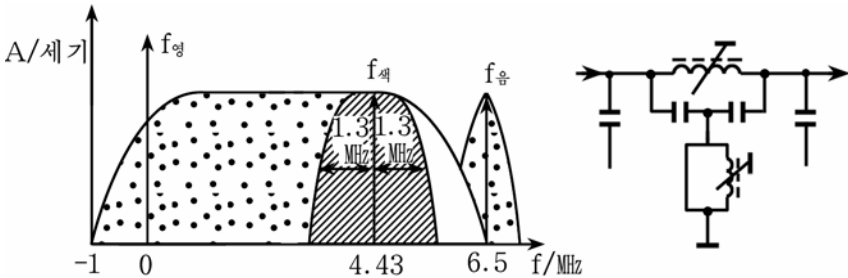


그림 5-12. 영상신호의 스펙트르곡선과 대역려파회로

이것을 영상신호의 주파수에 따르는 스펙트르곡선이라고 한다.

여기서 색신호가 차지하는 주파수분포는 $4.43\text{MHz} + 1.3\text{MHz}$ 이므로 색대역증폭회로에서는 이 근방의 신호만을 검출하여 처리하게 된다.

대역려파회로는 넓은 범위의 주파수성분으로부터 제한된 범위의 주파수성분만이 통과되도록 줄토리 L과 축전기 C로 구성된 공진회로의 형태를 취하고있으며 다른 부분의 주파수성분은 세계 잏아들도록 하는 특성을 가지고있다.

색TV에서 영상증폭회로의 색신호부분만을 갈라낼 때 $4.43\text{MHz} + 1.3\text{MHz}$ 의 대역려파기를 통과하며 이외에도 고주파신호로부터 영상중간주파증폭회로로 중간주파신호를 넘길 때 38MHz 의 공진회로, 영상중간주파증폭회로로부터 음성반송파신호를 선별할 때 6.5MHz 공진회로 등의 형식으로 리용된다. 최근에는 종래의 복잡한 LC공진회로형식으로부터 려파효과가 아주 크고 보다 간단한 곁면파사기려파소자가 개발되어 리용되고있다.(그림 5-13)

흡수회로- 넓은 범위의 주파수성분가운데서 일정한 부분의 주파수성분을 세계 감쇠시켜(잏아들게 하여) 다음단에 통과시키지 않는 회로를 말한다.(그림 5-14)

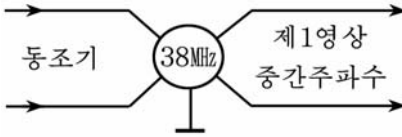


그림 5-13. 결면파사기려파소자에 의한 대역려파회로

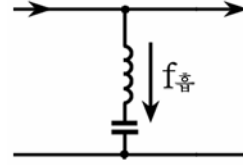


그림 5-14. 간단한 흡수회로

흡수회로는 LC직렬 공진의 원리에 기초하고있다.

L과 C로 결정되는 공진주파수성분은 접지를 통해 세게 흐르므로 다음단에 넘어가지 못한다.

실례로 천연색TV에는 영상증폭단에서 색성분을 제거하기 위한 4.43MHz 흡수회로, 음성신호성분을 갖아들게 하기 위한 6.5MHz 흡수회로 등이 있다. 전용흡수소자(6.5MHz)들도 개발되고있다.

4) 위상검출회로

두 신호의 위상차를 검출하는 회로이다.(그림 5-15)

두 신호 f_1 와 f_2 의 불일치성은 주로 위상차 α 와 주파수편차 df 로 특징지어지며 여기서도 기본은 위상차 α 이다. 위상차 α 는 대체로 전송통로에서의 이지러짐으로서 이 차이를 검출하여야 TV방송을 비롯한 무선통신에서 동시성과 정확성을 보장할수 있다.

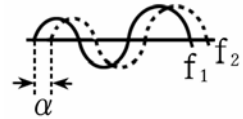


그림 5-15. 두 신호의 위상차 파형

위상검출회로는 두 신호의 주파수와 위상을 일치시키기 위한 조종 회로에서 리용된다.

이 회로는 천연색TV의 자동주파수조절회로(AFT), 자동위상조정 회로(APC) 등에 리용한다.

영상검파회로에서는 영상중간주파신호로부터 합성영상신호를 검파하여 여러개의 단으로 구성된 영상증폭회로에 보낸다. 한편 영상중간주파수와 음성중간주파수의 차주파수($38\text{MHz}-31.5\text{MHz}=6.5\text{MHz}$)인 음성제2중간주파수를 만들어 음성회로에 보낸다.

영상증폭회로에서는 먼저 합성영상신호에서 합성동기신호를 검출하여 동기회로에 보낸 다음 영상신호를 1단증폭한다. 증폭된 영상신호에서 색도신호를 분리하여 색도회로에 보낸 다음 Y지연선과 제2, 제3영상증폭회로를 거쳐 역행렬회로에 밝기신호 E_Y 를 보낸다.

3. 천연색TV의 일반적구성

천연색TV의 구성도를 그림 5-16에 주었다.

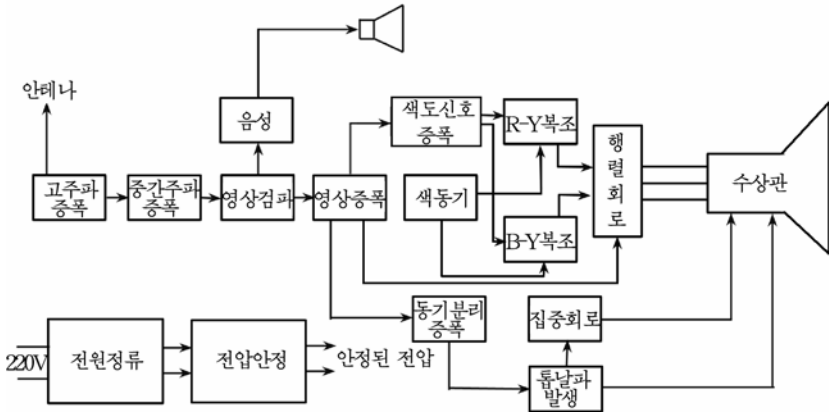


그림 5-16. 천연색TV의 일반구성도

그림 5-16으로부터 신호의 종합적인 흐름길은 다음과 같다.

안테나에 들어온 신호는 고주파증폭회로에서 선택되고 증폭된 다음 수상기의 고유한 주파수인 중간주파신호로 변환되어 중간주파증폭회로에 들어간다.

중간주파증폭회로는 3~4개 단으로 구성되어있으며 들어온 신호를 검파에 필요한 준위까지 증폭하여 검파단에 넘긴다.

영상검파회로에서는 먼저 6.5MHz의 음성제2중간주파신호를 갈라내어 음성회로에 보낸 다음 영상중간주파신호로부터 고유한 합성영상신호를 뽑아내어 여러개의 단으로 구성된 영상증폭회로에 보낸다.

영상증폭회로에서는 먼저 합성동기신호를 검출하여 동기회로에 보낸 다음 1단증폭하여 색도신호를 갈라 색도회로에 보낸다. 다음 Y지연선과 제2, 제3영상증폭회로를 거쳐 역행렬회로에 밝기신호성분 E_Y 를 보낸다.

색대역증폭회로에서는 대역려파기를 통해 4.43MHz 근방의 색신호만을 갈라내어 증폭한 다음 색동기신호를 선별하여 색동기회로에 보내고 동기검파를 진행하여 색차신호 E_R-E_Y , E_B-E_Y 를 복조한다.

색동기회로에서는 기준부반송파의 색동기임펄스를 리용하여 4.43MHz의 발진주파수와 위상을 조절함으로써 색차신호의 복조가 원만히 진행되도록 한다.

역행렬회로에서는 세 신호 E_Y , E_R-E_Y , E_B-E_Y 로부터 3원색신호 E_R , E_G , E_B 를 만들어내어 수상관회로를 려진시킨다.

한편 영상증폭회로에서 갈라진 동기신호는 동기분리회로에서 수평 동기신호와 수직동기신호로 갈라진 다음 해당 톱날파발생회로를 조정하여 색수상관의 전자기편향선류에 톱날파전류가 흐르게 한다. 이 전류는 영상신호에 따라 변하는 전자속의 방향을 조절함으로써 송상측과 동기를 맞추어 주사선을 일치시킨다.

색수상관에는 25kV의 양극전압을 걸어주며 음극에서 방출되는 전자속을 세게 끌어당긴다. 영상신호에 따르는 전자속전류는 가림판을 지나 형광관에 부딪치면서 색영상을 만들게 된다.

1) 동조기

동조기는 LC공진회로, 고주파증폭회로, 국부발진회로, 혼합회로로 이루어져있다. (그림 5-17)

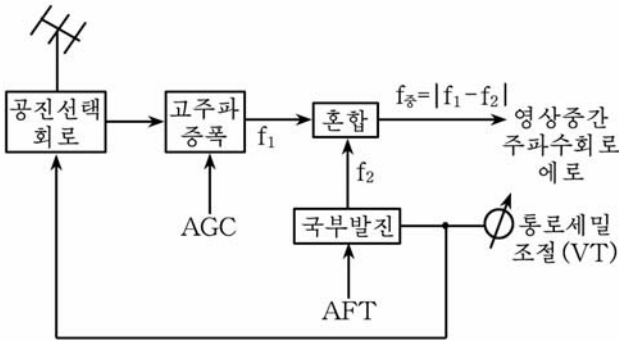


그림 5-17. 동조기의 구성도

동조기에서 기본은 안테나로부터 수신된 방송국의 신호를 그대로 증폭하여 보내지 않고 중간주파신호로 변환하는것이다.

수신되는 신호들의 주파수는 각이하므로 그대로 증폭하여 넘기자면 뒤단의 회로들에서 각이한 주파수에 대한 흡수회로와 공진회로들을 리용해야 하므로 상당히 복잡해진다.

그러나 안테나에 수신된 TV신호를 중간주파신호로 변환하면 결합단의 공진회로들이 일정해지고 조종이 간단해지며 신호의 증폭효률도 훨씬 높일수 있다.

이것은 혼합회로와 국부발진회로에 의해 실현된다.

고주파증폭단에서 넘어온 신호 f_1 는 국부발진기에서 만들어지는 신호 f_2 와 혼합단에서 혼합되어 그의 차주파수인 중간주파수 $f_{중} = |f_1 - f_2|$ 로 변환된다. 우리 나라 TV의 중간주파수는 38MHz이다.

각이한 주파수의 신호에 대한 선택과 필요한 국부발진주파수의 보장은 가변용량2극소자의 련동가변조절에 기초한 통로세밀조종으로 실현하고있다.

동조기의 수신통로대역은 초단파(VHF)대역의 1~12통로와 극초단파(UHF)대역의 넓은 범위에 달하며 통로대역절환기에 의해 임의의 통로를 선택, 탐색할수 있게 된다.

매 통로대역의 세밀조정은 0~33V까지 변하는 통로세밀전압(VT)에 의해 실현된다.

동조기에는 이외에도 수신신호의 세기가 변하는데 따라 고주파증폭회로의 증폭도를 자동적으로 조절하는 자동증폭조절(지증조라고도 한다. AGC)전압과 외적요인에 의해 변동하는 국부발진주파수를 안정시키는 자동주파수조절(자주조라고도 한다. AFT)신호전압이 걸린다.

2) 영상중간주파증폭회로

영상중간주파증폭회로에서는 동조기로부터 들어온 수mV의 중간주파신호를 필요한 대역너비(약 6MHz)를 보장하면서 검파에 필요한 크기인 수V정도까지 증폭하게 된다.

이를 위하여 영상중간주파증폭회로는 대역려파기(결면과려파소자)와 함께 3~4개의 증폭단으로 구성되어있으며 그 출구에 영상검파단파의 결합을 위한 출구동조회로가 포함되게 된다.(그림 5-18)

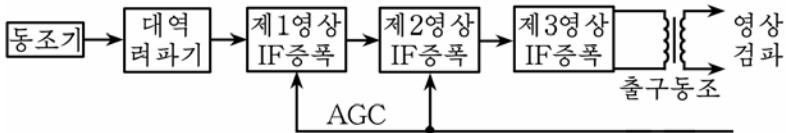


그림 5-18. 영상중간주파증폭회로의 구성도

천연색TV에서는 영상중간주파증폭단들을 모두 집적소자내부에서 구성하였으며 다만 입출구결합을 위한 단자와 요소를 외부에 배치하여 그 조종을 간단하게 하도록 설계하고있다.

영상중간주파증폭회로의 또 하나의 특징은 음성중간주파신호를 1/10~1/20 정도로 세계 잭아들게 하는것이다.

영상중간주파신호속에는 음성중간주파신호가 함께 포함되어있으며 음성신호가 영상신호속에 포함되게 되면 화면의 질에 나쁜 영향을 주게 된다. 음성중간주파신호세력을 약화시키자면 단사이의 결합에서 신호의 주파수통과대역을 제한시켜야 한다.

대역려파기는 바로 이러한 요구성도 만족시켜 설계된것이다.

영상중간주파증폭회로에는 또한 동조기에서와 같이 자동조(AGC) 전압을 주어 화면의 대조도가 외적요인에 의해 달라지는것을 자동적으로 막아준다.

3) 영상검파회로

영상검파회로는 진폭변조된 영상피변조파신호로부터 영상신호를 복조하기 위한 회로로서 그림 5-19에서와 같이 2극소자를 리용한 진폭검파회로로 되어있다.

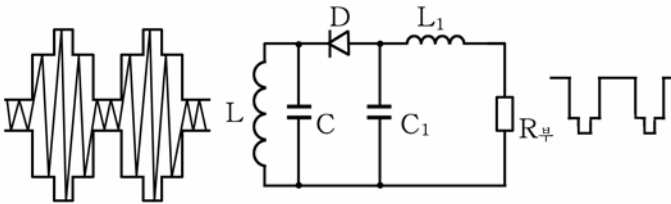


그림 5-19. 영상검파회로와 파형

영상중간주파증폭단과의 결합출토리인 L에 나타난 대칭상태의 영상중간주파신호는 2극소자 D를 거쳐 신호의 윗부분이 잘린 비대칭파형으로 된 다음 축전기 C₁를 통하여 고주파성분이 빠진 상태에서 순수한 영상신호성분만이 부하저항 R_부에 걸리게 된다.

검파된 영상신호는 영상중간주파증폭회로에서 넘어온 음성중간주파신호를 보충적으로 더 감쇠시키기 위한 흡수회로(압전형려파소자)를 통해 다음단인 영상증폭회로에 넘어가게 된다.

4) 영상증폭회로

영상증폭회로는 영상신호를 충분히 증폭하여 수상관을 려진하기 위한 회로로서 3~4개의 증폭단으로 구성되어있으며 합성영상신호의 E_Y 증폭흐름길에 해당되게 된다. (그림 5-20)

그림 5-20에서 제1영상증폭회로는 방사극반복기로 구성되어있어 검파된 신호를 다음단에 넘기는것과 함께 색신호재생회로, 동기회로 등에 분배하는 역할을 한다.

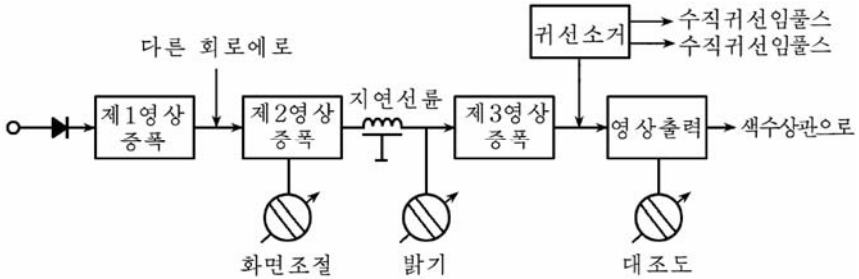


그림 5-20. 영상증폭회로의 구성도와 파형

제2영상증폭회로와 제3영상증폭회로는 영상증폭을 진행하는것과 함께 영상의 질을 높이기 위한 여러가지 보충적인 기능을 수행하며 특히 밝기와 대조도, 화면질 등의 조절을 수행할수 있는 보조회로들과 연결되게 된다.

한편 색신호재생회로로 들어가는 신호의 다른 부분은 색대역과파회로를 통과하면서 지연되므로 역행렬회로에 도착하는 이 색신호와 일치시키기 위하여 영상증폭회로의 일정한 부분에 0.6~0.8 μ s의 지연신분을 넣게 된다.

제3영상증폭회로의 출구에는 귀선소거회로를 넣어 영상신호의 귀선부분이 다음단으로 넘어가지 못하도록 한다.

만일 이 부분이 그대로 통과되면 수상관의 화면에 수평 및 수직귀선신호에 해당한 흰 줄들이 가로질러 무질서하게 나타나며 화면의 질을 떨어는 결과를 초래하게 된다. 이런 현상을 없애기 위하여 귀선소거회로에서는 영상신호의 귀선부분이 지나갈 때 반대방향의 수평 및 수직귀선입플스를 넣어주어 귀선준위를 수상관의 음극준위보다 더 높여주게 된다.

영상증폭회로에는 또한 동조기와 영상중간주파증폭회로에 보내는 자동조(AGC)전압을 만들기 위한 회로, 색신호의 장애를 없애기 위한 4.43MHz흡수회로, TV화면의 평균밝기를 일정하게 하기 위한 직류분재생회로가 들어가게 된다.

5) 색신호계통회로

색신호계통회로는 천연색TV에서 기본을 이룬다고 볼수 있다.(그림 5-21)

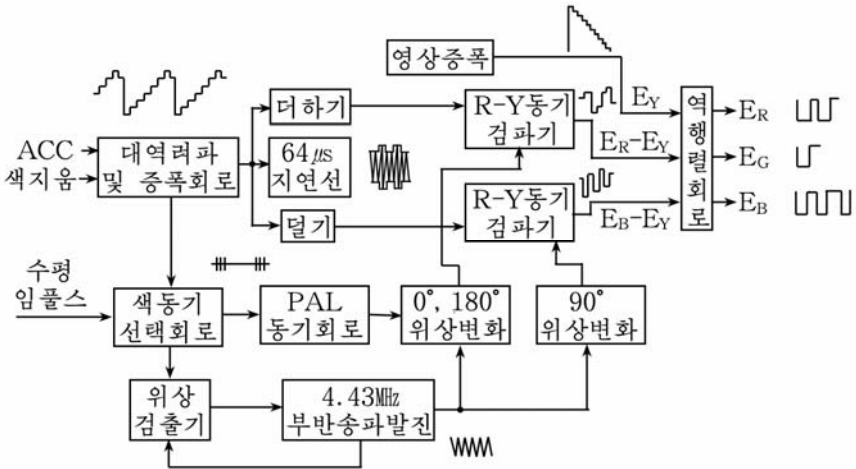


그림 5-21. 색신호계통도

색대역려과기를 통과한 색신호(이 신호는 방송국에서 만들어낸 방송색신호 $E_{\text{색}}$ 이다.)의 일부는 색동기선택회로로 넘어가며 나머지는 색복조회로로 들어간다.

색복조회로에서는 $64\mu\text{s}$ 지연선(1H 지연선 또는 한 주사선지연선이라고도 한다.)을 거쳐 이미 들어온 신호와 방금 들어온 신호들이 더하기와 덜기회로에서 혼합되어 방송색차신호 $\pm(E_R-E_Y)\cos\omega t$ 와 $(E_B-E_Y)\sin\omega t$ 로 되며 색복조를 위한 동기검파회로에 넘어간다.

이것은 전송통로에서의 색상의 이지러짐을 막기 위하여 방송국에서 E_R-E_Y 신호의 위상을 매 주사선마다 180° 절환시켜 보내는데 대한 대책으로서 PAL방식의 TV에서만 볼수 있는 현상이다.

한편 색동기회로에서는 수평동기신호에 포함되어있는 색동기임펄스를 뽑아내어 위상검출회로와 함께 4.43MHz의 국부반송파발전기를 조종함으로써 발전되는 부반송파의 주파수와 위상을 송신측과 일치시킨다.

발전기에서 나온 부반송파는 0° , 180° 위상변환기와 90° 위상변환기를 거쳐 각각 E_R-E_Y 동기검파회로와 E_B-E_Y 동기검파회로에 들어간다.

동기검파회로들에서는 더하기와 덜기회로를 거쳐 들어온 신호들이 위상변환된 4.43MHz의 부반송파에 의해 동기검파되며 그 출력에는 색차신호들인 E_R-E_Y , E_B-E_Y 신호가 나오게 된다.

이 신호들은 E_Y 신호와 함께 역행렬회로에 들어가 3원색신호 E_R , E_G , E_B 로 변환되어나와 출력증폭되어 수상관의 음극에 걸리게 된다.

6) 수평전개회로

수평편향회로는 수평동기신호에 동기된 15 625Hz의 톱날파전류를 수평편향신류에 흐르게 하여 색수상관의 전자속을 좌우로 전개하도록 하기 위한 회로이다.

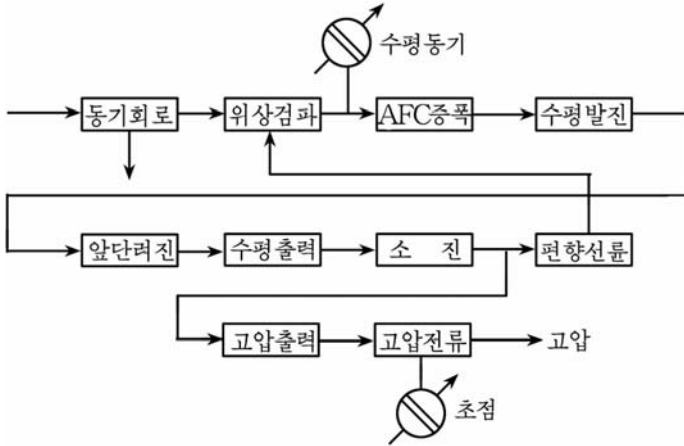


그림 5-22. 수평편향회로의 구성

수평편향회로의 구성도를 그림 5-22에 주었다.

동기분리회로- 합성영상신호로부터 복합동기신호를 증폭하여 거기서 수평동기신호를 갈라내어 위상검파회로에 준다. 그리고 수직동기신호를 갈라내어 수직발전회로에 보낸다.

위상검출회로- 동기분리회로에서 온 수평동기신호와 수평출력회로에서 온 수평임펄스의 위상차를 검출하고 그 위상차에 따라 조절전압을 발생한다.

자동주파수조정(AFC)회로- 위상검출회로에서 온 조절전압을 증폭하여 다음단의 수평발전회로에 주어 발전주파수를 조절한다.

수평발전회로- 수평동기신호에 동기된 15 625Hz의 수평임펄스를 발전한다.

수평러진회로- 수평발전에서 온 수평임펄스를 증폭하여 그것을 다음단의 수평출력과 고압출력에 준다.

수평출력회로- 수평러진에서 온 수평임펄스에 의하여 수평출력소자가

열렸다닫겼다하면서 병렬 축전기와 결합하여 수평편향선류에 톱날파전류를 흐르게 한다.

고압출력회로- 색수상관의 양극에 걸어주는 20~25kV의 높은 전압을 얻기 위하여 고압임펄스를 만든다.

고압정류회로- 고압출력에서 온 고압임펄스를 정류하여 색수상관에 주는 고압직류전압을 얻는다.

7) 수직전개회로

수직편향회로는 수직동기신호에 동기된 50Hz의 수직톱날파전류를 편향선류에 흐르게 하여 색수상관의 전자속을 위에서 아래로 전개하도록 하기 위한 회로이다.

수직편향회로의 구성도를 그림 5-23에 주었다.

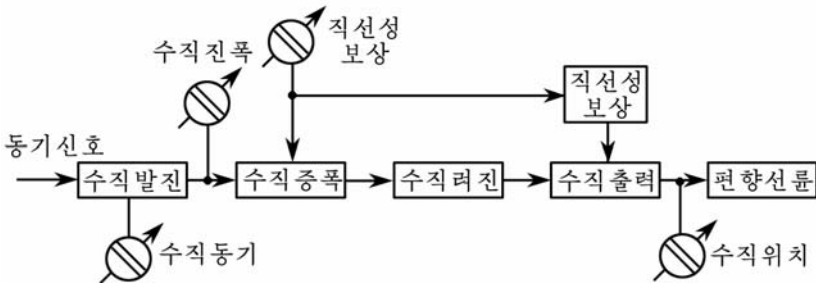


그림 5-23. 수직편향회로의 구성

이 회로는 수직톱날파를 발생하는 수직발전회로, 발전한 톱날파를 증폭하는 수직증폭회로, 수직려진, 수직출력회로로 구성되어있다.

8) 집중회로

천연색수상관의 R, G, B 전자총에서 나오는 전자속이 화면의 모든 곳에서 R, G, B의 한조의 형광체를 정확히 때리도록 하기 위한 회로이다.

9) 음성회로

음성회로는 영상중간주파(38MHz)와 음성중간주파(31.5MHz)의 차로 만들어진 제2음성중간주파수 6.5MHz에 포함되어있는 음성신호를 갈라내어 고성기를 올려주기 위한 전류를 얻어내는 회로이다.

음성회로의 구성도를 그림 5-24에 주었다.

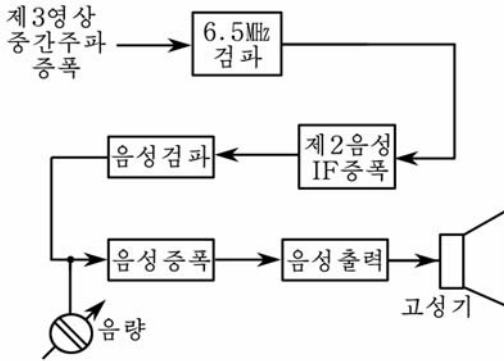


그림 5-24. 음성회로의 구성도

6.5MHz검파회로- 제3영상중간주파증폭회로에서 나오는 영상중간주파와 음성중간주파와의 차주파수인 제2음성중간주파수 6.5MHz를 갈라내는 회로이다.

음성중간주파증폭회로- 6.5MHz의 제2음성중간주파수를 진폭제한 및 증폭하는 회로이다.

음성검파회로- 6.5MHz의 제2음성중간주파수를 복조하여 음성신호를 재생하는 회로이다.

음성증폭회로- 음성신호를 증폭하는 회로이다.

음성출력회로- 음성신호를 증폭하여 고성기를 울릴수 있는 전력을 얻어내는 회로이다.

10) 전원회로

전원회로는 교류전압을 정류하여 천연색수상관의 매 회로에 필요한 여러가지 직류전압을 걸어주기 위한 회로이다.

11) 자동세밀(AFT)조절회로

자동세밀조절회로는 TV가 동작하고있을 때에 동조기의 국부발진 주파수의 변동을 자동적으로 보상하기 위한 회로이다.

12) 자동탈자회로

천연색수상관의 외부자기마당의 영향을 받거나 또는 수상관의 가림판, 초점격자식가림줄, 수상관둘레의 금속부분들이 어떤 원인에 의하여 자화되면 색순도가 나빠진다. 이것을 막기 위하여 천연색TV의 전원을 넣을 때마다 자동적으로 금속부분의 자성을 지우는 자동탈자회로가 쓰인다.

제3절. 《삼일포》 천연색TV

《삼일포》 천연색TV는 이미 보급된 TV과는 달리 중앙처리소자(CPU)와 종합집적회로조종이 내부집적회로(I²C)모션체계의 조종에 의해 진행되는 특징을 가지고있다.

I²C모션체계라는 의미는 집적소자들사이의 모션체계를 가리키는 말이다.

I²C모션체계는 효율이 대단히 높고 실용적이며 믿음성이 높은 직렬자료전송구조를 이루고있다.

I²C모션체계는 I²C전송선이 한쌍 또는 2~3쌍일수도 있다. 또한 매쌍의 전송선에 한개 또는 여러개의 회로들이 련결될수 있다. 그러므로 중앙처리소자가 조종대상(조종을 받는 회로)들에 조종정보를 전송할수 있을뿐아니라 이 조종대상들도 중앙처리소자와 기타 회로들로부터 동작상태에 대한 정보를 주고받을수 있다.

전송되는 시간이나 대상, 방향, 내용들모두가 중앙처리소자에 의해 조종되므로 중앙처리소자를 **주조종기**, 피조종회로를 **피조종기**라고 한다.

I²C모션체계에서 주조종기와 피조종기들은 다 자체의 유일한 주소코드를 가지고있다.

주조종기가 주소코드를 내보낼 때 모션에 련결된 피조종회로들은 자체의 주소코드와 비교하며 주소가 선택된 회로는 주조종기명령에 따라 자료접수와 발송을 한다.

피조종기회로들에는 기능의 차이에 따라 주소식별회로, D/A, A/D 변환회로, 각종 전압조종회로의 전자여단개들이 있으며 이것들이 종전 TV의 반가변조종부분품들과 스위치들을 대신하여 해당한 회로들에 대한 조종과 설정을 진행한다.

주조종기는 정보와 전송을 조종할뿐아니라 피조종회로의 응답정보를 통하여 회로들의 동작상태를 판단하게 된다.

만일 응답정보가 없거나 틀렸다면 조종기는 이 회로에 이상이 생겼다고 판정하고 화면현시, 지시등, 발광형식으로 자체검사정보를 제공하여준다.

큰 고장인 경우에는 체계의 동작을 정지시키고 보호상태로 넘어가는데 이러한 자체검사보호기능으로 하여 TV의 사소한 고장요소도 제때에 막을수 있게 되었다.

천연색 TV에 I²C 모션체계를 받아들인 결과 어떤 문제점들이 해결되었는가?

0 첫째로, 중앙처리소자와 피조종회로들사이의 조종자료통신과 관련한 연결회로가 두개의 선으로 줄어들어 회로가 간단해지고 집적소자들의 인출선다리들이 적어졌으며 요소들의 수가 줄어들어 믿음성이 더욱 높아졌다.

둘째로, 이전의 천연색TV에서 많이 사용되던 가변저항기와 절환기들을 쓰지 않음으로써 고장률이 훨씬 낮아졌다.

셋째로, 중앙처리소자의 조종기능이 증가되고 체계의 조종과 검사를 컴퓨터화할수 있게 되었다.

넷째로, I²C모션체계에 연결된 피조종회로들을 모션에 연결 또는 분리시킬수 있게 됨으로써 회로들의 갱신, 요소들의 보충 및 제거를 통해 제품의 질을 높이거나 교체를 쉽게 할수 있게 되었다.

《삼일포》천연색TV는 동조기회로, 색복조회로를 비롯하여 여러가지 기능을 수행하는 종합집적회로, 중앙처리장치를 리용한 조종집적회로, 기억기회로, 음성출력회로, 수상관회로, 수평 및 수직출력회로, 고전압 절환용전원회로로 구성되어있다. (그림 5-25)

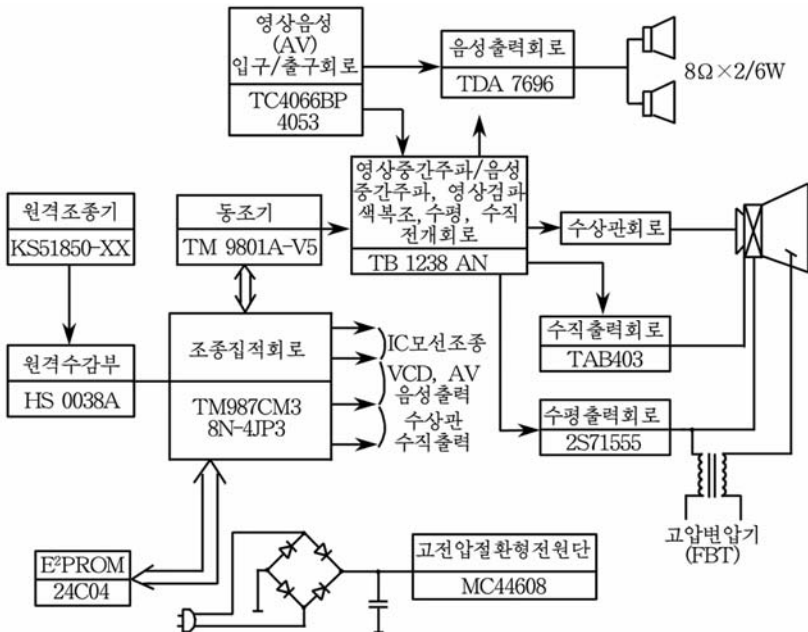


그림 5-25. 《삼일포》천연색TV의 구성도

1. 동조기

이 동조기는 5V의 직류전원에서 동작하며 동조기안에 대역절환해신기가 있다. 통로선택, 동조전압(VT)은 임펄스너비변조(PWM)방식에 의해 조정된다.

통로자동탐색기능이 설정되면 동조기에는 VHF-L, VHF-H, UHF대역이 설정되며 VHF-L대역에서부터 통로선택동조전압이 0~29V까지 증가하면서 자동탐색을 진행한다. VHF-L대역이 끝나면 VHF-H대역으로 자동적으로 넘어간다.

자동탐색에서 어떤 통로가 탐색되면 탐색된 통로자료는 기억기에 기억되며 계속하여 다른 통로를 탐색하게 된다. 이때 통로가 탐색되면 IC201의 31번(수평동기출구단자)에는 $5V_{P-P}$ 의 임펄스가 생기며 이 임펄스는 IC001의 36번(수평동기입구단자)에 가해져 탐색이 되었다는 것을 알려주게 된다. 만일 TV신호가 없을 때에는 IC201의 31번단자에 $5V_{P-P}$ 의 임펄스가 없게 된다. 이와 같이 모든 탐색은 IC001의 명령에 따라 진행된다.

동조기에서 B_1 , B_2 은 대역절환단자이다. 동조기의 대역절환은 IC001의 40, 41번(대역절환출구단자)에서 나오는 2진수신호에 의해 진행된다. 이 신호는 동조기안에서 해신된 후 <H> 준위일 때 UHF, VHF-H, VHF-L대역으로 절환된다.

또한 IC201의 안에서 조정되어나오는 고주파자동증폭조절(RF AGC)전압은 IC201의 8번(자동증출구단자)에서 나와 동조기의 AGC 단자에 가해진다.

동조기의 단자전압

표 5-1

단자 이름	표준전압 /V			정상동작전압 /V	최대전압 /V
	V_L	V_H	UHF		
BM	5	5	5	$5 \pm 5\%$	+5.5
AGC	4	4	4	4	+4.5
VT	0.5~29	0.5~29	0.5~29	0.5~29	+32
B_1	0	5	5	—	—
B_2	5	0	5	—	—

2. 영상중간주파증폭회로

영상중간주파증폭회로는 동조기와 마찬가지로 TV화면의 질을 결정하는 중요한 회로라고 볼수 있다.

. 아래에 영상중간증폭회로의 구성도를 주었다. (그림 5-26)

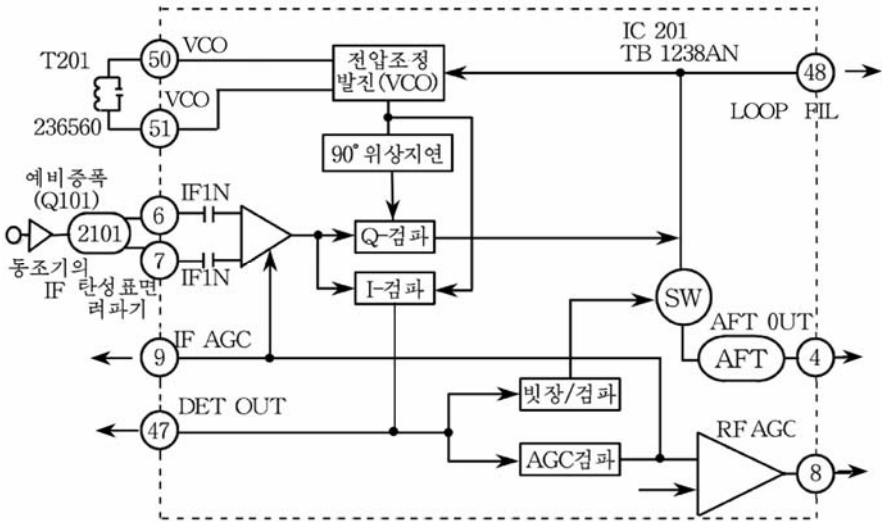


그림 5-26. 영상중간주파증폭회로 구성도

영상중간주파증폭회로는 동조기에서 나온 중간주파(IF)신호를 영상검파단에서 이지럼없이 검파할수 있는 크기까지 증폭하는 역할을 한다. 영상중간주파증폭단의 대역너비는 7MHz, 신호대 잡음비는 55dB, 증폭도는 70dB이상이다.

동조기, 중간주파 IF증폭단에서 증폭된 신호는 두개의 검파기(I, Q)에 갈라져 들어간다. 전압조정발전(VCO)회로는 I검파기와 Q검파기에 필요한 동기검파신호를 기준주파수(38MHz)로 발전하는 전압조정발전기이다. 기준주파수발전기는 PAL방식으로 집적회로안에서 처리하였다.

I검파기는 2중평면검파방식을 리용하였기때문에 검파된 신호는 완전히 선형이며 입구신호준위에 무관계하므로 낮은 준위에서도 검파할수 있다. 그리고 검파기증폭도가 높고 중간주파에 의한 간섭이 적다.

Q검파기에서는 전압조정발전 VCO에서 발전되어 나오는 38MHz의 신호를 90°위상 지연시켜 중간주파신호와 비교하며 오차전압을 발생시킨다.

이 오차전압은 고리형려파기에서 려파되어 다시 전압조정발전 VCO의 발전을 조정하는 한편 자동주파수동조 AFT회로를 조정한다. 자동증폭조절 AGC검파기는 TV의 입구신호준위변화에 따라 수상관의 음극에 걸리는 영상신호준위가 늘 일정하도록 자동적으로 증폭도를 조절해주는 역할을 한다.

3. 음성중간주파증폭회로

아래에 음성중간주파증폭회로의 구성도를 주었다. (그림 5-27)

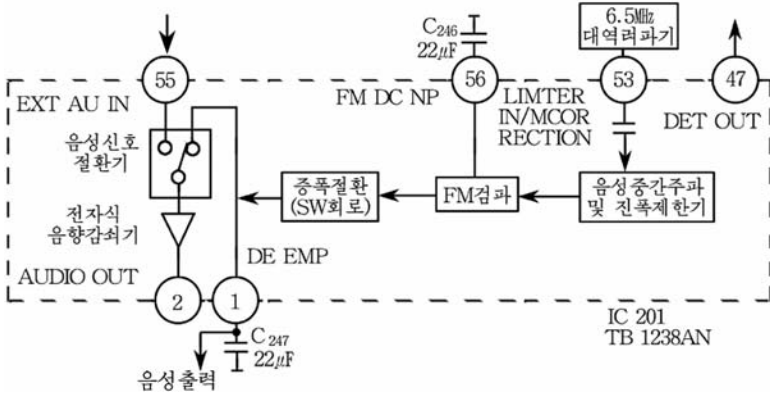


그림 5-27. 음성중간주파증폭회로 구성도

음성중간주파신호는 종합영상신호에서 갈라내어 증폭 및 진폭제한을 한 다음 다시 검파하여 저주파음성신호를 만든다.

음성중간주파증폭회로는 종합집적소자 IC201의 안에 있는데 여기에는 외부음성신호를 절환하기 위한 절환기와 음성중간주파신호증폭 및 제한기, 주파수변조(FM)검파기, 전자식음량감쇠기 등이 있다.

전자식음량감쇠기는 분류식조절방법으로 차동증폭회로의 동작전류를 변화시켜 그것의 증폭도를 변화시킨다.

음성중간주파 및 진폭제한회로에서는 진폭변조신호성분을 제거하고 주파수변조신호만 분리한다. 주파수변조(FM)검파기와 전자식음량감쇠기는 I²C모션체계에 의해 조정된다.

4. 밝기신호회로

아래에 밝기신호회로의 구성도를 주었다. (그림 5-28)

밝기신호회로는 IC202의 안에 내장되어 있다. 영상중간주파증폭단에서 검파되어 나오는 종합영상신호는 6.5MHz(제2영상중간주파수), 대역력파기여단이회로, 흑색준위고정회로, 흑색신호강조회로, Y신호지연 및 증폭회로, 자동밝기제한회로를 거쳐 행렬회로로 들어간다.

흑색준위고정회로는 영상의 질을 높이는데서 없어서는 안될 회로이다. 영상신호가 단극성신호이고 주파수대역이 0~6MHz로서 일정한 직류성분을 포함하고있는데 그 직류성분에 따라 영상의 밝기준위가 변하게 된다. 또

한 영상신호에는 밝기신호와 함께 두개의 색차신호가 포함되어있는데 이것들의 색도성분이 다르면 영상신호의 평균값도 달라진다. 그런데 영상신호의 직류성분은 송상측에서 수상측으로 전송되어오면서 영상통로들에 있는 축전기들에 의해 통과되지 못하고 교류성분만 통과되게 된다. 따라서 《삼일포》 천연색TV에서는 흑색준위고정법으로 직류성분을 재생한다.

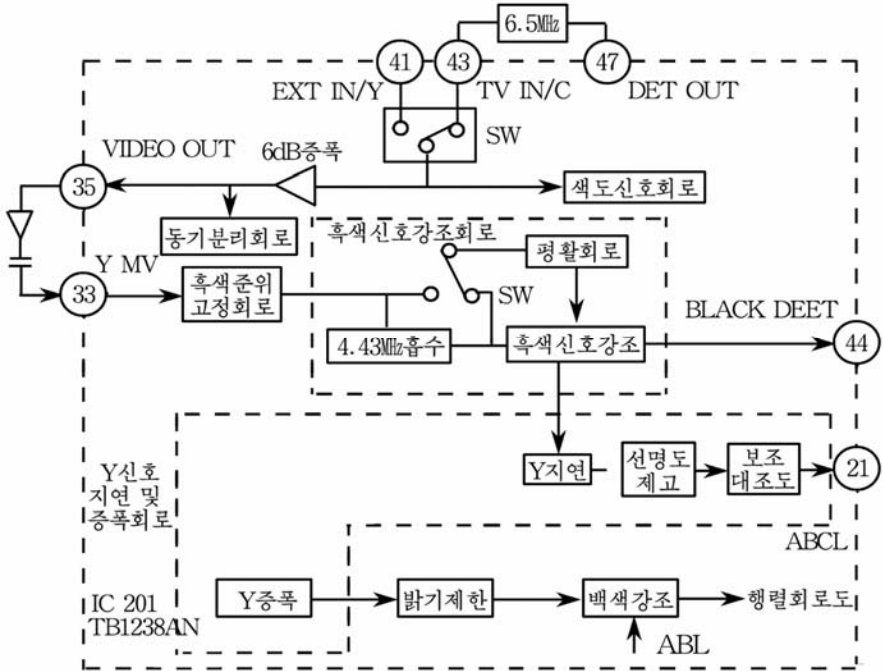


그림 5-28. 밝기신호회로의 구성

흑색준위고정회로는 차동증폭기로 되어있다. 흑색준위고정임펄스는 다른 TV와는 달리 집적회로안에서 분주된 수평발진임펄스를 리용하였다.

《삼일포》 천연색TV에서는 일반 TV와는 달리 대조도를 더욱 높이고 준위를 고정시킴써 흑색신호는 센 흑색신호가 되도록 강조하는 회로를 넣었다.

여단이회로(외부영상신호와 TV영상신호를 절환하는 회로)와 보조대조도회로, Y증폭회로, 밝기제한회로는 I²C모선체계에 의해 조정된다.

Y지연회로는 수상관음극에서 Y신호위상과 색도신호의 위상을 맞추기 위한 회로이다. Y지연시간은 0.6 μ s이다.

색도신호는 처리과정에 밝기신호에 비하여 자리각이 0.6 μ s정도 늦어진다. 따라서 0.6 μ s정도 늦어져 수상관에 가해지는 밝기신호와 색신호의 자리각이 일치하게 된다.

5. 색신호재생회로

아래에서 색신호재생회로를 주었다. (그림 5-29)

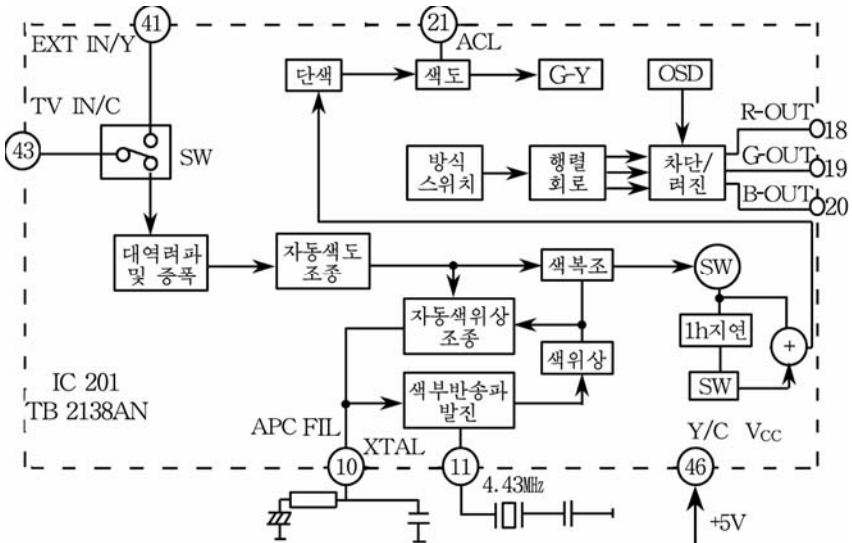


그림 5-29. 색러진방식의 구성도

외부영상신호와 내부영상신호의 절환, 대역증폭, 색부반송파주파수선택, RGB의 차단 및 러진준위조정, 색위상조정, 색체계절환, 문자표시기능(OSD)절환 등 여러가지 기능을 I²C모선체계로 조정한다.

대역려파 및 증폭회로에서는 종합영상신호에서 색도신호만을 분리하여 반송색신호의 량측대파의 대칭성을 보장하면서 색신호를 일정한 크기까지 증폭한다.

자동색조정(ACC)회로에서는 색동기임펄스를 수감하여 색신호준위를 자동적으로 일정하게 유지시켜준다. 또한 자동위상조정(APC)회로에서는 색부반송파전압련속발전기와 동기복조에 필요한 기준부반송파를 정확히 만들도록 전류위상을 자동적으로 조종한다. 위상은 자체의 색부반송파전압련속발전기의 신호와 색동기신호의 위상차에 의해 생기는 직류전압에 의해 조정된다.

색복조기에서 색차신호를 만들고 거기에 Y신호를 더하여 원색신호를 만드는 방식을 리용하였다. 수상관러진회로는 RGB의 전압, 전류를 증폭하기 위한 직렬계단식증폭회로를 리용하였다.

이 회로에 가해지는 RGB신호는 부극성이다.

표 5-2에 집적회로IC201(TB1238AN)의 단자기능을 주었다.

IC201(TB1238AN)

표 5-2

단자 번호	단자기능
1	음성신호고역강조단자
2	음성신호출구단자
3	영상중간주파(PIF)회로에 공급되는 직류전압단자(9V)
4	자동주파수동조(AFT)전압출구단자
5	영상중간주파회로 접지단자
6	영상중간주파회로 입구단자
7	영상중간주파회로 입구단자
8	동조기 자동증폭조절전압출구단자
9	영상중간주파회로 자동증폭조절려파단자
10	색복조일 때 자동위상조종회로의 려파단자
11	4.43MHz공진회로단자
12	밝기회로와 색회로접지단자
13	상사 R, G, B절환/선택신호입구단자
14	문자표시단자(붉은색)
15	문자표시단자(푸른색)
16	문자표시단자(흰색)
17	R, G, B회로의 직류전압공급단자
18	원색 붉은색 신호출구단자
19	원색 푸른색 신호출구단자
20	원색 흰색 신호출구단자
21	자동밝기제한(ABL)회로조절전압단자
22	수직톱날파신호려파단자
23	수직부귀환신호입구단자
24	수직려파신호출구단자
25	수직톱날파진폭자동조절단자
26	I ² C모선박자신호와 자료신호입구단자
27	I ² C모선박자신호와 자료신호입구단자
28	수평발전회로의 직류전압공급단자
29	SECAM체계에서 식별회로에 련결하기 위한 출구단자

단자 번호	단자기능
30	수평귀선입 풀스 입구단자
31	종합동기신호출구단자
32	수평려진신호출구단자
33	편향회로접지단자
34	SECAM체계출구단자
35	영상신호출구단자
36	수자회로전압공급단자
37	SECAM체계의 B-Y입구단자
38	SECAM체계의 R-Y입구단자
39	밝기신호 (Y) 입구단자
40	수평자동주파수검파회로 려파단자
41	외부종합영상신호/외부밝기신호입구단자
42	수자회로접지단자
43	종합영상신호입구단자
44	흑색신호강조회로려파단자
45	색도신호입구단자
46	Y/C회로 직류전압공급단자
47	영상검파출구단자
48	영상중간주파 고리형려파기단자
49	VCO회로접지단자
50	VCO선률결합단자
51	VCO선률결합단자
52	VCO 9V전압공급단자
53	음성중간주파회로 진폭제한입구 및 수평 교정입구단자
54	음성중간주파회로의 맥동려파단자
55	외부음성신호입구단자
56	주파수검파회로의 직류부귀환려파단자

6. 음성출력회로

음성출력소자 IC611(TDA7496)은 두 입구, 두 출구를 가진 립체음연산출력소자로서 안에 전자식음량조종회로, 연산증폭기, 음성정지 및 대기보호회로, 단락보호회로, 파부하보호회로를 가지고있다.

음량조종, 음성정지 및 대기보호는 I²C모선체계에 의해 조정된다.

아래에 음성출력집적소자 TDA7496의 단자배치와 내부구성도를 보여주었다. (그림 5-30)

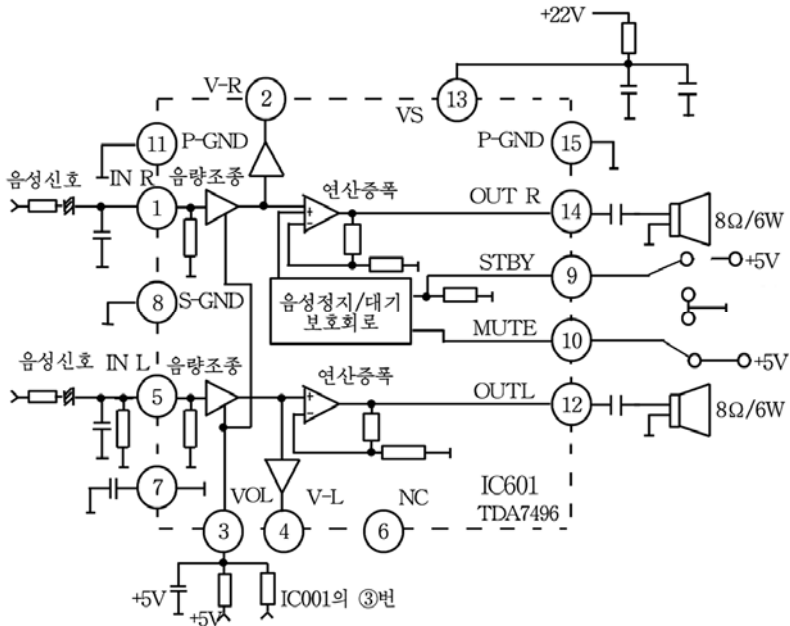


그림 5-30. 음성출력집적소자 TDA7496의 단자배치와 내부구성도

표 5-3에 IC601(TDA7496)의 단자기능을 주었다.

IC601(TDA7496)의 단자기능 표 5-3

단자번호	단자기능
1	R 통로입구단자
2	R 통로가변출구단자
3	음량단자
4	L 통로가변출구단자
5	L 통로입구단자
6	빈단자
7	보조전원려파단자
8	신호접지단자
9	대기단자
10	음성정지단자
11	증폭회로전원접지단자
12	L 통로신호출구단자
13	전원단자
14	R 통로신호출구단자
15	증폭회로전원접지단자

7. 전개회로

전개회로는 수평, 수직동기분리 및 발진회로와 수평, 수직출력회로로 구성되어있다.

중전의 천연색TV에서는 RC발진기를 리용하였다면 최근 천연색 TV에서는 거의나 분주식을 리용하고있다.

분주식이란 높은 주파수로 안정하게 발진된 신호를 수자식계수기를 리용하여 필요한 주파수로 분주하는 방식을 말한다.

높은 주파수를 발진하고 분주하는것은 회로구성상 복잡하지만 실지 집적회로안에서 처리되면 소자수와 요소수를 훨씬 줄이면서도 발진주파수의 안정성과 회로의 믿음성을 훨씬 높일수 있다.

수평, 수직동기분리 및 발진회로의 구성도는 그림 5-31과 같다.

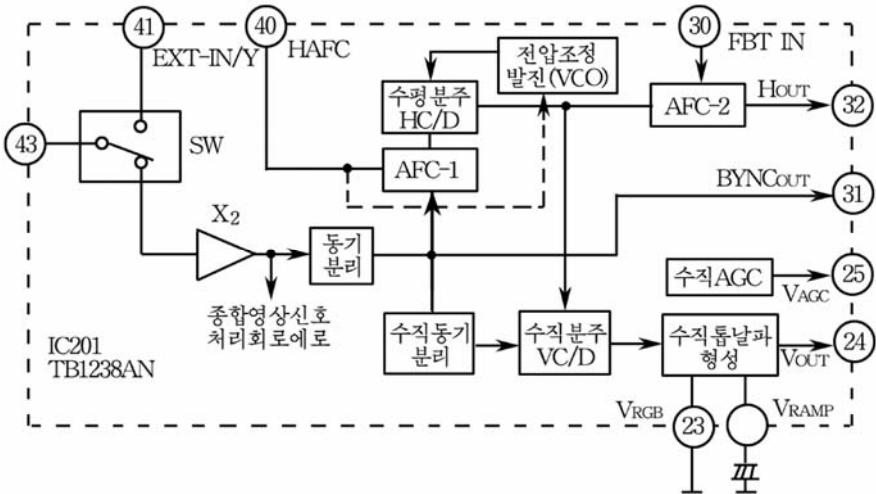


그림 5-31. 수평, 수직동기분리 및 발진회로 구성도

여닫이회로를 거쳐 들어온 종합영상신호는 종합영상신호처리회로와 동기분리회로로 갈라진다. 동기분리된 신호는 IC201의 제1자동주파수 조절 AFC-1회로에서 수평분주된 신호와 비교되어 그 위상차에 해당한 오차전압을 만들고 오차전압에 의해 조종되는 수평자동주파수조절력파 회로에 의해 려파되어 AFC-2단으로 나간다.

제2자동주파수조절 AFC-2회로는 고압변압기로부터 오는 수평귀선 임펄스와 수평분주된 신호위상이 일치되도록 조정한다.

수직발전신호 역시 분주식으로 해결하였다.

복합동기신호에서 수직동기신호를 분리해내고 수평분주된 신호를 또다시 분주하여 입력된 수직동기신호와 비교하여 수직동기의 정확한 위상을 보장하여준다.

아래에 수평출력회로와 수직출력회로를 주었다. (그림 5-32, 5-33)

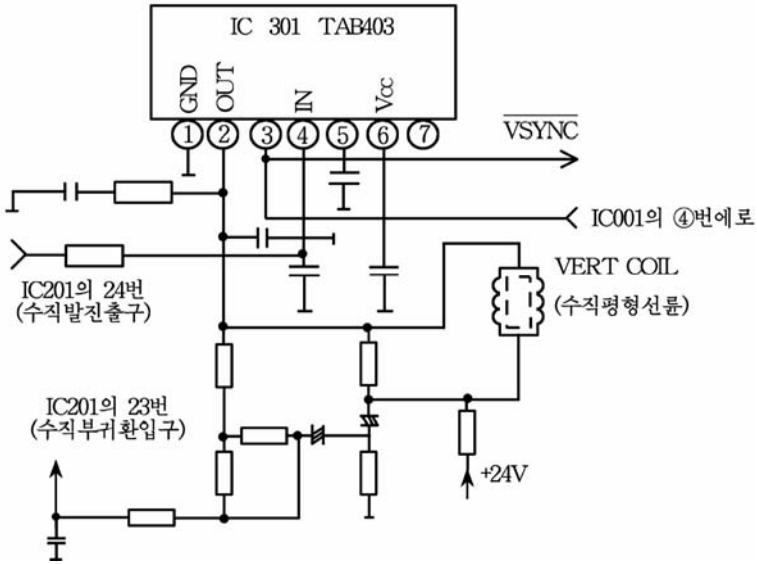


그림 5-32. 수직출력회로

일반TV와 마찬가지로 이 TV도 수평출력단과 수직출력단의 동작은 비교적 같다.

수평발전단에서 나온 수평발전주파수신호는 Q401에 의해 증폭된 다음 임펄스변성기(T401)에서 수평임펄스신호로 강화되어 수평출력소자의 기초극에 가해진다.

고압변압기의 2차권선에서의 수직출력전압(+24)은 주사기간의 임펄스를 정류하였고 영상출력전압(+190V)은 귀선기간의 침두임펄스를 정류하였다.

수상관가열선조의 전압은 실효값으로 6.3V이다.

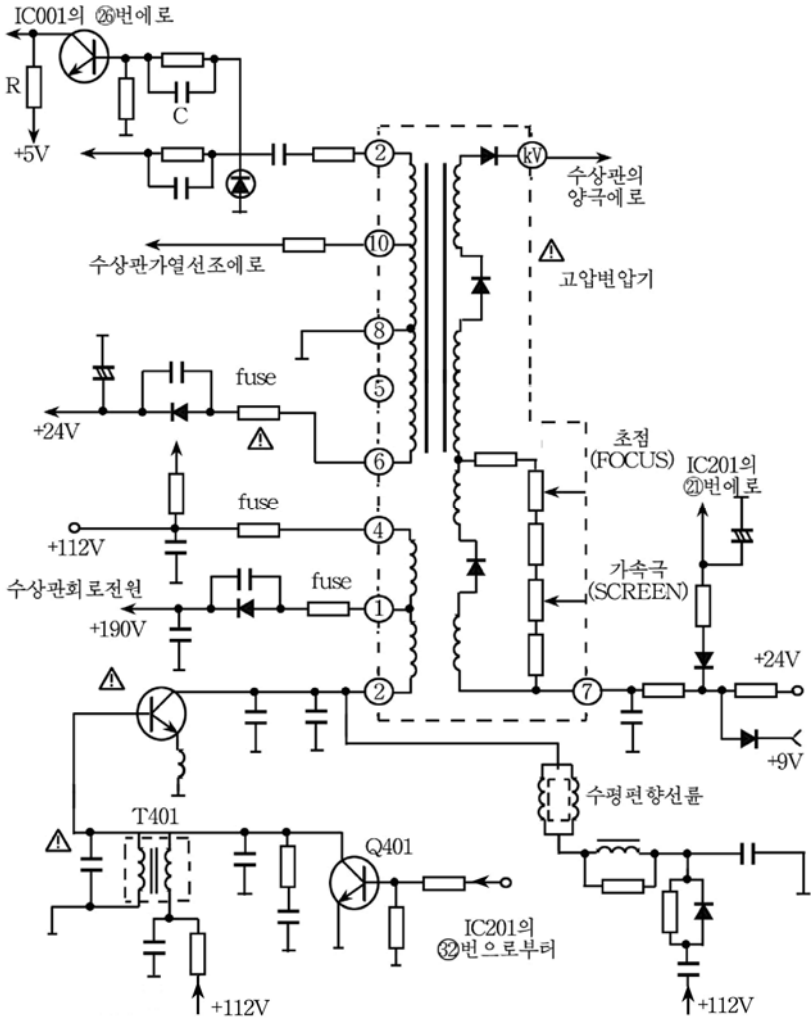


그림 5-33. 수평출력회로

8. 조종회로

조종회로는 한 소편 8bit 극소형처리소자(CPU)를 내장한 조종집적소자(IC001)와 자료기억집적소자(E²PROM) 그리고 주변요소로 이루어져있다. IC001(TMP87CM38N-4JP3)의 내부구성도를 그림 5-34에 주었다. IC001은 CPU와 기억기 ROM, RAM, 8MHz 주박자발진기, 문자

ROM, RAM, 문자표시기능(OSD), 시간계수기, I²C결합부, PWM변조기와 원격조종, A/D변환기, 각종 임펄스포구를 가진 다리수가 42개인 대규모집적소자와 IC001안에서 조종되는 조종체계 프로그램은 기억소자 ROM에 기억되어있다.

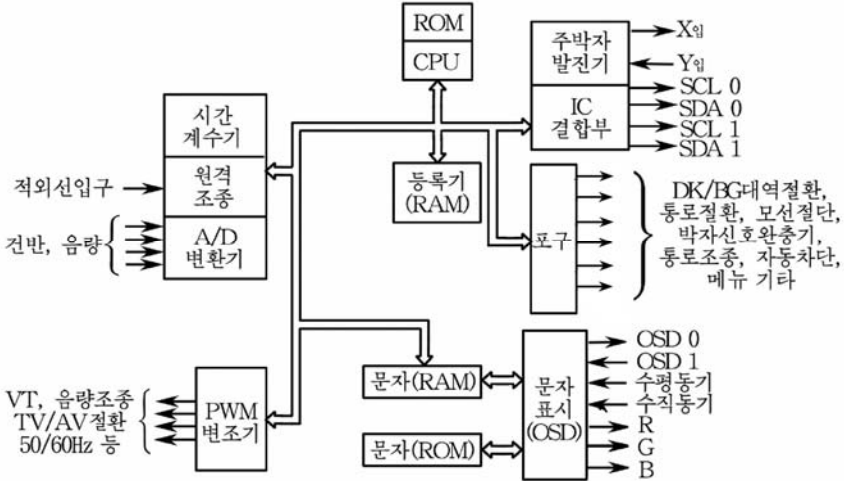


그림 5-34. IC001(TMP87CM38N-4JP3)의 내부구성

IC001은 자막표시, 밝기, 대조도, 명료도, 음량조종, 안내표시, 통로대역절환과 자동, 수동통로탐색, 100개의 통로기억, 통로세밀조종, TV/AV상태절환, 3개의 방식절환(표준, 동적, 부드러운 화면), 끄기 시간설정, 통로뛰어넘기, 끄기 전 상태기억, 색체계절환, 음성정지, 신호가 없을 때 푸른색 화면표시 등의 기능을 가지고있다.

또한 그 주변회로는 원격수감부(IR 001), 발광2극소자(D051), 자료기억집적소자 E²PROM(IC002), VT조종회로, 재설정회로, 수평, 수직귀선임펄스공급회로, 프로그램에 의한 전원일동회로, 직렬전반입구 회로 등으로 이루어져있다.

9. 상사여달이회로

상사여달이회로는 IC603(TC4066BP)과 IC901(4053) 그리고 그 주변요소들로 이루어져있다.

IC603(TC4066BP)의 단자배치도와 기능을 그림 5-35와 표 5-4에, IC901(4053)의 단자배치도와 기능을 그림 5-36과 표 5-5에 주었다.

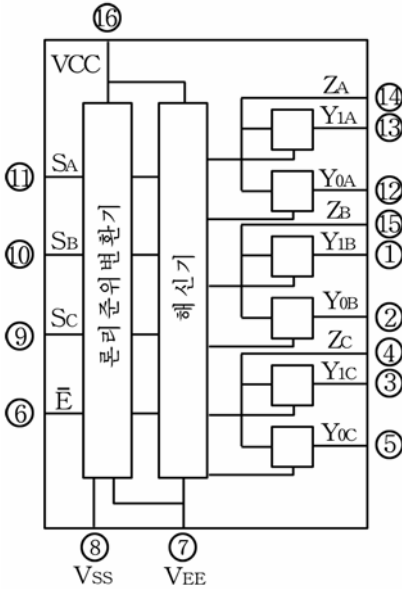


그림 5-35. IC603(TC4066BP)의 단자배치도

IC603(TC4066BP)의 단자기능 표 5-4

No	단자기능
1	A ₁ 입구(L)
2	A ₂ 입구(L)
3	A ₁ 입구(R)
4	공동입출구
5	A ₂ 입구(R)
6	공동입구
7	수자회로전원전압
8	수자회로전원전압
9	수자조종입구
10	수자조종입구
11	수자조종입구
12	입구
13	입구
14	공동입출구
15	공동입출구
16	수자회로직류전압

IC901(4053)의 단자기능 표 5-5

No	단자기능
1	SW ₁ 입/출구
2	SW ₁ 출/입구
3	SW ₂ 출/입구
4	SW ₂ 입/출구
5	SW ₂ 조종 H준위일 때 스위치투입
6	SW ₃ 조종 H준위일 때 스위치투입
7	접지
8	SW ₃ 입/출구
9	SW ₃ 출/입구
10	SW ₄ 출/입구
11	SW ₄ 입/출구
12	SW ₄ 조종 H준위일 때 스위치투입
13	SW ₁ 조종 H준위일 때 스위치투입
14	V _{CC} 전원

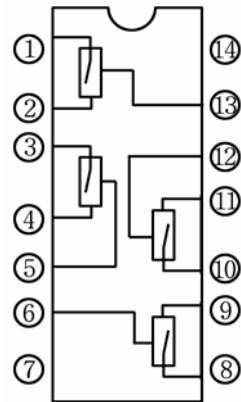


그림 5-36. IC901(4053)의 단자배치도

IC603은 음성출력회로의 입구절환여단으로서 TV음성신호 혹은 외부음성신호(R, L)를 절환하여 넣어주는 역할을 수행한다.

IC701은 3중2중상통로상사식다중화 및 신호분리장치로서 외부에서 입력되는 V_1 혹은 V_2 , A_1L , A_1R 혹은 A_2L , A_2R 상태를 AV_1 혹은 AV_2 상태로 절환하기 위한 상사여단이회로이다.

10. 원격조종회로

원격조종회로는 원격조종기(적외선발사기)와 TV의 본체에 있는 적외선수감부 IR001로 이루어져있다.

조종기호행렬건반을 누를 때마다 명령은 집적소자 KSS1850—XX에서 기능부호로 변환된 다음 변조되며 적외선발광2극소자(LED)에 의해 발사되는 적외선의 파장은 940nm정도이며 기능부호의 반송주파수는 37.9kHz이다.

적외선수감부는 원격조종기로부터 발사된 적외선을 수감한 다음 복조하여 원격조종명령을 CPU에 보내주는 역할을 한다.

11. 전원회로

절환형전압안정단인 이 전원회로는 고전압임펄스너비변조 조종 집적소자 IC801(MC44608), 마당효과3극소자 Q801, 빛결합집적소자 IC802(PC123), 임펄스변성기 T803 기타 주변회로들로 이루어져있다.

이 전원회로의 특징은 회로를 수자식으로 조종하기때문에 전원잡음이 적고 파전압, 파전류, 파열보호가 잘되어있으며 시동이 빠른것이다.

MC44608은 비직결변환기용 고성능전압방식소자로서 이 소자안에는 고전압회로가 있다.(그림 5-37)

이 회로는 시동전류원과 발전기, 축전기를 집적화한 고전압회로로서 효율이 매우 높고 외부에 연결되는 요소가 적으며 대기상태에서는 대기전력손실을 약 1W까지 낮출수 있다.

전원회로는 100~250V까지의 범위에서 안전하게 동작한다.

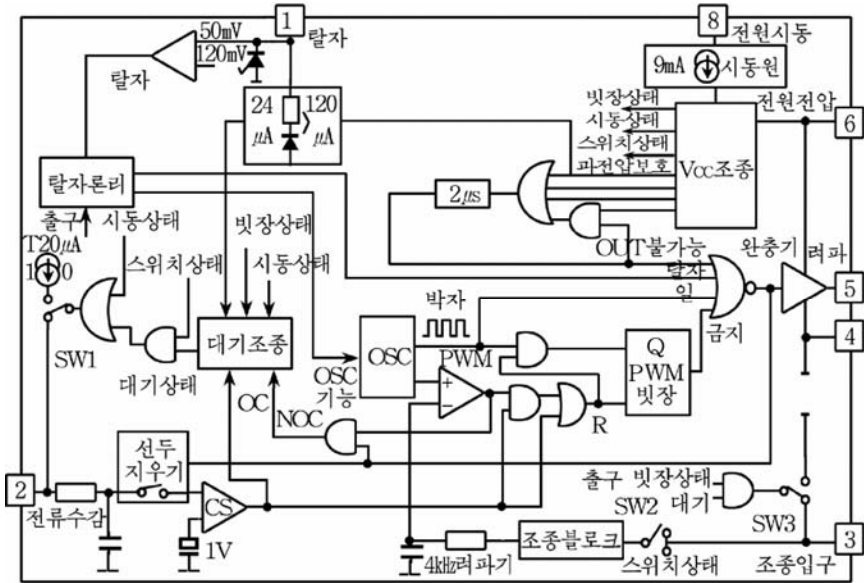


그림 5-37. MC44608내부구성도

제4절. CD녹화기

일반적으로 녹화기는 영상과 음성신호를 기록, 보관 및 재생하는 일종의 시청설비로서 TV녹화체계에서 중요한 설비로 되고있다.

녹화기는 영상과 음성신호를 자기테이프에 기록하는 기술과 TV기술을 결합하는 방식으로 발전하여왔으며 지금은 독자적인 체계를 이루고 발전하고있다.

녹화기는 간단히 VTR라고 부른다.

테이프식녹화기는 20세기 50년대에 출현한 후 끊임없이 갱신되어 충분한 성능을 발휘하여왔다.

CD녹화기는 1970년대이후부터 리용된 제품이다.

현재 CD녹화기는 디스크에 이미 기록되어있는 영상과 음성신호를 재생하는 사명을 수행하는 장치로서 테이프식녹화기를 대신하여 광범히 리용되고있다.

CD녹화기는 영상과 음성신호가 기록되어있는 디스크에 레이자빔

을 보낸 다음 반사되어오는 신호를 읽어내는 방식으로 동작한다. 즉 디스크에는 영상 및 음성신호가 오목하거나 볼록한 모양으로 기록되어 있는데 이것은 반사되어나오는 빛의 세기변화를 일으키며 록화기의 빛수감부에서는 이러한 빛세기변화를 해당한 전기신호로 변환시킨다.

디스크우의 결면에는 투명한 보호막층이 덧씌워져있다. 디스크에 기록된 신호를 읽어내는 과정이 레이자빛에 의하여 비접촉식으로 진행되므로 기계적쓸림에 의한 파괴가 없다.

바로 이러한 비접촉동작방식은 종전의 테프식록화기의 동작방식과 크게 차이나는 특징으로서 CD록화기의 가장 좋은 우점이다.

1. CD록화기의 구조

CD록화기는 크게 두개의 부분 즉 기구부분과 전자회로부분으로 되어있다.

기구부분으로는 CD의 입출구기구, 레이자식신호수감부의 사보기구, CD를 회전시키는 주축구동기구로 되어있고 전자회로부분은 레이자식신호수감부, 신호처리계통, 사보계통, MPEG-1음성/영상주파수해신기, RGB색3통로회로, 조종 및 표시계통, 전원회로 등으로 되어있다.

CD록화기의 구성도를 그림 5-38에 주었다.

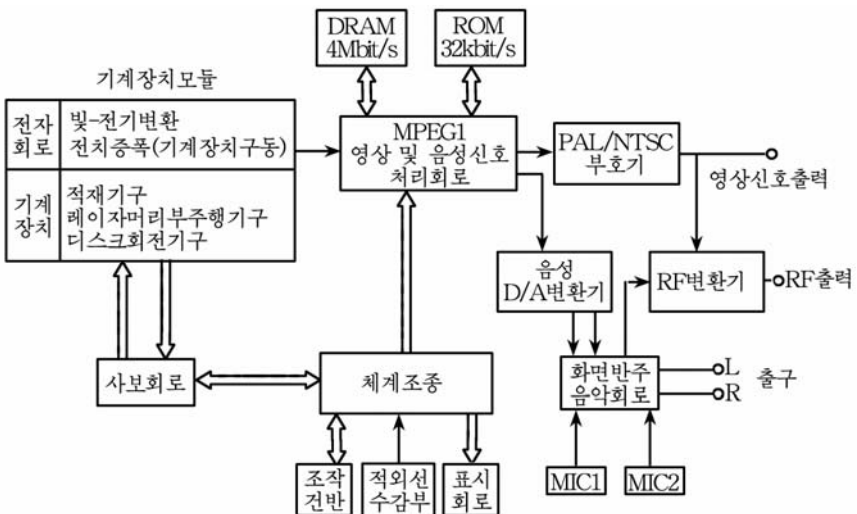


그림 5-38. CD록화기의 기본구성도

(1) 레이저식신호수감부

일정한 레이저빔을 CD에 보낼 때 반사되는 레이저신호를 전기적신호로 변환한다. 이때 자리길을 정확히 추적하여야 정확한 재생신호가 얻어지는데 이를 위한 수감부의 조종신호로는 자리길오차신호(TE)와 초점오차신호(FE)가 있으며 이 두개의 신호로 사보계통에서 수감부 위치를 조종하게 되어있다.

(2) 사보계통

수감부가 신호를 정확히 읽도록 한다.

초점사보- 수감부렌즈의 우아레이동을 조종하여 정확한 초점을 보장하게 한다.

자리길사보- 렌즈의 앞방향이동을 위한 사보로서 레이저가 CD의 신호자리길을 정확히 추적하도록 한다.

공급사보- 자리길사보로는 렌즈의 이동범위가 좁기때문에 공급사보로 렌즈의 넓은 범위의 이동을 실현한다. 이 사보는 레이저의 신호추적을 위한 수평방향라선주사를 자리길사보와 함께 진행하는데 리용된다.

주동축사보- 수감부로 일정한 속도를 유지하면서 CD의 정보를 읽기 위한 사보이다.

CD의 수자화된 속도신호와 기구안의 기준속도신호를 비교하여 동작하며 CD의 회전속도와 선속도를 정확히 보장한다.

(3) 신호처리계통

고주파증폭기- 수감부의 출구고주파신호를 증폭하여 내보낸다. 이때 출구신호는 EFM신호이다.

수자신호처리부- PLL회로, EFM신호의 복조에 리용되는 기준시간재생회로 등이 속한다. EFM신호를 복조하고 수자화된 영상 및 음성신호를 얻는다.

(4) D/A변환기와 수자식려파기

수자신호를 상사신호로 변환하며 수자식려파기는 잡음을 낮추고 변환효과를 개선시킨다.

(5) MPEG-1음성/영상주파수해신기

MPEG-1방식으로 압축된 신호를 압축전의 신호로 해신한다.

(6) R, G, B 3통로 D/A변환기

수자신호를 3개의 상사색신호인 붉은색, 푸른색, 풀색으로 전환하며 색체계인 PAL, NTSC로 전환하고 복합영상신호를 출구에 내보낸다.

(7) 체계조종계통

장치의 앞면에 있는 건반신호 및 원격신호를 받아 회로의 조종을 실현하고 앞면에 표시한다.

(8) 전원회로

전자회로부분에 +5V, +8V, +12V의 안정된 전원을 보장한다.

이외에도 화면반주음악회로, 음성증폭회로와 고주파변환회로, 전자오락회로 등이 있다.

2. 동작원리

1) 레이저식신호수감부

레이저를 포함한 광학계수행전동기와 수행기구로 이루어져있다.

현재 보급되어있는 CD복화기에는 3묶음 레이저가 쓰이는데 이것은 3개의 레이저를 쓰는것이 아니라 하나의 레이저묶음을 3개의 레이저묶음으로 분광하여 리용하는 방식이다.

(1) 레이저원

반도체레이자2극소자의 두끝에 일정한 전압을 걸어주면 레이저가 발광된다.

이 레이저는 하나의 순수한 단색광으로 초점처리를 하면 그 직경이 매우 작은 묶음으로 된다.

적외선레이저는 일정한 출력을 보장할수 있으며 그 출력은 2극소자의 조종전압으로 변화시킬수 있다.

가정에서 쓰이는 CD의 레이저출력은 보통 1.2mW이며 수광2극소자는 결면에 비치는 레이저의 세기에 따르는 전기적신호를 만듦으로써 신호진폭이 지나치게 커지거나 작아졌을 때 레이저출력회로를 조종하여 레이저출력이 일정해지도록 자동조종한다.

(2) 광학계

광학계에는 분광격판, 반점, 편파분리기, 직진렌즈, $1/4\lambda$ 판, 대물렌즈, 원주렌즈 등이 속한다.

분광격판은 세개의 레이자뭉음으로 나누며 가운데뭉음으로 CD판의 정보신호를 읽도록 그 초점을 유지하고 양옆의 두개의 보조뭉음으로 조종계통에 쓰이는 추적정보를 읽도록 한다.

편파분리기는 수직편파의 입사빛은 그대로 통과시키고 CD에서 반사되어나오는 수평편파의 빛을 반사시킨다.

빛은 편파려과기인 $1/4\lambda$ 판과 이 분리기에서 90° 회전하여 수평편파로 되며 반사된 레이자뭉음은 수광2극소자에 들어간다.

직진렌즈는 대물렌즈와 함께 레이자의 정확한 초점을 보장한다.

$1/4\lambda$ 판은 레이자의 극성을 변화시킨다. CD에서 반사되는 레이자의 편파를 90° 회전시키며 반사뭉음이 편파거울을 통과할 때 레이자뭉음이 레이자원에 가지 않고 수광2극소자에 가게 한다.

대물렌즈는 CD에 가장 가까이 위치하고있으며 수감부의 제일 위에 설치되어있다. 여기에 초점선륜과 추적선륜이 있다.

초점선륜은 대물렌즈의 수직방향이동을 조정하여 레이자뭉음이 정확히 CD의 정보구멍에 닿게 한다.

추적선륜은 대물렌즈의 앞방향이동을 조정하여 레이자뭉음의 정확한 추적을 보장하는데 두개의 선륜은 사보계통의 조종을 받는다.

원주렌즈는 반사되어나오는 기본레이자뭉음을 A, B, C, D의 4개의 수광2극소자로 된 수광면의 가운데에 놓이게 하여 원형점으로 되게 한다.

CD와의 초점이 정확하면 A, B, C, D의 수광소자에서 정확한 원형점이 생기게 되며 초점이 맞지 않으면 원형점이 한 방향으로 치우치게 된다.

(3) 수광2극소자식수광면

4개 또는 6개의 수광2극소자로 되어있다. 반사레이자뭉음이 6개의 수광소자에 도달하는 상태가 다르므로(매 수광2극소자의 빛받는 면적이 다르므로) 그에 따라 사보회로가 동작하여 대물렌즈를 조종함으로써

초점 및 추적조종을 한다.

현재 많이 리용되고있는 레이자식신호수감부는 KSS-213C형이며 이 수감부에는 레이자의 발광세기를 조절할수 있는 가변저항이 붙어있다.

2) 사보회로

CD는 고속회전하기때문에 아주 약한 수직 및 수평방향의 진동이 생기며 따라서 빛뭉음의 초점이 변하게 된다.

그러므로 빛뭉음의 초점을 정확히 조종하여야 처음부터 마지막까지 초점이 정확히 맞게 된다. 동시에 기록신호의 자리길에 따라 정보신호를 읽기 위해서는 정확한 속도로 바깥쪽으로 이동하는 자리길추적을 보장해야 한다.

주동축전동기는 CD를 고속회전시키며 수감부는 고속회전하는 CD에서 신호를 읽는다.

수감부가 단위시간에 읽는 정보량은 일정한 규칙을 띠며 회전속도는 그 어떤 시간과 정확히 동기되어야 한다.

이러한 내용을 사보회로가 수행하게 된다. 즉 사보회로의 작용으로 수감부가 규정된 속도로 신호를 읽으며 동시에 수감부에서 발생하는 레이자뭉음이 처음부터 마지막까지 CD정보자료구멍에 초점이 맞게 되며 수광면에 정확한 신호상이 얻어지게 된다.

(1) 초점사보

대물렌즈를 아래우로 이동시켜 CD우에 초점이 정확한 빛뭉음이 맺히도록 한다.

수감부에서 수감된 초점오차신호(EF)가 사보계통에서 증폭되어 초점선류의 구동회로에 가해지며 따라서 아래우로 이동한다.

이것을 CPU가 조종한다.

레이자에 전원이 투입된 다음 대물렌즈를 아래우로 이동시켜 정확한 초점을 맞춘다.

아래우로 이동된 후 가장 좋은 초점상태에서 이동이 정지되며 유지된다.

초점이 맞으면 빛뭉침은 수광면의 4개 수광2극소자의 중심에 원형으로 맺힌다.

그러므로 매 2극소자에 들어오는 빛량이 서로 같으므로 초점오차 전압은 령 즉 $(A+C)-(B+D)=0$ 이며 초점이 맞지 않으면 4개의 2극소자에 들어오는 빛량이 다르므로 오차신호전압은 령이 아니다. 즉 $(A+C)-(B+D) \neq 0$ 이다.

이 정보량을 CPU가 검출하여 령이 되도록 초점사보를 진행한다.

(2) 추적사보

레이자뭉침을 수평방향으로 정확히 자리길추적하도록 하는 사보이다.

반사빛의 부분복사빛이 수광2극소자의 E, F부분에 비쳐져 자리길리탈정도에 비례하는 전기적신호가 발생한다.

오차신호는 추적사보에서 증폭되고 추적구동회로에 들어가 추적선류의 전압을 변화시키며 대물렌즈를 아주 좁은 범위의 수평방향(직경방향)으로 이동시키면서 자리길추적을 정확히 보장한다.

만일 직경방향이동이 일정한 제한량이상으로 커지면 주행사보계통이 동작한다.

주행사보의 동작은 넓은 범위의 이동을 실현하므로 결국 추적사보와 주행사보가 동시에 동작하여 정확한 자리길추적을 진행한다.

(3) 주행사보

이 사보는 세 가지 사명을 수행한다.

첫째로, 정상적인 재생때 주행전동기로 레이자의 직경방향으로의 이동을 보장한다.

둘째로, CD자료의 읽기가 끝났을 때 또는 재생, 정지하였을 때 수감부를 CD의 인입구역을 이동시킨다.

셋째로, CD의 노래 또는 화면선택에서 수감부를 지정한 위치까지 재빨리 이동시킨다.

(4) 주동축사보

CD를 1.2~1.4m/s의 선속도로 회전시키는 사보이다.

CD의 안쪽에서 자료를 읽을 때는 회전속도가 빠르게 하고 바깥쪽에서는 회전속도를 느리게 변화시키는데 500~200r/min 범위에서 변화시킨다.

이 사보는 레이자에 대한 신호자리길의 상대속도를 일정하게 함으로써 시간당 자료읽기량을 같게 한다.

원리는 수감부에서 얻은 정보속도와 수정발전에서 발생하는 주파수와 위상을 서로 비교하여 주동축의 회전속도를 조종한다.

3) 수자신호처리기관 및 체계조종회로

(1) 수자신호처리기관

여기서는 네 가지 기능을 수행하게 된다.

첫째로, EFM신호에서 박자신호를 재생하여 신호처리의 기준신호로 이용한다.

둘째로, 14/8bit변환

EFM변조신호의 역변환인데 14bit의 EFM신호를 변조전의 8bit신호로 변환한다.

셋째로, 동기신호를 분리하고 여러가지 박자신호를 얻는다. 즉 좌우음성통로의 박자신호(LR CLOCK신호), 영상 및 음성의 자료수자신호(DATA) 등이다.

넷째로, 주동축의 사보처리를 한다.

(2) 수자식려파기및D/A변환기

수자신호로 복조된 임펄스신호를 상사신호로 변환하여 기본영상신호와 음성신호를 재생한다.

(3) 체계조종회로

체계조종회로는 재생기의 매 회로와 결합되었으며 사보, 음성 및 영상주파수와 기본부분의 수감 및 상태정보신호와도 결합되어있다.

체계조종은 보통 2개의 CPU로 실현한다. 즉 기본CPU와 보조CPU가 있다.

기본CPU는 앞면판 건 및 원격지령신호의 인입과 식별을 진행하며 표시회로를 조종한다. 또한 시동, 재생과 정지, 프로그램의 선택과 상

태절환, 사보계통의 시동과 동작방식의 선택 또는 음성 및 영상주파수 회로의 절환과 화면반주음악회로의 동작을 보장한다.

보조CPU는 CD의 복조조종 및 기구조종에 쓰인다.

CPU에는 RAM, ROM이 들어있다. CPU가 정상동작을 하기 위해서는 세가지 필요조건 즉 안정된 전원, 정상적인 설정, 박자신호가 보장되어야 한다.

(4) 전원회로

CD록화기에서는 보통 세가지 전원이 쓰인다.

+5V의 안정전원- CPU와 신호처리용전원이다.

+8V의 전원- 전동기와 음성증폭용전원이다.

표시판용전원- 표시판의 교류 1.5V인 섬조전압과 표시판의 양극-격자사이 20~30V정도의 직류전압이다.

